



وزارة التربية

الإدارة العامة لمنطقة الفروانية التعليمية

التوجيه الفني للاجتماعيات

امتحان نهاية الفترة الدراسية الثانية

للسف السادس

للعام الدراسي ٢٠١٧ / ٢٠١٨

المقرر : الكويت ودول الخليج
العربية
الزمن : ساعة ونصف
عدد الأوراق : (٥)

تم تجميع
الامتحانات ونماذج الإجابة
وأرشفتها إلكترونياً
من قبل الموجه الفني
أ. حمد إبراهيم البحوه

أجب عن جميع الأسئلة التالية :

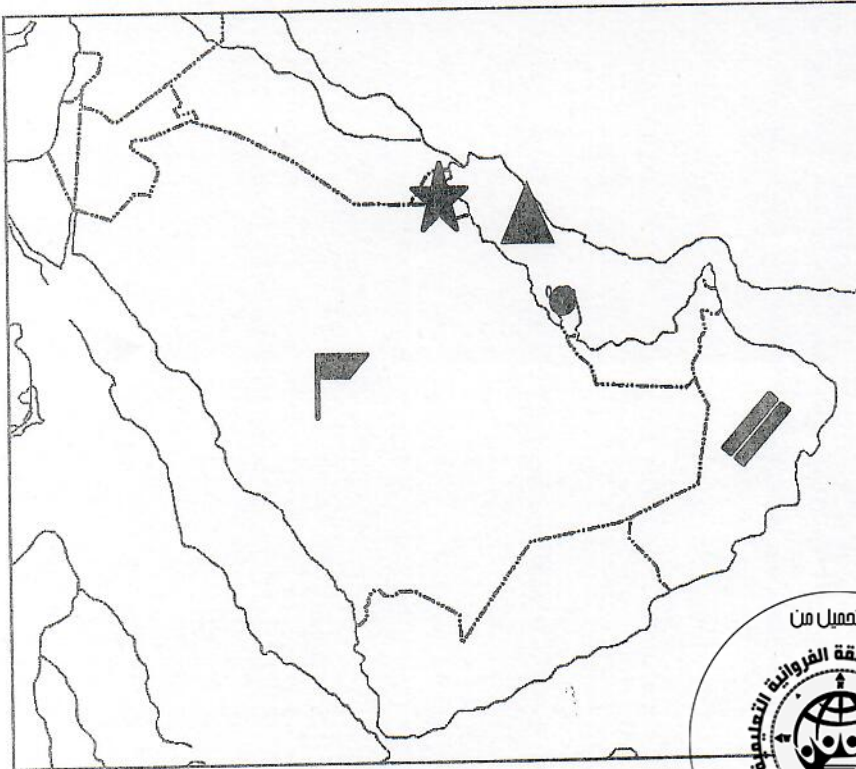
السؤال الأول: (يتكون من أ / ب / ج / د / هـ / و)


أ) صنف الهجرات التالية ومناطق استقرارها في الجدول التالي :


آل صباح - آل خليفة - القواسم - المعاضيد - آل بوسعيد واليعاربة - بني ياس


مناطق الاستقرار	سلطنة عمان	قطر	الكويت	البحرين	رأس الخيمة	أبوظبي
الهجرات						


ب) لاحظ خريطة شبه الجزيرة العربية ثم أجب عن الأسئلة التي تليها :




١- الرمز  يمثل مسطح مائي يسمى

٢- الرمز  يمثل سهل في سلطنة عمان يسمى

٣- الرمز  يمثل أعلى دولة عربية خليجية في نسبة المواطنين تسمى

٤- الرمز  يمثل مدينة عربية خليجية صدر فيها اعلان قيام السوق الخليجية المشترك تسمى

٥- الرمز  تمثل دولة عربية خليجية توجد بها منطقة الوفرة الزراعية أسمها



تابع امتحان مادة الاجتماعيات الصف السادس نهاية الفترة الدراسية الثانية العام الدراسي ٢٠١٧/٢٠١٨

(ج) استخرج المفهوم التي تشير إليه المعادلات التالية :

<input type="text"/>	=	الإحباط	+	تربية الطفل الخاطئة		
<input type="text"/>	=	عدد الوفيات	-	عدد المواليد		
<input type="text"/>	=	مساحة الدولة	÷	عدد السكان		
<input type="text"/>	=	يوم الخميس	+	٢ أغسطس ١٩٩٠		
<input type="text"/>	=	مربية خدم	+	طباخ سائق		
<input type="text"/>	=	النفط ومشتقاته	+	مخلفات المصانع	+	نفايات خطرة

(د) ظل الحرف (أ) إذا كانت العبارة صحيحة وظلل الحرف (ب) إذا كانت الإجابة خاطئة :

م	العبارة	(أ)	(ب)
١	اكتشاف النفط ساعد على النمو السكاني في منطقة الخليج العربي .		
٢	أصغر دول الخليج العربية من حيث المساحة مملكة البحرين .		
٣	عدد الآبار النفطية الكويتية التي أشعلها النظام العراقي البائد ٧٤٧ بنراً .		
٤	الدخل القومي هو مجموع الدخول التي تحصل عليها الدولة خلال عام .		
٥	توجد حضارة دلمون في دولة الكويت .		
٦	حقل الغوار يوجد في سلطنة عمان .		
٧	دولة الكويت تحتل المركز الأول بإنتاج النفط بين دول الخليج العربي حسب احصاء ٢٠٠٨ م .		



تابع امتحان مادة الاجتماعيات الصف السادس نهاية الفترة الدراسية الثانية العام الدراسي ٢٠١٧/٢٠١٨

هـ (اكمل العبارات التالية بما يناسبها :

- ١- العام الذي تم فيه تصدير أول شحنة من النفط الكويتي م .
- ٢- الدولة العربية الخليجية التي ظهرت فيها حضاره أم النار تسمى
- ٣- تنتمي أصول السلالات السكانية في منطقة الخليج العربية الى جنس البحر المتوسط وجنس منطقة تسمى
- ٤- العام الذي انشأ فيه مجلس التعاون الخليجي قوات درع الجزيرة
- ٥- نجحت المملكة العربية السعودية في إنتاج محصول يسمى من التمثيل من
- ٦- الدولة العربية الخليجية الأولى في نسبة الوافدين تسمى



و) ظلل الإجابة الصحيحة من بين البدائل التالية :

- ١- توجد منطقة لبوا الزراعية في :

المملكة العربية السعودية	دولة الامارات العربية المتحدة	قطر	البحرين
--------------------------	-------------------------------	-----	---------
- ٢- الدولة العربية الخليجية التي تحتل المركز الأول في عدد السكان :

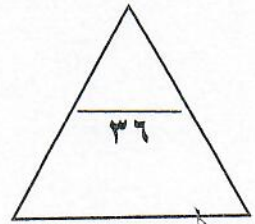
الكويت	البحرين	قطر	السعودية
--------	---------	-----	----------
- ٣- بدأ التنقيب عن النفط بدولة الكويت في :

١٩٣٢م	١٩٣٤م	١٩٣٦م	١٩٣٨م
-------	-------	-------	-------
- ٤- توحيد المناهج التعليمية بين دول الخليج العربية تعتبر من مجالات التعاون :

الثقافي	الاقتصادي	السياسي	العسكري
---------	-----------	---------	---------
- ٥- يقع مقر مكتب التربية العربي في:

الدوحة	المنامة	مسقط	الرياض
--------	---------	------	--------
- ٦- كميات النفط المخزونة في باطن الأرض :

إنتاج النفط	تصدير النفط	احتياطي النفط	استيراد النفط
-------------	-------------	---------------	---------------



تابع امتحان مادة الاجتماعيات الصف السادس نهاية الفترة الدراسية الثانية العام الدراسي ٢٠١٧/٢٠١٨

السؤال الثاني : (يتكون من أ / ب)

(أ) عرف مايلي:

١- الصناعة

.....

٢- الواردات

.....

٣- التلوث الأرض (التربة)

.....

٤- طبقة الأوزون

.....

٥- إنتاج النفط

.....

(أ) علل لما يلي:

١- قيام دول الخليج العربية بإقامة العديد من الموانئ النفطية .

.....
.....

٢- استقبلت منطقة الخليج العربية موجات سكانية من كل المناطق المجاورة .

.....

٣- إنشاء مجلس التعاون الخليجي قوات درع الجزيرة .

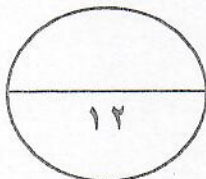
.....

٤- تزايد عدد السكان في دولة الكويت ودول الخليج العربية .

.....

.....

.....



تابع امتحان مادة الاجتماعيات الصف السادس نهاية الفترة الدراسية الثانية العام الدراسي ٢٠١٧/٢٠١٨

السؤال الثالث : (يتكون من أ / ب)

أ) اكتب فيما يلي :

١- الروابط التي تربط أبناء دول الخليج العربية .

.....
.....
.....

٢- التحديات التي تواجه دول الخليج العربية.

.....
.....

٣- أنواع الصناعات القائمة على النفط في دول الخليج العربية .

.....
.....

٤- أهم الدول المستوردة للنفط الكويتي .

.....
.....
.....

ب) فرق بين كل مما يلي من حيث التعريف في الجدول التالي :-

الببوت البلاستكية	الزراعة بدون تربة
.....





وزارة التربية

الإدارة العامة لمنطقة الفروانية التعليمية

التوجيه الفني للاجتماعيات

نموذج الإجابة

امتحان نهاية الفترة الدراسية الثانية

للمصف السادس

للعام الدراسي ٢٠١٧/ ٢٠١٨

المقرر : الكويت ودول الخليج

العربية

الزمن : ساعة ونصف

عدد الأوراق : (٥)

أجب عن جميع الأسئلة التالية :

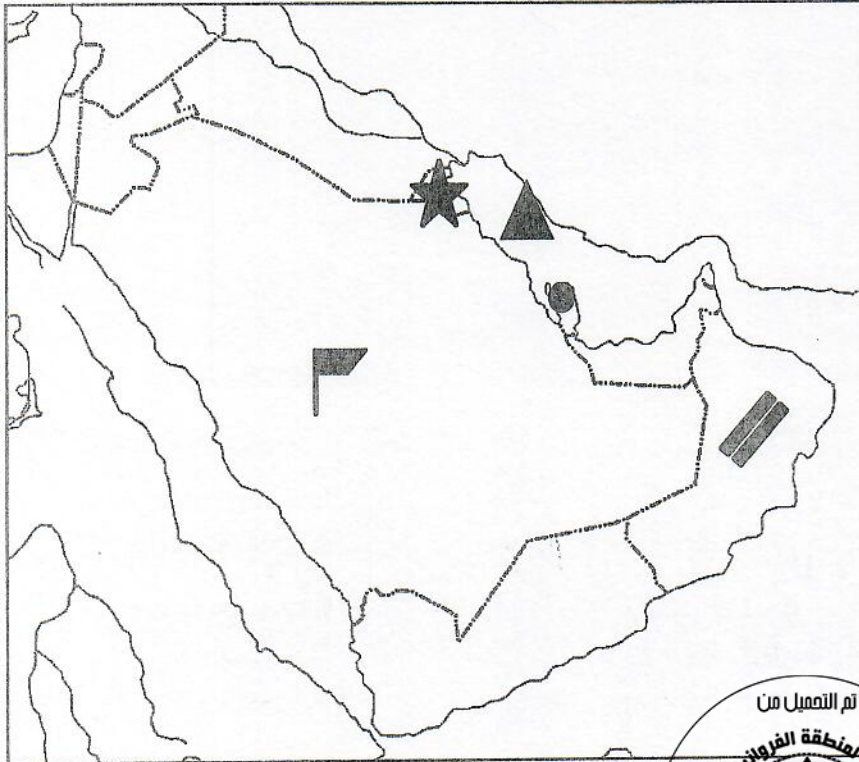
السؤال الأول: (يتكون من أ / ب / ج / د / هـ / و)

أ) صنف الهجرات التالية ومناطق استقرارها في الجدول التالي : (لكل بند درجة) ص ١٠٨

آل صباح - آل خليفة - القواسم - المعاضيد - آل بوسعيد واليعاربة - بني ياس

مناطق الاستقرار	سلطنة عمان	قطر	الكويت	البحرين	رأس الخيمة	أبوظبي
الهجرات	آل بوسعيد واليعاربة	المعاضيد	آل صباح	آل خليفة	القواسم	بني ياس

ب) لاحظ خريطة شبه الجزيرة العربية ثم أجب عن الأسئلة التي تليها : (لكل بند درجة)



١- الرمز ▲ يمثل مسطح مائي يسمى الخليج العربي . (ص ٩٢)

٢- الرمز // يمثل سهل في سلطنة عمان يسمى سهل الباطنة . (ص ٩٢)

٣- الرمز ﬂ يمثل أعلى دولة عربية خليجية في نسبة المواطنين تسمى السعودية . (ص ١١٢)

٤- الرمز ● يمثل مدينة عربية خليجية صدر فيها اعلان قيام السوق الخليجية المشترك تسمى الدوحة . (ص ١٣٠)

٥- الرمز ★ تمثل دولة عربية خليجية توجد بها منطقة الوفرة الزراعية أسمها الكويت ص ٩٢

تم التمهيل من



تابع امتحان مادة الاجتماعيات الصف السادس نهاية الفترة الدراسية الثانية العام الدراسي ٢٠١٧/٢٠١٨

(ج) استخراج المفهوم التي تشير إليه المعادلات التالية : (لكل بند درجة)

١٤٦ ص	العنف	=	الإحباط	+	تربية الطفل الخاطئة
١١٠ ص	الزيادة الطبيعية	=	عدد الوفيات	-	عدد المواليد
١١٤ ص	الكثافة السكانية	=	مساحة الدولة	÷	عدد السكان
١٣٩ ص	الغزو العراقي على دولة الكويت	=	يوم الخميس	+	٢ أغسطس ١٩٩٠
١٤٢ ص	العمالة المنزلية	=	مربية خدم	+	طباخ سائق
١٣٦ ص	اسباب التلوث البحري	=	النفط ومشتقاته	+	مخلفات المصانع
				+	نفايات خطرة



(د) ظلل الحرف (أ) اذا كانت العبارة صحيحة وظلل الحرف (ب) اذا كانت الإجابة خاطئة :

م	العبارة	(أ)	(ب)
١	اكتشاف النفط ساعد على النمو السكاني في منطقة الخليج العربي . ص ١١٠		
٢	أصغر دول الخليج العربية من حيث المساحة مملكة البحرين . ص ١١٤		
٣	عدد الآبار النفطية الكويتية التي أشعلها النظام العراقي البائد ٧٤٧ بئراً . ص ١٣٩		
٤	الدخل القومي هو مجموع الدخول التي تحصل عليها الدولة خلال عام . ص ٩٥		
٥	توجد حضارة دلمون في دولة الكويت . ص ١٠٥		
٦	حقل الغوار يوجد في سلطنة عمان . ص ٩١		
٧	دولة الكويت تحتل المركز الأول بإنتاج النفط بين دول الخليج العربي حسب إحصاء ٢٠٠٨ م ص ٨٨		

تابع امتحان مادة الاجتماعيات الصف السادس نهاية الفترة الدراسية الثانية العام الدراسي ٢٠١٧/٢٠١٨

هـ (اكمل العبارات التالية بما يناسبها :

- ١- العام الذي تم فيه تصدير أول شحنة من النفط الكويتي ١٩٤٦ م . ص ٩٠
- ٢- الدولة العربية الخليجية التي ظهرت فيها حضارة أم النار تسمى قطر ص ١٠٥.
- ٣- تنتمي أصول السلالات السكانية في منطقة الخليج العربية الى جنس البحر المتوسط وجنس منطقة تسمى شرق أفريقيا ص ١٠٥

- ٤- العام الذي انشأ فيه مجلس التعاون الخليجي قوات درع الجزيرة ١٩٨٤م ص ١٢٩ .
- ٥- نجحت المملكة العربية السعودية في إنتاج محصول يسمى القمح ص ٩٢ .
- ٦- الدولة العربية الخليجية الأولى في نسبة الوافدين تسمى الإمارات العربية المتحدة ص ١١٢ .

و) ظل الإجابة الصحيحة من بين البدائل في العبارات التالية :

- ١- توجد منطقة لبوا الزراعية في : ص ٩٢

المملكة العربية السعودية	دولة الإمارات العربية المتحدة	قطر	البحرين
--------------------------	-------------------------------	-----	---------

- ٢- الدولة العربية الخليجية التي تحتل المركز الأول في عدد السكان : ص ١١٤

الكويت	البحرين	قطر	السعودية
--------	---------	-----	----------

- ٣- بدأ التنقيب عن النفط بدولة الكويت في : ص ٨٧

١٩٣٢م	١٩٣٤م	١٩٣٦م	١٩٣٨م
-------	-------	-------	-------

- ٤- توحيد المناهج التعليمية بين دول الخليج العربية تعتبر من مجالات التعاون: ص ١٣٠

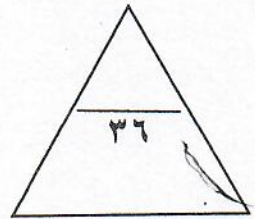
الثقافي	الاقتصادي	السياسي	العسكري
---------	-----------	---------	---------

- ٥- يقع مقر مكتب التربية العربي في : ص ١٣٠

الدوحة	المنامة	مسقط	الرياض
--------	---------	------	--------

- ٦- كميات النفط المخزونة في باطن الأرض : ص ٨٨

إنتاج النفط	تصدير النفط	احتياطي النفط	استيراد النفط
-------------	-------------	---------------	---------------



تابع امتحان مادة الاجتماعيات الصف السادس نهاية الفترة الدراسية الثانية العام الدراسي ٢٠١٧/٢٠١٨

السؤال الثاني : (يتكون من أ / ب)

(أ) عرف مايلي:

- ١- الصناعة
تحويل المواد الخام الى مواد يمكن الإستفادة منها ص ٩٥
 - ٢- الواردات
البضاعة والسلع التي تشتريها دولنا من الخارج ص ٩٩
 - ٣- التلوث الأرضي (التربة)
دخول مواد غريبة في التربة مما يلحق الضرر في خواصها ومكوناتها ص ١٣٤
 - ٤- طبقة الأوزون
درع واق للأحياء ضد خطر الأشعة فوق البنفسجية الضارة ص ١٣٥
 - ٥- إنتاج النفط
كميات النفط التي يتم إستخراجها للإستفادة منها ص ٨٨
- (أ) علل لما يلي:



- ١- قيام دول الخليج العربية بإقامة العديد من الموانئ النفطية . ص ٩٠
تزايد الطلب العالمي على النفط وزيادة الإنتاج / مصدر أساسي للطاقة
- ٢- استقبلت منطقة الخليج العربية موجات سكانية من كل المناطق المجاورة . ص ١٠٨
بسبب الموقع الجغرافي المهم
- ٣- إنشاء مجلس التعاون الخليجي قوات درع الجزيرة . ص ١٢٩
حماية ومساندة أي دولة عضو في المجلس تتعرض للعدوان
- ٤- تزايد عدد السكان في دولة الكويت ودول الخليج العربية . ص ١١١
توفر فرص العمل / السماح للوافدين بإصطحاب عائلاتهم / الأمن والأمان / ارتفاع الأجور / توفر الرعاية الصحية

تابع امتحان مادة الاجتماعيات الصف السادس نهاية الفترة الدراسية الثانية العام الدراسي ٢٠١٧/٢٠١٨

السؤال الثالث : (يتكون من أ / ب)

أ) اكتب فيما يلي :

- ١- الروابط التي تربط أبناء دول الخليج العربية .
وحدة الأصل / التاريخ المشترك / العادات والتقاليد / الدين واللغة ص ١١٧
- ٢- التحديات التي تواجه دول الخليج العربية.
الإعتماد على الموارد النفطية فقط / الغزو الثقافي / ندرة المياه الجوفية / الأمن الغذائي / التلوث البيئي / الأخطار الداخلية والخارجية ص ١٣٢



- ٣- أنواع الصناعات القائمة على النفط في دول الخليج العربية
البتروكيماويات / الغاز / تكرير النفط ص ٩٦

- ٤- أهم الدول المستوردة للنفط الكويتي .
هولندا / اليابان / الولايات المتحدة الأمريكية ص ٩٠

ب) فرق بين كل مما يلي من حيث التعريف في الجدول التالي :- ص ٩٤

البيوت البلاستيكية	الزراعة بدون تربة
يزرع فيها الخضروات في غير مواسمها (أوقاتها) وتقوم بحماية المحاصيل من تقلبات الطقس	هي الزراعة التي تتم في بيئة مائية أو رملية أو حصى أو نشارة خشب تضاف إليها المحاليل الغذائية