



وزارة التربية  
منطقة الفروانية التعليمية  
التوجيه الفني للاجتماعيات

امتحان نهاية الفترة الدراسية الأولى  
لمقرر / الكويت والوطن العربي  
(الصف السابع)  
للعام الدراسي ( ٢٠١٧ م / ٢٠١٨ م )

عدد الأوراق : ( ٦ )

زمن الإجابة: ساعة ونصف

تم تجميع

الامتحانات ونماذج الإجابة  
وأرشفتها إلكترونياً  
من قبل الموجه الفني  
أ. حمد إبراهيم البحوه

السؤال الأول ويتكون من ( أ - ب - ج - د - هـ - و ) :

أ) اختر الإجابة الصحيحة من بين البدائل التي تلي كل عبارة بوضع خط تحتها:

١- تبلغ مساحة الوطن العربي بالنسبة لمساحة العالم حوالي

%١٠ - %٢٠ - %٣٠ - %٤٠ -

٢- أكثر الأشكال التضاريسية انتشاراً في الوطن العربي هي :

- الجبال - الهضاب - التلال - السهول

٣- مسطح مائي تحيط به اليابسة من جميع الاتجاهات :

- نهر - محيط - خليج - بحيرة

٤- أكثر الدول العربية إنتاجاً للمياه الحلاة هي :

- قطر - البحرين - الكويت - ليبيا

٥- من أشهر ملوك سبأ ورد ذكرها في القرآن الكريم ملكة اسمها :

- كليوباترا - بلقيس - شجرة الدر - نفرتيتي

ب) صنف الأسماء التالية بمكانها الصحيح في الجدول الذي أمامك :

أطلس / الشطوط / النيل / عسير / الخماسين

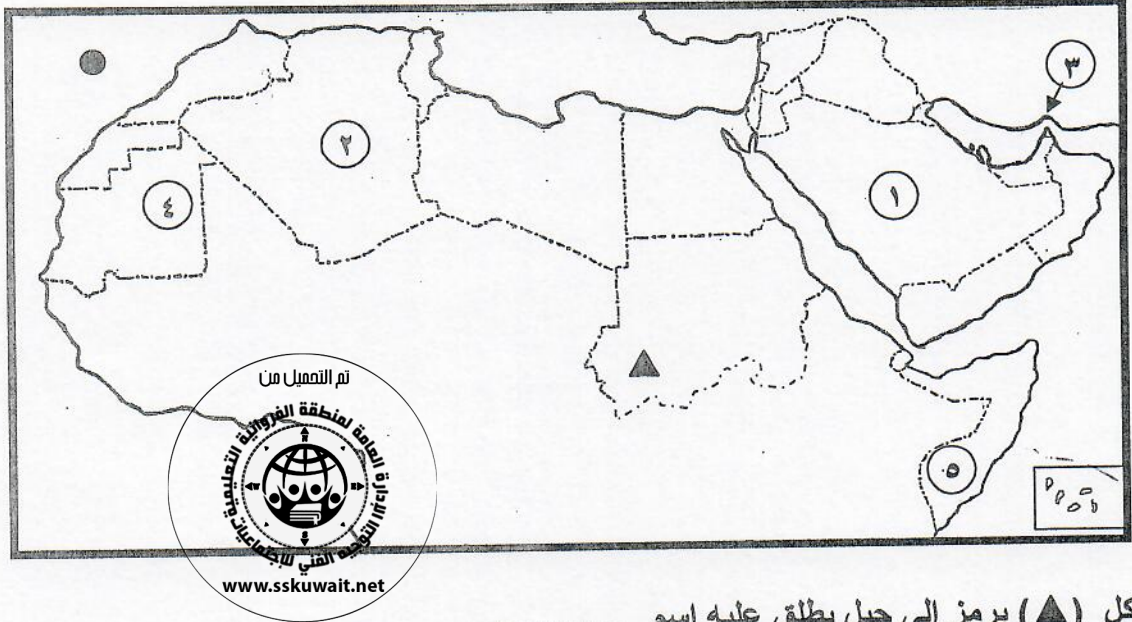
رياح	جبال	هضاب	أنهار
.....	.....	.....	.....
.....	.....	.....	.....





**تابع السؤال الأول :**

**جـ ) لاحظ خريطة الوطن العربي ثم نفذ المطلوب :**



- الشكل (▲) يرمز إلى جبل يطلق عليه اسم .....
- الشكل (●) يرمز إلى مسطح مائي اسمه .....
- الرقم ( ٣ ) على الخريطة يشير إلى مضيق اسمه .....
- الرقم ( ٤ ) على الخريطة يمثل دولة عربية اسمها .....
- هضبة نجد يمثلها على الخريطة الرقم .....

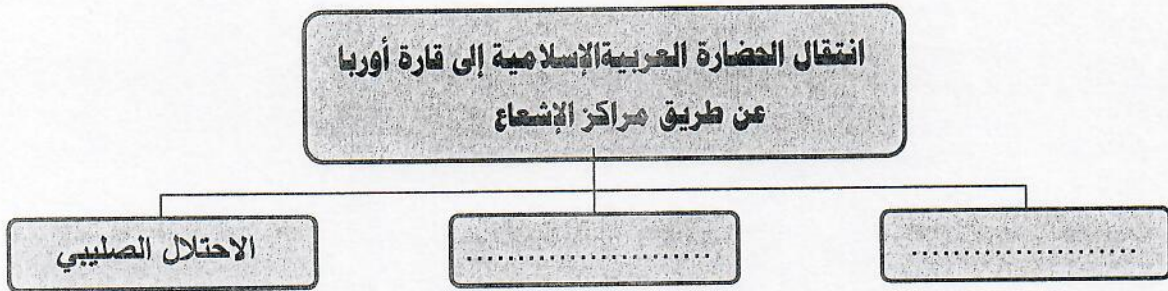
**د ) أكمل العبارات التالية بما يناسبها :**

- ١- سفينة الصحراء لقب يطلق على حيوان يسمى .....
- ٢- أطلق على البحرين قديماً قبل الفتح الإسلامي اسم .....
- ٣- الكتابة التي اخترعها السومريون قديماً تسمى .....
- ٤- يطلق اسم بلاد الرافدين حالياً على دولة تسمى .....
- ٥- البحر الذي يفصل الجناح الآسيوي عن الجناح الأفريقي في الوطن العربي يسمى .....



تابع السؤال الأول :

هـ) أكمل المخططات السهمية التالية :



و) أكتب المفهوم أو المصطلح الدال على العبارات التالية :-

- ١- ( ..... ) موقع الدولة بالنسبة لليابسة والماء .
- ٢- ( ..... ) كل ما يطرأ على المجتمع من تقدم وتطور ورقي في جميع نواحي الحياة الدينية والسياسية والاقتصادية والاجتماعية والفكرية .
- ٣- ( ..... ) النبات الذي ينمو تلقائياً عقب سقوط المطر دون تدخل من الإنسان .
- ٤- ( ..... ) كل ما ارتفع من الأرض وله قمة لا يقل ارتفاعها عن ١٠٠٠ متر .



الدرجة ..... فقط





**السؤال الثاني : يتكون من : [ أ ، ب ، ج ]**

**أ) لاحظ الصورة التي أمامك ثم أجب عن الأسئلة التالية :**

١- ما اسم الحضارة التي تمثلها الصورة التي أمامك ؟

.....

٢- ما العوامل التي ساعدت على قيام الحضارة فيها ؟

.....

٣- ما أهم الفنون التي اشتهرت بها هذه الحضارة ؟

.....

**ب) علل لما يلي :**

١- المدن الساحلية أكثر اعتدالاً في المناخ صيفاً وأدفاً نسبياً شتاءً .

.....

٢- اهتمام المصريون القدماء بتحنيط جثث موتاهم .

.....

**ج) فرق بين كل من المفاهيم التالية :**

القناة	المضيق
.....	.....
.....	.....
المياه الجوفية	الأفلاج
.....	.....
.....	.....
المناخ	الطقس
.....	.....
.....	.....



الدرجة ..... فقط



**السؤال الثالث : ويتكون من ( أ - ب )**

**أ) عدد لكل مما يلي :-**

١- العوامل التي تؤثر في مناخ الوطن العربي .

.....

.....

٢- العوامل التي ساعدت على ازدهار الزراعة في بلاد الرافدين.

.....

.....

٣- صفات المطر في الوطن العربي .

.....

.....

**ب) قارن بين كل من حسب الجدول التالي :**

أوجه المقارنة	الحشائش الحارة ( السافانا )	الحشائش المعتدلة ( الأستبس )
التعريف	.....	.....
الحيوانات التي تتربى عليها	.....	.....



الدرجة ..... فقط



السؤال الرابع : ويتكون من ( أ - ب )  
( أ ) قارن بين كل من حسب الجدول التالي :

أوجه المقارنة	اسم النبي	اسم الكتاب
الديانة المسيحية	.....	.....
الديانة اليهودية	.....	.....



ب) اكتب فيما يلي :

١- مقومات الهوية العربية .

.....

.....

٢- مصادر المياه في الوطن العربي .

.....

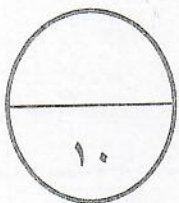
.....

٣- العوامل الأساسية لقيام الحضارة .

.....

.....

انتهت الأسئلة  
مع تمنياتنا لكم بالنجاح والتوفيق



الدرجة ..... فقط





وزارة التربية  
منطقة الفروانية التعليمية  
التوجيه الفني للاجتماعيات

امتحان نهاية الفترة الدراسية الأولى  
لمقرر / الكويت والوطن العربي  
(الصف السابع)  
للعام الدراسي ( ٢٠١٧ م / ٢٠١٨ م )  
**نموذج الإجابة**

عدد الأوراق : (٦)

زمن الإجابة: ساعة ونصف

السؤال الأول ويتكون من ( أ - ب - ج - د - هـ - و ) :

أ) اختر الإجابة الصحيحة من بين البدائل التي تلي كل عبارة بوضع خط تحتها: ( لكل إجابة درجة واحدة)

١- تبلغ مساحة الوطن العربي بالنسبة لمساحة العالم حوالي :

١٠% -	٢٠% -	٣٠% -	٤٠% -
-------	-------	-------	-------

٢- أكثر الأشكال التضاريسية انتشاراً في الوطن العربي هي :

البحر	الهضاب	التلال	السهول
-------	--------	--------	--------

٣- مسطح مائي تحيط به اليابسة من جميع الاتجاهات :

نهر	محيط	خليج	بحيرة
-----	------	------	-------

٤- أكثر الدول العربية إنتاجاً للمياه الحلوة هي :

قطر	البحرين	الكويت	ليبيا
-----	---------	--------	-------

٥- من أشهر ملوك سبأ ورد ذكرها في القرآن الكريم ملكة اسمها :

كليوباترا	بلقيس	شجرة الدر	نفرتيتي
-----------	-------	-----------	---------



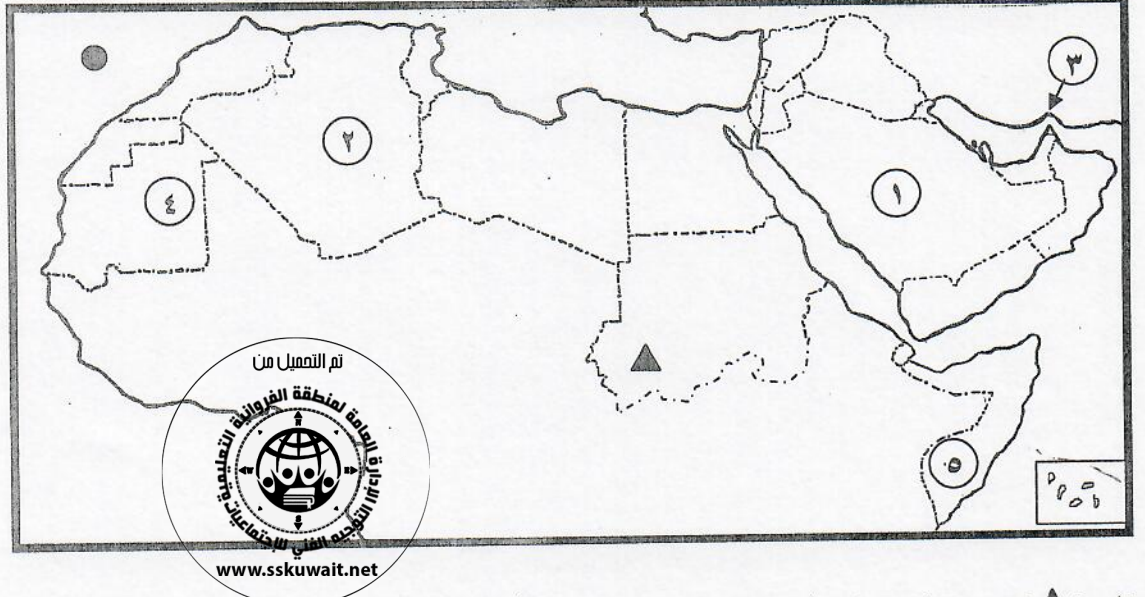
( ب ) صنف الأسماء التالية بمكانها الصحيح في الجدول الذي أمامك :

أطلس / الشطوط / النيل / عسير / الخماسين

رياح	جبال	هضاب	أنهار
الخماسين ص ٤٨	أطلس / عسير ص ٣٨	الشطوط ص ٤٠	النيل ص ٤٢



تابع السؤال الأول : ( لكل إجابة درجة واحدة )  
ج ( لاحظ خريطة الوطن العربي ثم نفذ المطلوب :



- الشكل (▲) يرمز إلى جبل يطلق عليه اسم ..... (جبل مره) ..... ص ٣٨
- الشكل (●) يرمز إلى مسطح مائي اسمه ..... (المحيط الأطلسي / الأطلنطي) ..... ص ٢٨
- الرقم (٣) على الخريطة يشير إلى مضيق اسمه ..... (هرمز) ..... ص ٢٨
- الرقم (٤) على الخريطة يمثل دولة عربية اسمها ..... (موريتانيا) ..... ص ٤٠
- هضبة نجد يمثلها على الخريطة الرقم ..... (١) ..... ص ٤٠

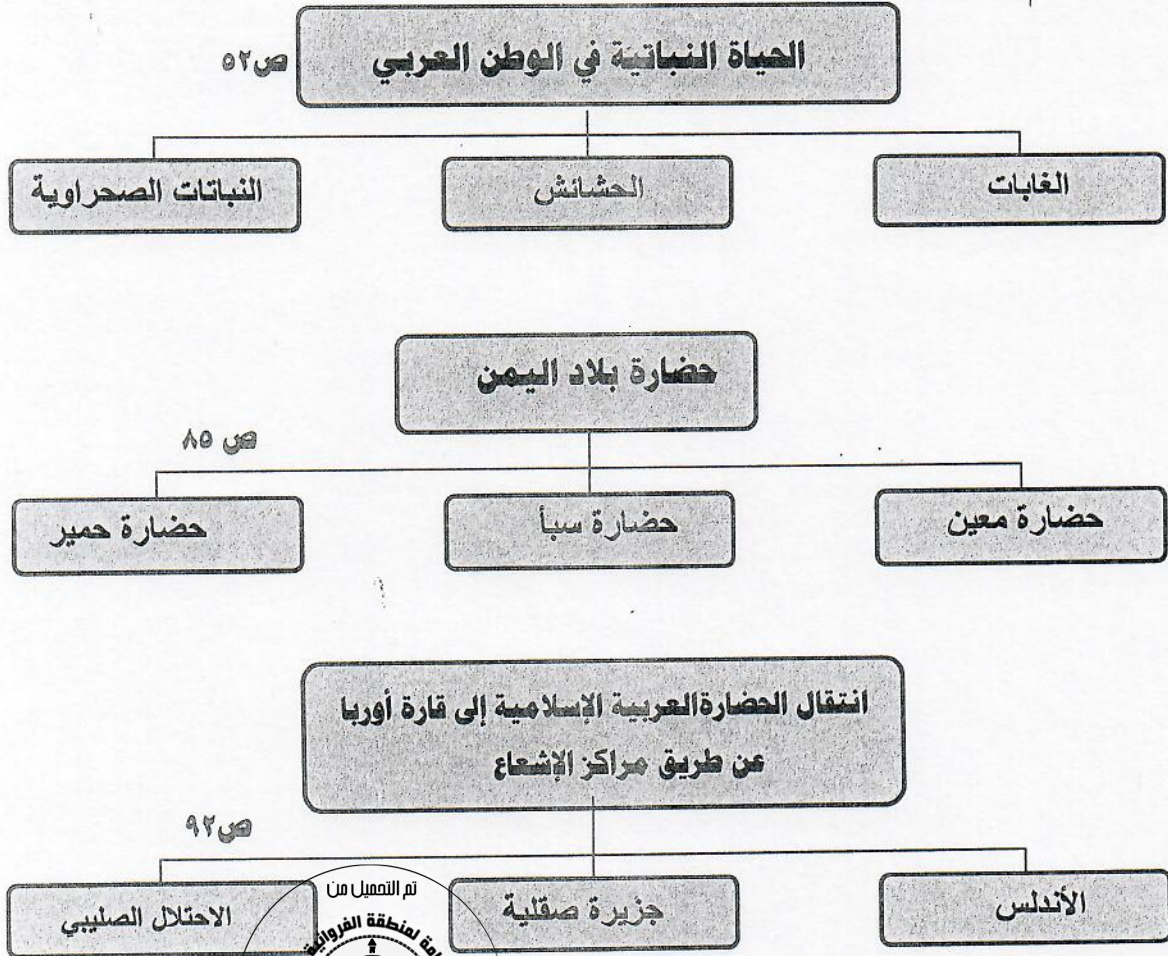
د ( أكمل العبارات التالية بما يناسبها :

- ١- سفينة الصحراء لقب يطلق على حيوان يسمى ..... الجمل ..... ص ٥٦
- ٢- أطلق على البحرين قديماً قبل الفتح الإسلامي اسم ..... أوائل ..... ص ٨٩
- ٣- الكتابة التي اخترعها السومريون قديماً تسمى ..... المسمارية ..... ص ٨٣
- ٤- يطلق اسم بلاد الرافدين حالياً على دولة تسمى ..... العراق ..... ص ٧٩
- ٥- البحر الذي يفصل الجناح الآسيوي عن الجناح الأفريقي في الوطن العربي يسمى ..... الأحمر ..... ص ٢٤



تابع السؤال الأول : ( لكل إجابة درجة واحدة = ١٠ )

هـ) أكمل المخططات السهمية التالية :



و) أكتب المفهوم أو المصطلح الدال على العبارات التالية :-

- ١- ( الموقع النسبي ) موقع الدولة بالنسبة لليابسة والماء .
- ٢- ( الحضارة ) كل ما يطرأ على المجتمع من تقدم وتطور ورفي في جميع نواحي الحياة الدينية والسياسية والاقتصادية والاجتماعية والفكرية .
- ٣- ( النبات الطبيعي ) النبات الذي ينمو تلقائياً عقب سقوط المطر دون تدخل من الإنسان .
- ٤- ( الجبل ) كل ما ارتفع من الأرض وله قمة لا يقل ارتفاعها عن ١٠٠٠ متر .



**السؤال الثاني : يتكون من : [ أ ، ب ، ج ]**

**أ) لاحظ الصورة التي أمامك ثم أجب عن الأسئلة التالية : درجتان**



- ١- ما اسم الحضارة التي تمثلها الصورة التي أمامك ؟ ص ٧٤  
(الحضارة المصرية او الفرعونية)
- ٢- ما العوامل التي ساعدت على قيام الحضارة فيها ؟ درجة  
-تنوع الصخور والمعادن  
-امتداد الصحراء ونهر النيل .  
-اعتدال المناخ وجفافه ( يكتفى بنقطتين فقط )
- ٣- ما أهم الفنون التي اشتهرت بها هذه الحضارة ؟ نصف درجة  
النحت / البناء

**ب) علل لما يلي : ( درجتان )**

- ١- المدن الساحلية أكثر اعتدالاً في المناخ صيفاً وأدفاً شتاءً لأن البحر يلطف من درجة حرارتها .
  - ٢- اهتمام المصريون القدماء بتحنيط جثث موتاهم .
- لاعتقادهم بالبعث والخلود وان الحياة تعود الى الجسم بعد الموت .

**ج) فرق بين كل من المفاهيم التالية : ( درجات ٦ / لكل تعريف درجة )**

القناة	المضيق ص ٢٨
مجرى مائي صناعي ضيق يشق لأغراض الري أو النقل	ممر مائي ضيق يصل بين بحرين أو محيطين أو أي مساحتين كبيرتين نسبياً من الماء .
المياه الجوفية	الأفلاج ص ٦٠
هي المياه التي توجد في جوف الأرض (باطن الأرض)	الماء الجاري ( وهو مجرى صغير مائي في الأرض )
المناخ	الطقس ص ٤٤
هو حالة الجو خلال فترة زمنية طويلة من حيث درجة الحرارة والرطوبة والأمطار	هو حالة الجو في مكان لمدة قصيرة تتراوح بين يوم أو عدة أيام من حيث درجة الحرارة والرطوبة والأمطار والرياح والضغط الجوي .



**السؤال الثالث : ويتكون من ( أ - ب )**

**أ) عدد لكل مما يلي : ٦ درجات ( يكتفى بنقطتين فقط )**

ص ٤٦

درجتان

- ١- العوامل التي تؤثر في مناخ الوطن العربي .
- الموقع بالنسبة لدوائر العرض
- القرب والبعد من المسطحات المائية
- التضاريس
- الرياح

ص ٨١

درجتان

- ٢-العوامل التي ساعدت على ازدهار الزراعة في بلاد الرافدين.
- خصوبة تربتها
- سعة سهولها
- ووفرة مياهاها ( وجود الأنهار )
- اقامة السدود / تجفيف المستنقعات / استصلاح الأراضي .



ص ٥٩

درجتان

- ٣- صفات المطر في الوطن العربي .
- تذبذب كمية المطر بين عام وآخر. كما أنها تسقط في أيام معدودة .
- الأمطار في الوطن العربي تقتصر على الأطراف الشمالية والجنوبية منها .
- تتصف بأنها قليلة بصفة عامة .

٤ درجات

**ب) قارن بين كل من حسب الجدول التالي : ص ٥٢**

أوجه المقارنة	الحشائش الحارة ( السافانا )	الحشائش المعتدلة ( الأستبس )
التعريف درجة لكل تعريف	هي حشائش طويلة يختلف نوعها حسب كمية الأمطار .	هي حشائش قصيرة نوعاً ما تنمو في الشتاء خلال موسم سقوط الأمطار .
الحيوانات التي تتربى عليها ( يكتفى بمثال واحد فقط ) درجة لكل مثال	تربى عليها الماشية	الأغنام / الإبل / الخيول / الحمير



**السؤال الرابع : ويتكون من ( أ - ب )**

**( أ ) قارن بين كل من / حسب الجدول التالي : ( ٤ درجات )**

ص ٩٠

أوجه المقارنة	اسم النبي	اسم الكتاب
الديانة المسيحية	نزلت على سيدنا عيسى عليه السلام	الإنجيل
الديانة اليهودية	نزلت على سيدنا موسى عليه السلام	التوراة

تم التمهيل من



**( ب ) اكتب فيما يلي : ( يكتفى بنقطتين ) درجة لكل اجابة**

درجتان ص ٢٦

١- مقومات الهوية العربية .

- الدين الاسلامي.
- اللغة العربية .
- التراث / العادات والتقاليد
- الأهداف المشتركة

درجتان ص ٥٧

٢- مصادر المياه في الوطن العربي .

- مياه الأنهار
- المياه الجوفية
- الأمطار / الأفلاج
- البحيرات / السواحل

درجتان ص ٧٣

٣- العوامل الأساسية لقيام الحضارة .

- الموقع الاستراتيجي .
- المياه العذبة
- اعتدال المناخ
- توافر الثروات الطبيعية
- توافر العنصر البشري