

المجال : الكويت والوطن العربي  
الزمن : ساعة ونصف  
عدد الأوراق ٦

امتحان منهج كامل  
للفيف السابع للعام الدراسي  
٢٠١٧ - ٢٠١٨ م

وزارة التربية  
الإدارة العامة لمنطقة الفروانية التعليمية  
التوجيه الفني للاجتماعيات

أجب عن جميع الاسئلة التالية :

السؤال الأول : موضوعي ويتكون من ( أ ، ب ، ج ، د ، هـ ، و ) :

( أ ) أكمل العبارات التالية فيما درست :

١. المسطح المائي الذي يحد الوطن العربي من جهة الغرب يسمى .....
٢. نزل القرآن الكريم على سيدنا محمد صلى الله عليه وسلم عام ..... م
٣. عملية تتطلب التخطيط والمشاركة من الجميع تسمى .....
٤. انضمت اليمن إلى جامعة الدول العربية عام ..... م
٥. تقع المنظمة العربية للتنمية الصناعية والتعدين في دولة تسمى .....
٦. يطلق اسم بلاد الرافدين أو بلاد ما بين النهرين على دولة عربية تسمى .....

( ب ) - صنف المنتجات التجارية الواردة والمصدرة من وإلى بلاد الرافدين حسب الجدول التالي :

( المنسوجات - المعادن - الأحجار - المنتجات الزراعية )

الواردات	الصادرات





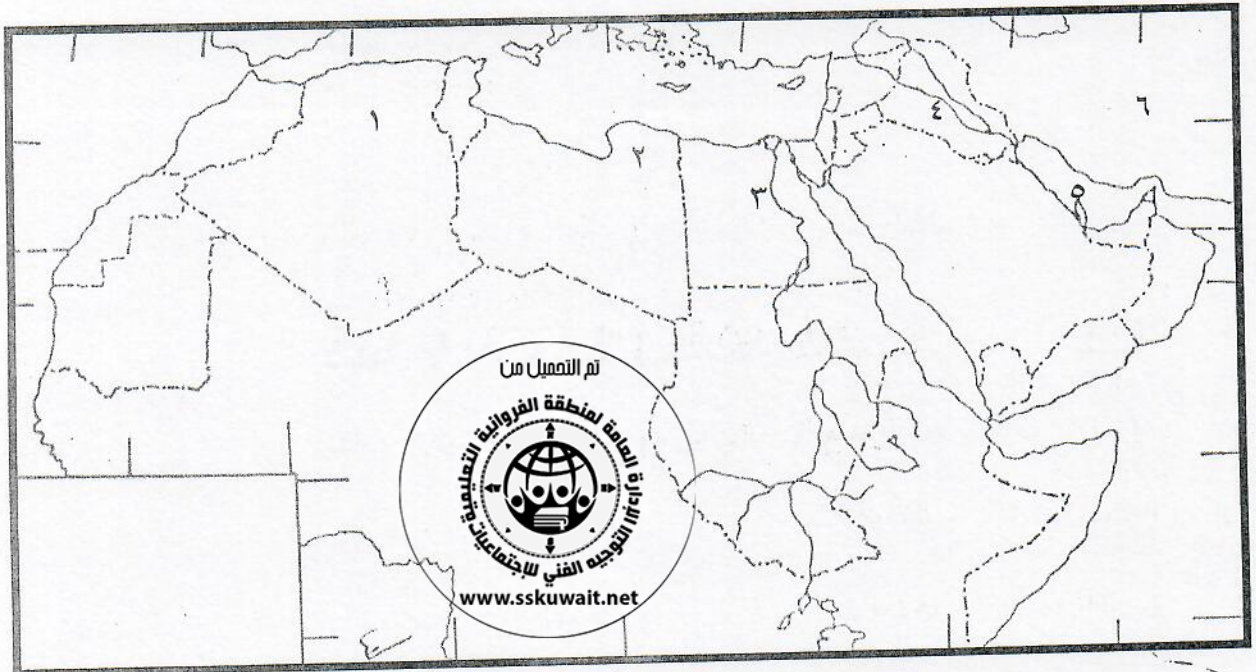
تابع/ امتحان منهج كامل الكويت والوطن العربي للصف السابع للعام الدراسي ٢٠١٧-٢٠١٨ م

**( ج ) ضع خطأ تحت الخيار الصحيح من بين الخيارات التي تلي كل عبارة :**

- ١- عقد أول مؤتمر للمانحين لدعم الوضع الإنساني في سوريا في دولة تسمى : ( الكويت - عمان - البحرين - الامارات )
- ٢- تم إنشاء الصندوق السعودي للتنمية عام : ( ١٩٧١م - ١٩٧٢م - ١٩٧٣م - ١٩٧٤م )
- ٣- تشرف على قناة السويس دولة تسمى : ( السودان - مصر - الجزائر - المغرب )
- ٤- أعلن قيام مجلس التعاون الخليجي في مدينة : ( مسقط - المنامة - أبوظبي - الرياض )
- ٥- انضمت دولة الكويت لجامعة الدول العربية عام : ( ١٩٦١م - ١٩٦٢م - ١٩٦٣م - ١٩٦٤م )

**( د . ) أمامك خريطة الوطن العربي نفذ المطلوب منها :**

- هضبة الشطوط يمثلها على الخريطة الرقم ( )
- سهول ليبيا يمثلها على الخريطة الرقم ( )
- أكثر الدول العربية سكانا في الجناح الآسيوي يمثلها على الخريطة الرقم ( )
- الخليج العربي يمثلها على الخريطة الرقم ( )
- نهر النيل يمثلها على الخريطة الرقم ( )

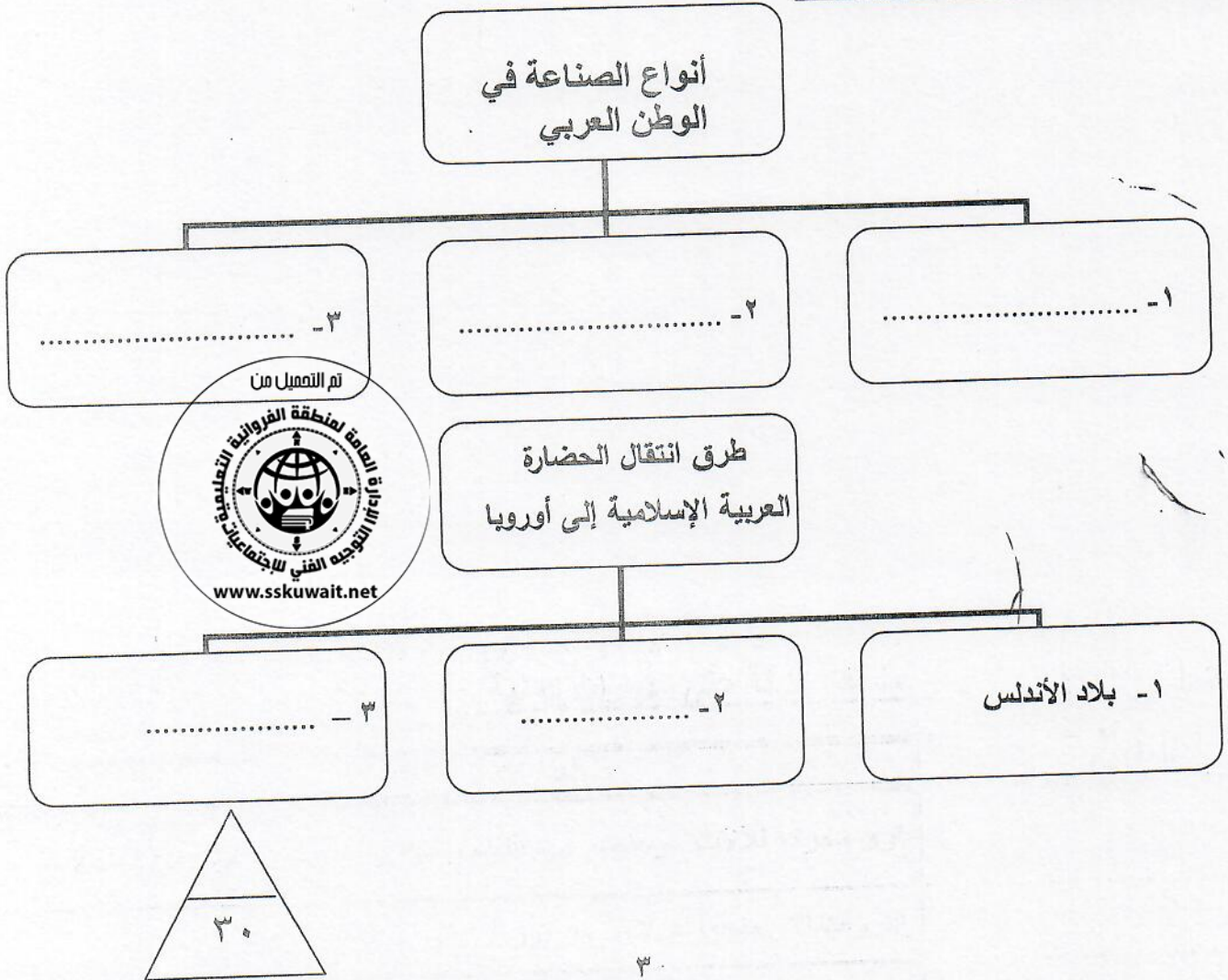




تابع/ امتحان منهج كامل الكويت والوطن العربي للصف السابع للعام الدراسي ٢٠١٧-٢٠١٨ م  
( هـ ) أكتب المفاهيم أو المصطلحات الدالة على العبارات التالية :

المفهوم	العبارات
	قوى محركة للآلات ، وعنصر مهم للتقدم والتطور الاقتصادي في جميع المجالات
	الثروات التي منحها الله لإقليم من دون أن يكون للإنسان أي دور في وجودها .
	زحف رمال الصحراء على المناطق الجافة وشبه الجافة .
	مجرى مائي صناعي ضيق يشق لأغراض الري أو النقل .
	الفرق بين معدل المواليد ومعدل الوفيات .

( و ) أكمل المخططات السهمية التالية :





تابع/ امتحان منهج كامل الكويت والوطن العربي للصف السابع للعام الدراسي ٢٠١٧-٢٠١٨ م  
السؤال الثاني : مقالي ويتكون من ( أ ، ب )

( أ ) علل لما يأتي ( أذكر السبب ) :

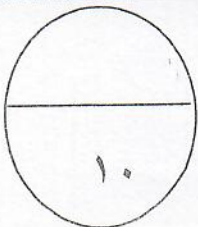
١- تعد منطقة جنوب غرب شبه الجزيرة العربية من أكثر مناطق شبه الجزيرة العربية ملائمة لقيام الحضارة .

أ- .....  
ب- .....  
٢- تتنوع الثروة المائية في الوطن العربي .  
.....  
٣- اهتمام المصريين القدماء بتحنيط جثث موتاهم .  
.....  
٤ - يطلق على الغاز الطبيعي اسم الطاقة النظيفة .  
.....  
٥- تعد حضارة ( دلمون ) مركزاً مهماً للمواصلات البحرية .  
.....



( ب ) قارن بين كل من :


منظمة الأوبك	منظمة الأوبك	وجه المقارنة
منظمة الأوبك	منظمة الأوبك	سنة التأسيس
منظمة الأوبك	منظمة الأوبك	المقر الحالي
منظمة الأوبك	منظمة الأوبك	الأهداف



تابع/ امتحان منهج كامل الكويت والوطن العربي للصف السابع للعام الدراسي ٢٠١٧-٢٠١٨ م

السؤال الثالث : مقالتي ويتكون من ( أ ، ب )

( أ ) انظر إلى الصورة المقابلة ثم أجب عن الأسئلة التالية :



- ١- عرف التلوث : .....
- ٢- أكتب نوع التلوث في الصورة التي أمامك .

٣- ما أكثر الملوثات انتشاراً ؟

.....

٤- أذكر نوعين آخرين من أنواع التلوث .

- أ- .....
- ب- .....

( ب ) عرف المفاهيم التالية :

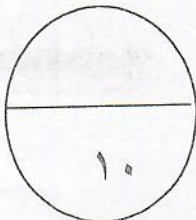
١. الموقع النسبي : .....

٢. الغاز الطبيعي : .....

٣. الحضارة : .....

٤. التنمية المستدامة : .....

٥. الجبل : .....





تابع/ امتحان منهج كامل الكويت والوطن العربي للصف السابع للعام الدراسي ٢٠١٧-٢٠١٨ م

السؤال الرابع : مقالي ويتكون من ( أ ، ب )

( أ ) فرق بين كل مما يلي :-

الهضبة	السهول

المياه الجوفية	الأفلاج



( ب ) أذكر اثنين لكل مما يلي :

١. العوامل الرئيسية المؤثرة في تنوع النبات الطبيعي في الوطن العربي .

..... أ -

..... ب -

٢. عوامل قيام الحضارة .

..... أ -

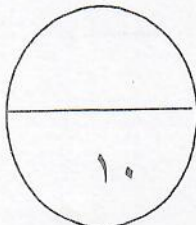
..... ب -

٣. المشكلات التي تواجه التنمية البشرية .

..... أ -

..... ب -

٦  
انتهت الاسئلة مع تمنياتنا لكم بالتوفيق ،،،







وزارة التربية  
الإدارة العامة لمنطقة الفروانية التعليمية  
التوجيه الفني للاجتماعيات

الإجابة النموذجية  
إجابة امتحان منهج كامل  
للفصل السابع للعام الدراسي  
٢٠١٧ - ٢٠١٨ م

المجال : الكويت والوطن العربي  
الزمن : ساعة ونصف  
عدد الأوراق ٦

أجب عن جميع الاسئلة التالية :

السؤال الأول : موضوعي ويتكون من ( أ ، ب ، ج ، د ، هـ ، و ) : ( لكل إجابة درجة واحدة )

( أ ) أكمل العبارات التالية فيما درست :

١. المسيلح المائي الذي يحد الوطن العربي من جهة الغرب يسمى المحيط الأطلسي ص ٣٣
٢. نزل القرآن الكريم على سيدنا محمد صلى الله عليه وسلم عام ٦١٠ م ص ٩٠
٣. عملية تتطلب التخطيط والمشاركة من الجميع تسمى التنمية ص ١٧٢
٤. انضمت اليمن إلى جامعة الدول العربية عام ١٩٤٥ م ص ١٧٨
٥. تقع المنظمة العربية للتنمية الصناعية والتعدين في دولة تسمى الكويت ص ١٨٢
٦. يطلق اسم بلاد الرافدين أو بلاد ما بين النهرين على دولة عربية تسمى العراق ص ٧٩

( ب ) - صنف المنتجات التجارية الواردة والمصدرة من وإلى بلاد الرافدين حسب الجدول التالي : ص ٨١

( المنسوجات - المعادن - الأحجار - المنتجات الزراعية )

الواردات	الصادرات
المعادن	المنسوجات
الأحجار	المنتجات الزراعية



## الإجابة النموذجية

تابع/ إجابة امتحان منهج كامل الكويت والوطن العربي للصف السابع للعام الدراسي ٢٠١٧-٢٠١٨ م

( ج ) ضع خطأ تحت الخيار الصحيح من بين الخيارات التي تلي كل عبارة :

١- عقد أول مؤتمر للمانحين لدعم الوضع الإنساني في سوريا في دولة تسمى : (الكويت - عمان - البحرين - الامارات)

ص ١٨٨

٢- تم إنشاء الصندوق السعودي للتنمية عام : (١٩٧١م - ١٩٧٢م - ١٩٧٣م - ١٩٧٤م) ص ١٧٩

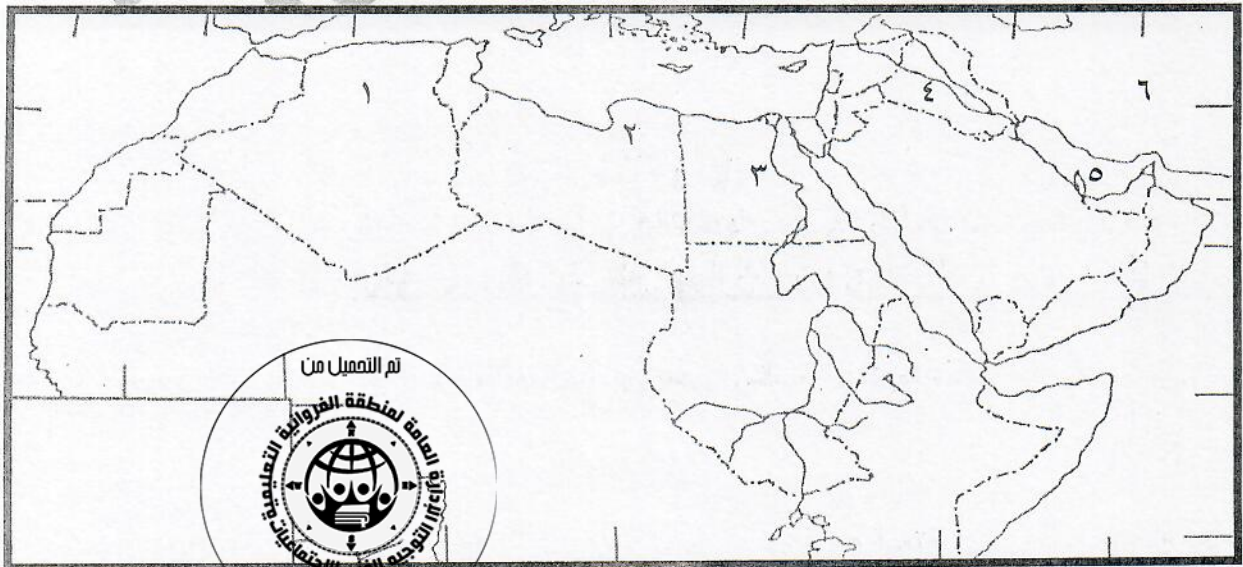
٣- تشرف على قناة السويس دولة تسمى : (السودان - مصر - الجزائر - المغرب) ص ٢٩

٤- أعلن قيام مجلس التعاون الخليجي في مدينة : (مسقط - المنامة - أبوظبي - الرياض) ص ١٨١

٥- انضمت دولة الكويت لجامعة الدول العربية عام : (١٩٦١م - ١٩٦٢م - ١٩٦٣م - ١٩٦٤م) ص ١٧٨

( د ) أمامك خريطة الوطن العربي نفذ المطلوب منها :

- هضبة الشطوط يمثلها على الخريطة الرقم ( ١ ) ص ٤٠
- سهول ليبيا يمثلها على الخريطة الرقم ( ٢ ) ص ٤٢
- أكثر الدول العربية سكانا في الجناح الآسيوي يمثلها على الخريطة الرقم ( ٤ ) ص ١٠٠
- الخليج العربي يمثلها على الخريطة الرقم ( ٥ ) ص ٢٨
- نهر النيل يمثلها على الخريطة الرقم ( ٣ ) ص ٥٨





## الإجابة النموذجية

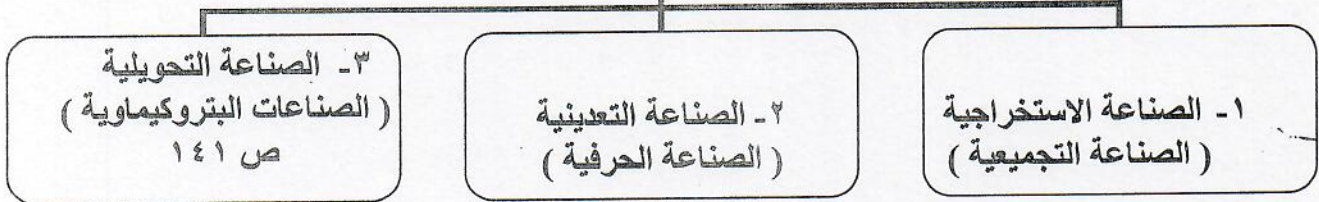
تابع/ إجابة امتحان منهج كامل الكويت والوطن العربي للصف السابع للعام الدراسي ٢٠١٧-٢٠١٨ م  
( هـ ) أكتب المفاهيم أو المصطلحات الدالة على العبارات التالية :

المفهوم	العبارات
الطاقة ص ١٢٥	قوى محركة للألات ، وعنصر مهم للتقدم والتطور الاقتصادي في جميع المجالات
الموارد الطبيعية ص ١٠٩	الثروات التي منحها الله لإقليم من دون أن يكون للإنسان أي دور في وجودها .
التصحّر ص ١٦٢	زحف رمال الصحراء على المناطق الجافة وشبه الجافة .
القناة ص ٢٨	مجرى مائي صناعي ضيق يشق لأغراض الري أو النقل .
الزيادة الطبيعية ص ١٠٦	الفرق بين معدل المواليد ومعدل الوفيات . تم التعميل من




( و ) أكمل المخططات السهمية التالية :

### أنواع الصناعة في الوطن العربي



### طرق انتقال الحضارة العربية الإسلامية إلى أوروبا





## الإجابة النموذجية

تابع/ إجابة امتحان منهج كامل الكويت والوطن العربي للصف السابع للعام الدراسي ٢٠١٧-٢٠١٨ م

السؤال الثاني : مقالي ويتكون من ( أ ، ب )

( أ ) علل لما يأتي ( أذكر السبب ) : ٦ درجات

١- تعد منطقة جنوب غرب شبه الجزيرة العربية من أكثر مناطق شبه الجزيرة العربية ملائمة لقيام الحضارة . ص ٨٥

أ- توافر المياه العذبة ب- المناخ المناسب لقيام الزراعة ج- الموقع الذي يسمح بقيام النشاط التجاري فيها .

٢- تتنوع الثروة المائية في الوطن العربي . ص ١٢٢

- لأن دول الوطن العربي دول بحرية لها سواحل ومسطحات مائية واسعة منها المالحة ومنها العذبة .

٣- اهتمام المصريين القدماء بتحنيط جثث موتاهم .

- أعتقد المصريون القدماء أن الحياة تعود إلى الجسم بعد الموت ، أي أنهم اعتقدوا في البعث والخلود ص ٧٦

٤ - يطلق على الغاز الطبيعي اسم الطاقة النظيفة . ص ١٣١

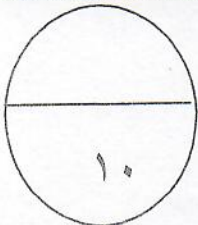
- إذ لا ينتج عن احتراقه ظهور الملوثات التي تنتج عن احتراق المنتجات النفطية .

٥- تعد حضارة ( دلمون ) مركزاً مهماً للمواصلات البحرية . ص ٨٨

- بحكم موقعها وسط الخليج العربي .

( ب ) قارن بين كل من : ص ١٣٤ ( ٤ درجات )

وجه المقارنة	منظمة الأوبك	منظمة الأوبك
سنة التأسيس درجة	١٩٦٠ م	١٩٦٨ م
المقر الحالي درجة	فيينا	الكويت
الأهداف درجتان	الحرص على استقرار أسعار النفط في الأسواق العالمية .	حاجة الدول العربية المنتجة للنفط إلى تعميق التعاون فيما بينها في مختلف أوجه النشاط الاقتصادي في صناعة النفط . تأمين وصول النفط إلى الأسواق الاستهلاكية بشروط وأسعار عادلة تسهم في تطوير الصناعات البترولية في جميع المجالات وتبادل الخبرات ولها علاقة تعاون مع منظمة الأوبك





## الإجابة النموذجية

تابع/ إجابة امتحان منهج كامل الكويت والوطن العربي للصف السابع للعام الدراسي ٢٠١٧-٢٠١٨ م

تم التمهيل من

السؤال الثالث : مقالتي ويتكون من ( أ ، ب )

( أ ) انظر إلى الصورة المقابلة ثم أجب عن الأسئلة التالية : ( ٥ درجات ص

١٦٦ و ١٦٧

١- عرف التلوث : هو الضرر الذي يلحق بالتربة والهواء والماء ، ويصيب التلوث عناصر البيئة من عدة ملوثات .

٢- أكتب نوع التلوث في الصورة التي أمامك .

- تلوث الهواء .

٣- ما أكثر الملوثات انتشاراً ؟

- التلوث الكيميائي . ( الغازات السامة )

٤- أذكر نوعين آخرين من انواع التلوث .

أ- تلوث التربة

ب- تلوث المياه

( ب ) عرف المفاهيم التالية : ٥ درجات

١. الموقع النسبي : موقع الدولة بالنسبة لليابسة والماء . ص ٣٣

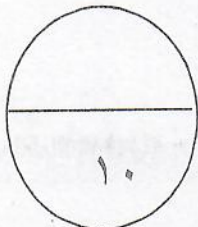
٢. الغاز الطبيعي : غاز مصاحب للنفط الخام ، أو يوجد منفرداً ، تتم إسالته لاستخدامات عديدة . ص ١٢٥

٣. الحضارة : كل ما يطرأ على المجتمع من تقدم وتطور ورقي في جميع نواحي الحياة الدينية والسياسية

والاقتصادية والاجتماعية والفكرية . ص ٧١

٤. التنمية المستدامة : هي عبارة عن برامج تحسين نوعية الحياة . ص ١٧٥

٥. الجبل : هو كل ما ارتفع من الأرض وله قمة لا يقل ارتفاعها عن ١٠٠٠ متر . ص ٣٨





## الإجابة النموذجية

تابع/ إجابة امتحان منهج كامل الكويت والوطن العربي للصف السابع للعام الدراسي ٢٠١٧-٢٠١٨ م

السؤال الرابع : مقالي ويتكون من ( أ ، ب )  
( أ ) فرق بين كل مما يلي :- ( ٤ درجات )

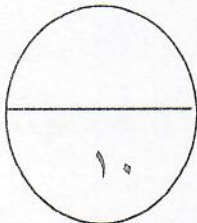
الهضبة	السهول
- أرض مرتفعة ، سطحها مستو ، وتمتد على مساحة كبيرة . ص ٤٠	مساحة كبيرة من سطح الأرض تتميز باستوائها ، وقلة ارتفاعها . ص ٤٢

المياه الجوفية	الأفلاج
- المياه التي توجد في جوف الأرض ( باطن الأرض ) . ص ٦٠	- الماء الجاري ( وهو مجرى صغير مائي في الأرض ) . ص ٦٠



( ب ) أذكر اثنين لكل مما يلي : ( ٦ درجات )

- العوامل الرئيسية المؤثرة في تنوع النبات الطبيعي في الوطن العربي . ص ٥١
  - نوع التربة : التربة هي التي تمد النبات بالغذاء وهي متنوعة .
  - المناخ : يؤثر في تنوع النبات نتيجة لاختلاف درجات الحرارة واختلاف كمية الأمطار ومواسمها .
- عوامل قيام الحضارة . ص ٧٣
  - الموقع الاستراتيجي
  - توافر مصادر المياه العذبة
  - اعتدال المناخ
  - توافر الثروات الطبيعية
  - توافر العنصر البشري
- المشكلات التي تواجه التنمية البشرية . ص ١٧٥
  - ضعف الاستفادة من القدرات البشرية في المنطقة العربية
  - مشكلة الأمية
  - نقص وحدودية مشاركة المرأة في المنظمات السياسية
  - الاختلاف الكبير في مستويات المعيشة بين دولة وأخرى ، وفي داخل الدولة الواحدة .



٦  
انتهت الاسئلة مع تمنياتنا لكم بالتوفيق ،،،