

اسم الطالب /
الصف:

الشعبة:

تم تجميع
الامتحانات ونماذج الإجابة
وأرسلتها إلكترونياً
من قبل الموجة الفنية
أ. حمد إبراهيم البصوه



وزارة التربية

مكتب الوكيل المساعد للتعليم العام
امتحان الفترة الدراسية الثانية
الصف الحادي عشر - الشلل الدماغي
العام الدراسي 2018 / 2019
التاريخ الإسلامي


رقم السؤال	الدرجة	توقيع المصحح
1		
2		
3		
4		
5		
6		
7		
8		
9		
10		
المجموع		



تم التعميل من

www.sskuwait.net

الدرجة بالحروف :





دولة الكويت
وزارة التربية
التوجيه الفني العام للاجتماعيات

امتحان الفترة الدراسية الثانية
للفص الحادي عشر / القسم الادبي
(مادة التاريخ الإسلامي - تربية خاصة / الشلل الدماغي)

العام الدراسي : ١٨٠٨ / ٢٠١٩ م



تعليمات هامة

- ١- ابدأ الامتحان بأسم الله .
- ٢- عدد اوراق الامتحان (٥) اوراق مختلفة .
- ٣- يتكون الامتحان من اربعة اسئلة جميعها اجبارية .
- ٤- زمن الامتحان ساعتان وربع .
- ٥- يمنع استخدام المزيل الابيض (الكوريكتر) .

مع تمنياتنا لكم بالنجاح والتوفيق



العام الدراسي : ٢٠١٨ / ٢٠١٩ م
زمن الامتحان : ساعتان وربع
عدد الاوراق : (٥)

امتحان الفترة الدراسية الثانية
لمادة التاريخ الإسلامي
الصف الحادي عشر - القسم الأدبي

دولة الكويت
وزارة التربية
التوجيه الفني العام للاجتماعيات



(التربية الخاصة / الشلل الدماغي)

أجب على جميع الأسئلة التالية

السؤال الأول : ويتكون من (أ - ب - ج)

أ- أكمل العبارات التالية بما يناسبها مستعيناً فيما بين القوسين بوضع الرقم :

(١- الأغالبة ٢- معاوية بن حديج ٣- بايزيد الأول ٤- ٢٧هـ ٥- ٣٨هـ ٦- القادر بالله)

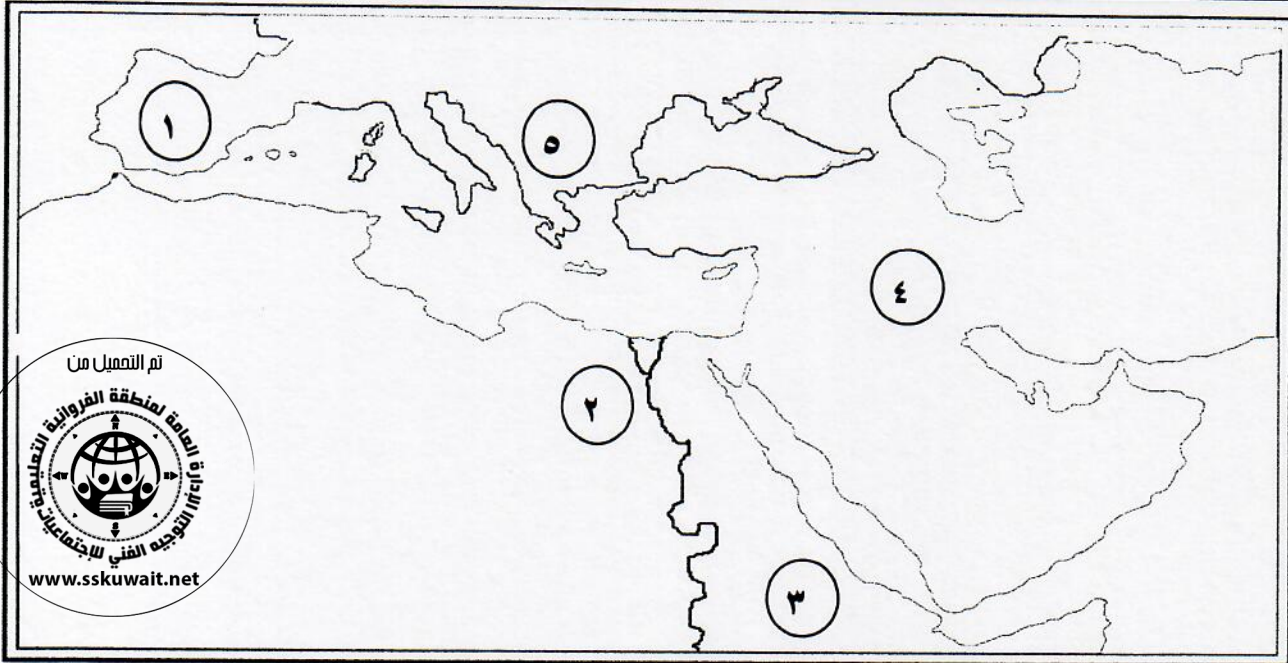
- ١- القائد الأموي الذي فتح مدينة قرطاجنة يسمى ()
- ٢- الدولة التي كانت تحكم تونس ونجح الفاطميون في القضاء عليها تسمى ()
- ٣- الخليفة العباسي الذي أعطي محمود الغزنوي لقب أمير الدولة وأمين الملة يسمى ()
- ٤- السلطان العثماني الذي نجح في ضم بلاد الأناضول لأول مرة تحت الحكم العثماني يسمى ()
- ٥- العام الذي استولى فيه المسلمون على أرض تونس

ب- ضع خطأً تحت الخيار الصحيح من بين الخيارات التي تلي كل عبارة :

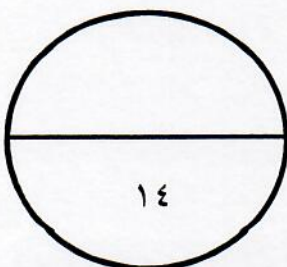
- ١- معركة خسرت بها البحرية العثمانية أكثر من نصف اسطولها عام ١٥٧١ م :
(نيكوبولس - فارنا - لبيانتة - انقرة)
- ٢- عاصمة القوط التي فتحها المسلمون في عام ٩٣هـ مدينة :
(طليطلة - غرناطة - قرطبة - اشبيلية)
- ٣- العام الذي سيطر فيه ألب أرسلان على أرمينيا :
(٤٥٦هـ - ٤٥٧هـ - ٤٥٨هـ - ٤٥٩هـ)
- ٤- أول معركة بحرية إسلامية دارت عام ٣٤هـ :
(صفين - النهروان - العبادلة - ذات الصواري)
- ٥- الدولة التي واجهت الصفويين في معركة جالديران :
(العباسية - العثمانية - الفاطمية - الاموية)

تابع / السؤال الأول:

ج - لاحظ الخريطة التالية ثم اكتب الرقم الدال على العبارات التى تليها :



- معبر من معابر الحضارة الاسلامية الى اوروبا يمثلها الرقم ()
- بلاد الحبشة يمثلها الرقم ()
- الدولة الفاطمية يمثلها الرقم ()
- موقع معركة القادسية يمثلها الرقم ()



السؤال الثانى : ويتكون من (أ - ب - ج)

أ - اختر للمجموعة (أ) ما يرتبط بها من المجموعة (ب) بوضع الرقم المناسب :

م	المجموعة (أ)	الرقم المناسب	المجموعة (ب)
١-	أسس مدينة تونس .	()	عبدالرحمن الغافقى
٢-	قاد حملة فتح بلاد غالة سنة ١١٤ هـ .	()	سليمان الأول
٣-	أسس مدينة القيروان سنة ٥٠ هـ .	()	عبيدالله المهدي
٤-	سلطان فتح مدينتي بلغراد وبودابست .	()	حسان بن النعمان
٥-	المؤسس الحقيقي للدولة الفاطمية .	()	عقبة بن نافع

ب - اكتب المفاهيم أو المصطلحات الدالة على العبارات التالية مستعينا بما بين القوسين بوضع الرقم :

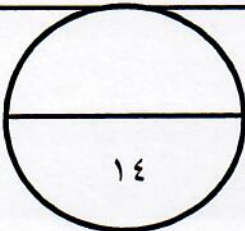
(١- الأغالبة ٢- بلاد المغرب عام الوراثة الصليبيون ٤- سياسة التتريك ٥- عام الجماعة)

- ١- () حدث إجتمعت فيه كلمة المسلمين على اختيار معاوية بن أبي سفيان خليفة للمسلمين.
- ٢- () فرض اللغة التركية تجلي كل الأقاليم في الدول العثمانية .
- ٣- () منطقة في شمال أفريقيا تمتد من ليبيا الحالية وحتى ساحل المحيط الأطلسي وكان يسكنها البربر .
- ٤- () أسرة حكمت أفريقيا الأدنى طوال القرن التاسع الميلادي .
- ٥- () مسيحيو أوروبا شنوا حملات ضد المسلمين أواخر القرن الحادى عشر إلى القرن الثالث عشر .

ج - صنف النتائج التالية بوضع الرقم المناسب في الجدول التالي :

- ١- هزيمة السلطان بايزيد .
- ٢- تأسيس دولة سلاجقة الروم .
- ٣- أبيد معظم الجيش البيزنطي .
- ٤- أسر السلطان بايزيد على يد تيمورلنك ووفاته .

معركة أنقرة	معركة ملاذكرد
()	()
()	()



السؤال الثالث : ويتكون من (أ - ب - ج) :

أ - ظلل الحرف (ص) إذا كانت العبارة صحيحة وظلل الحرف (خ) إذا كانت العبارة خاطئة فيما يلى :

م	العبارة	ص	خ
١-	الخليفة الأموي الذي أمر بضرب الدنانير والدرهم الإسلامية الوليد بن عبد الملك .		
٢-	مؤسس الدولة الاموية في الاندلس عبد الرحمن بن معاوية .		
٣-	عدد الخلفاء الذين تعاقبوا على الدولة الأموية خمس عشر .		
٤-	قتل ملك السند داهر في قرية قند .		
٥-	إتخذ المغول مدينة بوضة عاصمة لهم .		

ب - صحح ما تحته خط في العبارات التالية مستعينا فيما بين القوسين بوضع الرقم :

(١- جنكيز خان ٢- عثمان بن عفان ٣- ابو بكر الصديق ٤- العسس ٥- المتنبين ٦- المتحنفين)

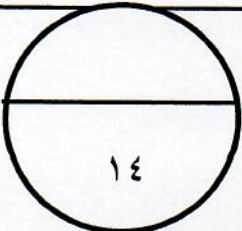
- ١- مجموعة من العرب سفهت عدنانة الاصنام واعتقدت بديانة سيدنا ابراهيم عرفوا بالصابئة ()
- ٢- الزعيم المغولي الذي وحد القبائل المغولية عرف باسم هولاكو ()
- ٣- الخليفة الذي تم في عهده بناء أول المنجول الإسلامى عمر بن عبدالعزيز ()
- ٤- الخليفة الذي واجه حركة الردة على بن ابي طالب ()
- ٥- رجال الشرطة الذين يحفظون الامن ليلا يطلق عليهم حراس المدينة ()

ج - فرق بين أعمال كل مما يلى مستعينا بالعبارات التالية بوضع الرقم :

١- امتد نفوذ الدولة العثمانية إلى أقصى اتساع لها . ٢- اتخذ من كاشغر قاعدة عسكرية له .

٣- فتح مدينة بيكند وتومشكت ووصل حتى سمر قند . ٤- حاصر مدينة فيينا عاصمة النمسا عام ٩٣٩ هـ .

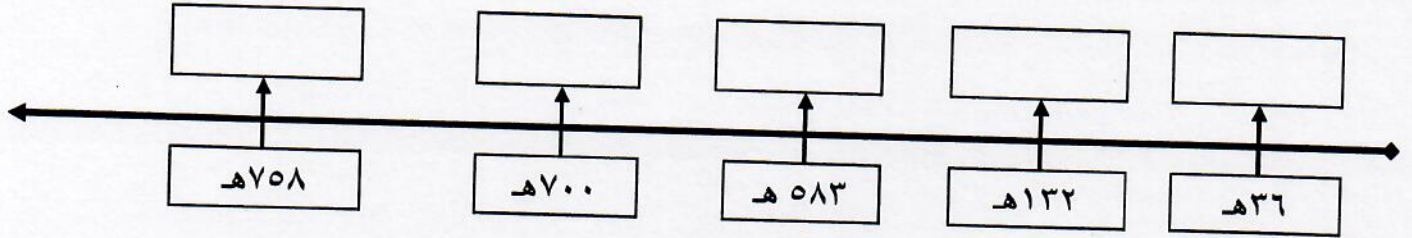
أعمال قتيبة بن مسلم	أعمال سليمان القانوني
()	()
()	()



السؤال الرابع : ويتكون من (أ - ب - ج) :

أ- رتب الأحداث التالية ترتيباً زمنياً من الأقدم إلى الأحداث بوضع الرقم فى المربع المناسب :

- (١- قيام الدولة العباسية ٢- موقعة الجمل ٣- نهاية الدولة السلجوقية ٤- فتح القسطنطينية ٥- معركة حطين)



ب - أكمل المخططات السهمية التالية بما يناسبها مستعيناً بما بين القوسين بوضع الرقم :

- (١- الجمود ٢- الانسانية ٣- التقدم ٤- التقليدية ٥- السلام)

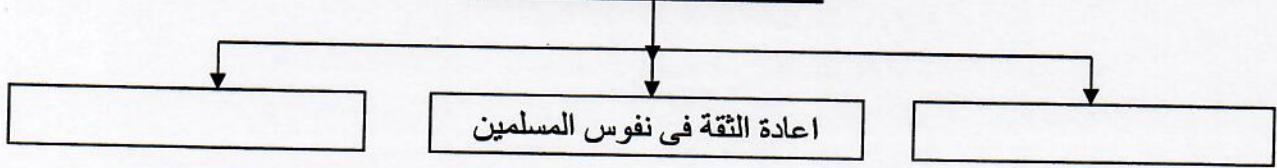
١- مميزات الحضارة الإسلامية . ص ١٤٢



٢- ارتفاع مكانة المماليك في العالم الاسلامي .

٤- إيقاف الزحف المغولي نحو أوروبا .

٢- نتائج معركة عين جالوت .



ج- فرق بين كل من مستعيناً بما بين القوسين بوضع الرقم فى الجدول التالى :

- (١- بقيادة ابي المهاجر دينار . ٢- بقيادة عقبة بن نافع الفهري .)
٣- انشاء قاعدة عربية إسلامية في أفريقيا . ٤- استطاع ان يستولي على مدينة تلمسان .)

المرحلة الثانية لفتح المغرب	المرحلة الثالثة لفتح المغرب
()	()
()	()

انتهت الأسئلة



دولة الكويت
وزارة التربية
التوجيه الفني العام للاجتماعيات

العام الدراسي : ٢٠١٨ / ٢٠١٩ م
زمن الامتحان : ساعتان وربع
عدد الاوراق : (٥)

امتحان الفترة الدراسية الثانية
لمادة التاريخ الإسلامي
الصف الحادي عشر - القسم الأدبي

(التربية الخاصة / الشلل الدماغي)

أجب على جميع الاسئلة التالية

السؤال الأول : ويتكون من (أ - ب - ج)

(٥ = ١ × ٥)


أ- أكمل العبارات التالية بما يناسبها مستعيناً فيما بين القوسين بوضع الرقم :

- (١- الأغالبة ٢- معاوية بن حديج ٣- بايزيد الاول ٤- ٢٧هـ ٥- ٣٨هـ ٦- القادر بالله)
- ١- القائد الأموي الذي فتح مدينة قرطاجنة يسمى (٢) ص ٩٤
- ٢- الدولة التي كانت تحكم تونس ونجح الفاطميون في القضاء عليها تسمى (١) ص ١١٢
- ٣- الخليفة العباسي الذي أعطي محمود الغزنوي لقب يمين الدولة وأمين الملة يسمى (٦) ص ١١٠
- ٤- السلطان العثماني الذي نجح في ضم بلاد الاناضول لأول مرة تحت الحكم العثماني يسمى (٣) ص ١٣٢
- ٥- العام الذي استولى فيه المسلمون على أرض تونس (٤) ص ٨٣

(٥ = ١ × ٥)

ب- ضع خطأً تحت الخيار الصحيح من بين الخيارات التي تلي كل عبارة :

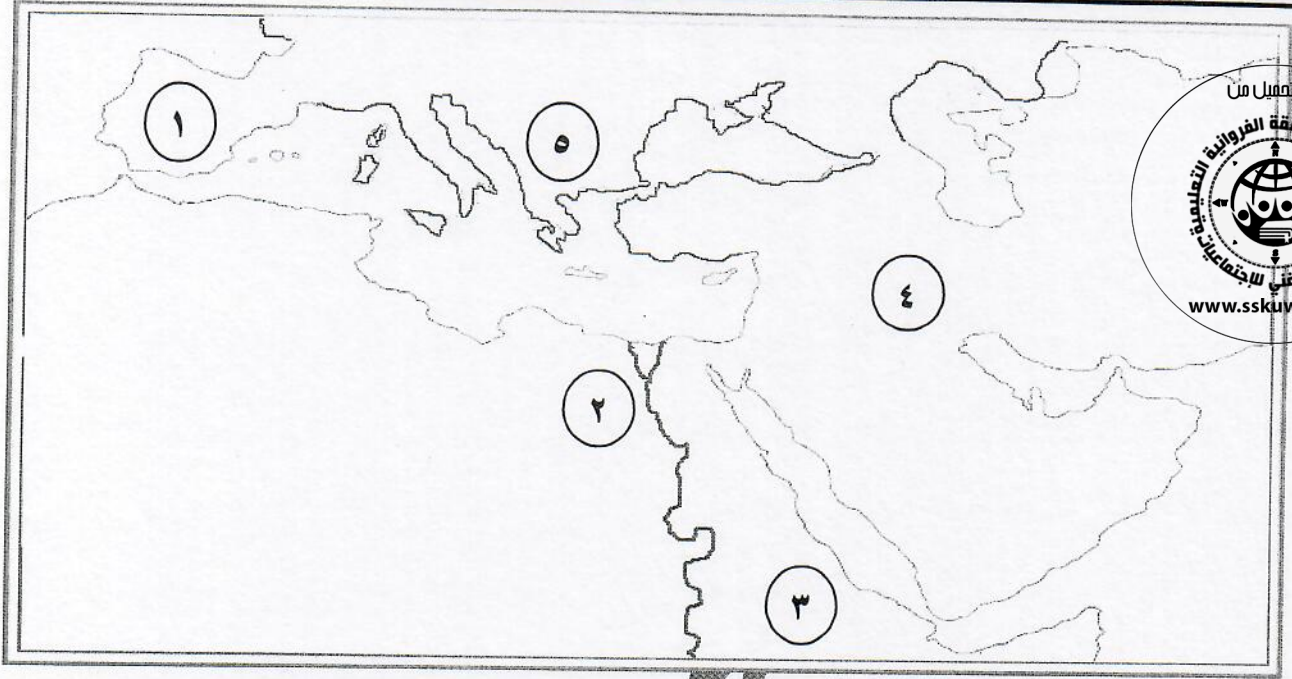
- ١- معركة خسرت بها البحرية العثمانية أكثر من نصف اسطولها عام (١٥٧١ م : ص ١٣٦)
- (نيكوبولس - فارنا - ليبانتة - انقرة)
- ٢- عاصمة القوط التي فتحها المسلمون في عام ٩٣هـ مدينة : ص ٩٧
- (طليطلة - غرناطة - قرطبة - اشبيلية)
- ٣- العام الذي سيطر فيه ألب أرسلان على أرمينيا : ص ١٢٦
- (٤٥٦هـ - ٤٥٧هـ - ٤٥٨هـ - ٤٥٩هـ)
- ٤- أول معركة بحرية إسلامية دارت عام ٣٤هـ : ص ٨٣
- (صفين - النهروان - العبادلة - ذات الصواري)
- ٥- الدولة التي واجهت الصفويين في معركة جالديران : ص ١٣٥
- (العباسية - العثمانية - الفاطمية - الاموية)



تابع / السؤال الأول:

(٤ = ١ × ٤)

ج - لاحظ الخريطة التالية ثم اكتب الرقم الدال على العبارات التى تليها :



- معبر من معابر الحضارة الاسلامية الى أوروبا يمثلته الرقم (١) ص ١٥٣
- بلاد الحبشة يمثلها الرقم (٣) ص ٢٩
- الدولة الفاطمية يمثلها الرقم (٢) ص ١١٣
- موقع معركة القادسية يمثلته الرقم (٤) ص ٧١

اجابة

السؤال الثانى : ويتكون من (أ - ب - ج)

أ - اختر للمجموعة (أ) ما يرتبط بها من المجموعة (ب) بوضع الرقم المناسب : (٥ = ١ × ٥)

م	المجموعة (أ)	الرقم المناسب	المجموعة (ب)
١-	أسس مدينة تونس . ص ٩٥	(٢)	عبدالرحمن الغافقى
٢-	قاد حملة فتح بلاد غالة سنة ١١٤ هـ . ص ٩٨	(٤)	سليمان الأول
٣-	أسس مدينة القيروان سنة ٥٥٠ هـ . ص ٩٤	(٥)	عبيدالله المهدي
٤-	سلطان فتح مدينتي بلغراد وبودابست . ص ١٣٦	(١)	حسان بن النعمان
٥-	المؤسس الحقيقي للدولة الفاطمية . ص ١١٢	(٣)	عقبة بن نافع

ب - اكتب المفاهيم أو المصطلحات الدالة على العبارات التالية مستعينا بما بين القوسين بوضع الرقم :

(١ - الأغالبة ٢ - بلاد المغرب ٣ - الصليبيون ٤ - سياسة التتريك ٥ - عام الجماعة) (٥ = ١ × ٥)

- ١- (٥) حدث إجتمعت فيه كلمة المسلمين على إختيار معاوية بن أبي سفيان خليفة للمسلمين . ص ٩١
- ٢- (٤) فرض اللغة التركية على كل الأقليات في الدول العثمانية . ص ١٣٨
- ٣- (٢) منطقة في شمال أفريقيا تمتد من ليبيا الحالية وحتى ساحل المحيط الأطلسي وكان يسكنها البربر . ص ٩٤
- ٤- (١) أسرة حكمت أفريقية الأدنى طوال القرن التاسع الميلادي . ص ١١٢
- ٥- (٣) مسيحيو أوروبا شنوا حملات ضد المسلمين أواخر القرن الحادى عشر إلى القرن الثالث عشر . ص ١١٧

ج - صنف النتائج التالية بوضع الرقم المناسب فى الجدول التالى : (٤ = ١ × ٤)

١- هزيمة السلطان بايزيد . ٢- تأسيس دولة سلاجقة الروم .

٣- أبيد معظم الجيش البيزنطي . ٤- أسر السلطان بايزيد على يد تيمورلنك ووفاته .

معركة ملاذكرد ص ١٢٧	معركة أنقرة ص ١٣٢
(٢)	(١)
(٣)	(٤)



www.sskuwat.net



السؤال الثالث : ويتكون من (أ - ب - ج) :

أ - ظلل الحرف (ص) إذا كانت العبارة صحيحة وظلل الحرف (خ) إذا كانت العبارة خاطئة فيما يلى :

(٥ = ١ × ٥)

م	العبارة	ص	خ
١-	الخليفة الأموي الذي أمر بضرب الدنانير والدرهم الإسلامية الوليد بن عبد الملك . ص ١٤٧		
٢-	مؤسس الدولة الأموية في الاندلس عبد الرحمن بن معاوية . ص ١٠٧		
٣-	عدد الخلفاء الذين تعاقبوا على الدولة الأموية خمس عشر . ص ٩٢		
٤-	قتل ملك السند داهر في قرية قند . ص ٩٣		
٥-	إتخذ المغول مدينة بوضة عاصمة لهم . ص ١٢١		

ب - صحح ما تحته خط فى العبارات التالية مستعينا فيما بين القوسين بوضع الرقم :

(٥ = ١ × ٥)

(١ - جنكيز خان ٢ - عثمان بن عفان ٣ - ابو بكر الصديق ٤ - العسس ٥ - المتنبين ٦ - المتحنفين)

- ١ - مجموعة من العرب سفهت عبادة الاصنام واعتنقت ديانة سيدنا ابراهيم عرفوا بالصائبة (٦) ص ١٩
- ٢ - الزعيم المغولي الذي وحد القبائل المغولية عرف باسم هولاكو (١) ص ١٢١
- ٣ - الخليفة الذي تم في عهده بناء أول اسطول إسلامي عمر بن عبدالعزيز (٢) ص ٨٣
- ٤ - الخليفة الذي واجه حركة الردة على بن ابي طالب (٣) ص ٥٩
- ٥ - رجال الشرطة الذين يحفظون الامن ليلا يطلق عليهم حراس المدينة (٤) ص ١٤٥

ج - فرق بين أعمال كل مما يلى مستعينا بالعبارات التالية بوضع الرقم :

(٤ = ١ × ٤)

١ - امتد نفوذ الدولة العثمانية إلى أقصى اتساع لها . ٢ - اتخذ من كاشغر قاعدة عسكرية له .

٣ - فتح مدينة بيكند وتومشكت ووصل حتى سمر قند . ٤ - حاصر مدينة فيينا عاصمة النمسا عام ١٥٢٩ م .

أعمال قتيبة بن مسلم ص ٩٣	أعمال سليمان القانوني ص ١٣٦
(٢)	(١)
(٣)	(٤)

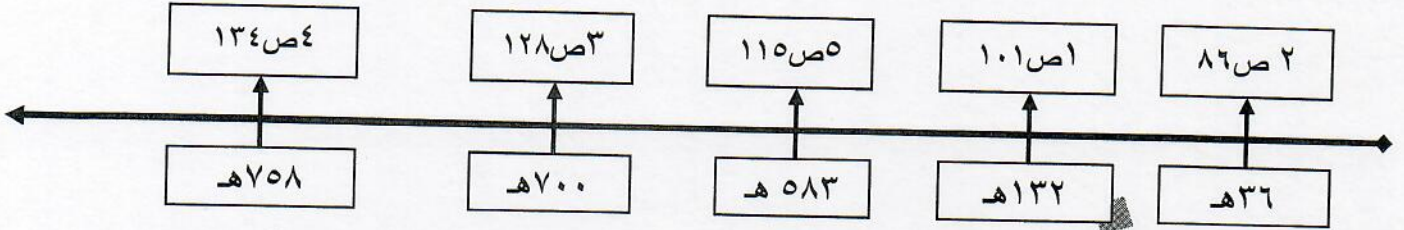


www.sskuwait.net




السؤال الرابع : ويتكون من (أ - ب - ج) :

أ- رتب الأحداث التالية ترتيباً زمنياً من الأقدم إلى الأحداث بوضع الرقم فى المربع المناسب : (٥ = ١ × ٥)
 (١- قيام الدولة العباسية ٢- موقعة الجمل ٣- نهاية الدولة السلجوقية ٤- فتح القسطنطينية ٥- معركة حطين)



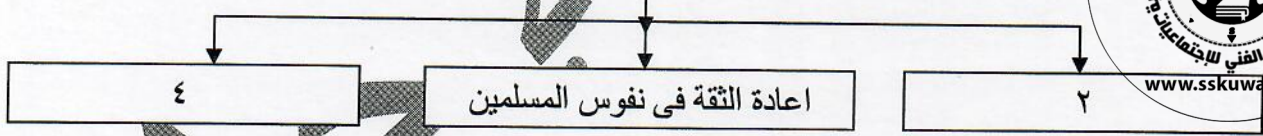
ب - أكمل المخططات السهمية التالية بما يناسبها مستعيناً بما بين القوسين بوضع الرقم : (٥ = ١ × ٥)

(١- الحمود ٢- الانسانية ٣- التقدم ٤- التقليدية ٥- السلام)
 ١- مميزات الحضارة الاسلامية . ص ١٤٢



(١- فتح مدينة بلجراد .
 ٢- إرتفاع مكانة المماليك فى العالم الاسلامي .
 ٣- استرداد بيت المقدس .
 ٤- إيقاف الزحف المغولي نحو أوروبا .)

٢- نتائج معركة عين جالوت . ص ١٢٤



ج- فرق بين كل من مستعيناً بما بين القوسين بوضع الرقم فى الجدول التالى : (٤ = ١ × ٤)

(١- بقيادة ابي المهاجر دينار .
 ٢- بقيادة عقبة بن نافع الفهري .
 ٣- انشاء قاعدة عربية إسلامية فى أفريقيا .
 ٤- استطاع ان يستولي على مدينة تلمسان .)

المرحلة الثانية لفتح المغرب ص ٩٤	المرحلة الثالثة لفتح المغرب ص ٩٥
(٢)	(١)
(٣)	(٤)

انتهت الاجابة

