

تم تجميع
الامتحانات ونماذج الإجابة
وأرشفتها إلكترونياً
من قبل الموجه الفني
أ. حمد إبراهيم البحوه

أجب عن أربعة أسئلة مما يلي على أن يكون السؤال الأول من بينها إجبارياً:-

السؤال الأول (إجباري) ويتكون من (أ - ب - ج - د):-

(أ) أكمل العبارات التالية بما يناسبها فيما درست:-

١- الحصن الذي يحتفل الفرنسيين بسقوطه في ١٤ يوليو من كل عام اسمه.....

٢- المفكر الإنجليزي الذي وضع نظرية (السيادة الشعبية) اسمه.....

٣- الدولة التي تبنت الرحالة كريستوفر كولومبس اسمها.....

٤- العام الذي سقطت فيه روما عاصمة الإمبراطورية الرومانية.....م

٥- عرفت القرارات التي اتخذها البرلمان الإنجليزي لمعاقبة ميناء بوسطن باسم.....

٦- الكتاب الذي ألفه نيقولا مكيافيلي اسمه.....

(ب) ضع الدول التالية أسماؤها كلا في مكانه حسب الجدول التالي:-

(اليابان - الاتحاد السوفيتي - إيطاليا - الولايات المتحدة - بريطانيا)

دول المحور في الحرب العالمية الثانية	دول الحلفاء في الحرب العالمية الثانية
.....
.....
.....

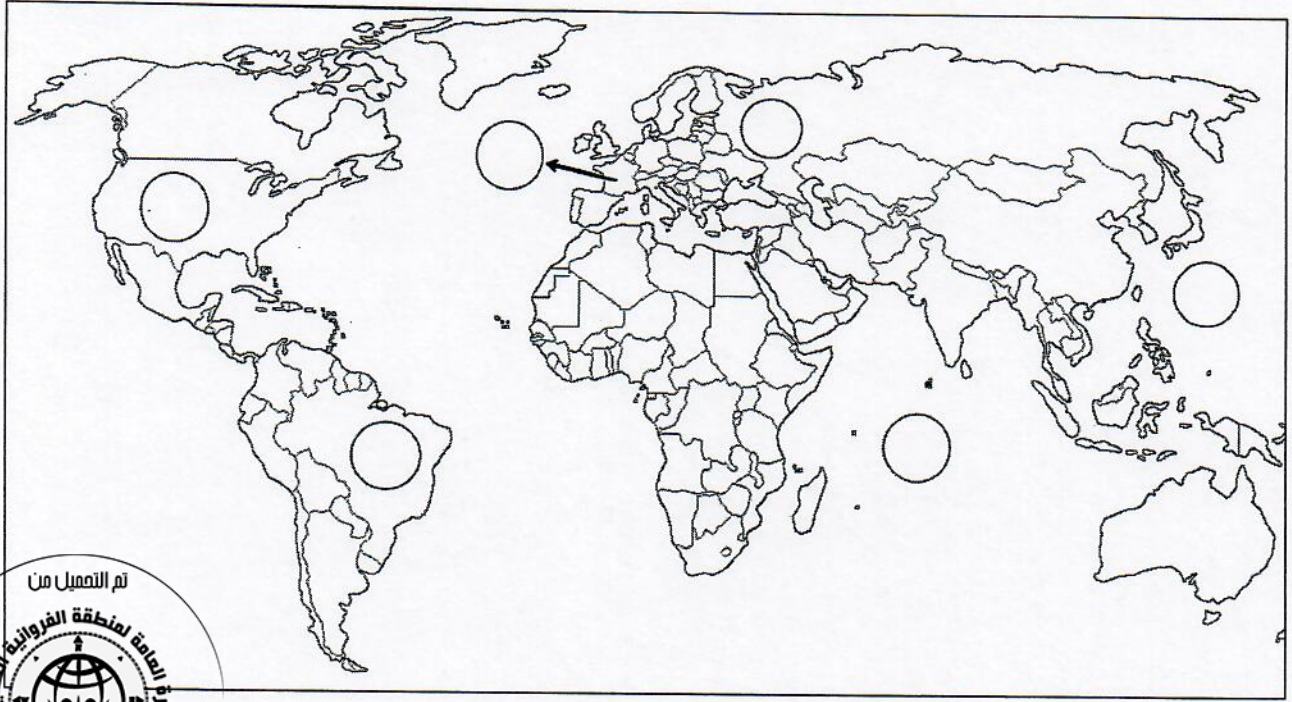
تم التمهيل من

(ج) اختر من المجموعة (ب) ما يناسبها من المجموعة (أ) بوضع الرقم المناسب:-

م	(أ)	الرقم المناسب	(ب)
١	امريكو فيزبوتشي		وصل إلى رأس الرجاء الصالح
٢	بارثلميو دياز		اكتشف مضيق هُسن
٣	جاك كارتية		تمكن من الوصول إلى ساحل المكسيك
٤	مارتن فروبشير		اكتشف قارة أنتاركتيكا
			أسس مدينة كويبك

تابع السؤال الأول (إجباري) :-

(د) امامك خريطة العالم الصماء، اكتب الرقم الدال على العبارات التالية في الدائرة المناسبة لها:-

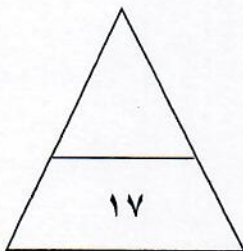


١- دولة استعمارية احتلت الجزائر عام ١٨٣٠م.

٢- إمبراطورية استعمارية اشتهرت بتجارة الفراء.

٣- مسطح مائي شكل جبهة للصراع الياباني الأمريكي في الحرب العالمية الثانية.

٤- دولة تم إعلان استقلالها في ٤ يوليو عام ١٧٧٦م.



السؤال الثاني (اختياري) ويتكون من (أ - ب - ج) :-

أ) فسر كلا مما يلي :-

١- البرتغال أول دولة أوروبية قامت بحركة الكشوف الجغرافية.

.....
.....

٢- دخول الولايات المتحدة الأمريكية بجانب الحلفاء في الحرب العالمية الأولى عام ١٩١٧م.

.....

ب) فرق بين كل مما يلي:-

مجلس الشيوخ الفرنسي	مجلس الخمسمائة الفرنسي
.....
.....
الانتداب	الوصاية
.....
.....



ج) اضرب مثالين لكل من:-

١- المجالس النيابية الإنجليزية.

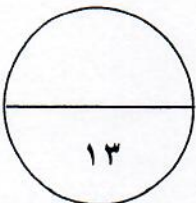
.....
.....

٢- الوكالات العالمية المتخصصة.

.....
.....

٣- مكتشفي القطب الشمالي.

.....
.....



السؤال الثالث (اختياري) ويتكون من (أ - ب - ج) :-

أ) اقرأ الفقرة التالية ثم نفذ المطلوب :-

" في عام ١٩٢٢م تمكن موسوليني زعيم الحركة الفاشية في إيطاليا من الوصول إلى الحكم مستغلا عجز الحكومات الضعيفة السابقة في معالجة آثار الأزمة الاقتصادية بعد الحرب العالمية الأولى وظهور الحركات الثورية التي تأثرت بالحركة الشيوعية في روسيا وشجعت العمال في محاولة الاستيلاء على السلطة."

١- عرف ما تحته خط.
الفاشية:

٢- استخرج أسباب نجاح الحركة الفاشية في الوصول للحكم بإيطاليا.

ب) فند العبارات التالية :-

١- عاشت الطبقة العامة في فرنسا برخاء قبل الثورة.

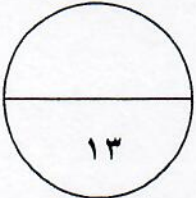
٢- لم يعد اختراع أحرف الطباعة المعدنية بأية فوائد علمية.

ج) اكتب النتائج المترتبة على الأحداث التالية:-

١- معركة فالمي.

٢- الحرب العالمية الأولى.

٣- الثورة الصناعية سياسياً.



السؤال الرابع (اختياري) ويتكون من (أ - ب - ج) :-

أ) ماذا يحدث لو لم:-

١- يعقد مؤتمر الكونجرس الثاني عام ١٧٧٥م..

٢- تشترك ماري انطوانيت زوجة الملك الفرنسي لويس السادس عشر في المؤامرات التي تعين وتعزل الوزراء.

٣- يصل ماجلان إلى جزر الفلبين .

ب) قارن بين كل من:-

أوجه المقارنة	الدينمو	المصباح الكهربائي
المخترع	-	-
أثر الاختراع	-	-

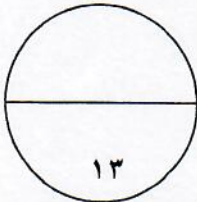


ج) نفذ المطلوب منك ما بين الأقواس:-

١- حركة الإصلاح الديني. (الأسباب)

٢- وثيقة إعلان حقوق الانسان المواطن الفرنسية. (البنود)

٣- السياسة التي تبناها الملك الإنجليزي جيمس الثاني. (العناصر)



السؤال الخامس (اختياري) ويتكون من (أ - ب - ج) :-

أ) عرف المفاهيم التالية :-

- ١- قانون التمغة :
- ٢- العلاقات الدولية :
- ٣- الثورة الصناعية :



ب) علل لما يلي :-

- ١- انهيار الإمبراطورية الهولندية .

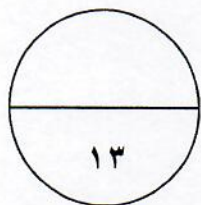
- ٢- قيام الثورة الأمريكية.

ج) دلل على صدق العبارات التالية :-

- ١- للاستعمار آثار إيجابية على المستعمرات .

- ٢- تضمنت معاهدة صلح فرساي عام ١٩١٩م شروطاً قاسية على ألمانيا.

- ٣- عدم التزام الدول الكبرى بميثاق عصبة الأمم.



(انتهت الاسئلة)
مع تمنياتنا بالنجاح والتوفيق



نموذج الإجابة

الدور الثاني
المنهج الكامل



العام الدراسي: 2017 / 2018 م

(نموذج الإجابة)

العام الدراسي ٢٠١٧/٢٠١٨ م
الزمن: ساعتان وربع
عدد الأوراق: ٦

امتحان الدور الثاني (المنهج الكامل)
للفصل الثاني عشر أدبي
لمادة تاريخ العالم الحديث والمعاصر

وزارة التربية
التوجيه الفني العام للاجتماعيات

أجب عن أربعة أسئلة مما يلي على أن يكون السؤال الأول من بينها إجبارياً:-

السؤال الأول (إجباري) ويتكون من (أ - ب - ج - د):-

(أ) أكمل العبارات التالية بما يناسبها فيما درست :- (٦ درجات) (كل نقطة بدرجة)

١- الحصن الذي يحتفل الفرنسيين بسقوطه في ١٤ يوليو من كل عام اسمه الباستيل (ص ٨٨)

٢- المفكر الإنجليزي الذي وضع نظرية (السيادة الشعبية) اسمه جون لوك (ص ٧٦)

٣- الدولة التي تبنت الرحالة كريستوفر كولومبس اسمها أسبانيا (ص ٣١)

٤- العام الذي سقطت فيه روما عاصمة الإمبراطورية الرومانية ٤٧٦ م (ص ١١)

٥- عرفت القرارات التي اتخذها البرلمان الإنجليزي لمعاقبة ميناء بوسطن باسم القوانين الجائرة (ص ٧٩)

٦- الكتاب الذي ألفه نيقولا ماركيافيللي اسمه الأمير (ص ٢١)

(ب) ضع الدول التالية أسماؤها كلا في مكانه حسب الجدول التالي:- (خمس درجات) (كل نقطة بدرجة)

(اليابان - الاتحاد السوفيتي - إيطاليا - الولايات المتحدة - بريطانيا)
(ص ١١٠)

دول المحور في الحرب العالمية الثانية	دول الحلفاء في الحرب العالمية الثانية
- اليابان - إيطاليا -	- الاتحاد السوفيتي - الولايات المتحدة - بريطانيا

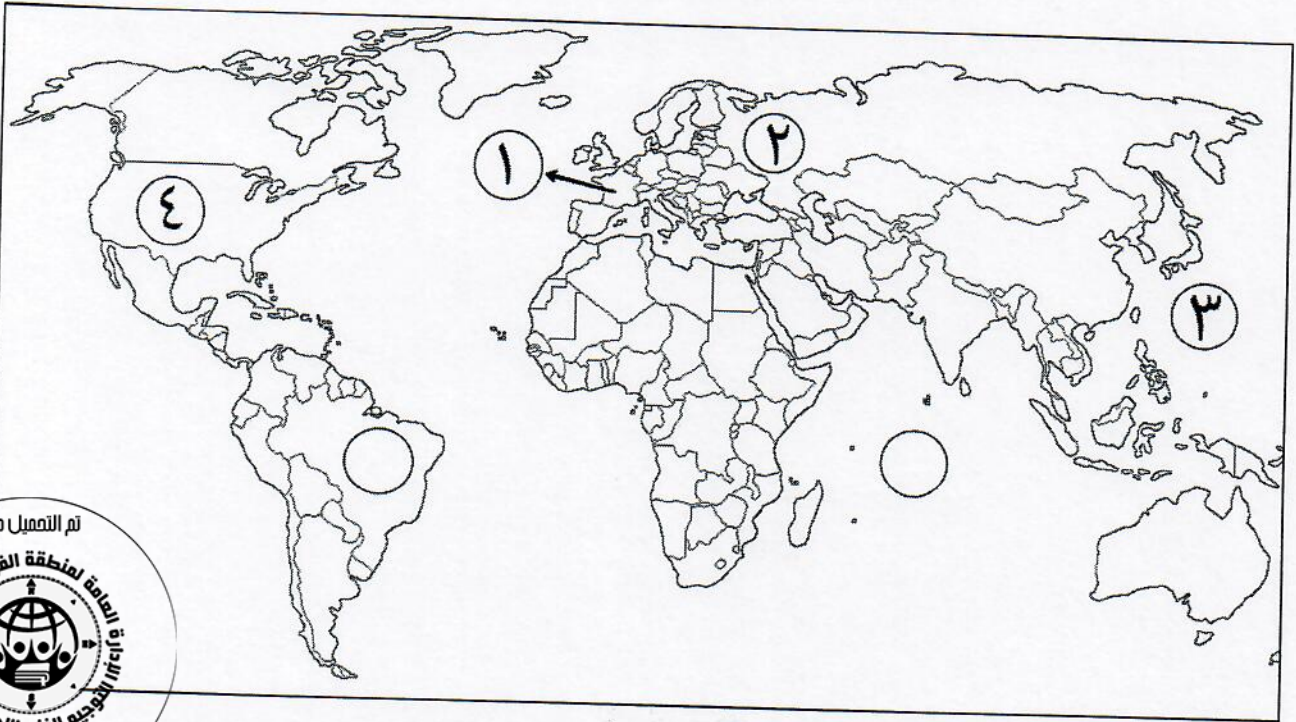
(ج) اختر من المجموعة (ب) ما يناسبها من المجموعة (أ) بوضع الرقم المناسب:- (٤ درجات)

(كل نقطة بدرجة)

م	(أ)	الرقم المناسب	(ب)
١	امريكو فيزبوتشي	٢	وصل إلى رأس الرجاء الصالح (ص ٢٨)
٢	بارثلميو دياز	٤	اكتشف مضيق هُسن (ص ٣٧)
٣	جاك كارتية	١	تمكن من الوصول إلى ساحل المكسيك (ص ٣٤)
٤	مارتن فروبشير		اكتشف قارة أنتاركتيكا
		٣	أسس مدينة كويبك (ص ٤٠)

تابع السؤال الأول (إجباري) :-

(د) امامك خريطة العالم الصماء، اكتب الرقم الدال على العبارات التالية في الدائرة المناسبة لها:-
(درجتان) (كل نقطة بنصف درجة)



١- دولة استعمارية احتلت الجزائر عام ١٨٣٠م. (ص ٥١)

٢- إمبراطورية استعمارية اشتهرت بتجارة الفراء. (ص ٥٦)

٣- مسطح مائي شكل جبهة للصراع الياباني الأمريكي في الحرب العالمية الثانية. (ص ١١١)

٤- دولة تم إعلان استقلالها في ٤ يوليو عام ١٧٧٦م. (ص ٨١)

السؤال الثاني (اختياري) ويتكون من (أ - ب - ج) :-

(أ) فسر كلا مما يلي :-

- ١- البرتغال أول دولة أوروبية قامت بحركة الكشف الجغرافية. (درجتان) (ص ٢٧)
- توافر الأدوات اللازمة من علم وخبرة وسفن متطورة.
- استقرار الوضع في بلادهم لذلك وجهوا اهتمامهم لاكتشاف طريق جديد خارج نطاق البحر المتوسط.
- ٢- دخول الولايات المتحدة الأمريكية بجانب الحلفاء في الحرب العالمية الأولى عام ١٩١٧م. (درجة) (ص ١٠٠)
- بسبب مهاجمة الغواصات الألمانية للسفن التجارية الأمريكية

(ب) فرق بين كل مما يلي:- (٤ درجات)

مجلس الشيوخ الفرنسي (ص ٩٢)	مجلس الخمسمائة الفرنسي (ص ٩٢)
يتكون من ٢٥٠ عضواً ويقوم بمراجعة القوانين التي قدمها مجلس الخمسمائة	يحدد ثلث أعضاء هذا المجلس كل سنة وله الحق في إصدار القوانين
الانتداب (ص ٥١)	الوصاية (ص ٥١)
ظهر إثر انتهاء الحرب العالمية الأولى عام ١٩١٩م حيث انتدبت الدول المنتصرة لإدارة شؤون الأقطار التي تحكمها الدولة العثمانية أو ألمانيا لهزيمتها بالحرب بحجة الأخذ بيدها نحو التطور والاستقلال	ظهر في أعقاب الحرب العالمية الثانية عام ١٩٤٥م فقد وضعت المناطق التي كانت تحت النفوذ الألماني والإيطالي والياباني تحت وصاية دولة من اختيار الأمم المتحدة

تم التعميل من

(ج) اضرب مثالين لكل من:-

- ١- المجالس النيابية الإنجليزية. (درجتان) (ص ٧٥)
- مجلس اللوردات
- مجلس العموم
- ٢- الوكالات العالمية المتخصصة. (درجتان) (ص ١١٨) (يكتفى باثنتين)
- البنك الدولي للتنمية والتعمير (IBRD)
- منظمة التربية والعلوم والثقافة اليونسكو (UNESCO)
- منظمة الصحة الدولية (WHO)
- منظمة التغذية والزراعة الفاو (FAO)
- منظمة العمل الدولية (ILO)
- ٣- مكتشفي القطب الشمالي. (درجتان) (ص ٤٢) (يكتفى باثنان)
- صمويل هيرن
- ألكسندر ماكينزي
- جون فرانكلين
- روبرت ماكلور
- رونالد أموندسن
- روبرت بيرري



السؤال الثالث (اختياري) ويتكون من (أ - ب - ج) :-

(أ) اقرأ الفقرة التالية ثم نفذ المطلوب :-

" في عام ١٩٢٢م تمكن موسوليني زعيم الحركة الفاشية في إيطاليا من الوصول إلى الحكم مستغلا عجز الحكومات الضعيفة السابقة في معالجة آثار الأزمة الاقتصادية بعد الحرب العالمية الأولى وظهور الحركات الثورية التي تأثرت بالحركة الشيوعية في روسيا وشجعت العمال في محاولة الاستيلاء على السلطة. " (ص ١٠٨)

١- عرف ما تحته خط. (درجة)
الفاشية: حركة يمينية دكتاتورية متطرفة تؤمن بتفوق العنصر الروماني

٢- استخرج أسباب نجاح الحركة الفاشية في الوصول للحكم بإيطاليا. (درجتان)
- عجز الحكومات الضعيفة السابقة في معالجة آثار الأزمة الاقتصادية بعد الحرب العالمية الأولى
- ظهور الحركات الثورية التي تأثرت بالحركة الشيوعية في روسيا وشجعت العمال في محاولة الاستيلاء على السلطة



(ب) فند العبارات التالية :-

١- عاشت الطبقة العامة في فرنسا برقاء قبل الثورة. (درجتان) (ص ٨٥) (يكتفى بنقطتين)

بل على العكس حيث عاشت في شقاء وبؤس شديدين لأنها:

- عانت من جميع أنواع الظلم والاستعباد
- فرضت عليها جميع أنواع الضرائب
- استبعدت من جميع الوظائف العليا بالدولة

٢- لم يعد اختراع أحرف الطباعة المعدنية بأية فوائد علمية. (درجتان) (ص ١٥)

بل على العكس حيث أدى إلى:

- سهولة طباعة الكتب وتداولها
- ساهم في نشر جهود العلماء

(ج) اكتب النتائج المترتبة على الأحداث التالية :-

١- معركة فالمي. (درجتان) (ص ٩٠) (يكتفى بنقطتين)

- أنقذت أفكار الثورة الفرنسية من الضياع

- رفعت الروح المعنوية للفرنسيين

- تحول جيش الثورة من الدفاع إلى الهجوم وأصبح مصدر رعب للدول الأوروبية

٢- الحرب العالمية الأولى. (درجتان) (ص ١٠٢) (يكتفى بنقطتين)

- تركت الحرب دمارا هائلا

- تسببت في خسائر مادية وبشرية فسقط ملايين الجرحى والقتلى

- الركود الاقتصادي العالمي

٣- الثورة الصناعية سياسيا. (درجتان) (ص ٦٩) (يكتفى بنقطتين)

- سيطرة الطبقة الرأسمالية على مقاليد السلطة السياسية في أوروبا.

- التسابق الاستعماري حول المستعمرات لجلب المواد الخام منها وجعلها أسواقا للإنتاج الصناعي

- ظهور الأحزاب السياسية المدافعة عن حقوق العمال



السؤال الرابع (اختياري) ويتكون من (أ - ب - ج) :-

(أ) ماذا يحدث لو لم:-

- ١- يعقد مؤتمر الكونجرس الثاني عام ١٧٧٥م. (درجة) (ص ٨٠) (يكتفى بنقطة)
- لما اعتبر جيش بوسطن جيشاً أمريكياً يخص كل المستعمرات
- لما تم تعيين جورج واشنطن قائداً لهذا الجيش (أو ما يراه المصحح مناسباً)

- ٢- تشترك ماري انطوانيت زوجة الملك الفرنسي لويس السادس عشر في المؤامرات التي تعين وتعزل الوزراء. (درجة)
- لما ضعفت المكانة الشعبية للملك. (ص ٨٤) (أو ما يراه المصحح مناسباً)

٣- يصل ماجلان إلى جزر الفلبين. (درجة) (ص ٣٥) (يكتفى بنقطة)

- لما قتل هناك
- لما تولى جون سباستيان ديكانو قيادة الرحلة
- لما تم إثبات كروية الأرض (أو ما يراه المصحح مناسباً)

(ب) قارن بين كل من:- (٤ درجات) (كل نقطة بدرجة) (ص ٦٧)

أوجه المقارنة	الدينمو	المصباح الكهربائي
المخترع	مايكل فارادي	توماس أديسون
أثر الاختراع	استخدام الطاقة الميكانيكية لتوليد طاقة كهربائية	استخدام الكهرباء في الإضاءة

(ج) نفذ المطلوب منك ما بين الأقواس:-

(الأسباب)



- ١- حركة الإصلاح الديني. (درجتان) (ص ٢٠) (يكتفى بنقطتين)
- جهود الحركة الإنسانية في التنبيه لأهمية إصلاح الكنيسة
- الرغبة في تحرير حركة التقدم العلمي من قيود الكنيسة
- اهتمام أوروبا بجوانب الحياة الدنيوية
- ظهور كثير من المصلحين الذين نادوا بتخليص الكنيسة من مفسدها

- ٢- وثيقة إعلان حقوق الإنسان والمواطن الفرنسية. (درجتان) (ص ٨٨) (يكتفى بنقطتين) (البند)
- يولد الناس أحراراً متساوين في الحقوق والواجبات
- إن هدف الحكومة هو الحفاظ على الحقوق الأساسية للشعب (الحرية/الملكية/الشعور بالأمن/مقاومة الظلم)
- الأمة هي صاحبة السيادة - لا عقوبة بدون قانون - المتهم بريء حتى تثبت إدانته
- الجيش في خدمة الشعب والدفاع عنه لا لخدمة الملك وأغراضه الخاصة

- ٣- السياسة التي تبناها الملك الإنجليزي جيمس الثاني. (درجتان) (ص ٧٣) (يكتفى بنقطتين) (العناصر)
- الكاثوليكية
- الحكم المطلق
- التعاون مع ملك فرنسا لويس الرابع عشر

السؤال الخامس (اختياري) ويتكون من (أ - ب - ج) :-

(أ) عرف المفاهيم التالية :- (٣ درجات) (كل نقطة بدرجة)

- ١- قانون التمغه: قانون إنجليزي فرض رسوما مالية على كل المستندات وعقود البيع والرهن الأمريكية. (ص ٧٨)
- ٢- العلاقات الدولية: الاتصالات بين الدول وبين المنظمات الدولية في جميع المجالات. (ص ٩٧)
- ٣- الثورة الصناعية: عملية تغيير شامل في أدوات الإنتاج ووسائله وحجمه وعلاقاته ومستواه وتبدل كامل في أساليب التمويل والتسويق والتوزيع. (ص ٦١)

(ب) علل لما يلي :-

- ١- انهيار الإمبراطورية الهولندية. (درجتان) (ص ٥٥) (يكتفى بنقطتين)
 - الهولنديون أمة صغيرة غير قادرة على حماية الإمبراطورية التي تم تأسيسها بشكل كبير تجاوز حدود إمكاناتهم
 - كان اعتمادهم الأول على التجارة مما أدى لإهمال قطاعي الزراعة والصناعة
 - سياستهم الاستبدادية في المستعمرات
 - منافسة الدول الأوروبية الجديدة لها مثل إنجلترا وفرنسا
- ٢- قيام الثورة الأمريكية. (درجتان) (ص ٧٨)
 - تطبيق قوانين الاحتكار التجاري وقوانين الملاحة (١٦٥١/١٦٧٣م) والتسلط على المستعمرات الإنجليزية بقوة وحزم لا سيما في عهد الملك جورج الثالث
 - فرض ضرائب باهظة جديدة على المستعمرات والتي كانت إنجلترا تبررها بالمصروفات اللازمة للجيش البريطاني لحماية المستعمرات، ولعل تلك الضرائب الجديدة كانت بمثابة الشرارة التي انطلقت منها الثورة الأمريكية والتي أطلق عليها الأمريكيون الضرائب سيئة السمعة أو (القوانين سيئة السمعة)

(ج) دلل على صدق العبارات التالية :-

- ١- للاستعمار آثار إيجابية على المستعمرات. (درجتان) (ص ٥٧) (يكتفى بنقطتين)
 - أدخلوا إليها طرق الزراعة والصناعة والعلوم الطبية الغربية
 - ربط المستعمرات بالنظام الاقتصادي العالمي
 - أدخلت النظام الديمقراطي في الحكم
- ٢- تضمنت معاهدة صلح فرساي عام ١٩١٩م شروطا قاسية على ألمانيا. (درجتان) (ص ١٠٣) (يكتفى بنقطتين)
 - أن تتحمل ألمانيا مسؤولية الحرب حيث فرضت عليها دفع تعويضات مالية كبيرة للحلفاء
 - تخفيض عدد الجيش الألماني ومنع ألمانيا من تصنيع أو اقتناء الأسلحة الحربية
 - اقتطاع أجزاء من ألمانيا وضمها لدول أخرى
 - وضع إقليم السار الإدارة الدولية
- ٣- عدم التزام الدول الكبرى بميثاق عصبة الأمم. (درجتان) (ص ١٠٤) (يكتفى بنقطتين)
 - هاجمت اليابان منشوريا في الصين
 - هاجمت إيطاليا الحبشة
 - ضمت ألمانيا النمسا وتشيكوسلوفاكيا وهاجمت بولندا

