

تم تجميع  
الامتحانات ونماذج الإجابة  
وأرشفتها إلكترونياً  
من قبل الموجه الفني  
أ. حمد إبراهيم البحوه



دولة الكويت

وزارة التربية



التوجيه الفني العام للاجتماعيات

امتحان نهاية الفترة الدراسية الأولى – الصف الثاني عشر أدبي

للعام الدراسي ٢٠١٨/٢٠١٩م

## لمادة : تاريخ العالم الحديث والمعاصر

### • تعليمات الامتحان

- ١- استعن بالله عز وجل فهو خير معين .
- ٢- تأكد أن الامتحان من ( ٦ ) ورقات مختلفات .
- ٣- زمن الامتحان ساعتان وربع .
- ٤- أقرأ الأسئلة بتمعن ثم أجب حسب ما هو مطلوب منك .
- ٥- أجب عن أربع أسئلة فقط على أن يكون السؤال الأول منها (إجباري).
- ٦- يمنع استخدام المزيل الأبيض (الكوريكتور) .

مع تمنياتنا لكم بالنجاح والتوفيق ،،،



وزارة التربية

امتحان نهاية الفترة الدراسية الأولى  
لمقرر تاريخ العالم الحديث والمعاصر  
للفصل الثاني عشر / القسم الأدبي

العام الدراسي ٢٠١٨/٢٠١٩ م  
الزمن: ساعتان وربع  
عدد الأوراق: ٦

**أجب عن ( أربعة ) أسئلة فقط على أن يكون السؤال الأول منها (إجبارياً):**

**السؤال الأول (إجباري) ويتكون من ( أ - ب - ج - د ):**

**أ ) أكمل العبارات التالية فيما درست:**

- ١- القارة الوحيدة الغير أهلة بالسكان والتي بقيت مجهولة بالنسبة للعالم حتى أوائل القرن التاسع عشر اسمها .....
- ٢- الرحالة الذي وصل إلى خط عرض ٧٢ شمالاً اسمه .....
- ٣- الاختراع الذي توصل إليه العالم " توماس أديسون " عام ١٨٧٧ م اسمه .....
- ٤- المحور الأساسي للدخل القومي في أوروبا قبل الثورة الصناعية يسمى .....
- ٥- القارة التي وصل " جيمس كوك " إلى سواحلها الشرقية في رحلته الأولى تسمى .....

**ب) ضع خطأً تحت الخيار الصحيح من بين الخيارات التي تلي كل عبارة:**



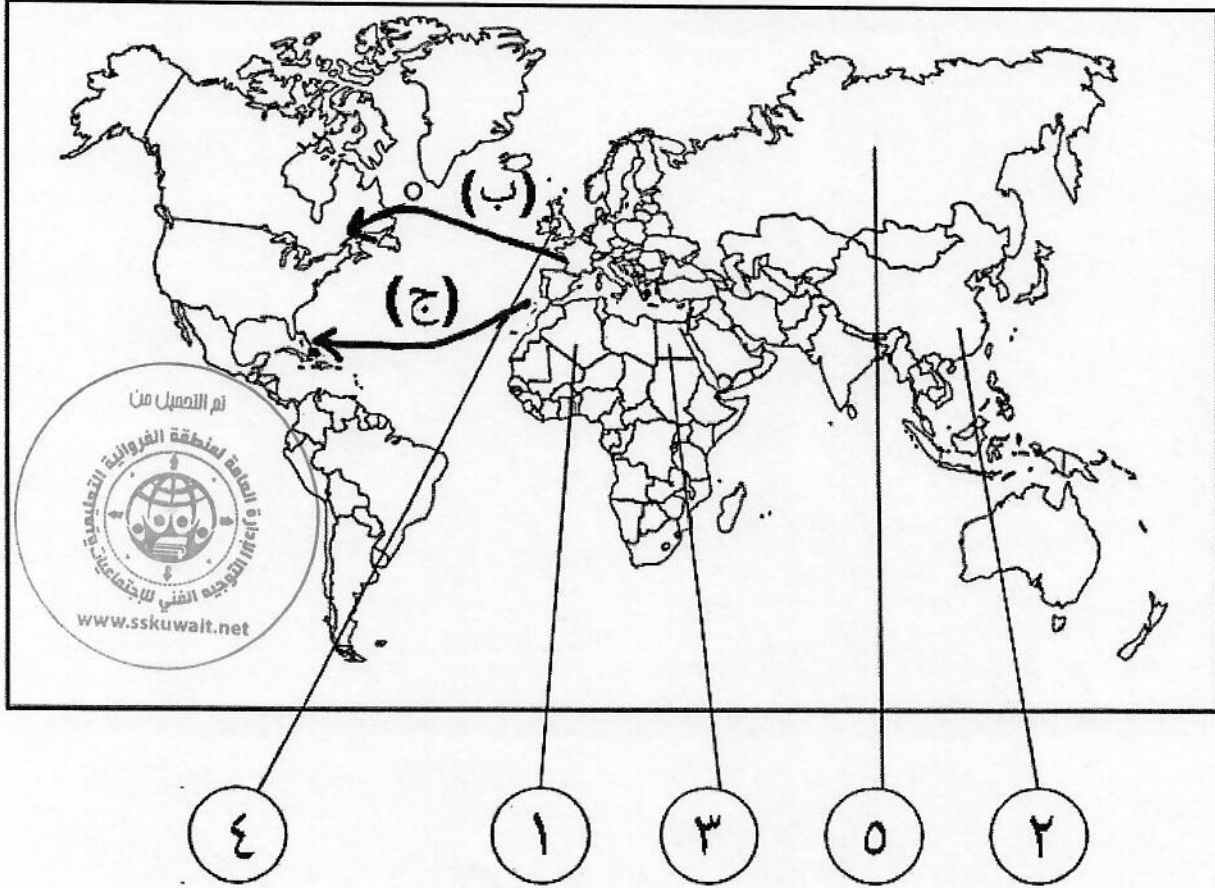
- ١- المجال الذي اشتهر فيه الفنان "مايكل أنجلو" :  
أ- العمارة      ب- التصوير      ج- النحت      د- الرسم
- ٢- الرحالة الذي اكتشف نهر " بيس " وبحيرة "سليف الكبرى" :  
أ- تشارلز ويلكز      ب- روالد أموندسن      ج- ألكسندر ماكينزي      د- صمويل هيرن
- ٣- العام الذي قامت فيه الثورة المجيدة في إنجلترا :  
أ- ١٦٨٧ م      ب- ١٦٨٨ م      ج- ١٦٨٩ م      د- ١٦٩٠ م
- ٤- أول شعب أوروبي قام بتأسيس إمبراطورية استعمارية فيما وراء البحار :  
أ- الأسبان      ب- البرتغاليون      ج- الإيطاليون      د- الإنجليز

**ج) صوب ما تحته خط في العبارات التالية :**

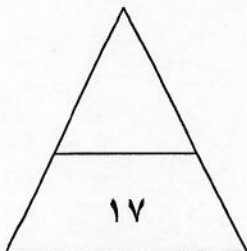
- ١- الشكل الذي تحالفت فيه المدن الأوروبية الصغيرة مما منحها الاستقلال والقوة السياسية يسمى البرجوازية ( )
- ٢- حاجة الأوروبيين إلى المزيد من الذهب والفضة كانت تسمى أزمة اقتصادية ( )
- ٣- الميثاق الذي فرضت فيه الدول المستعمرة على المستعمرات عدم المتاجرة إلا مع البلد المستعمر وتأمين المحاصيل له وما هو ضروري لقيام الصناعة يعرف باسم الإستيطان ( )
- ٤- الآراء المضادة للفكر الرأسمالي تسمى الإمبريالية ( )

تابع السؤال الأول ( الإجابى ):

(د) أمامك خريطة العالم السياسية الصماء اكتب الرقم أو الحرف الدال على العبارات التى تليها:



- الدولة التى يقع فيها ميناء بريستول يمثلها على الخريطة الرقم .....
- الدولة التى تعرضت للغزو العسكرى عام ١٨٨٢م يمثلها على الخريطة الرقم .....
- الدولة الاستعمارية التى اشتهرت فى العمل بتجارة الفراء يمثلها على الخريطة الرقم .....
- خط سير رحلة المكتشف " جاك كارتيه " يمثلها على الخريطة الحرف .....





**السؤال الثاني ( اختياري ) ويتكون من ( أ - ب - ج ) :**

**أ) علل لما يلي :**

١- ثورة الهولنديين ضد الحكم الأسباني في القرن السادس عشر الميلادي .

.....

٢- تقسيم المجتمع الأوروبي إلى مجتمع طبقي في العصور الوسطى .

.....

٣- ضعف القوة البحرية الأسبانية في الربع الأخير من القرن السادس عشر الميلادي .

.....

**ب) فرق بين كل مما يلي :**

الكشوف الجغرافية البرتغالية من حيث الاتجاه	الكشوف الجغرافية الأسبانية من حيث الاتجاه
الانتداب	الوصاية
نظرية بطليموس	نظرية نيكولاس كوبرنيكوس

**ج) ما تفسيرك لما يلي :**

١- احتكار البرتغاليين لتجارة الشرق وتأسيسهم لإمبراطوريتهم .

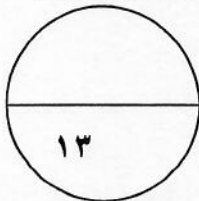
.....

.....

٢- اعتبر المؤرخون سقوط العاصمتين (روما والقسطنطينية) نقطتي تحول في التاريخ .

\* روما : .....

\* القسطنطينية : .....





**السؤال الثالث ( اختياري ) ويتكون من ( أ - ب - ج ) :**

**(أ) ماذا يحدث لو لم:**

١- ينادي "مارتن لوثر" بإصلاح أوضاع الكنيسة .

.....  
.....

٢- يصل الملاح " بارثلميو دياز " إلى الساحل الجنوبي لقارة أفريقيا .

.....

٣- تقم حرب السنين السبع بين إنجلترا وفرنسا ( ١٧٥٦ - ١٧٦٣ م ) .

.....

**(ب) اكتب النتائج الاقتصادية المترتبة على كل مما يلي:**



١- حركة الكشوف الجغرافية.

.....  
.....  
.....

٢- الثورة الصناعية.

.....  
.....

**(ج) قارن بين كل من:**

		أوجه الاختلاف
.....	.....	اسم الاختراع
.....	.....	أثر الاختراع



**السؤال الرابع ( اختياري ) ويتكون من ( أ - ب - ج ):**

**أ) دلل على صحة العبارات التالية:**

١- واجه مشروع " كريستوفر كولومبس " العديد من العقبات قبل تنفيذه.

.....  
.....

٢- بذل المفكرون الأوروبيون جهدا كبيرا في إحياء الدراسات اليونانية القديمة .

.....  
.....  
.....

**ب) عرف المفاهيم والمصطلحات التالية :**

١- الإنسانيين :

.....

٢- الكرافيل :

.....

٣- المعاهدات والاتفاقيات الخاصة :

.....

٤- الثورة الصناعية :

.....

**ج) ما دور كل من الشخصيات التالية:**

١- أمريكو فسبوتشي :

.....

.....

٢- هنري بيسمر :

.....

٣- لويس الرابع عشر :

.....

**السؤال الخامس ( اختياري ) ويتكون من ( أ - ب - ج ) :**

**(أ) فند العبارات التالية:**

١- اقتصرت آثار الاستعمار على الجانب السلبي فقط بالنسبة للمستعمرات .

.....  
.....

٢- انتهت رحلة " فاسكودي جاما " دون أن تحقق آمال البرتغاليين .

.....  
.....

٣- لم تسهم الثورة الصناعية بأي اختراعات في مجال النقل .

.....  
.....



**(ب) نفذ المطلوب منك ما بين الأقواس:**

١- العوامل التي ساعدت على قيام الثورة الصناعية في إنجلترا. (عدّها)

.....  
.....

٢- دور هنري الملاح في قيام حركة الكشوف الجغرافية. ( أعماله قبل الرحلة )

.....  
.....

**(ج) اقرأ الفقرة التالية ثم أجب عما يليها من أسئلة:**

" أسهمت كل من (إيطاليا ، البرتغال ) و إنجلترا في إبراز ملامح تاريخ أوروبا الحديث والمعاصر حيث كان لهذه الدول دور الريادة في العديد من المجالات التي ساهمت بشكل أو بآخر في تشكيل ملامح العالم الحديث والمعاصر . "

- ما الدور الريادي الذي لعبته كل من الدول التالية:

إيطاليا : .....

البرتغال : .....

( انتهت الاسئلة )



# مادة تاريخ العالم الحديث والمعاصر

العام الدراسي ٢٠١٨/٢٠١٩ م  
الزمن: ساعتان وربع  
عدد الأوراق: ٦

وزارة التربية  
التوجيه الفني العام للاجتماعيات  
امتحان نهاية الفترة الدراسية الأولى  
لمقرر تاريخ العالم الحديث والمعاصر  
للمصف الثاني عشر / القسم الأدبي  
( نموذج إجابة )

أجب عن ( أربعة ) أسئلة فقط على أن يكون السؤال الأول منها ( إجبارياً ) :  
السؤال الأول ( إجباري ) ويتكون من ( أ - ب - ج - د ) :-

أ) أكمل العبارات التالية فيما درست: ( ١٧ x ١ = ١٧ درجة )

١- القارة الوحيدة الغير أهلة بالسكان والتي بقيت مجهولة بالنسبة للعالم حتى أوائل القرن التاسع عشر اسمها أنتاركتيكا ص ٤٣

٢- الرحالة الذي وصل إلى خط عرض ٧٢ شمالاً اسمه جون ديفيز ص ٣٨

٣- الاختراع الذي توصل إليه العالم " توماس أديسون " عام ١٨٧٧ م اسمه المصباح الكهربائي ص ٦٧

٤- المحور الأساسي للدخل القومي في أوروبا قبل الثورة الصناعية يسمى الزراعة ص ٦١

٥- القارة التي وصل " جيمس كوك " إلى سواحلها الشرقية في رحلته الأولى تسمى أستراليا ص ٣٩

( ب ) ضع خطأً تحت الخيار الصحيح من بين الخيارات التي تلي كل عبارة:

١- المجال الذي اشتهر فيه الفنان " مايكل أنجلو " :  
أ- العمارة ب- التصوير ج- النحت د- الرسم

٢- الرحالة الذي اكتشف نهر " بيس " و بحيرة " سليف الكبرى " :  
أ- تشارلز ويلكز ب- روالد أموندسن ج- ألكسندر ماكينزي د- صمويل هيرن

٣- العام الذي قامت فيه الثورة المجيدة في إنجلترا :  
أ- ١٦٨٧ م ب- ١٦٨٨ م ج- ١٦٨٩ م د- ١٦٩٠ م

٤- أول شعب أوروبي قام بتأسيس إمبراطورية استعمارية فيما وراء البحار :  
أ- الأسبان ب- البرتغاليون ج- الإيطاليون د- الإنجليز

( ج ) صوب ما تحته خط في العبارات التالية :

١- الشكل الذي تحالفت فيه المدن الأوروبية الصغيرة مما منحها الاستقلال والقوة السياسية يسمى البرجوازية ..  
( الكومونات ص ١٦ )

٢- حاجة الأوروبيين إلى المزيد من الذهب والفضة كانت تسمى أزمة اقتصادية .... - ( مجاعة نقدية ص ٢٥ )

٣- الميثاق الذي فرضت فيه الدول المستعمرة على المستعمرات عدم المتاجرة إلا مع البلد المستعمر وتأمين المحاصيل له وما هو ضروري لقيام الصناعة يعرف باسم الإستيطان .... ( الميثاق الاستعماري ص ٥٦ )

٤- الآراء المضادة للفكر الرأسمالي تسمى الإمبريالية ... ( الاشتراكية ص ٦٩ )





**السؤال الثاني ( اختياري ) ويتكون من ( أ - ب - ج ) : ( ١٣ x ١ = ١٣ درجة )**  
**( أ ) علل لما يلي :**

- ١- ثورة الهولنديين ضد الحكم الأسباني في القرن السادس عشر الميلادي. ص ٥٥  
- تعرضهم للاضطهاد على يد الأسبان بعد اعتناقهم المذهب البروتستانتي مع ظهور حركة الإصلاح الديني.
- ٢- تقسيم المجتمع الأوروبي إلى مجتمع طبقي في العصور الوسطى. ص ١١  
- بسبب ظهور النظام الإقطاعي الذي تسبب في تقسيم المجتمع الأوروبي إلى مجتمع طبقي.
- ٣- ضعف القوة البحرية الأسبانية في الربع الأخير من القرن السادس عشر الميلادي. ص ٥٤  
- تحطم الأسطول الأسباني " الأرمادا " على يد الإنجليز عام ١٥٨٨ م .



**( ب ) فرق بين كل مما يلي :**

الكشوف الجغرافية البرتغالية من حيث الاتجاه ص ٣١	الكشوف الجغرافية الأسبانية من حيث الاتجاه ص ٣١
اتجه البرتغاليون في كشوفهم الجغرافية إلى الشرق لتحقيق أهدافهم	اتخذوا الاتجاه غربا وذلك بعبور المحيط الأطلسي للوصول إلى القارة الآسيوية لتحقيق هدفهم
الانتداب ص ٥١	الوصاية ص ٥١
ظهر أثر انتهاء الحرب العالمية الأولى عام ١٩١٩م حيث انتدبت الدول المنتصرة لإدارة شؤون الأقطار التي تحكمها الدولة العثمانية أو ألمانيا لهزيمتهما بالحرب بحجة الأخذ بيدها نحو التطور والاستقلال .	ظهر في أعقاب الحرب العالمية الثانية عام ١٩٤٥م فقد وضعت المناطق التي كانت تحت النفوذ الألماني والياباني تحت وصاية دولة من اختيار الأمم المتحدة .
نظرية بطليموس ص ٤٦	نظرية نيكولاس كوبرنيكوس ص ٤٦
الأرض محور الكون و بنى عليها أن الشمس والقمر والكواكب الأخرى تدور حول الأرض.	الشمس هي محور الكون وأن الكواكب الأخرى بما فيها الأرض تسير في مدارات حول الشمس.

**( ج ) ما تفسيرك لما يلي :**

- ١- احتكار البرتغاليين لتجارة الشرق وتأسيسهم لإمبراطوريتهم. ص ٥٣ (يكتفى بإجابتين)  
- انشغال الدولة العثمانية بحربها مع الصفويين .  
- عدم توحيد القوى الإسلامية الكبرى (الدولة العثمانية - الصفوية - المملوكية) - تفكك بلاد الهند .  
- استخدم البرتغاليون قوة السلاح والبارود والأساطيل الضخمة حيث لم تكن متوفرة لدى شعوب الشرق .
- ٢- اعتبر المورخون سقوط العاصمتين ((روما والقسطنطينية)) نقطتي تحول في التاريخ. (ص ١١، ١٢)  
- سقوط روما على يد القبائل الجرمانية عام ٤٧٦م بداية العصور الوسطى .  
- وراثة الفتح العثماني لمدينة القسطنطينية عاصمة الإمبراطورية البيزنطية عام ١٤٥٣م بداية عصر النهضة والعصور الحديثة .



( ١٣ × ١ = ١٣ درجة )

السؤال الثالث ( اختياري ) ويتكون من ( أ - ب - ج ) :

( أ ) ماذا يحدث لو لم :

- ١- ينادي "مارتن لوثر" بإصلاح أوضاع الكنيسة ص ٢٠ (يكتفي بإجابتين)  
- لما قام صراع بين أتباعه والكنيسة - لما قامت ثورات وحروب داخل أوروبا - لما تم المطالبة بتحرير الكنيسة من المفسد والتخلص من هيمنتها المطلقة على حياة الناس في أوروبا (وما يراه المصحح مناسباً)
- ٢- يصل الملاح "بارثولميوديا" إلى الساحل الجنوبي لقارة أفريقيا ص ٢٨  
- لم يكتشف البرتغاليون رأس العواصف (رأس الرجاء الصالح) (وما يراه المصحح مناسباً)
- ٣- تقم حرب السنين السبع بين إنجلترا وفرنسا ١٧٥٦-١٧٦٣ م. ص ٥٥  
- لما انفردت إنجلترا في المستعمرات بكل من الهند وأمريكا الشمالية على حساب فرنسا (وما يراه المصحح مناسباً)

( ب ) اكتب النتائج الاقتصادية المترتبة على كل مما يلي :

- ١- حركة الكشوف الجغرافية. ص ٤٥ (يكتفي بثلاث إجابات)  
- تحول طرق التجارة العالمية بين أوروبا وآسيا فقد ضعفت مكانة البحر المتوسط تجارياً .  
- تدفق الثروات من البضائع ومن المعادن الثمينة (الذهب والفضة) على أوروبا مما أدى إلى ارتفاع كبير في أسعار المواد الغذائية فتضررت الفئات العامة والفلاحون بشكل كبير طيلة القرن السادس عشر الميلادي بفعل عدم التوازن ما بين العرض والطلب واغتنى كبار التجار وازدادت أهمية البنوك وامت الطبقة البرجوازية التجارية.  
- نتيجة لتوفير البضائع والمال وازدياد النشاط التجاري الاقتصادي قامت صناعات جديدة مما أدى إلى زيادة رؤوس الأموال، ومن هنا ظهرت الحاجة إلى الحصول على مستعمرات لتصريف مصنوعات الدولة، والحصول على المعادن والمواد الأولية اللازمة للصناعة .  
- ظهور البورصات المالية على نطاق عالمي وازدياد نشاط دور المصارف .
- ٢- الثورة الصناعية. ص ٦٩ (يكتفي بإجابتين)  
- قيام المصانع الكبيرة التي تعتمد على الصناعة الآلية مما أدى إلى زيادة الإنتاج .  
- انتعاش النشاط الاقتصادي من خلال حركة البنوك والوكالات التجارية ومراكز التوزيع والتسويق .  
- اتساع النشاط التجاري العالمي - ارتفاع الدخل القومي نتيجة لزيادة عائدات التجارة .  
- ظهور المدن الصناعية واتساع حركة العمران في أوروبا . - سيادة النظام الاقتصادي الرأسمالي.

( ج ) قارن بين كل من :

		أوجه الاختلاف
ص ٦٣	ص ٦٨	
آلة يدوية للغزل	الهاتف (التليفون)	اسم الاختراع
غزل ثمانية خيوط	الاتصالات الهاتفية (التليفونية)	أثر الاختراع



(١٣ × ١ = ١٣ درجة)

السؤال الرابع ( اختياري ) ويتكون من ( أ - ب - ج ):

(أ) دلل على صحة العبارات التالية:

- ١- واجه مشروع "كريستوفر كولومبس" العديد من العقبات قبل تنفيذه. ص ٣١  
- رفض ملك البرتغال مشروعه بناء على توصية مستشاريه الذين رأوا أنه لا ضرورة للبحث عن طرق جديدة .  
- رفض ملك أسبانيا فرديناند والملكة إيزابيلا بسبب انشغالها بالحرب مع المسلمين في الأندلس .
- ٢- بذل المفكرون الأوروبيون جهداً كبيراً في إحياء الدراسات اليونانية القديمة. ص ١٥ (يكتفي بثلاث إجابات)  
- تبادل علماء القسطنطينية وإيطاليا الزيارات العلمية بحثاً عن العلوم والفنون الإغريقية والإيطالية.  
- تنافس الأمراء والأثرياء في إنشاء المكتبات مما أدى إلى ازدهار مكتبات البندقية وفلورنسا إلى جانب مكتبة الفاتيكان  
- ظهور الأكاديميات العلمية في إيطاليا مما ساعد على إثراء الحركة العلمية .  
- جهود أسرة (ال مديشي) في فلورنسا وأسرة (سوفرزا) في ميلانو في رعاية الحركة العلمية والأدبية والفنية.  
- اختراع أحرف الطباعة المعدنية على يد (جا جوتنبرج) مما أدى إلى سهولة طباعة الكتب وتداولها ونشر جهود العلماء في مختلف المجالات.

(ب) عرف المفاهيم و المصطلحات التالية:

- ١- الإنسانين: ص ١٧  
هم أدباء عبروا في كتاباتهم الأدبية عن صورة الإنسان الذي يتصف بالإبداع والثقة في النفس والمحبة للحياة بجوانبها المشرقة.
- ٢- الكرافيل: ص ٢٦  
سفن عملاقة تميزت بكبر حمولتها واستعمالها لعدد كبير من الأشرعة وازدياد القدرة على المغامرة وسط المحيطات.
- ٣- المعاهدات والاتفاقيات الخاصة: ص ٥١  
عقد معاهدات حماية بين دولة أوروبية (المستعمرة) والدولة الضعيفة تحت ستار من الحجج والأسباب.
- ٤- الثورة الصناعية: ص ٦١  
هي عملية تغيير شامل في أدوات الإنتاج ووسائله وحجمه وعلاقاته ومستواه وتبدل كامل في أساليب التمويل والتسويق والتوزيع.

(ج) ما دور كل من الشخصيات التالية:

- ١- أمريكو فسبوتشي: ص ٣٤ (يكتفي بإجابتين)  
- اكتشاف ساحل المكسيك.  
- اكتشاف جزر الساحل الشرقي للولايات المتحدة وساحل أمريكا الجنوبية.  
- وصل إلى البرازيل وأكد فيما بعد أنه قد وصل إلى عالم جديد وفي عام ١٥٠٧ م سمي هذا العالم الجديد " أمريكا " نسبة إليه ..
- ٢- هنري بسم: ص ٦٤  
- تحضير الفولاذ من الحديد عام ١٨٥٦ م مما أدى إلى إنتاج آلات من الصلب.

٣- لويس الرابع عشر: ص ٥٥

رأى قيام شركة الهند الشرقية الفرنسية عام ١٦٦٤ م بتشجيع من الملك لويس الرابع عشر وبرأس مال كبير من خزانة الدولة.



**السؤال الخامس ( اختياري ) ويتكون من ( أ - ب - ج ) : ( ١٣ x ١ = ١٣ درجة )**

**(أ) فند العبارات التالية:**

- ١- اقتصر آثار الاستعمار على الجانب السلبي فقط بالنسبة للمستعمرات. ص ٥٧ (يكتفى بإجابتين)  
- حقق المستعمرون شيئاً من التنمية الاقتصادية للمستعمرات .  
- ادخلوا إليها طرق الزراعة والصناعة والعلوم الطبية الغربية .  
- ربط المستعمرات بالنظام الاقتصادي الدولي .  
- أدخلت النظام الديمقراطي بالحكم في هذه المستعمرات .
- ٢- انتهت رحلة "فاسكو دي جاما" دون أن تحقق آمال البرتغاليين. ص ٢٩  
- حقق أمل البرتغاليين في كشف طريق مباشر للوصول للهند خارج ديار المسلمين وكانت أكبر ضربة اقتصادية وجهت للعالم الإسلامي .  
- أصبحت البرتغال في مركز متقدم في منطقة المحيط الهندي التجارية .
- ٣- لم تسهم الثورة الصناعية بأي اختراعات في مجال النقل. ص ٦٥ (يكتفى بثلاث إجابات)  
- اختراع السفن البخارية - القاطرة البخارية - محرك رباعي الأشواط - اختراع سيارة البنزين - محرك الاحتراق الداخلي .

**(ب) نفذ المطلوب منك ما بين الأقواس:**

- ١- العوامل التي ساعدت على قيام الثورة الصناعية في إنجلترا. (ص ٦٢) (يكتفى بإجابتين) (عددها)  
- الاستقرار الداخلي - وفرة رأس المال - سهولة الحصول على المواد الخام - وجود القوى المحركة - تشجيع العلماء والمخترعين - وجود أسطول تجاري كبير - الأيدي العاملة الرخيصة
- ٢- دور هنري الملاح في قيام حركة الكشف الجغرافية. ص ٢٧ (يكتفى بإجابتين) (أعماله قبل الرحلة)  
- إنشاء مرصدا بحريا جنوب البرتغال - إنشاء مدرسة بحرية اهتمت بتطوير الأدوات اللازمة التي استخدمت في عملية الكشف الجغرافية كالاهتمام برسم الخرائط - جلب علماء الرياضيات ورسمي الخرائط والفلكيين من صقلية وإيطاليا - استعان بالمسلمين الذين كانت لهم دراية في المجال البحري .

**(ج) اقرأ الفقرة التالية ثم أجب عما يليها من أسئلة :**

" أسهمت كل من (إيطاليا ، البرتغال ) و إنجلترا في إبراز ملامح تاريخ أوروبا الحديث والمعاصر حيث كان لهذا الدول دور الريادة في العديد من المجالات التي ساهمت بشكل أو بآخر في تشكيل ملامح العالم الحديث والمعاصر."

- ما الدور الريادي الذي لعبته كل من الدول التالية:

إيطاليا: انطلقت منها حركة النهضة ثم انتقلت إلى كافة أنحاء أوروبا ص ١٢

البرتغال: أول من قام بحركة الكشف الجغرافية في نهاية القرن الخامس عشر ميلادي ولها دور كبير في الوصول الى الهند ص ٢٩

