



دولة الكويت

وزارة التربية

تم تجميع
الامتحانات ونماذج الإجابة
وأرشفتها إلكترونياً
من قبل الموجه الفني
أ. حمد إبراهيم البحوه

التوجيه الفني العام للاجتماعيات

امتحان الدور الثاني (الفترة الدراسية الثانية) الصف الثاني عشر أدبي

للعام الدراسي ٢٠١٨/٢٠١٩م

لمادة : تاريخ العالم الحديث والمعاصر

• تعليمات الامتحان

- ١- استعن بالله عز وجل فهو خير معين .
- ٢- تأكد أن الامتحان من (٦) ورقات مختلفات .
- ٣- زمن الامتحان ساعتان وربع .
- ٤- أقرأ الأسئلة بتمعن ثم أجب حسب ما هو مطلوب منك .
- ٥- أجب عن أربع أسئلة فقط على أن يكون السؤال الأول منه (إجباري).
- ٦- يمنع استخدام المزيل الأبيض (الكوريكتور) .



مع تمنياتنا لكم بالنجاح والتوفيق ،،،



وزارة التربية

التوجيه الفني العام للاجتماعيات

امتحان الدور الثاني (الفترة الدراسية الثانية)

لمقرر تاريخ العالم الحديث والمعاصر

للسف الثاني عشر - القسم الأدبي

العام الدراسي : ٢٠١٨ - ٢٠١٩ م

الزمن : ساعتان وربع

عدد الأوراق : ٦

أجب عن (أربعة) أسئلة فقط على أن يكون السؤال الأول منها (إجبارياً):

السؤال الأول : (إجباري) ويتكون من (أ ، ب ، ج ، د) :

أ) ضع خطأً تحت الخيار الصحيح من بين الخيارات التي تلي كل عبارة :

١- قائل هذه العبارة " إننا هنا بإرادة الشعب ولن نبرح أماكننا إلا على أسنة الرماح " :

د- ميرابو

ج- نابليون

ب- لافاييت

أ- نيكر

٢- المستعمرة الإنجليزية التي تأسست عام ١٦٠٧م في أمريكا الشمالية :

د- نيويورك

ج- واشنطن

ب- جيمس تون

أ- بوسطن

٣- الدولة التي وقعت على أراضيها معركة "الكنجستون" :

د- النمسا

ج- الولايات المتحدة الأمريكية

ب- الاتحاد السوفيتي

أ- إنجلترا

٤- الملك الذي لجأ إلى فرنسا عام ١٦٨٩م هرباً من رجال البرلمان الإنجليزي :

د- جيمس الرابع

ج- جيمس الثالث

ب- جيمس الثاني

أ- جيمس الأول

٥- العام الذي عقد فيه صلح باريس وبموجبه اعترفت بريطانيا باستقلال الولايات المتحدة الأمريكية :

د- ١٧٨٦م

ج- ١٧٨٥م

ب- ١٧٨٤م

أ- ١٧٨٣م

ب) أكمل العبارات التالية بما يناسبها فيما درست :

١- الإمبراطورية الإسلامية التي تفككت بعد الحرب العالمية الأولى اسمها

٢- المدينة التي يوجد بها مقر محكمة العدل الدولية اسمها

٣- المدينة التي أعتقل فيها الملك " لويس السادس عشر " بعد محاولة هروبه الفاشلة اسمها

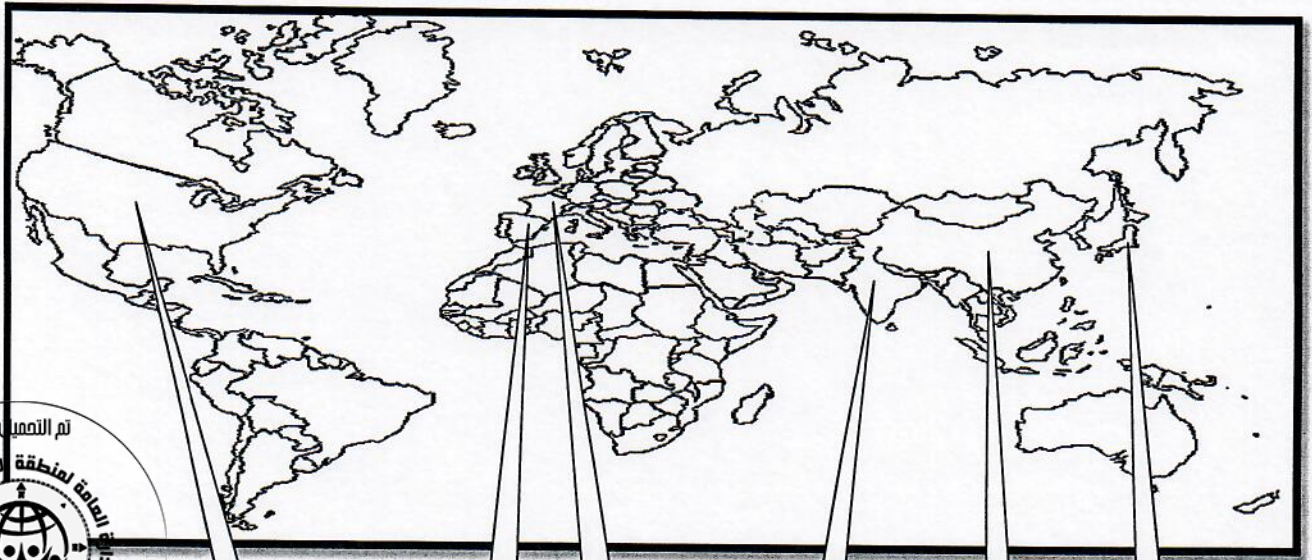
٤- الدولة التي هاجمت السفن التجارية الأمريكية وكانت السبب في دخول الولايات المتحدة الحرب العالمية الأولى اسمها

تابع السؤال الأول (إجباري) :

ج (اختر للمجموعة (أ) ما يرتبط بها من المجموعة (ب) بوضع الرقم المناسب :

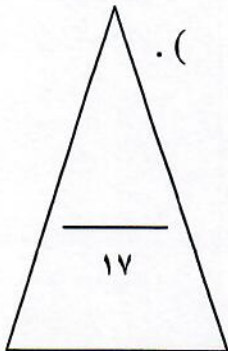
م	المجموعة (أ)	الرقم المناسب	المجموعة (ب)
١	العام الذي اجتاح فيه هتلر بولندا .		١٩١٦م
٢	العام الذي حدثت فيه معركة فردان .		١٩١٩م
٣	العام الذي أصدر فيه إعلان استقلال المستعمرات في أمريكا عن إنجلترا .		١٩٣٩م
٤	العام الذي أنشأت فيه عصبة الأمم .		١٧٧٦م
			١٧٧٧م

د (أمامك خريطة العالم الصماء - اكتب الرقم الدال على العبارات التالية :



٦ ٥ ٤ ٣ ٢ ١

- الدولة التي يقع فيها المقر الرسمي للأمم المتحدة يمثلها على الخريطة الرقم () .
- الدولة الآسيوية التي تعد أحد الأعضاء الدائمين في مجلس الأمن يمثلها على الخريطة الرقم () .
- الدولة التي يجري على أرضها نهر " المارن " الشهير يمثلها على الخريطة الرقم () .
- الدولة التي ظهر فيها نظام ديكتاتوري بقيادة " فرانكو " يمثلها على الخريطة الرقم () .



السؤال الثاني (اختياري) يتكون من (أ ، ب ، ج) :

أ) اكتب النتائج المترتبة على الأحداث التالية :



١- الثورة الأمريكية .

.....
.....

٢- سقوط حصن الباستيل .

.....
.....

٣- الحرب العالمية الثانية من الناحية الاقتصادية .

.....
.....

ب) عرف المفاهيم أو المصطلحات التالية :

١- العلاقات الدولية :

.....
.....

٢- البلقان :

.....
.....

٣- النازية :

.....
.....

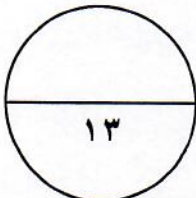
٤- فترة عصر الإرهاب :

.....
.....

ج) من خلال دراستك لموضوع (هيئة الأمم المتحدة) كون فقرة مناسبة باستخدام الكلمات التالية :

(السلام العالمي - مؤتمر يالطا - الأمم المتحدة)

.....
.....
.....
.....



السؤال الثالث (اختياري) يتكون من (أ ، ب ، ج) :

أ) قارن بين كل من :

أوجه المقارنة	معركة ساراتوجا	معركة فالمي
الموقع	-	-
النتائج	- -	- - تم التمهيل من

ب) دلل على صحة العبارات التالية :

١- مهد التوتر الدولي بعد الحرب العالمية الأولى لقيام الحرب العالمية الثانية.

-
-

٢- اختلفت الحرب العالمية الثانية عن جميع الحروب التي سبقتها .

-
-
-

ج) اقرأ الفقرة التالية ثم أجب عما يليها من أسئلة :

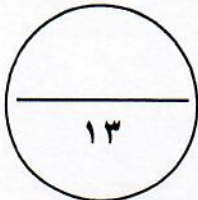
" هناك شبه إجماع بين المؤرخين على ضعف شخصية ملك فرنسا "لويس السادس عشر" (١٧٧٣/١٧٩١م) والذي لعبت زوجته "ماري أنطوانيت" دوراً كبيراً في إضعاف مكانته الشعبية وتوجيه سياسة البلاد على عكس "نابليون بونابرت" الذي أصبح رجل فرنسا الأول وأعطاهما مجداً بشكل لم تكن تتوقعه ووضع مشروعاً لتنظيم التعليم في كل أنحاء فرنسا والعمل على مجانية التعليم للفقراء خاصة التعليم الثانوي " .

١- ما الدور الذي لعبته "ماري أنطوانيت" في إضعاف مكانة "لويس السادس عشر" الشعبية ؟

-
-

٢- استخرج من الفقرة السابقة الإصلاحات التي قام بها "نابليون" في مجال التعليم .

-
-



السؤال الرابع (اختياري) يتكون من (أ ، ب ، ج) :

أ) اكتب الدور الذي لعبته الشخصيات التالية :

١- "روزفلت" في إصلاح الاقتصاد الأمريكي بين الحربين العالميتين .

.....
.....

٢- الجنرال الروسي " زوكوف " في الحرب العالمية الثانية.

.....

٣- " موسوليني " في إيطاليا.

.....
.....

ب) فرق بين كل مما يلي :

حزب الجيرونديين	حزب اليعاقة
.....

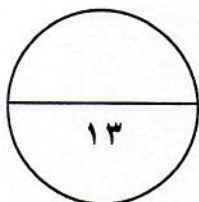
ج) عدد كل مما يلي :

١- أهم ملامح عالمنا المعاصر .

.....
.....
.....


٢- النتائج السياسية للحرب العالمية الثانية .

.....
.....
.....



السؤال الخامس (اختياري) يتكون من (أ - ب - ج) :

أ) لاحظ الصورة التي أمامك ثم أجب عن الأسئلة التالية :



١- اكتب الحدث التاريخي الذي تدل عليه الصورة المقابلة ؟

..... -

٢- في أي عام وقع هذا الحدث ؟

..... -

٣- عدد النتائج التي ترتبت على هذا الحدث.

..... -

..... -



ب) ما أوجه الاختلاف بين كل من :

مجلس اللوردات	مجلس العموم
.....--
.....--

ج) علل لما يلي :

١- قيام الثورة الشيوعية في روسيا عام ١٩١٧ م .

..... -

..... -

٢- وقفت عصبة الأمم عاجزة أمام القضايا المهمة .

..... -

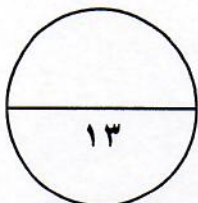
..... -

٣- كانت القارة الأوروبية محور العلاقات الدولية في بداية القرن العشرين .

..... -

..... -

..... -



(انتهت الأسئلة)

مادة
تاريخ العالم الحديث والمعاصر





وزارة التربية

التوجيه الفني العام للاجتماعيات

امتحان نهاية الفترة الدراسية الثانية

لمقرر تاريخ العالم الحديث والمعاصر

للصف الثاني عشر - القسم الأدبي

العام الدراسي : ٢٠١٨ - ٢٠١٩ م

الزمن : ساعتان وربيع

عدد الأوراق : ٧

أجب عن (أربعة) أسئلة فقط على أن يكون السؤال الأول منها (إجبارياً) :

السؤال الأول : (إجباري) ويتكون من (أ ، ب ، ج ، د) :

(أ) ضع خطأً تحت الخيار الصحيح من بين الخيارات التي تلي كل عبارة :

(٥ درجات كل نقطة درجة)

١- قائل هذه العبارة " إننا هنا بإرادة الشعب ولن نبرح أماكننا إلا على أسنة الرماح " : ص ٨٧

د- ميرابو

ج- نابليون

ب- لافاييت

أ- نيكر

٢- المستعمرة الإنجليزية التي تأسست عام ١٦٠٧م في أمريكا الشمالية : ص ٧٦

د- نيويورك

ج- واشنطن

ب- جيمس تون

أ- بوسطن

٣- الدولة التي وقعت على أراضيها معركة "الكنجستون" : ص ٨٠

ج- الولايات المتحدة الأمريكية

ب- الاتحاد السوفيتي

أ- إنجلترا

د- النمسا

٤- الملك الذي لجأ إلى فرنسا عام ١٦٨٩م هرباً من رجال البرلمان الإنجليزي : ص ٧٤

د- جيمس الرابع

ج- جيمس الثالث

ب- جيمس الثاني

أ- جيمس الأول

٥- العام الذي عُقد فيه صلح باريس وبموجبه اعترفت بريطانيا باستقلال الولايات المتحدة الأمريكية : ص ٨٢

د- ١٧٨٦م

ج- ١٧٨٥م

ب- ١٧٨٤م

أ- ١٧٨٣م

(٤ درجات كل نقطة درجة)

ب (أكمل العبارات التالية بما يناسبها فيما درست :

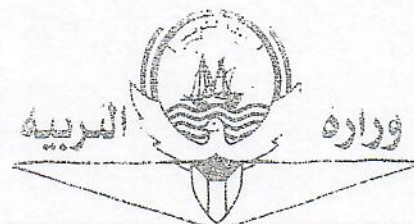
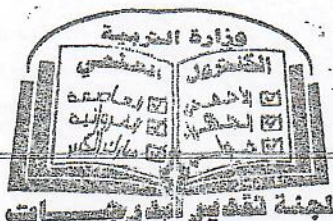
١- الإمبراطورية الإسلامية التي تفككت بعد الحرب العالمية الأولى اسمها الدولة العثمانية . ص ١٠٣

٢- المدينة التي يوجد بها مقر محكمة العدل الدولية اسمها لاهاي . ص ١١٧

٣- المدينة التي أعتقل فيها الملك " لويس السادس عشر " بعد محاولة هروبه الفاشلة اسمها فاران . ص ٨٩

٤- الدولة التي هاجمت السفن التجارية الأمريكية وكانت السبب في دخول الولايات المتحدة الحرب العالمية الأولى اسمها ألمانيا .

ص ١٠٠



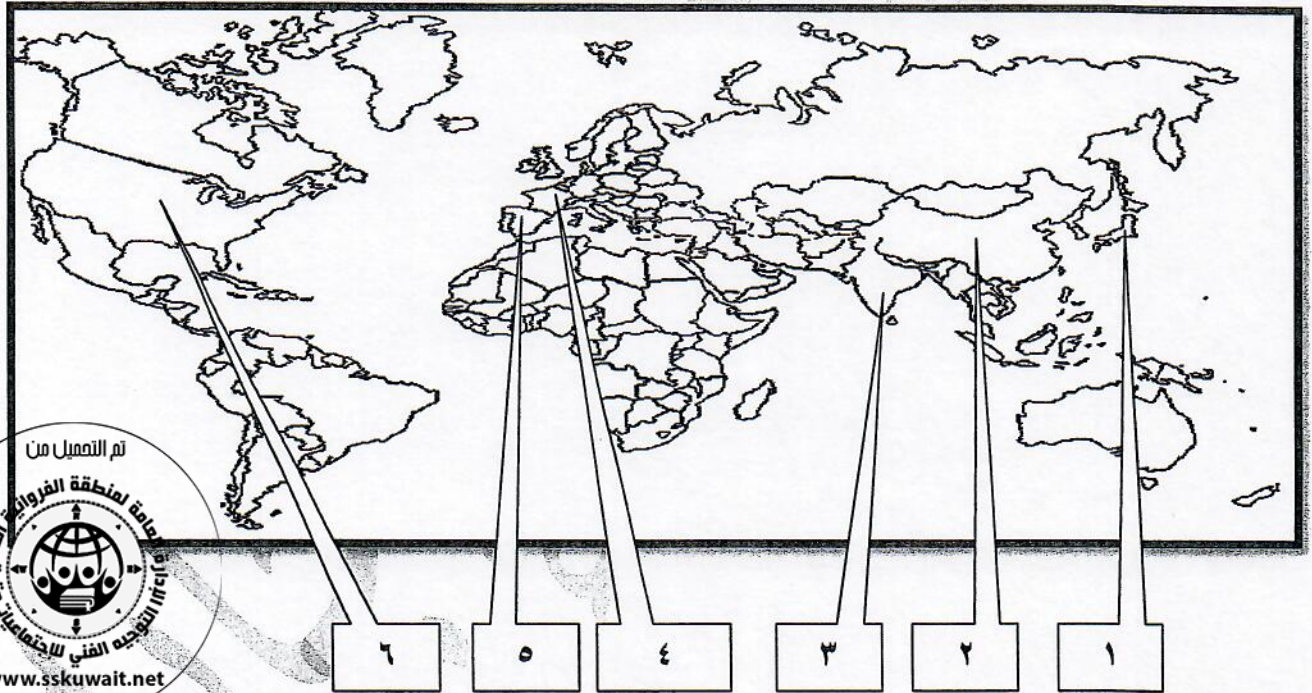
التوجيه الفني العام للاجتماعيات

تابع السؤال الأول (إجباري) :


ج) اختر للمجموعة (أ) ما يرتبط بها من المجموعة (ب) بوضع الرقم المناسب :- (٤ درجات كل نقطة درجة)

م	المجموعة (أ)	الرقم المناسب	المجموعة (ب)
١	العام الذي اجتاحت فيه هتلر بولندا . ص ١١٣	٢	١٩١٦م
٢	العام الذي حدثت فيه معركة فردان . ص ١٠١	٤	١٩١٩م
٣	العام الذي أصدر فيه إعلان استقلال المستعمرات في أمريكا عن إنجلترا . ص ٨١	١	١٩٣٩م
٤	العام الذي أنشأت فيه عصبة الأمم . ص ١٠٤	٣	١٧٧٦م
		-	١٧٧٧م

د) أمامك خريطة العالم الصماء - اكتب الرقم الدال على العبارات التالية : (٤ درجات كل نقطة درجة)



- الدولة التي يقع فيها المقر الرسمي للأمم المتحدة يمثلها على الخريطة الرقم (٦) . ص ١١٦
- الدولة الآسيوية التي تعد أحد الأعضاء الدائمين في مجلس الأمن يمثلها على الخريطة الرقم (٢) . ص ١١١
- الدولة التي يجري على أرضها نهر " المارن " الشهير يمثلها على الخريطة الرقم (٤) . ص ١٠١
- الدولة التي ظهر فيها نظام ديكتاتوري بقيادة " فرانكو " يمثلها على الخريطة الرقم (٥) . ص ١٠١ - ١٠٨



السؤال الثاني (اختياري) يتكون من (أ ، ب ، ج) :

(٦ درجات)

أ) اكتب النتائج المترتبة على الأحداث التالية :

(يكتفى بنقطتين)

١- الثورة الأمريكية . ص ٨٣

- انتشرت عدواها إلى سكان أمريكا الجنوبية (اللاتينية) .
- تشجيع سكان المستعمرات البريطانية في آسيا وأفريقيا على القيام بثورات ضدها ليتخلصوا من استعمارها .
- أصبحت الولايات المتحدة ملاذاً لدعاة الفكر من الأوروبيين ورمزاً للحرية والتجديد .
- السبب المباشر في قيام الثورة الفرنسية .
- كانت سبباً في حدوث الأزمة المالية في عهد الملك الفرنسي "لويس السادس عشر" .

(يكتفى بنقطتين)

٢- سقوط حصن الباستيل . ص ٨٨

- عمت الفوضى في كل فرنسا .
- توقف الفلاحون عن دفع الضرائب .
- هاجم الفلاحون قصور النبلاء وأحرقوها وقتلوا من فيها وأحرقوا الوثائق التي تعطيهم حقوقاً إقطاعية .
- هجرة النبلاء إلى خارج فرنسا هرباً بحياتهم .
- أصبح المهاجرون أكبر خطر على الثورة الفرنسية .

(يكتفى بنقطتين)

٣- الحرب العالمية الثانية من الناحية الاقتصادية . ص ١١٤

- كانت نفقات الحرب باهظة أدت إلى تحمل كثير من الدول ديوناً كبيرة .
- الدمار الذي حل بالمساكن والمصانع والطرق والمؤسسات .
- تحولت دول أوروبا إلى دول مستوردة بعد أن كانت دولاً مصدرة .

(٤ درجات كل نقطة درجة)

ب) عرف المفاهيم أو المصطلحات التالية :

١- العلاقات الدولية : الاتصالات بين الدول وبين المنظمات الدولية في جميع المجالات . ص ٩٧

٢- البلقان : اصطلاح سياسي يطلق على مجموعة دول أوروبا الشرقية (يوغسلافيا السابقة - اليونان - بلغاريا - ألبانيا) . ص ١٠٠

٣- النازية : كلمة ألمانية مختصرة لعبارة الاشتراكية الوطنية وهي التسمية التي أطلقها أدولف هتلر على

الحزب النازي . ص ١٠٧

٤- فترة عصر الإرهاب : الفترة الزمنية التي قتل فيها الكثير من الفرنسيين دون محاكمة عادلة وكانت تأخذ الناس بالشبهات ووجهت لهم تهمة الخيانة العظمى واستمرت حتى مارس ١٧٩٤م . ص ٩١


ج) من خلال دراستك لموضوع (هيئة الأمم المتحدة) كون فقرة مناسبة باستخدام الكلمات التالية :

(السلام العالمي - مؤتمر يالطا - الأمم المتحدة) (ص ١١٦) (٣ درجات)

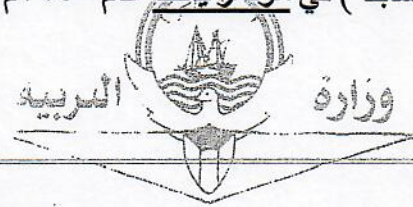
دعا الحلفاء في نهاية الحرب العالمية الثانية إلى وقف الحروب ، واقترح الرئيس الأمريكي روزفلت

إنشاء منظمة عالمية لتحقيق السلام العالمي ، فاجتمع زعماء دول الحلفاء (الولايات المتحدة - بريطانيا - الاتحاد

السوفيتي سابقاً) في مؤتمر يالطا عام ١٩٤٥م الدول المحبة للسلام لحضور مؤتمر سان فرانسيسكو لإبرام ميثاق الأمم المتحدة



(وما يراه المصحح مناسباً)



السؤال الثالث (اختياري) يتكون من (أ ، ب ، ج) :

(٤ درجات كل نقطة درجة)

(أ) قارن بين كل من :

وجه المقارنة	معركة ساراتوجا ص ٨٢	معركة فالمي ص ٩٠
الموقع	أمريكا	فرنسا
النتائج	- خسر الإنجليز جيشا كاملا من ٦ آلاف جندي واستسلم . - سيطر الأمريكيون على حوض هدسون . - اعترف فرنسا باستقلال الثوار الأمريكيين ودخل الحرب إلى جانبهم. - زاد تعاطف الشعوب الأوروبية مع الثورة الأمريكية . (يكتفى بنقطة)	- أنقذت أفكار الثورة الفرنسية من الضياع . - حالت دون سقوط باريس . - رفعت الروح المعنوية للفرنسيين . - تحول جيش الثورة بعدها من الدفاع إلى الهجوم وأصبح مصدر رعب للدول الأوروبية . (يكتفى بنقطة)

(٥ درجات كل نقطة درجة)

(ب) دلل على صحة العبارات التالية :

١- مهد التوتر الدولي بعد الحرب العالمية الأولى لقيام الحرب العالمية الثانية . ص ١٠٩ + ١٠٤
تمكن كل من النظام الفاشي في إيطاليا والنازي في ألمانيا من بناء جيوش قوية واستغل ضعف الأنظمة الديمقراطية لتحقيق أهدافه التوسعية ومنها:



- احتلال موسوليني أثيوبيا عام ١٩٣٦م.

- احتلال هتلر منطقة الراين ١٩٣٦م.

- مساندة هتلر وموسوليني نظام فرانكو في أسبانيا ١٩٣٨/١٩٣٩م.

- ضمت ألمانيا إليها كل من النمسا وطالبت بضم منطقة السويد في تشيكوسلوفاكيا.

- اعترضت بريطانيا وفرنسا على هذه الخطوة وعقد مؤتمر ميونخ ١٩٣٨م.

- هاجمت اليابان منشوريا في الصين.

(يكتفى بنقطتين)

(يكتفى بثلاث نقاط)

٢- اختلفت الحرب العالمية الثانية عن جميع الحروب التي سبقتها . ص ١١٣ + ١١٤

- حرب عالمية شاملة شملت معظم دول العالم بالاشتراك المباشر أو بالتحالف مع الدول .

- تسخير الطاقات البشرية حيث سخرت دول المحور أسرى الحروب للعمل في المصانع والحقول ودفع الحلفاء

بالإناث للعمل في هذا المجال بدل الرجال وفتحت الولايات المتحدة باب الهجرة للعمل .

- مواجهة بين أيديولوجيات وصراع بين نظريات دكتاتورية عنصرية تبنتها دول المحور بينما تبني الحلفاء

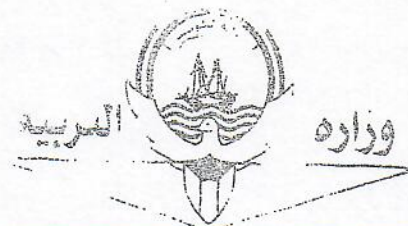
الديمقراطية التي تنادي بالمساواة وحقوق الإنسان .

- تنافس صناعي سخرت جميع الدول المشتركة في الحرب مقدراتها ومقدرات الشعوب التي احتلتها بهدف تطوير

الإنتاج الصناعي الحربي وتطوير الاقتصاد .

- سباق تسليح تكنولوجي لتطور أساليب القتال والأسلحة فاستخدمت التكنولوجيا في الأرض والجو والبحر فكان

الدمار أكبر وشمل جميع المجالات .





(٤ درجات كل نقطة درجة)

ج) اقرأ الفقرة التالية ثم أجب عما يليها من أسئلة :

" هناك شبه إجماع بين المؤرخين على ضعف شخصية ملك فرنسا "لويس السادس عشر" (١٧٧٣/١٧٩١م) والذي لعبت زوجته "ماري أنطوانيت" دوراً كبيراً في إضعاف مكانته الشعبية وتوجيه سياسة البلاد على عكس "نابليون بونابرت" الذي أصبح رجل فرنسا الأول وأعطاهما مجداً بشكل لم تكن تتوقعه ووضع مشروعاً لتنظيم التعليم في كل أنحاء فرنسا والعمل على مجانية التعليم للفقراء خاصة التعليم الثانوي "

- ١- ما الدور الذي لعبته "ماري أنطوانيت" في إضعاف مكانة "لويس السادس عشر" الشعبية ؟ ص ٨٤ (يكتفى بنقطتين)
 - اشتراكها في المؤامرات التي تعين وتعزل الوزراء .
 - عدم إحساسها بما يعانيه الشعب الفرنسي من آثار المجاعة مما خلق شعوراً عاماً بالاستياء لدى الشعب .
 - يرى الشعب الفرنسي فيها عدوة لأنها نمساوية الأصل .
- ٢- استخرج من الفقرة السابقة الإصلاحات التي قام بها "نابليون" في مجال التعليم . ص ٩٣
 - وضع مشروعاً لتنظيم التعليم في كل أنحاء فرنسا .
 - العمل على مجانية التعليم للفقراء خاصة التعليم الثانوي .



لدرجته الفني العام للأجانب

السؤال الرابع (اختياري) يتكون من (أ ، ب ، ج) :

أ) اكتب الدور الذي لعبته الشخصيات التالية :

(٥ درجات كل نقطة درجة)

(يكتفى بنقطتين)

- ١- "روزفلت" في إصلاح الاقتصاد الأمريكي بين الحربين العالميتين . ص ١٠٥
- تبنى سياسة اقتصادية جديدة فوضع خططا عرفت بالنظام الجديد . تقوم على الدخول في مشاريع كبرى بهدف تشغيل أكبر عدد ممكن من العمال لحل مشكلة البطالة .
- التوسع في المشاريع الإنمائية وبهذا خرج على السياسة الاقتصادية التي كانت تسير عليها بلاده من (الاقتصاد الرأسمالي الحر) إلى (اقتصاد رأسمالي موجه) .
- أعاد الثقة في قطاع البنوك والمؤسسات الكبرى حتى أخذت العجلة الاقتصادية في العمل من جديد ولكن الكساد الاقتصادي استمر حتى قيام الحرب العالمية الثانية .



- أقام النظام الفاشي وجسات

- ٢- الجنرال الروسي (زوكوف) في الحرب العالمية الثانية . ص ١١٢
- تقدم بالقوات الروسية بعد معركة ستالينجراد حتى احتل برلين .

٣- " موسوليني " في إيطاليا . ص ١٠٨ (يكتفى بنقطتين)

- وصل إلى الحكم عام ١٩٢٢م .
- الزحف إلى روما واستولى على السلطة .

(درجتان كل نقطة درجة)

ب) فرق بين كل مما يلي :

حزب اليقظة ص ٩١	حزب الجبروند ص ٩١
- حزب من المتطرفين المعروفين بعدائهم الشديد للملكية ، ويمتازون بأنهم أقلية شديدة التنظيم ذات اتصال قوي بالشعب وبجمهور باريس الذي كانت له اليد الطولى لإثارة الشارع في فرنسا .	- حزب من المعتدلين في فرنسا .

(6 درجات كل نقطة درجة)

(يكتفى بثلاث نقاط)

ج) عدد كل مما يلي :

١- أهم ملامح عالما المعاصر . ص ١١٥

- مخاوف من حرب نووية و اتفاقيات "سالت" لوقف التسلح واستخدام الأسلحة الفتاكة .
- هيئة الأمم المتحدة لحفظ السلام والأمن والتعاون بين دول العالم .
- ظهور الولايات المتحدة زعيمة الكتلة الغربية الرأسمالية ثم القوة الأعظم بعد تفكك الاتحاد السوفيتي .
- تقدم أوروبا في كافة المجالات وتفعيل مشروع مارشال ثم المجموعة الأوروبية ثم الإتحاد الأوروبي .
- اليابان قوة اقتصادية عظمى .
- تقدم علمي وانفجار معرفي .
- ظهور دول نامية ومتخلفة اقتصادياً واجتماعياً .
- زيادة سكانية هائلة .

(يكتفى بثلاث نقاط)

ص ١١٤

٢- النتائج السياسية للحرب العالمية الثانية .


- تغيرت خريطة أوروبا السياسية وجرى تعديل على كثير من الحدود .
- تراجعت مكانة دول أوروبا (بريطانيا وفرنسا) إلى الدرجة الثانية وتقلص نفوذها الاستعماري .
- انتهت الديكتاتوريات في إيطاليا وألمانيا واليابان .
- قامت أنظمة شيوعية في دول أوروبا الشرقية وظلت قائمة بمساندة الإتحاد السوفيتي وسقطت مع سقوطه .
- انقسام ألمانيا بعد احتلالها إلى قسمين غربي يتبع النظام الرأسمالي وشرقي يتبع النظام الشيوعي ، وقسمت برلين إلى قسمين يفصلهما جدار عازل .
- لم تصب إيطاليا بخسائر مباشرة في أراضيها وإنما فقدت كل مستعمراتها .
- فقدت اليابان كل ممتلكاتها التي حصلت عليها منذ القرن التاسع ودمرت أراضيها .
- برز قطبان جديان في العالم هما الولايات المتحدة والإتحاد السوفيتي (سابقاً) باعتبارهما أقوى دولتين في العالم .

تم التعميل من



السؤال الخامس (اختياري) يتكون من (أ - ب - ج) :
أ) لاحظ الصورة التي أمامك ثم أجب عن الأسئلة التالية :

(٤ درجات كل نقطة درجة)



- ١- اكتب الحدث التاريخي الذي تدل عليه الصورة المقابلة ؟
ص ٧٩
- حفلة شاي بوسطن .
- ٢- في أي عام وقع هذا الحدث ؟ ص ٧٩
- ١٧٧٣م .
- ٣- عدد النتائج التي ترتبت على هذا الحدث . ص ٧٩
- اغلاق ميناء بوسطن حتى يتم دفع ثمن الشاي .
- تعيين الجنرال جيدج حاكما عسكريا على بوسطن .
- منع الاجتماعات الإباذن من السلطات العسكرية الإنجليزية
وقد عرفت تلك القوانين باسم القوانين الجائرة . (يكتفى بنقطتين)

(درجتين كل نقطة درجة)

ب) ما أوجه الاختلاف بين كل من : ص ٧٥

مجلس اللوردات	مجلس العموم
- يضم نواب الطبقتين الأرستقراطية الإقطاعية ورجال الدين. - يعينهم الملك الإنجليزي - يمثل الارستقراطية الإنجليزية. (يكتفى بنقطة)	- يضم نواب الطبقتين الوسطى الزراعية والوسطى في المدن البرجوازية. - ينتخبهم الشعب. - يمثل الديمقراطية في أجل صورها. (يكتفى بنقطة)

(٧ درجت كل نقطة درجة)

(يكتفى بنقطتين)



- ١- قيام الثورة الشيوعية في روسيا عام ١٩١٧م . ص ١٠٦
- فساد الحكم القيصري في روسيا واستبداده .
- شخصية " لينين " وقدرته على إقناع الجماهير من خلال بعض شعاراته (السلام للجيش - الأرض للفلاحين - الغذاء للجميع - الحكم للسوفيت) وتنظيم الحزب الشيوعي .
- الهزائم الكبرى التي حلت بالجيش الروسي منذ عام ١٩٠٥م على يد اليابان ثم الحرب العالمية الأولى وسقوط ملايين من الجرحى والقتلى .
- سوء الحالة الاقتصادية التي تأثر بها العمال والفلاحون وانتشار البطالة والمجاعات والأمراض .
- ٢- وقفت عصبة الأمم عاجزة أمام القضايا المهمة . ص ١٠٤
- عدم التزام الدول الكبرى بميثاق عصبة الأمم .
- لم يكن لها قوة عسكرية قادرة على تنفيذ قراراتها .
- أصبحت أداة لمصلحة الدول الكبرى في ذلك الوقت فانهارت هذه المنظمة نتيجة لسياسية الدول المنتصرة في الحرب .
- لم تشارك الولايات المتحدة في عضويتها على الرغم من أنها صاحبة الفكرة .

(يكتفى بنقطتين)

٣- كانت القارة الأوروبية محور العلاقات الدولية في بداية القرن العشرين . ص ٩٧

- مركز الثورة الصناعية .
- نشوء الإمبراطوريات الكبرى .
- وفرة الموارد والإمكانات الاقتصادية .
- النفوذ الاستعماري في جميع القارات .

(يكتفى بثلاث نقاط)

التربية

وزارة

توجيهه الفني العام للاجتماعات