



وزارة التربية

مكتب الوكيل المساعد للتعليم العام
امتحان الفترة الدراسية الأولى
الصف العاشر – الشلل الدماغي
العام الدراسي 2018 / 2019
تاريخ الكويت

اسم الطالب /
الصف:
الشعبة:
تم تصحيح
الامتحان ونماذج الإجابة
وأرشفها إلكترونياً
من قبل الموجه الفني
أ. حمد إبراهيم البحوه

رقم السؤال	الدرجة	توقيع المصحح
1		
2		
3		
4		
5		
6		
7		
8		
9		
10		
المجموع		



الدرجة بالحروف :





دولة الكويت

وزارة التربية

التوجيه الفني العام للاجتماعيات

امتحان الفترة الدراسية الأولى - العاشر

للعام الدراسي ٢٠١٨-٢٠١٩م



المادة : تاريخ دولة الكويت

الشلل الدماغي

• تعليمات الامتحان



- ١- استعن بربك عز وجل فهو خير معين .
- ٢- تأكد أن الامتحان من (٣) ورقات مختلفات .
- ٣- زمن الامتحان ساعتان وربع .
- ٤- اقرأ الأسئلة بتمعن ثم أجب حسب ما هو مطلوب منك .
- ٥- أجب عن جميع الأسئلة .
- ٦- يمنع استخدام المزيل الأبيض (الكوركتور) .

مع تمنياتنا لكم بالنجاح والتوفيق ،،،



العام الدراسي: ٢٠١٨ / ٢٠١٩ م
الزمن: ساعتان وربع
عدد الأوراق: (٣)

امتحان نهاية الفترة الدراسية الأولى
لمادة تاريخ الكويت
للفصل العاشر
(الشلل الدماغي)

وزارة التربية
التوجيه الفني العام للاجتماعيات
التربية الخاصة

اجب عن جميع الأسئلة

السؤال الأول : و يتكون من (أ - ب - ج)

(أ) صنف اسماء المظاهر الطبيعية فيما يلي حسب ما يناسبها في الجدول التالي بوضع الرقم:

(١ - الروضتين ٢ - وربة ٣ - فيلكا ٤ - الباطن)

جزر	سهول	أودية

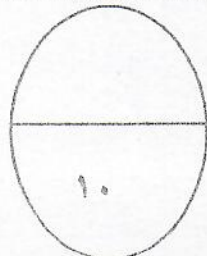
(ب) اختر للمجموعة (أ) ما يرتبط بها من المجموعة (ب) بوضع الرقم المناسب :

م	المجموعة (أ)	الرقم المناسب	المجموعة (ب)
١	بناء سور الكويت الأول.	الشيخ مبارك الصباح
٢	استقرار اسرة الأمير عبد الرحمن آل سعود في الكويت	الشيخ صباح الأول بن جابر
٣	عقد اتفاقية الحماية مع بريطانيا	الشيخ محمد بن صباح
		الشيخ عبدالله الأول بن صباح

(ج) صوب ما تحته خط في العبارات التالية مستعيناً بما بين القوسين بوضع الرقم :

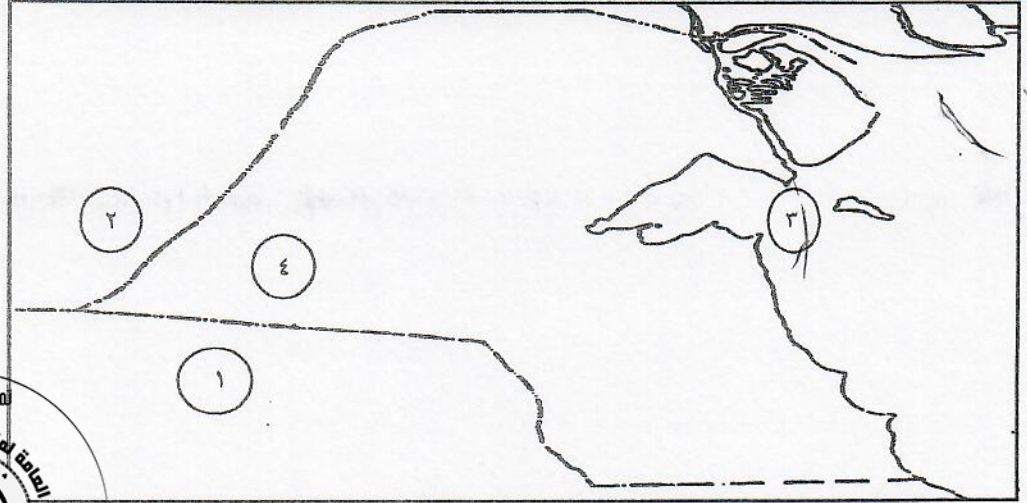
(١ - المسابلة ٢ - الطواش ٣ - النداف ٤ - القفال)

م	العبرة	التصويب
١	يطلق على من يقوم بتنجيد المساند والفرش اسم <u>القفاص</u>
٢	التسهيلات التي كانت تمنح لتجار البادية تسمى <u>الترانزيت</u>
٣	انتهاء موسم الغوص على اللؤلؤ يسمى <u>الدشه</u>



السؤال الثاني : و يتكون من (أ - ب - ج) :

أ) امامك خريطة دولة الكويت الصماء اكتب الرقم الدال على العبارات التالية:



- معركة الرقة يمثلها على الخريطة الرقم
- سهل الدبدبة يمثلها على الخريطة الرقم
- المملكة العربية السعودية يمثلها على الخريطة الرقم

ب) اكتب المفاهيم والمصطلحات الدالة على العبارات التالية مستعيناً بما بين القوسين بوضع الرقم:

- (١- الباشا ٢- قائم مقام ٣- اليعاربة ٤- العتوب ٥- بني خالد)

المفهوم	العبارة
.....	مجموعة من العشائر أو الأسر التي تنتمي الى عدة قبائل من أبرزها قبيلة عنزة .
.....	قبيلة عربية كان يمتد نفوذها من قطر جنوبا الى البصرة شمالا بمحاذاة ساحل الخليج العربي .
.....	لقب قديم منحه الدولة العثمانية لشيخ الكويت .

ج) املأ الفراغ في المخططات السهمية التالية مستعيناً بما بين القوسين بوضع الرقم :

- (١- الهامور ٢- اليوم ٣- الجالبيوت ٤- النقرور)

أنواع السفن الكويتية



البغلة

.....

.....

الشوعي


أنواع الأسماك الكويتية

الزبيدي

.....

.....

السيبي



السؤال الثالث : و يتكون من (أ - ب) :

(أ) اكمل العبارات التالية بما يناسبها مما درست مستعينا فيما بين القوسين وذلك بوضع الرقم المناسب :

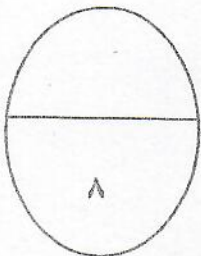
- (١- صيد الأسماك ٢- روسيا ٣- صباح السالم ٤- عبدالله السالم ٥- صناعة السفن ٦- البرتغال)

- ١- الدولة التي لها أطماع في الكويت وذلك بجعلها نهاية سكة حديد لمشروع كابنيست هي
٢- حرفة بحرية قديمة لم تتوقف في أية فترة من الفترات التي مرت على الكويت وأهلها تسمى
٣- الشيخ الذي تم في عهده أول تعداد للسكان في دولة الكويت هو
٤- أول دولة استعمارية في منطقة الخليج العربي هي



(ب) ضع خطا تحت الخيار الصحيح من بين الخيارات التي تلي كل عبارة

- ١- المدرسة النظامية الأهلية الأولى التي أنشئت في الكويت عام ١٩١١م تسمى :
(الأحمدية - المباركية - القبلية - المرقاب)
٢- تعتبر الجزر الكويتية غير مأهولة بالسكان منذ عام :
(١٩٩٠م - ١٩٨٠م - ١٩٧٠م - ١٩٦٠م)
٣- كانت العلاقة الكويتية العثمانية علاقة إسمية قائمة على الولاء :
(السياسي - الديني - الاجتماعي - الاقتصادي)
٤- الميناء الذي اتخذه الهولنديون مركزا تجاريا لهم في الخليج العربي اسمه :
(بندر عباس - البصرة - مسقط - عدن)



انتهت الأسئلة



العام الدراسي: ٢٠١٨ / ٢٠١٩ م
الزمن : ساعتان وربع
عدد الأوراق: (٣)

امتحان نهاية الفترة الدراسية الأولى
لمادة تاريخ الكويت
للسف العاشر
(الشلل الدماغي)

نموذج الإجابة

اجب عن جميع الأسئلة

السؤال الأول : و يتكون من (أ - ب - ج)

(أ) صنف أسماء المظاهر الطبيعية فيما يلي حسب ما يناسبها في الجدول التالي بوضع الرقم:

$$(\xi = \xi \times 1)$$

(١- الروضتين ٢- وربة ٣- فيلكا ٤- الباطن)

جزر	سهول	أودية
٢... ٣...	١... ٢... ٣...	٤... ٥... ٦...
ص ٢٨	ص ٢٧	ص ٢٥

ب) اختر للمجموعة (أ) ما يرتبط بها من المجموعة (ب) بوضع الرقم المناسب : (٣=٣×١)

م	المجموعة (أ)	الرقم المناسب	المجموعة (ب)
١	بناء سور الكويت الأول. ص ٧٤	٣	الشيخ مبارك الصباح
٢	استقرار اسرة الأمير عبد الرحمن آل سعود في الكويت ص ٧٧	-	الشيخ صباح الأول بن جابر
٣	عقد اتفاقية الحماية مع بريطانيا . ص ١٠٠	٢	الشيخ محمد بن صباح
	تم التعميل من	١	الشيخ عبدالله الأول بن صباح

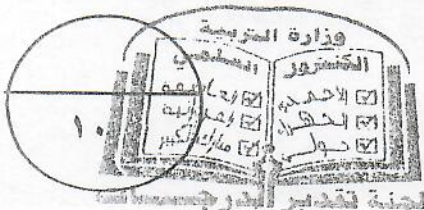
تم التعميل من

www.sskwait.net

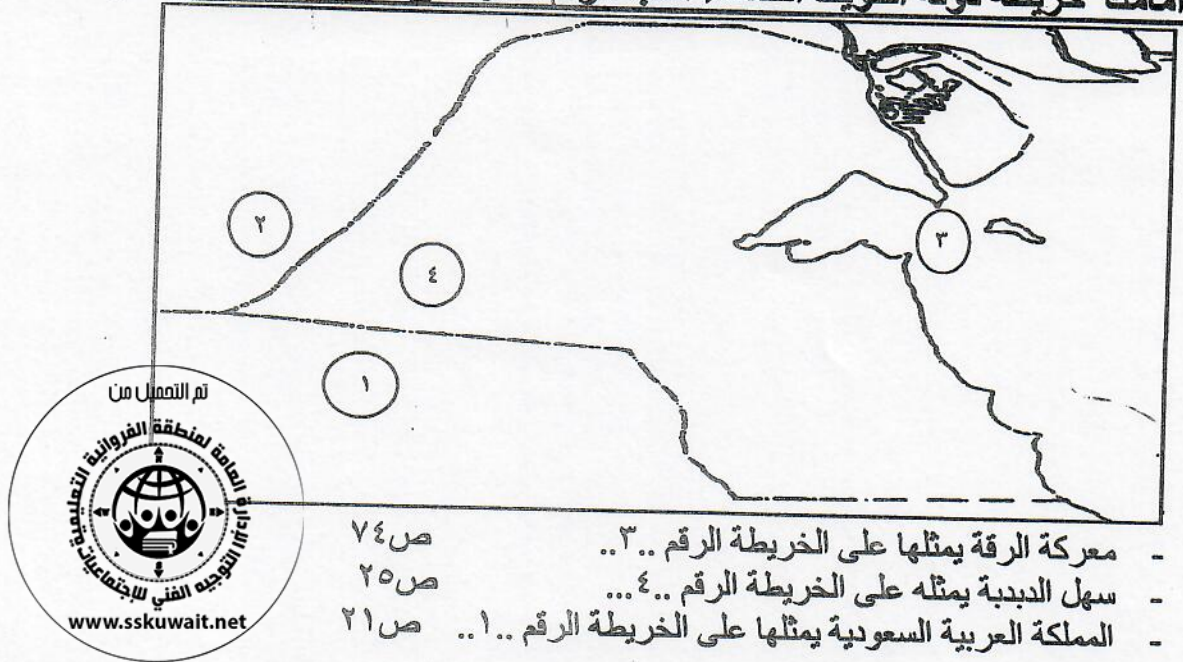
ج) صوب ماتحتہ خط فی العبارات التالية مستعينا بما بين القوسين بوضع الرقم : ($3=3 \times 1$)

(١- المسابقة ٢- الطواش ٣- النذاف ٤- القفال)

م	العبارة	التصويب
١	يطلق على من يقوم بتنجيد المساند والفرش اسم <u>القفاص</u> . ص ٥٥	٣..
٢	التسهيلات التي كانت تمنح لتجار البادية تسمى <u>الترانزيت</u> . ص ٨١	١..
٣	انتهاء موسم الغوص على اللؤلؤ يسمى <u>الدشه</u> . ص ٤٦	٤..



السؤال الثاني : و يتكون من (أ - ب - ج) :
(أ) امامك خريطة دولة الكويت الصماء اكتب الرقم الدال على العبارات التالية: (٣=٣×١)



- معركة الرقة يمثلها على الخريطة الرقم ..٣..
- سهل الدبدبة يمثلها على الخريطة الرقم ..٤..
- المملكة العربية السعودية يمثلها على الخريطة الرقم ..١..

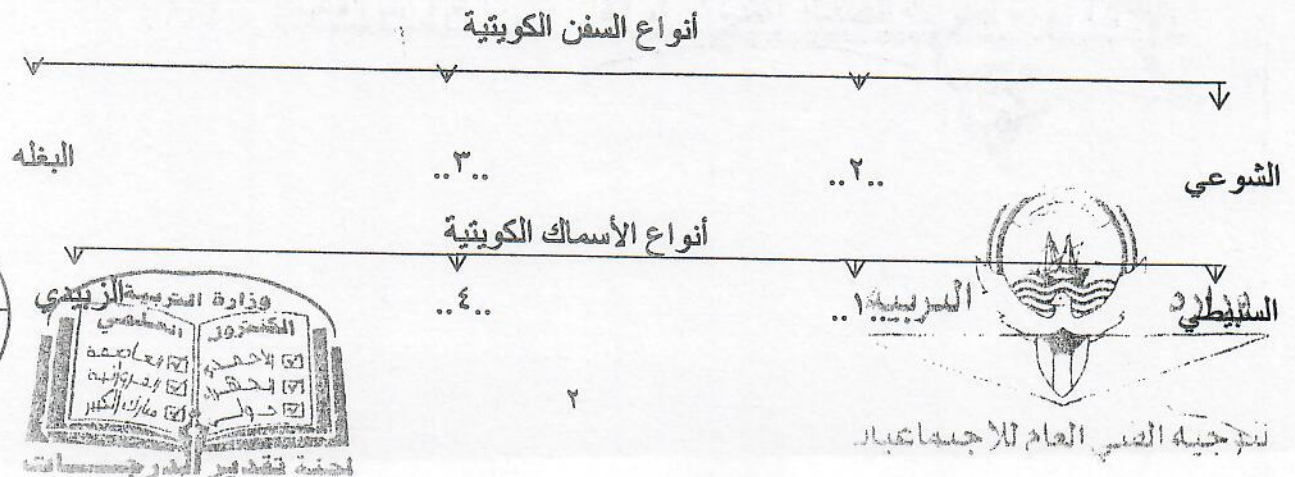
(ب) اكتب المفاهيم والمصطلحات الدالة على العبارات التالية مستعينا بما بين القوسين بوضع الرقم: (٣=٣×١)

- (١- الباشا ٢- قائم مقام ٣- اليعاربة ٤- العتوب ٥- بني خالد)

المفهوم	العبرة
٤..	مجموعة من العشائر أو الأسر التي تنتمي الي عدة قبائل من أبرزها قبيلة عنزة . ص ٦٩
٥..	قبيلة عربية كان يمتد نفوذها من قطر جنوبا الي البصرة شمالا بمحاذاة ساحل الخليج العربي . ص ٧٢
٢..	لقب قديم منحتة الدولة العثمانية لشيخ الكويت . ص ٩٠

(ج) املأ الفراغ في المخططات السهمية التالية مستعينا بما بين القوسين بوضع الرقم : (٤=٢×٢) ص ٤٣ ص ٤٤

- (١- الهامور ٢- البوم ٣- الجالبوت ٤- النقرور)



السؤال الثالث : و يتكون من (أ - ب) :

أ) اكمل العبارات التالية بما يناسبها مما درست مستعينا فيما بين القوسين وذلك بوضع الرقم المناسب :

(٤ = ٤ × ١)

١- صيد الأسماك ٢- روسيا ٣- صباح السالم ٤- عبدالله السالم ٥- صناعة السفن ٦- البرتغال (

١- الدولة التي لها أطماع في الكويت وذلك بجعلها نهاية سكة حديد لمشروع كابنيست هي ٢.. ص ٩٨

٢- حرفة بحرية قديمة لم تتوقف في أية فترة من الفترات التي مرت على الكويت وأهلها تسمى ١.. ص ٤٢

ص ٣٦

٣- الشيخ الذي تم في عهده أول تعداد للسكان في دولة الكويت هو ٤..

ص ٨٥

٤- أول دولة استعمارية في منطقة الخليج العربي هي ٦..

ب) ضع خطا تحت الخيار الصحيح من بين الخيارات التي تلي كل عبارة: (٤ = ٤ × ١)

١- المدرسة النظامية الأهلية الأولى التي أنشئت في الكويت عام ١٩١١م تسمى : ص ٩٦

(الأحمديّة - المباركية - القبليّة - المرقاب)

ص ٢٩

٢- تعتبر الجزر الكويتية غير مأهولة بالسكان منذ عام :

(١٩٩٠م - ١٩٨٠م - ١٩٧٠م - ١٩٦٠م)

ص ٩٠

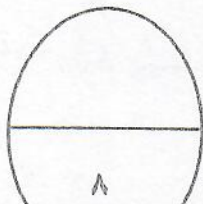
٣- كانت العلاقة الكويتية العثمانية علاقة إسمية قائمة على الولاء :

(السياسي - الديني - الاجتماعي - الاقتصادي)

ص ٨٧

٤- الميناء الذي اتخذته الهولنديون مركزا تجاريا لهم في الخليج العربي اسمه :

(بندر عباس - البصرة - مسقط - عدن)



انتهت الأسئلة



السجينة الشهي العام للاجتماعات