



وزارة التربية

مكتب الوكيل المساعد للتعليم العام

امتحان الفترة الدراسية الثانية

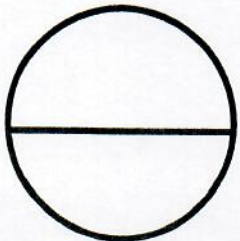
الصف الحادي عشر - الشلل الدماغي

العام الدراسي 2018 / 2019

مبادئ علم الجغرافيا وعلم الاقتصاد

اسم الطالب /  
الصف:  
الشعبة:  
تم تصحيح  
الاختصاصات ونماذج الإجابة  
من قبل الموجه الفني  
أ. حمد إبراهيم البهوه

رقم السؤال	الدرجة	توقيع المصحح
1		
2		
3		
4		
5		
6		
7		
8		
9		
10		
المجموع		



الدرجة بالحروف :



دولة الكويت

وزارة التربية

التوجيه الفني العام للاجتماعيات

امتحان الفترة الدراسية الثانية - الصف الحادي عشر أدبي ( الشلل الدماغي )

للعام الدراسي ٢٠١٨/٢٠١٩م

المادة : مبادئ علم الجغرافيا و علم الاقتصاد

• **تعليمات الامتحان**



- ١- استعن بالله عز وجل فهو خير معين
- ٢- تأكد أن الامتحان من ( ٥ ) ورقات مختلفات .
- ٣- زمن الامتحان ساعتان وربع .
- ٤- أقرأ الأسئلة بتمعن ثم أجب حسب ما هو مطلوب منك .
- ٥- أجب عن جميع الأسئلة .
- ٦- يمنع استخدام المزيل الأبيض (الكوريكتور) .

مع تمنياتنا لكم بالنجاح والتوفيق ،،،



www.sskuwait.net



دولة الكويت

وزارة التربية

التوجيه الفني العام للاجتماعيات

العام الدراسي: ٢٠١٨ - ٢٠١٩م

الزمن: ساعتان وربع

عدد الأوراق: ( ٥ )

## امتحان الفترة الدراسية الثانية

لمادة مبادئ علم الجغرافيا وعلم الاقتصاد للصف الحادي عشر (الأدبي)

( الشلل الدماغي )

أجب عن جميع الأسئلة



السؤال الأول : ويتكون من [ أ ، ب ، ج ]

( أ ) اختر البديل المناسب من بين البدائل التالية :

١ - تغطي البحار والمحيطات من المساحة الكلية لسطح الكرة الأرضية نسبة قدرها :  
أ - ٥١%      ب - ٦١%      ج - ٧١%      د - ٨١%

٢ - المسافة بين قمتين متتاليتين تسمى :

أ - طول الموجة      ب - ارتفاع الموجة      ج - سرعة الموجة      د - تكرار الموجة

٣ - طبقة من الغلاف الجوي تنشأ فيها السحب والعواصف والرياح والأمطار تسمى :

أ - التروبوسفير      ب - الستراتوسفير      ج - الميزوسفير      د - الثروموسفير

٤ - الرياح التي تهب على مصر في فصل الربيع وتضرب العراصف الترابية الشديدة والحرائق وارتفاع الحرارة تسمى :

أ - السموم      ب - الخماسين      ج - القبلي      د - السولانو

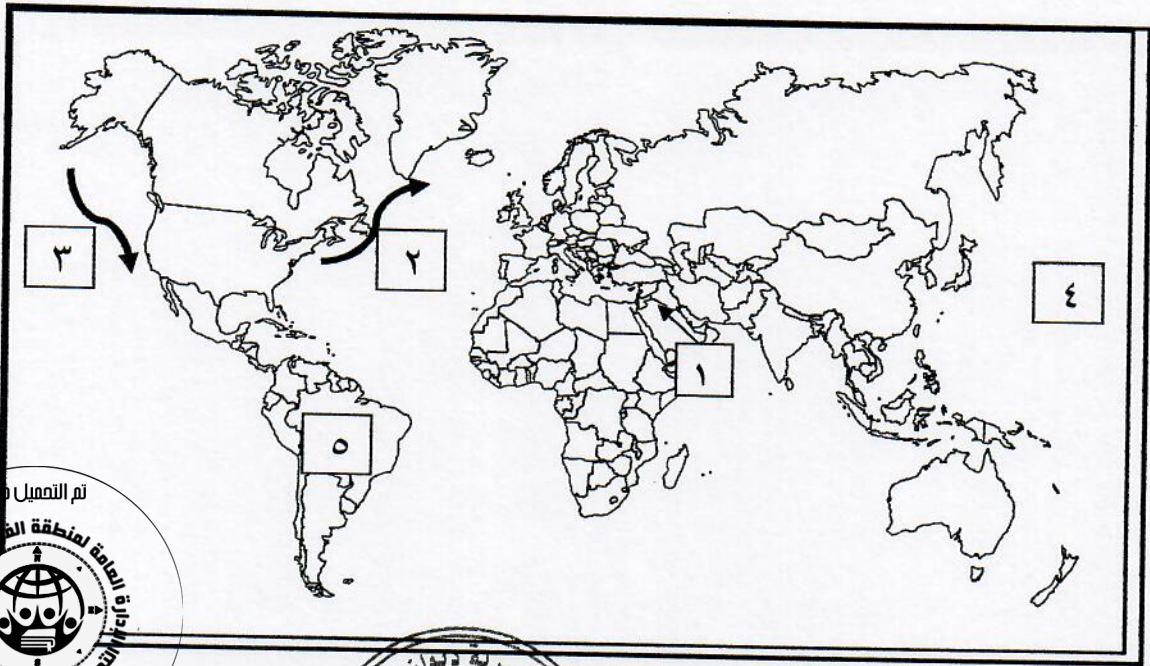
٥ - الغابات التي تنتشر حول خط الاستواء حتى دائرة عرض ٥ شمالاً وجنوباً تسمى :

أ - الموسمية      ب - المعتدلة      ج - المخروطية      د - الاستوائية

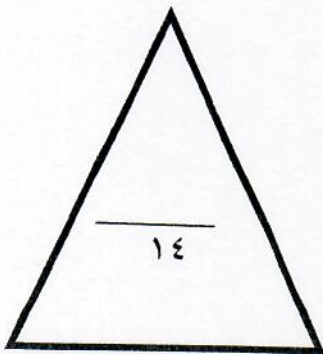
( ب ) اختر للمجموعة (أ) ما يناسبها من المجموعة (ب) بوضع الرقم المناسب في الجدول التالي:

م	المجموعة (أ)	الرقم المناسب	المجموعة (ب)
١	هيئة حكومية أنشئت لوضع رؤية دولة الكويت للتنمية .	(.....)	بنك الكويت المركزي
٢	الإشراف والرقابة على النظام المصرفي في دولة الكويت .	(.....)	المجلس الأعلى للتخطيط
٣	الجهة المسؤولة عن وضع الميزانية العامة للدولة	(.....)	الإدارة العامة للجمارك
٤	مراقبة وصول البضائع وخروجها من الدولة	(.....)	وزارة المالية

تابع : السؤال الأول  
( ج ) أمامك خريطة العالم الصماء أكتب الرقم الدال على كل مما يلي :



- \* تيار الخليج الدافئ يمثله على الخريطة الرقم (.....)
- \* رياح السموم يمثله على الخريطة الرقم (.....)
- \* المحيط الهادي يمثله على الخريطة الرقم (.....)
- \* تيار كاليفورنيا البارد يمثله على الخريطة الرقم (.....)
- \* قارة أمريكا الجنوبية يمثله على الخريطة الرقم (.....)



## السؤال الثاني : ويتكون من [ أ - ب ] :

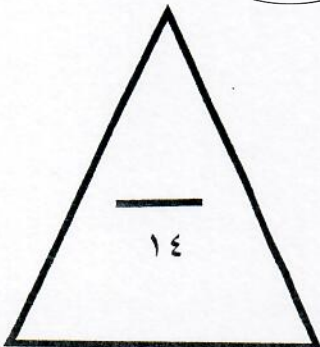
( أ ) أكمل العبارات بما يناسبها من الكلمات التالية بوضع الرقم في مكانه المناسب :

- ١ - الضباب  
٢ - محميات  
٣ - اللاب  
٤ - الطقس  
٥ - التبادلي  
٦ - المدى الحراري اليومي  
٧ - الإقليم الحيوي

- الحالة الجوية السائدة وفي مكان معين خلال مدة زمنية قصيرة .....  
- الفرق بين درجة الحرارة اليومية القصوى ودرجة الحرارة اليومية الدنيا .....  
- عبارة عن ذرات مائية خفيفة الوزن تتطاير في الهواء بالقرب من سطح الأرض .....  
- حيز مكاني من سطح الأرض فيه أشكال وأنواع معينة من الكائنات الحية بحيث تميزه عن غيره .....  
- قبائل تعيش في شمال النرويج والسويد وفنلندا ، تمارس صيد الأسماك وتربي حيوان الرنة .....  
- مساحات من اراضي الدولة وضعتها الدولة بقانون يكفل حماية مصادرها الحيوية والتاريخية .....  
- أشجار ضخمة معمرة تخزن مياه الامطار وتنتشر في السودان .....

( ب ) ظلل المربع (ص) إذا كانت العبارة صحيحة والمربع (خ) إذا كانت خاطئة :

ص	خ	العبارة
ص	خ	١- يحدث المد والجزر بسبب قوة جذب الشمس والقمر لمياه البحار ودوران الأرض .
ص	خ	٢- تتميز طبقة الميزوسفير من الغلاف الجوي بارتفاع الحرارة بسبب احتراق الشهب والنيازك لها .
ص	خ	٣- النظام المئوي ( سيلبوس ) يقيس الحرارة من ٢٠ درجة مئوية
ص	خ	٤- ذبابة التسي تسي تحمل حيوان طفيلي يسبب مرض النوم الإفريقي .
ص	خ	٥- تعتبر السكوايا من أحدث الأشجار على وجه الأرض .
ص	خ	٦- النظام المالي مجموعة من القواعد والإجراءات يسود فيها الفوضى وعدم التنظيم
ص	خ	٧- يهدف سوق رأس المال لتوفير سيولة نقدية طويلة الأجل وكبيرة نسبياً .



### السؤال الثالث : ويتكون من [ أ - ب ] :

(أ) اختر أرقام مدلولات العبارات التالية من بين القوسين:

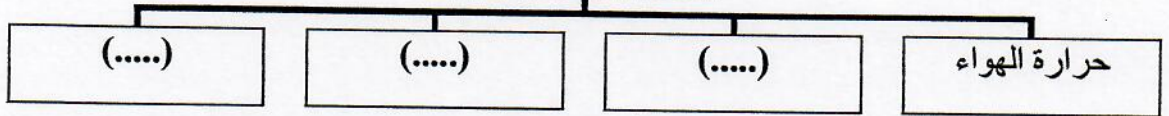
- { ١- الضوئية ٢- الغلاف الجوي ٣- البنوك المتخصصة ٤- الهادي  
٥- تعرفه جمركية ٦- التجارية ٧- الدهاليز }

- ١- أكبر المسطحات المائية ويغطي ثلث سطح الكرة الأرضية يسمى بالمحيط . [.....]  
٢- الغطاء سميك من الغازات يحيط بالكرة الأرضية من جميع الجهات يسمى [.....]  
٣- أشعة مرئية تقدر نسبتها بنحو ٤٥% من جملة الإشعاع الشمسي تسمى [.....]  
٤- رياح تهب على العروض من مناطق الضغط المرتفع وراء المدارين إلى المنخفض الاستوائي [.....]  
٥- الغابات الكثيفة المتشابكة وتحجب ٤٠% من الأشعة الضوئية وبها مستنقعات وبرك تسمى [.....]  
٦- المؤسسات المالية التي لا تزال نشاط البنوك التجارية وتهتم في إنعاش قطاعات خاصة تسمى [.....]  
٧- الضريبة تفرض على السلع في حالة عبورها خارج حدود الدولة أو دخولها تسمى [.....]


(ب) أكمل المخططات السهمية التالية بما يناسبها مستعيناً بما بين القوسين بوضع الرقم المناسب:

- { ١- الحشائش ٢- القوة الناتجة عن دوران الأرض حول محورها ٣- الضغط الجوي ٤- الصحاري  
٥- التكاثر ٦- الرياح ٧- السواحل }

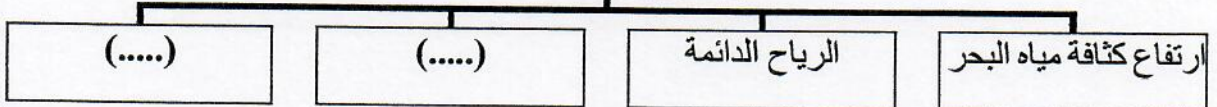
#### عناصر المناخ



#### الأقاليم الحيوية



#### أسباب نشأة التيارات البحرية



**السؤال الرابع : ويتكون من : [ أ - ب ]**

**(أ) ضع عنواناً مناسباً للأشكال التالية مستعيناً بما يلي وذلك بوضع الرقم في مكانه المناسب:**

١- المطر التضاريسي	٢- الفقمة	٣- المناطق الحرارية
٤- وانجاري مائي	٥- الترمومتر	٦- الطوقان
	٧- بحر قزوين	




.....



.....



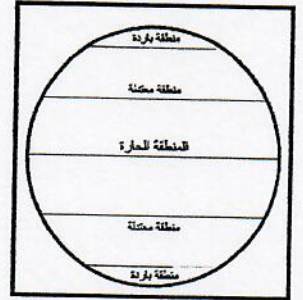

.....



....



.....



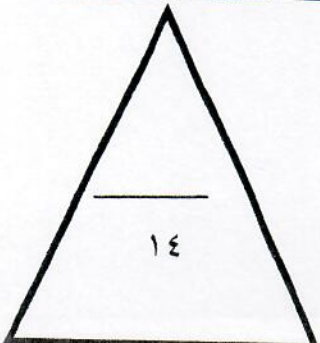
....

**(ب) صحح ما تحته خط من الكلمات التالية بوضع الرقم في مكانه المناسب :**

- { (١) اليونان (٢) الأومبو (٣) الخماسين (٤) الولايات المتحدة  
(٥) عكسية (٦) الادخار (٧) الأمازون }

(.....)	- العلاقة بين الضغط الجوي و الحرارة علاقة <u>طردية</u>
(.....)	- رياح تهب على مصر نحو ٥٠ يوماً تسمى <u>القبلي</u>
(.....)	- الإناكوندا أضخم ثعبان وأخطرها ويكثر تواجده في حوض <u>الراين</u>
(.....)	- شجرة من أكثر الأشجار تحملاً للظروف القاسية تسمى <u>المسافر</u>
(.....)	- الدولة التي تنتج قبل ١٠٠ عام ثلثي الفراء في العالم اسمها <u>سويسرا</u> .
(.....)	- الدولة التي عالجت قضايا الإنكماش والبطالة في المشاريع الصغيرة اسمها <u>الصين</u> .
(.....)	- محاور التخطيط المالي لميزانية الأسرة هي المورد المالي والمصروفات والإنفاق

انتهت الأسئلة





امتحان الفترة الدراسية الثانية

لمادة مبادئ علم الجغرافيا وعلم الاقتصاد للصف الحادي عشر (الأدبي)

( الشلل الدماغي )

أجب عن جميع الأسئلة



السؤال الأول : ويتكون من [ أ ، ب ، ج ]

( أ ) اختر البديل المناسب من بين البدائل التالية : ( ٥ = ٥ × ١ )

١ - تغطي البحار والمحيطات من المساحة الكلية لسطح الكرة الأرضية نسبة قدرها :  
أ - ٥١% ب - ٦١% ج - ٧١% د - ٨١%

ص ١٠٩

٢ - المسافة بين قمتين متتاليتين تسمى :  
أ - طول الموجة ب - ارتفاع الموجة ج - سرعة الموجة د - تكرار الموجة

ص ١١٤

٣ - طبقة من الغلاف الجوي تنشأ فيها السحب والعواصف والرياح والأمطار تسمى :  
أ - التروبوسفير ب - الستراتوسفير ج - الميزوسفير د - الثروموسفير

ص ١٢١

٤ - الرياح التي تهب على مصر في فصل الربيع وتسبب العواصف الترابية الشديدة والحرائق وارتفاع الحرارة تسمى :  
ص ١٣١

أ - السموم ب - الخماسين ج - القبلي د - السولانو

٥ - الغابات التي تنتشر حول خط الاستواء حتى دائرة عرض ٥ شمالاً وجنوباً تسمى :  
ص ١٤٥  
أ - الموسمية ب - المعتدلة ج - المخروطية د - الاستوائية

( ب ) اختر للمجموعة (أ) ما يناسبها من المجموعة (ب) بوضع الرقم المناسب في الجدول التالي:

( ٤ = ٤ × ١ ) ص ٢٧٣ - ٢٧٤

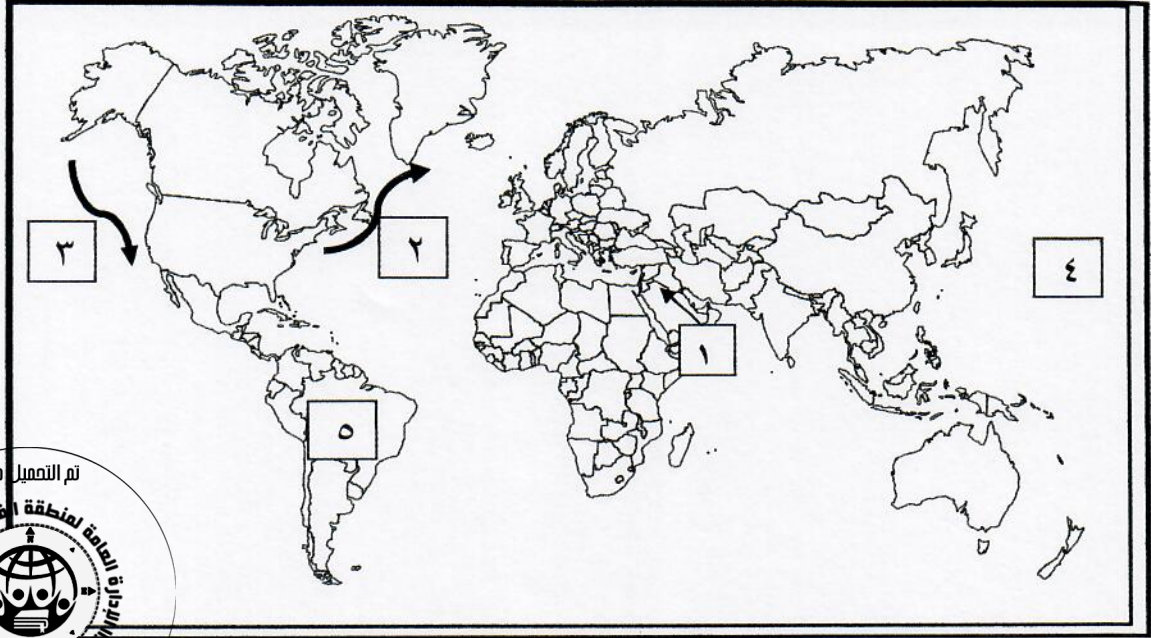
م	المجموعة (أ)	الرقم المناسب	المجموعة (ب)
١	هيئة حكومية أنشئت لوضع رؤية دولة الكويت التنموية .	٢	بنك الكويت المركزي
٢	الإشراف والرقابة على النظام المصرفي في دولة الكويت .	١	المجلس الأعلى للتخطيط
٣	الجهة المسؤولة عن وضع الميزانية العامة للدولة	٤	الإدارة العامة للجمارك
٤	مراقبة وصول البضائع وخروجها من الدولة	٣	وزارة المالية





تابع : السؤال الأول

( ج ) أمامك خريطة العالم الصماء أكتب الرقم الدال على كل مما يلي : ( ٥ = ٥ × ١ )



\* تيار الخليج الدافئ يمثله على الخريطة الرقم (٢) ص ١١٦

\* رياح السموم يمثله على الخريطة الرقم (١) ص ١٣١

\* المحيط الهادي يمثله على الخريطة الرقم (٤) ص ١١٦

\* تيار كاليفورنيا البارد يمثله على الخريطة الرقم (٣) ص ١١٦

\* قارة أمريكا الجنوبية يمثله على الخريطة الرقم (٥) ص ١١٦



## السؤال الثاني : ويتكون من [ أ - ب ] :

( أ ) أكمل العبارات بما يناسبها من الكلمات التالية بوضع الرقم في مكانه المناسب : ( ٧ = ٧ × ١ )

١ - الضباب      ٢ - محميات      ٣ - اللاب      ٤ - الطقس  
٥ - التبليدي      ٦ - المدى الحراري اليومي      ٧ - الإقليم الحيوي

- الحالة الجوية السائدة وفي مكان معين خلال مدة زمنية قصيرة [ ٤ ] ص ١٢٢  
- الفرق بين درجة الحرارة اليومية القصوى ودرجة الحرارة اليومية الدنيا [ ٦ ] ص ١٢٥  
- عبارة عن ذرات مائية خفيفة الوزن تتطاير في الهواء بالقرب من سطح الأرض [ ١ ] ص ١٣٧  
- حيز مكاني من سطح الأرض فيه أشكال وأنواع معينة من الكائنات الحية بحيث تميزه عن غيره [ ٧ ] ص ١٤٣  
- قبائل تعيش في شمال النرويج والسويد وفنلندا ، تمارس صيد الأسماك وتربي حيوان الرنة [ ٣ ] ص ١٧٠  
- مساحات من أراضي الدولة وضعتها الدولة بقانون يكفل حماية مصادرها الحيوية والتاريخية [ ٢ ] ص ١٧٧  
- أشجار ضخمة معمرة تخزن مياه الأمطار وتنتشر في السودان [ ٥ ] ص ١٦٠

( ب ) ظلل المربع (ص) إذا كانت العبارة صحيحة والمربع (خ) إذا كانت خاطئة : ( ٧ = ٧ × ١ )

ص	خ	العبارة
ص	خ	١- يحدث المد والجزر بسبب قوة جذب الشمس والقمر لمياه البحار ودوران الأرض . ص ١١٣
ص	خ	٢- تتميز طبقة الميزوسفير من الغلاف الجوي بارتفاع الحرارة بسبب احتراق الشهب والنيازك لها . ص ١٢١
ص	خ	٣- النظام المئوي ( سيلوس ) يقيس الحرارة من ٣٢ درجة . ص ١٢٥
ص	خ	٤- ذبابة التسي تسي تحمل حيوان طفيلي يسبب مرض النوم الإفريقي . ص ١٤٩
ص	خ	٥- تعتبر السكوايا من أحدث الأشجار على وجه الأرض . ص ١٥٣
ص	خ	٦- النظام المالي مجموعة من القواعد والإجراءات يسود فيها الفوضى وعدم التنظيم . ص ٢٥١
ص	خ	٧- يهدف سوق رأس المال لتوفير سيولة نقدية طويلة الأجل وكبيرة نسبياً . ص ٢٥٤

تم التمهيل من



وزارة  
التربية  
لجنة تقدير الدرجات

### السؤال الثالث : ويتكون من [ أ - ب ] :

( أ ) اختر أرقام مدلولات العبارات التالية من بين القوسين : ( ٧ = ٧ × ١ )

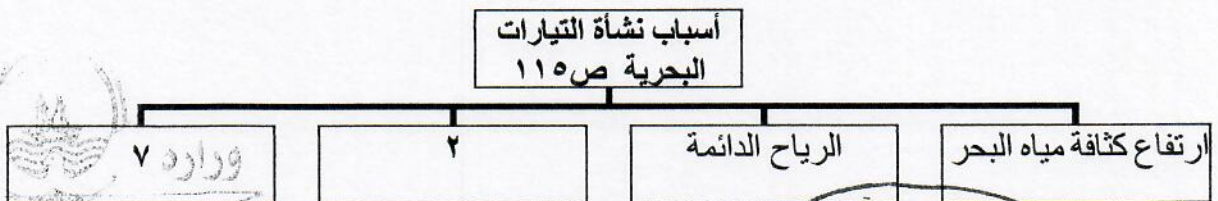
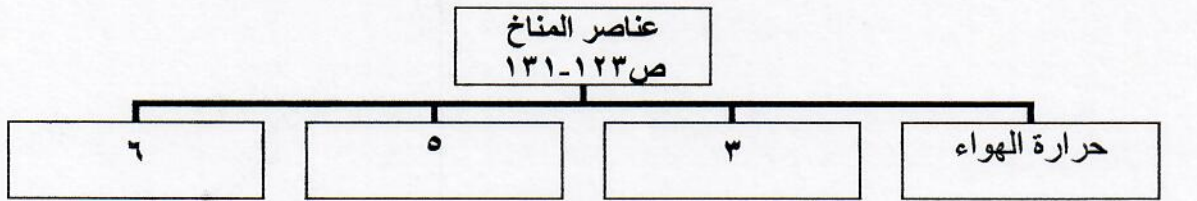
- { ١- الضوئية ٢- الغلاف الجوي ٣- البنوك المتخصصة ٤- الهادي  
٥- تعرفه جمركية ٦- التجارية ٧- الدهاليز }

- ١- أكبر المسطحات المائية ويغطي ثلث سطح الكرة الأرضية يسمى بالمحيط . ٤ ص ١١٠  
٢- الغطاء سميك من الغازات يحيط بالكرة الأرضية من جميع الجهات يسمى ٢ ص ١٢١  
٣- أشعة مرئية تقدر نسبتها بنحو ٤٥% من جملة الإشعاع الشمسي تسمى ١ ص ١٢٣  
٤- رياح تهب على العروض من مناطق الضغط المرتفع وراء المدارين إلى المنخفض الاستوائي ٦ ص ١٢٩  
٥- الغابات الكثيفة المتشابكة وتحجب ٤٠% من الأشعة الضوئية وبها مستنقعات وبرك تسمى ٧ ص ١٤٥  
٦- المؤسسات المالية التي لا تزاول نشاط البنوك التجارية وتهتم في إنعاش قطاعات خاصة تسمى ٣ ص ٢٥٨  
٧- الضريبة تفرض على السلع في حالة عبورها خارج حدود الدولة أو دخولها تسمى ٥ ص ٢٦٥

(ب) أكمل المخططات السهمية التالية بما يناسبها مستعيناً بما بين القوسين بوضع الرقم المناسب:

( ٧ = ٧ × ١ )

- { ١- الحشائش ٢- القوة الناتجة عن دوران الأرض حول محورها ٣- الضغط الجوي ٤- الصحاري  
٥- التكايف ٦- الرياح ٧- السواحل }



تم التعميل من  
الوزارة العامة لمنطقة الفروانية التعليمية  
المدارس الثانوية الفني للاجتماعيات  
www.sskuwait.net



**السؤال الرابع : ويتكون من : [ أ - ب ] :**

(أ) ضع عنواناً مناسباً للأشكال التالية مستعيناً بما يلي وذلك بوضع الرقم في مكانه المناسب (٧ = ٧ × ١)

٣- المناطق الحرارية ص ١٢٦  
٦- الطوقان ص ١٤٥

٢- الفقمة ص ١٦٨  
٥- الترمومتر ص ١٢٥  
٧- بحر قزوين ص ١٧٢

١- المطر التضاريسي ص ١٣٩  
٤- وانجاري ماثي ص ١٧١




٧



٤



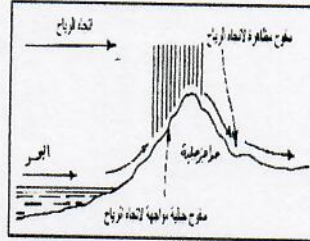
٢



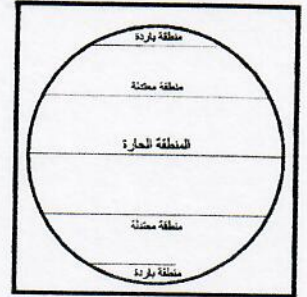
٥



٦



١



٣

(ب) صحح ما تحته خط من الكلمات التالية بوضع الرقم في مكانه المناسب : (٧ = ٧ × ١)

{ (١) اليونان (٢) الأومبو (٣) الخماسين (٤) الولايات المتحدة  
(٥) عكسية (٦) الادخار (٧) الأمازون }

تم التعميل من	
١٢٨ ص (٥)	- العلاقة بين الضغط الجوي و الحرارة علاقة طردية
١٣١ ص (٣)	- رياح تهب على مصر نحو ٥٠ يوماً تسمى القبلي
١٤٧ ص (٧)	- الاناكوندا أضخم ثعبان وأخطرها ويكثر تواجده في حوض الراين
١٦٤ ص (٢)	- شجرة من أكثر الأشجار تحملاً للظروف القاسية تسمى المسافر
١٧٣ ص (١)	- الدولة التي تنتج قبل ١٠٠ عام ثلثي الفراء في العالم اسمها سويسرا .
٢٩٠ ص (٤)	- الدولة التي عالجت قضايا الانكماش والبطالة في المشاريع الصغيرة اسمها الصين .
٢٩٧ ص (٦)	- محاور التخطيط المالي لميزانية الأسرة هي المورد المالي والمصروفات والإنفاق

انتهت الأسئلة

