

اسم الطالب /
الصف:

الشعبة:

تم تجميع
الامتحانات ونماذج الإجابة
وأرسلتها إلكترونياً
من قبل الموجه الفني
أ. حمد إبراهيم البحوه




وزارة التربية

مكتب الوكيل المساعد للتعليم العام
امتحان الفترة الدراسية الثانية
الصف الحادي عشر - زراعة القوقعة
العام الدراسي 2018 / 2019
مبادئ علم الجغرافيا وعلم الاقتصاد

رقم السؤال	الدرجة	توقيع المصحح
1		
2		
3		
4		
5		
6		
7		
8		
9		
10		
المجموع		



الدرجة بالحروف :





دولة الكويت

وزارة التربية

التوجيه الفني العام للاجتماعيات

امتحان نهاية الفترة الدراسية الثانية – الصف الحادي عشر أدبي

للعام الدراسي ٢٠١٨/٢٠١٩م

المادة : مبادئ علم الجغرافيا و علم الاقتصاد

• تعليمات الامتحان



- ١- استعن بالله عز وجل فهو خير معين
- ٢- تأكد أن الامتحان من (٦) ورقات مختلفات .
- ٣- زمن الامتحان ساعتان وربع .
- ٤- أقرأ الأسئلة بتمعن ثم أجب حسب ما هو مطلوب منك .
- ٥- أجب عن جميع الأسئلة .
- ٦- يمنع استخدام المزيل الأبيض (الكوريكتور) .

مع تمنياتنا لكم بالنجاح والتوفيق ،،،



العام الدراسي : ٢٠١٨/٢٠١٩ م
الزمن : ساعتان وربع
عدد الأوراق : (٦)

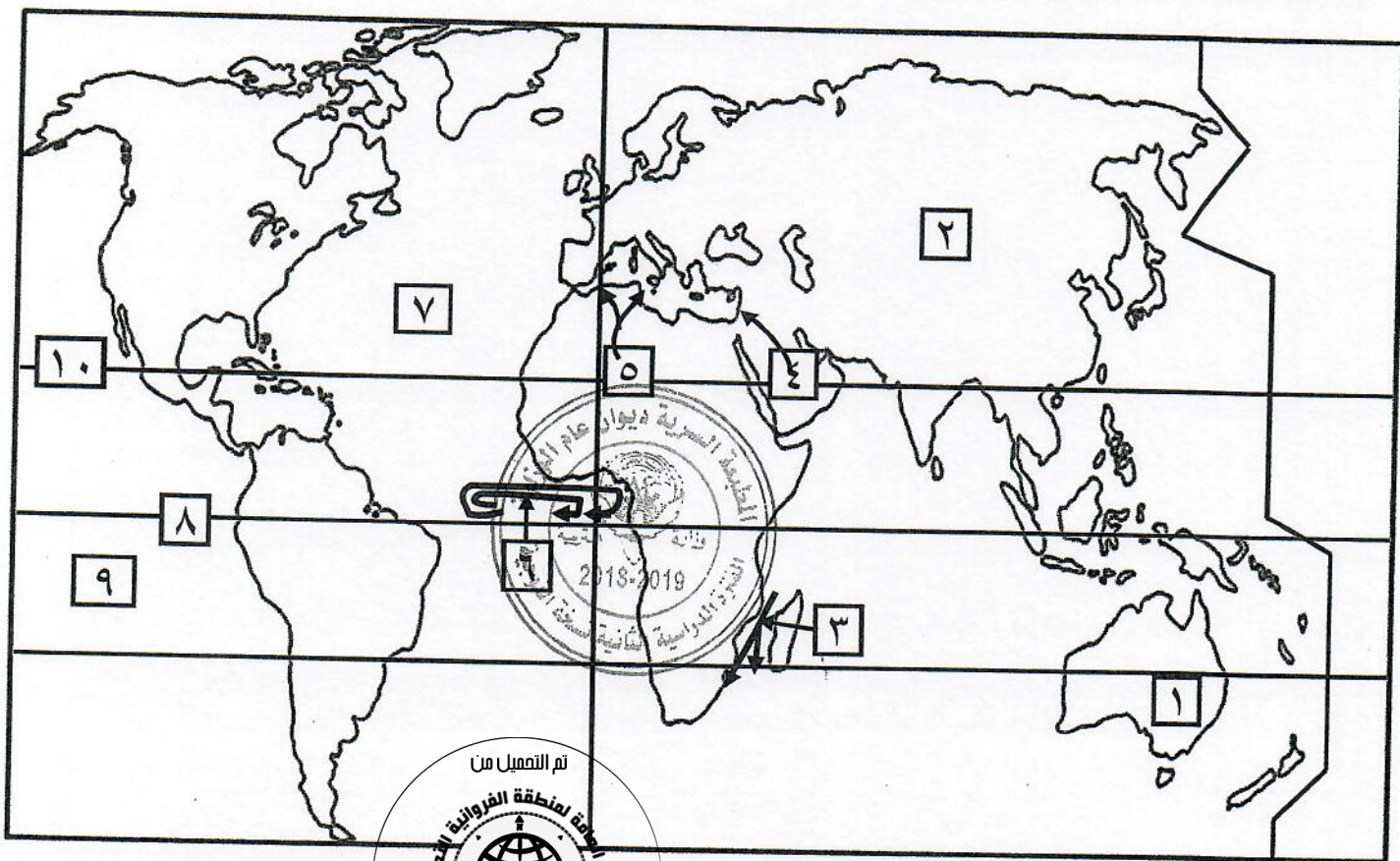
امتحان نهاية الفترة الثانية
لمادة مبادئ علم الجغرافيا و علم الاقتصاد
للسف الحادي عشر / القسم الأدبي
(الصم وضعاف السمع وزراعة القوقعة)


دولة الكويت
وزارة التربية
التوجيه الفني العام للاجتماعيات

أجب عن جميع الأسئلة التالية :

السؤال الأول : موضوعي ويتكون من (أ - ب - ج) :

(أ) أمامك خريطة العالم الصماء ، أكتب الرقم الدال على العبارات التي تليها :



* تيار غينيا الدافئ يمثلته الرقم

* المحيط الأطلسي (الأطلسي) يمثلته الرقم

* قارة استراليا يمثلها الرقم

* خط الاستواء يمثلته الرقم

* رياح السبروكو يمثلها الرقم

تابع السؤال الأول :

(ب) ضع خطأ تحت الخيار الصحيح من بين الخيارات التي تلي كل عبارة :

- ١- هيئة حكومية أنشئت بغرض وضع رؤية دولة الكويت التنموية :
* وزارة المالية
* الأمانة العامة للمجلس الأعلى للتخطيط والتنمية
* هيئة سوق المال
* بنك الكويت المركزي
- ٢- القارة التي يعيش فيها حيوان الكنغر :
* أمريكا الجنوبية
* أمريكا الشمالية
* استراليا
* آسيا
- ٣- عدد حالات حدوث المد والجزر العالين في الشهر العربي يبلغ :
* مرة
* ثلاثة
* مرتين
* أربع
- ٤- مجموع متوسطات حرارة كل أيام الشهر مقسومة على عدد أيام هذا الشهر :
* المتوسط اليومي لدرجة الحرارة
* المتوسط الشهري لدرجة الحرارة
* المدى الحراري الشهري
* المتوسط السنوي لدرجة الحرارة
- ٥- أكبر بحار العالم المغلقة :
* آرال
* العربي
* الميت
* قزوين

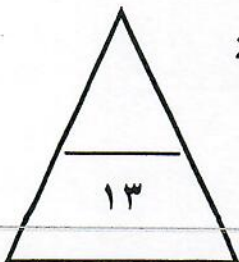


(ج) أرسم دائرة حول العنصر الذي لا ينتمي للمجموعات التالية

- ١- جزر واقعة في المحيط الهندي :
* لكديف * موريشيوس
* ملاجاشي * بولينيزيا
- ٢- الأخشاب الصلبة ذات القيمة الاقتصادية التي تنمو في إقليم الغابات الحارة الاستوائية :
* جوز الهند * الماهوجني * خشب الورد * الأبنوس

٣- قارات تقع فيها الغابات المعتدلة الباردة :

* آسيا * أوروبا * أفريقيا * أمريكا الشمالية



السؤال الثاني : موضوعي ويتكون من (أ - ب - ج) :

(أ) صوب ما تحته خط في العبارات التالية ، مستعيناً فيما بين القوسين :

(- الهند - ماليزيا - الاستوائية - المعتدلة - النقد - الاحتكار - الأفريقية - الآسيوية)

م	العبرة	التصويب
١	السوق الذي يهدف لتأمين سيولة نقدية قصيرة الأجل لغرض الاستهلاك من قبل المستهلكين والمستثمرين هو سوق رأس المال
٢	الدولة التي تميزت تجربتها في دعم المشاريع الصغيرة بتحولها من اقتصاد يعتمد على إنتاج بعض المواد الأولية الزراعية إلى اقتصاد متنوع هي <u>اليابان</u>
٣	تمتد الصحراء الكبرى في شمال القارة <u>الأوروبية</u>
٤	تسقط الأمطار الانقلابية في المناطق <u>القطبية</u>

(ب) أكمل العبارات التالية بما يناسبها فيما درست مستعيناً بما بين القوسين :

(* السهب * البراري * الصغيرة * الكبيرة * النفضية * المخروطية * التسي تسي * البعوض)

١- نواة المشاريع الكبرى التي لها دور كبير في الاقتصاد المحلي هي المشاريع

٢- ذبابة أفريقية ذات جناحين تحمل الحيوان الطفيلي الذي يسبب مرض النوم الأفريقي تسمى

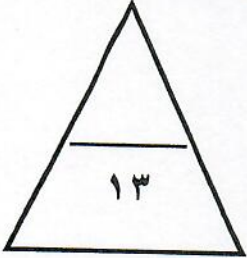
٣- يطلق علماء النبات على الأراضي التي تنمو بها الحشائش القصيرة اسم

٤- الغابات التي تتساقط أوراق أشجارها السائدة في بعض المواسم وخاصة الشتاء لتنمو أوراق جديدة تسمى

تابع السؤال الثاني :

(ج) اختر للمجموعة (أ) ما يرتبط بها من المجموعة (ب) بوضع الرقم المناسب :

الرقم	المجموعة (أ)	الرقم المناسب	المجموعة (ب)
١	الحيز المكاني الذي توجد فيه الحياة والذي يسمح للكائنات الحية بأشكالها المختلفة أن تعيش فيه .	()	* مصادر تمويل داخلية
٢	قبائل سودانية ذات أصول عربية قامت بابتكار مصدر لمياه الشرب بتخزين مياه الأمطار في تجاويف جذوع أشجار التبدي.	()	* مصادر تمويل خارجية
٣	قبائل مرتحلة تعيش في شمال النرويج والسويد وفنلندا وتمارس نشاط صيد الأسماك وتربية حيوان الرنة .	()	* بدار حمر
٤	حصول صاحب المشروع على التمويل اللازم لمشروعه الصغير من خلال الاقتراض من البنوك التجارية .	()	* الادخار
٥	اقتطاع جزء من الدخل المالي قبل البدء بالإنفاق والصرف على متطلبات ومستلزمات الحياة المختلفة .	()	* الغلاف الحيوي
		()	* اللاب




السؤال الثالث : موضوعي ويتكون من (أ - ب - ج) :

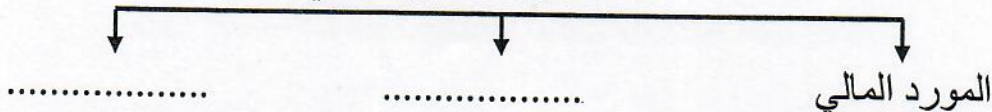
(أ) أكمل المخططات السهمية التالية مستعيناً بما في الجدول :

المصرفات	النورثر	الميزوسفير	الادخار	الثير موسفير
----------	---------	------------	---------	--------------


١- الطبقات الرأسية للغلاف الجوي :



٢- محاور التخطيط المالي :



٣- الرياح المحلية التي تهب نحو مؤخرة الانخفاضات الجوية :



تابع السؤال الثالث :

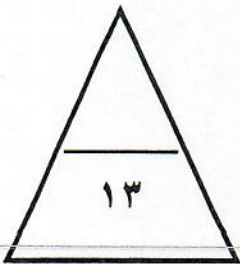
(ب) ظلل الحرف (أ) إذا كانت العبارة صحيحة وظلل الحرف (ب) إذا كانت العبارة خاطئة :

م	العبارة	أ	ب
١	تحويل الكويت إلى مركز مالي وتجاري من المصادر البديلة التي تمتلك دولة الكويت مقوماتها الحالية .	أ	ب
٢	التساقط في إقليم الصحاري الباردة القطبية يكون على شكل أمطار غزيرة .	أ	ب
٣	منع دخول الزوار إلا لأغراض إدارة المحمية من مواصفات وشروط المناطق المؤهلة لأن تكون مناطق محمية .	أ	ب
٤	زيادة أعداد الحيوانات في المراعي بشكل يفوق القدرة البيئية والبيولوجية للمرعى يسمى الرعي المنظم .	أ	ب

(ج) صنّف الكلمات التالية إلى مكانها المناسب في الجدول التالي :

- النخيل - الصمغ - الحرار - الصبار

الحياة النباتية في إقليم الصحاري	الحياة النباتية في إقليم الحشائش
<p>..... *</p> <p>..... *</p>	<p>تم التمثيل من</p> <p>..... *</p> <p>..... *</p> <p>www.sskuwait.net</p>



السؤال الرابع : مقالتي ويتكون من (أ - ب - ج) :

(أ) عرف المفاهيم التالية :

- ١- الأسهم :
- ٢- الواردات :
- ٣- الودائع المصرفية :
- ٤- السافانا المغلقة :
- ٥- التكاليف :

(ب) فرق بين ما يلي :

العوامل المؤثرة في الضغط الجوي.	العوامل المؤثرة في الإشعاع الشمسي
.....**
.....**
.....**

(ج) عدد ما يلي :

١- المحميات الطبيعية في دولة الكويت :

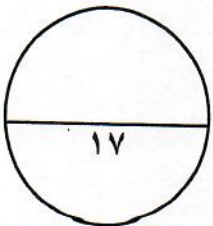
-*
-*

٢- وسائل حماية وصيانة المحيط الحيوي في العالم :

-*
-*

٣- مقومات الاقتصاد الكويتي :

-*
-*



انتهت الأسئلة
مع تمنياتنا لكم بالتوفيق

العام الدراسي : ٢٠١٨/٢٠١٩ م
الزمن : ساعتان وربع
عدد الأوراق : (٦)

امتحان نهاية الفترة الثانية
لمادة مبادئ علم الجغرافيا وعلم الاقتصاد
للسف الحادي عشر/ القسم الأدبي
(الصم وضعاف السمع وزراعة القوقعة)

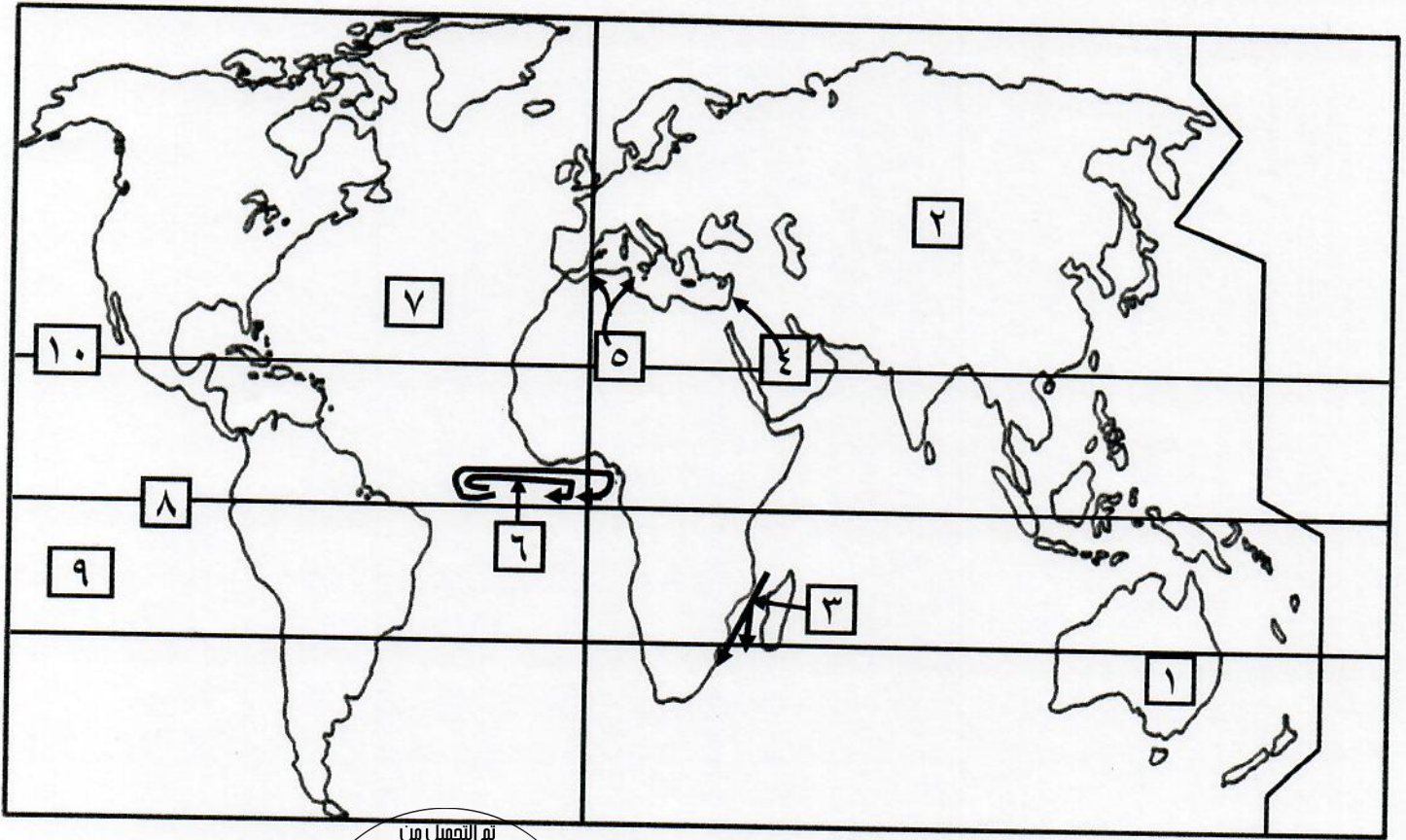
دولة الكويت
وزارة التربية
التوجيه الفني العام للاجتماعيات

نموذج الإجابة

أجب عن جميع الأسئلة التالية :

السؤال الأول : موضوعي ويتكون من (أ - ب - ج) :

(أ) أمامك خريطة العالم الصماء ، أكتب الرقم الدال على العبارات التي تليها : (٥ = ١ × ٥)



* تيار غينيا الدافئ يمثلته الرقم ٦ . ص ١١٦

* المحيط الأطلسي (الأطلسي) يمثلته الرقم ٧ . ص ١١٦

* قارة استراليا يمثلها الرقم ١ . ص ٢٧٢

* خط الاستواء يمثلته الرقم ٨ . ص ٢٧٢

* رياح السيروكو يمثلها الرقم ٥ . ص ١٣١



تابع السؤال الأول :

(ب) ضع خطأ تحت الخيار الصحيح من بين الخيارات التي تلي كل عبارة : (٥ = ١ × ٥)

- ١- هيئة حكومية أنشئت بغرض وضع رؤية دولة الكويت التنموية : ص ٢٧٣
* وزارة المالية
* الأمانة العامة للمجلس الأعلى للتخطيط والتنمية
* هيئة سوق المال
* بنك الكويت المركزي
- ٢- القارة التي يعيش فيها حيوان الكنغر : ص ١٥٣
* أمريكا الجنوبية
* أمريكا الشمالية
* استراليا
* آسيا
- ٣- عدد حالات حدوث المد والجزر العالين في الشهر العربي يبلغ : ص ١١٣
* مرة
* ثلاثة
* مرتين
* أربع
- ٤- مجموع متوسطات حرارة كل أيام الشهر مقسومة على عدد أيام هذا الشهر : ص ١٢٦
* المتوسط اليومي لدرجة الحرارة
* المتوسط الشهري لدرجة الحرارة
* المدى الحراري الشهري
* المتوسط السنوي لدرجة الحرارة
- ٥- أكبر بحار العالم المغلقة : ص ١٧٢
* آرال
* العربي
* الميت
* قزوين



(ج) أرسم دائرة حول العنصر الذي لا ينتمي للمجموعات التالية : (٣ = ١ × ٣)

- ١- جزر واقعة في المحيط الهندي : ص ١١١
* لكديف
* موريشيوس
* ملاجاشي
* بولينيزيا
- ٢- الأخشاب الصلبة ذات القيمة الاقتصادية التي تنمو في إقليم الغابات الحارة الاستوائية : ص ١٤٦
* جوز الهند
* الماهوجني
* خشب الورد
* الأبنوس

٣- قارات تقع فيها الغابات المعتدلة الباردة : ص ١٥٥

- * آسيا
* أوروبا
* أفريقيا
* أمريكا الشمالية



السؤال الثاني : موضوعي ويتكون من (أ - ب - ج) :

(أ) صوب ما تحته خط في العبارات التالية ، مستعيناً فيما بين القوسين : (٤ = ١ × ٤)

(- الهند - ماليزيا - الاستوائية - المعتدلة - النقد - الاحتكار - الأفريقية - الآسيوية)

م	العبرة	التصويب
١	السوق الذي يهدف لتأمين سيولة نقدية قصيرة الأجل لغرض الاستهلاك من قبل المستهلكين والمستثمرين هو سوق رأس المال . ص ٢٥٢	النقد
٢	الدولة التي تميزت تجربتها في دعم المشاريع الصغيرة بتحولها من اقتصاد يعتمد على إنتاج بعض المواد الأولية الزراعية إلى اقتصاد متنوع هي اليابان . ص ٢٩٠	ماليزيا
٣	تمتد الصحراء الكبرى في شمال القارة الأوروبية . ص ١٦٧	الأفريقية
٤	تسقط الأمطار الانقلابية في المناطق القطبية . ص ١٣٩	الاستوائية

(ب) أكمل العبارات التالية بما يناسبها فيما درست مستعينا بما بين القوسين : (٤ = ١ × ٤)

(* السهب * البراري * الصغيرة * الكبيرة * النفضية * المخروطية * التسي تسي * البعوض)

١- نواة المشاريع الكبرى التي لها دور كبير في الاقتصاد المحلي هي المشاريع الصغيرة . ص ٢٨٦

٢- ذبابة أفريقية ذات جناحين تحمل الحيوان الطفيلي الذي يسبب مرض النوم الأفريقي تسمى التسي تسي . ص ١٤٩

٣- يطلق علماء النبات على الأراضي التي تنمو بها الحشائش القصيرة اسم السهب . ص ١٦١

٤- الغابات التي تتساقط أوراق أشجارها السائدة في بعض المواسم وخاصة الشتاء لتنمو أوراق جديدة تسمى النفضية . ص ١٥٧



تابع السؤال الثاني :
(ج) اختر للمجموعة (أ) ما يرتبط بها من المجموعة (ب) بوضع الرقم المناسب : (٥ = ١ × ٥)

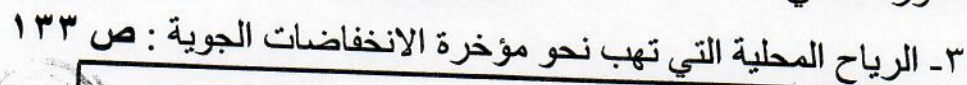
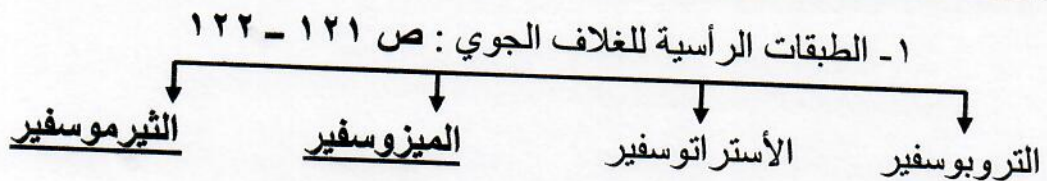
الرقم	المجموعة (أ)	الرقم المناسب	المجموعة (ب)
١	الحيز المكاني الذي توجد فيه الحياة والذي يسمح للكائنات الحية بأشكالها المختلفة أن تعيش فيه . ص ١٤٣	(-)	* مصادر تمويل داخلية
٢	قبائل سودانية ذات أصول عربية قامت بابتكار مصدر لمياه الشرب بتخزين مياه الأمطار في تجاويف جذوع أشجار التبليدي . ص ١٦٠	(٤)	* مصادر تمويل خارجية
٣	قبائل مرتحلة تعيش في شمال النرويج والسويد وفنلندا وتمارس نشاط صيد الأسماك وتربية حيوان الرنة . ص ١٧٠	(٢)	* بدار حمر
٤	حصول صاحب المشروع على التمويل اللازم لمشروعه الصغير من خلال الاقتراض من البنوك التجارية . ص ٢٨٨	(٥)	* الادخار
٥	اقتطاع جزء من الدخل المالي قبل البدء بالإنفاق والصرف على متطلبات ومستلزمات الحياة المختلفة . ص ٢٩٨	(١)	* الغلاف الحيوي
	تم التعميل من	(٣)	* اللاب



السؤال الثالث : موضوعي ويتكون من (أ - ب - ج) :

(أ) أكمل المخططات السهمية التالية مستعيناً بما في الجدول : (٥ = ١ × ٥)

المصرفات	النورثر	الميزوسفير	الادخار	الثير موسفير
----------	---------	------------	---------	--------------



تابع السؤال الثالث :

(ب) ظل الحرف (أ) إذا كانت العبارة صحيحة وظلل الحرف (ب) إذا كانت العبارة خاطئة : (٤ = ١ × ٤)

م	العبارة	أ	ب
١	تحويل الكويت إلى مركز مالي وتجاري من المصادر البديلة التي تمتلك دولة الكويت مقوماتها الحالية . ص ٢٧٧	أ	ب
٢	التساقط في إقليم الصحاري الباردة القطبية يكون على شكل أمطار غزيرة . ص ١٦٨	أ	ب
٣	منع دخول الزوار إلا لأغراض إدارة المحمية من مواصفات وشروط المناطق المؤهلة لأن تكون مناطق محمية . ص ١٧٨	أ	ب
٤	زيادة أعداد الحيوانات في المراعي بشكل يفوق القدرة البيئية والبيولوجية للمرعى يسمى الرعي المنظم . ص ١٧٤	أ	ب

(ج) صنف الكلمات التالية إلى مكانها المناسب في الجدول التالي : (٤ = ١ × ٤)

- النخيل - الصمغ - الحرار - الصبار

الحياة النباتية في إقليم الصحاري ص ١٦٦	الحياة النباتية في إقليم الحشائش ص ١٥٨
* النخيل * الصبار	* الصمغ * الحرار



السؤال الرابع : مقالتي و يتكون من (أ - ب - ج) :

(أ) عرف المفاهيم التالية : (٥ = ١ × ٥)

- ١- الأسهم : ورقة مالية تمثل كأداة ملكية لحصة في رأس مال الشركات المساهمة . ص ٢٥٤
- ٢- الواردات : قيام الدولة والأفراد بشراء السلع والخدمات المنتجة خارج الدولة . ص ٢٦٤
- ٣- الودائع المصرفية : المبالغ النقدية المستحقة لعملاء البنك من أفراد ومؤسسات مقابل الحصول على عائد نقدي سواء بالعملة المحلية أو بالعملة الأجنبية . ص ٢٥٧
- ٤- السافانا المغلقة : يطلق على الحشائش الطويلة الكثيفة التي تعوق الرؤية ولا تظهر الطرقات . ص ١٥٩
- ٥- التكاثف : تحول بخار الماء الموجود في الجو من حالته الغازية إلى الحالة السائلة أو الصلبة عن طريق تبريدها وتكاثفها . ص ١٣٦

(ب) فرق بين ما يلي : (٦ = ٢ × ٣)

العوامل المؤثرة في الضغط الجوي . ص ١٢٨	العوامل المؤثرة في الإشعاع الشمسي . ص ١٢٣
<ul style="list-style-type: none"> * الرطوبة . * الارتفاع . * توزيع اليايس والماء . * درجة الحرارة . <p>(يكتفى بثلاث نقاط)</p>	<ul style="list-style-type: none"> * قوة النشاط الإشعاعي للشمس . * مدى شفافية طبقات الغلاف الجوي . * اختلاف طول المسافة بين الشمس وسطح الأرض . * اختلاف عدد ساعات سقوط أشعة الشمس على الأرض . * مقدار زاوية ميل الأشعة الشمسية على سطح الأرض . <p>(يكتفى بثلاث نقاط)</p>

(ج) عدد ما يلي : (٦ = ٣ × ٢)

- ١- المحميات الطبيعية في دولة الكويت : ص ١٧٩ (يكتفى بنقطتين)
 - * محمية الشيخ صباح الأحمد الطبيعية
 - * محمية جابر الأحمد البحرية
 - * المنحدر الخلفي ومنطقة العوجة
 - * تلال جال الزور
 - * منخفض وادي أم الرمم
 - * السهل الساحلي
- ٢- وسائل حماية وصيانة المحيط الحيوي في العالم : ص ١٧٦ (يكتفى بنقطتين)
 - * التوسع في استخدام الوقود الخالي من الرصاص
 - * إصدار التشريعات التي تضمن حماية البيئة البحرية من التلوث .
 - * اتجاه الحكومات إلى صيانة ما تبقى من النباتات والحيوانات .
 - * العمل على أن تتناسب أعداد السكان والنمو السكاني مع معطيات البيئة الطبيعية والحيوية .
- ٣- مقومات الاقتصاد الكويتي : ص ٢٧١ (يكتفى بنقطتين)
 - * الموارد الطبيعية
 - * الموقع الجغرافي
 - * رأس المال البشري

انتهت الأسئلة

مع تمنياتنا لكم بالتوفيق

