

اسم الطالب /
الصف:
الشعبة:



وزارة التربية

مكتب الوكيل المساعد للتعليم العام
امتحان الدور الثاني المنهج الكامل

الصف الحادي عشر

العام الدراسي 2018 / 2019

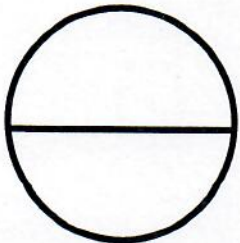
مبادئ علم الجغرافيا و علم الاقتصاد

تم تجميع
الامتحانات ونماذج الإجابة
وأرشفتها إلكترونياً
من قبل الموجه الفني
أ. حمد إبراهيم البحوه

| رقم السؤال | الدرجة | توقيع المصحح |
|------------|--------|--------------|
| 1 | | |
| 2 | | |
| 3 | | |
| 4 | | |
| 5 | | |
| 6 | | |
| 7 | | |
| 8 | | |
| 9 | | |
| 10 | | |
| المجموع | | |



الدرجة بالحروف :





دولة الكويت

وزارة التربية

التوجيه الفني العام للاجتماعيات

امتحان الدور الثاني (المنهج الكامل) الصف الحادي عشر الأدبي

للعام الدراسي ٢٠١٨/٢٠١٩م

لمادة : مبادئ علم الجغرافيا وعلم الاقتصاد



• **تعليمات الامتحان**

- ١- استعن بالله عز وجل فهو خير معين .
- ٢- تأكد أن الامتحان من (٦) ورقات مختلفات .
- ٣- زمن الامتحان ساعتان وربع .
- ٤- أقرأ الأسئلة بتمعن ثم أجب حسب ما هو مطلوب منك .
- ٥- أجب عن أربع أسئلة فقط على أن يكون السؤال الأول منها (إجباري).
- ٦- يمنع استخدام المزيل الأبيض (الكوريكتور) .

مع تمنياتنا لكم بالنجاح والتوفيق ،،،



وزارة التربية

التوجيه الفني العام للاجتماعيات

امتحان الدور الثاني (المنهج الكامل)

مقرر / مبادئ علم الجغرافيا وعلم الاقتصاد

للسف الحادي عشر / القسم الأدبي

العام الدراسي : ٢٠١٨/٢٠١٩م

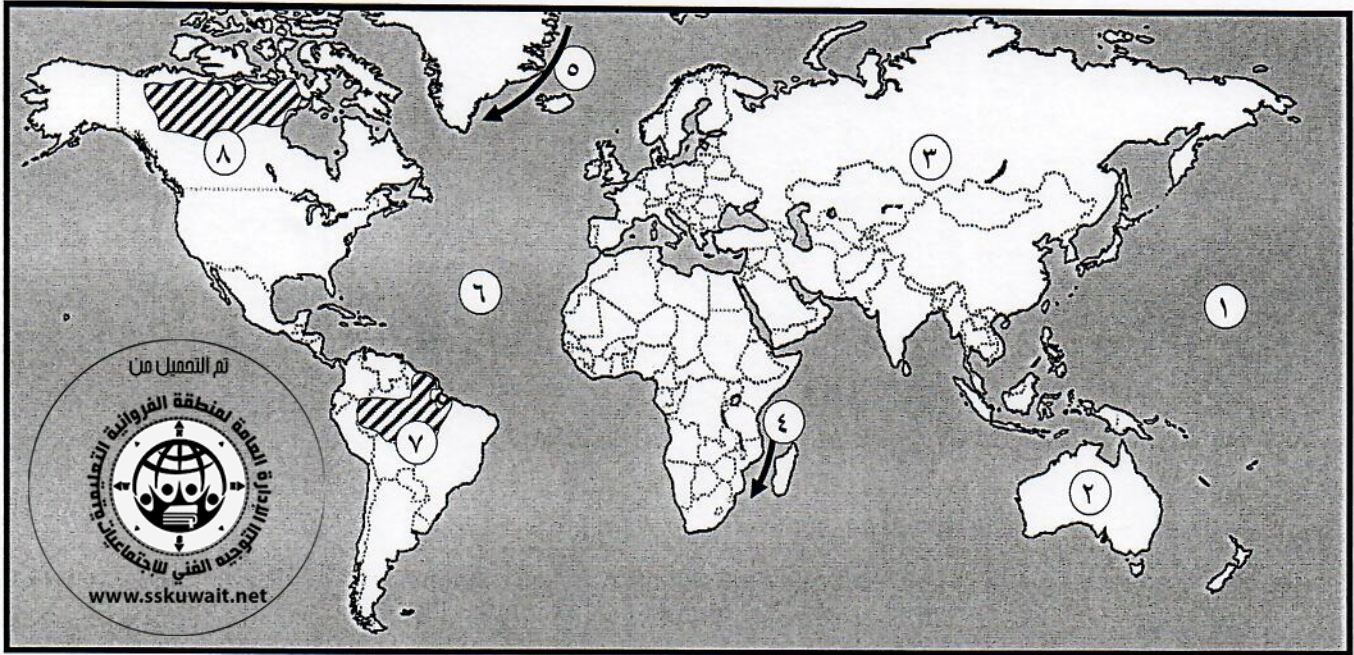
الزمن : ساعتان وربع

عدد الأوراق : (٦)

أجب عن (أربعة) أسئلة فقط على أن يكون السؤال الأول منها (إجباريا) :

السؤال الأول : الموضوعي (إجباري) ويتكون من (أ - ب - ج) :

(أ) أمامك خريطة العالم الصماء اكتب الرقم الدال على العبارات التالية :



• قارة استراليا يمثلها الرقم (.....) .

• إقليم الغابات الحارة الاستوائية يمثلها على الخريطة الجزء المظلل الذي يحمل الرقم (.....) .

• تيار جرينلاند البارد يمثل على الخريطة الرقم (.....) .

• المحيط الأطلسي يمثل على الخريطة الرقم (.....) .

• تيار موزمبيق الدافئ يمثل على الخريطة الرقم (.....) .

(ب) أكمل العبارات التالية بما يناسبها فيما درست :

١- مرض قديم شديد العدوى تم اكتشافه في إيطاليا منذ أكثر من ١٠٠ عام ينتقل من الدجاج إلى الإنسان يسمى

٢- أعمق نقطة في المحيط الهندي خندق يسمى

٣- أقدم التجارب في دعم المشروعات الصغيرة منذ أوائل الخمسينات من القرن العشرين تسمى

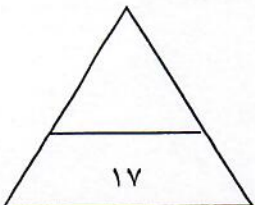
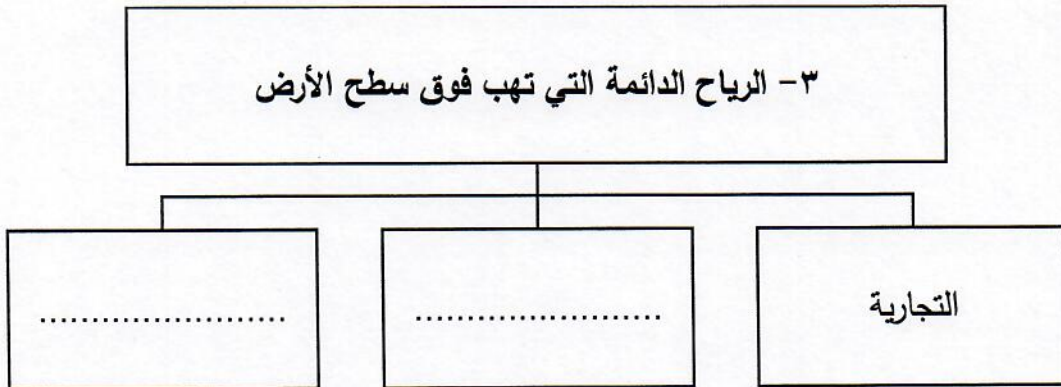
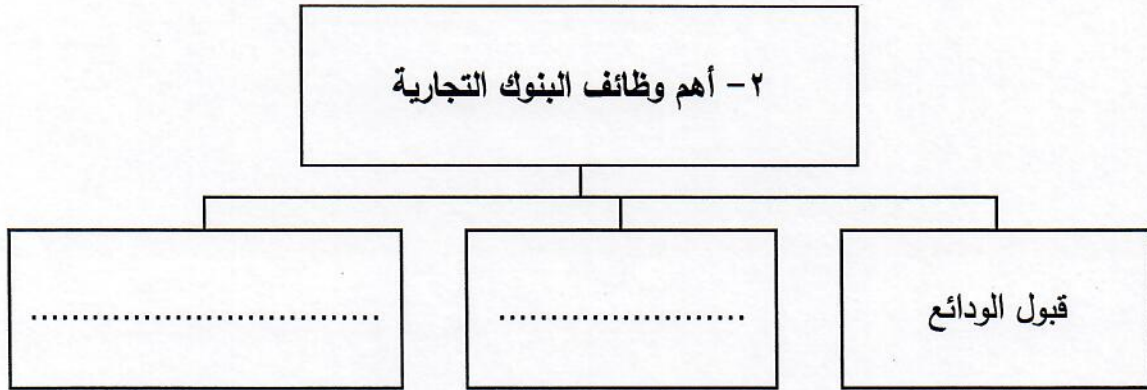
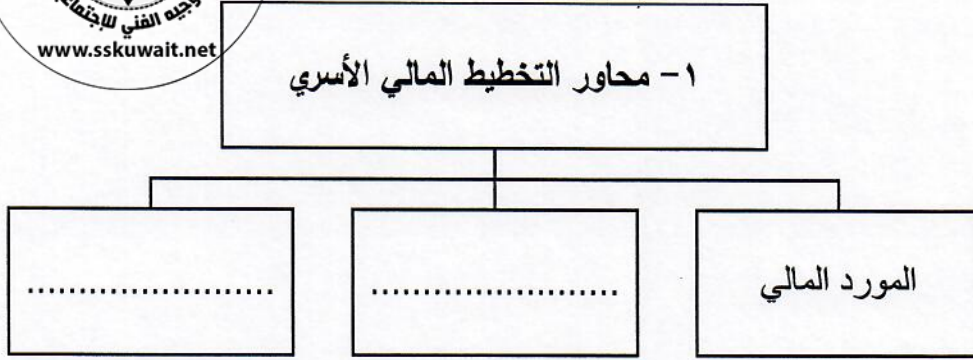
٤- عملية تحول بخار الماء من الحالة الغازية إلى الصلبة مباشرة تسمى

٥- طبقة من طبقات الغلاف الجوي التي تمتاز بخفة وزنها وبغازاتها الطيارة الخفيفة جداً تسمى

٦- ورقة مالية تمثل كأداة ملكية لحصة في رأس مال الشركات المساهمة تسمى

تابع / السؤال الأول (الإجابى) :

(ج) أكمل المخططات السهمية التالية :



السؤال الثاني (اختياري) ويتكون من (أ - ب - ج) :

(أ) اقرأ العبارة التالية ثم أجب عما يليها من أسئلة :

" دولة الناتج المحلي الإجمالي لها يساوي ثلاث ملايين دينار كويتي وعدد سكانها يقدر بثلاثة ملايين نسمة "

١- أكتب قانون متوسط دخل الفرد .

* متوسط دخل الفرد =

٢- أوجد (احسب) متوسط دخل الفرد .

* متوسط دخل الفرد = =

(ب) عرف المفاهيم أو المصطلحات التالية :

١- الندى :

٢- الكون :

٣- الاحتباس الحراري :

٤- البنوك المتخصصة :

(ج) اقرأ الفقرة التالية ثم أجب عما يليها من أسئلة :

" تتوقف مقدرة الرياح في النقل على سرعتها وقوتها وعلى حجم حبيباتها ، وهناك ثلاثة طرق للنقل بفعل الرياح كالتعلق والقفز والزحف السطحي ، مما ينتج عن ذلك مظاهر نحت وإرساب مختلفة للرياح "

١- ضع عنواناً مناسباً للفقرة السابقة .

*

٢- ماهي طرق النقل بفعل الرياح ؟

*

*

٣- عدد ظاهرات السطح المرتبطة بالرياح .

*

*

*

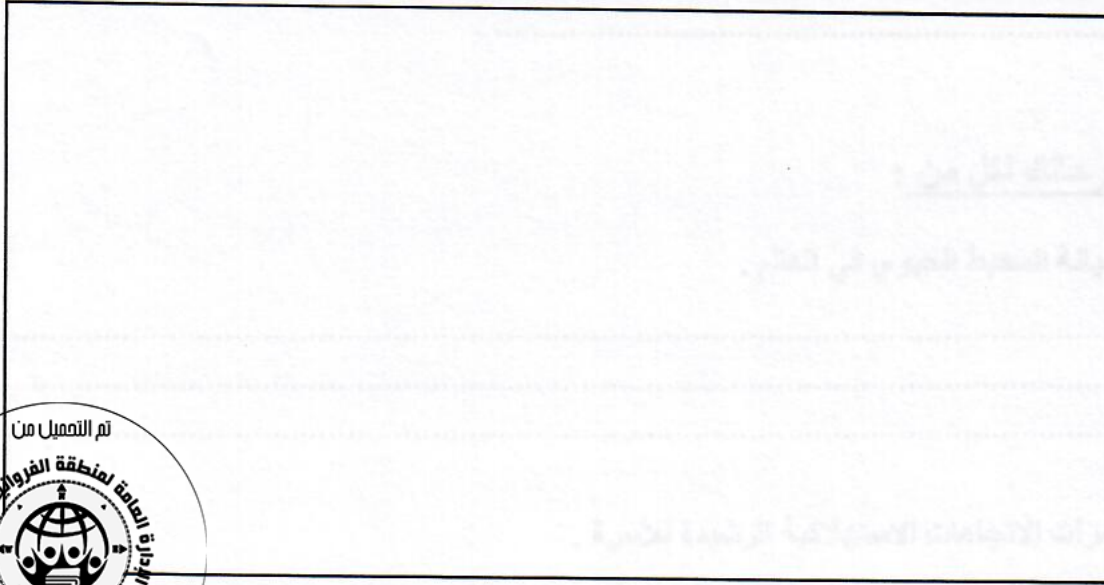


السؤال الثالث (اختياري) ويتكون من (أ - ب - ج) :

(أ) قارن بين كل من :

| سوق الاحتكار | سوق المنافسة الكاملة | أوجه المقارنة |
|----------------|----------------------|-------------------------|
| | | عدد البائعين والمشتريين |
| | | السلع |

(ب) ارسم أجزاء مخروط البركان ثم حدد 3 أجزاء عليه :



(ج) علل لما يأتي :

١- أهمية علم الجغرافيا .

..... *
..... *

٢- تسمية شجرة المسافر في مدغشقر بهذا الاسم .

..... *
..... *

٣- نشأة التيارات البحرية .

..... *
..... *

السؤال الخامس : (اختياري) ويتكون من (أ- ب - ج) :

(أ) أجب عن الأسئلة التالية :

١- ما العوامل المؤثرة في الضغط الجوي ؟

..... *

..... *

٢- علل - حدوث الأمواج البحرية .

..... *

٣- عدد - أقسام الأشعة الشمسية حسب طول موجاتها .

..... *

..... *

(ب) ما النتائج المترتبة على كل من :

| دورة الأرض السنوية حول الشمس | دورة الأرض المحورية (حول نفسها) |
|------------------------------|-----------------------------------|
| ● | ● |
| ● | ● |
| ● | ● |

(ج) صمم مخططاً سهماً لمحددات العرض الثلاثة :





العام الدراسي : ٢٠١٨ / ٢٠١٩ م

امتحان المنهج الكامل والمنازل

الزمن : ساعتان وربع

مقرر / مبادئ علم الجغرافيا وعلم الاقتصاد

وزارة التربية

عدد الأوراق : (٦)

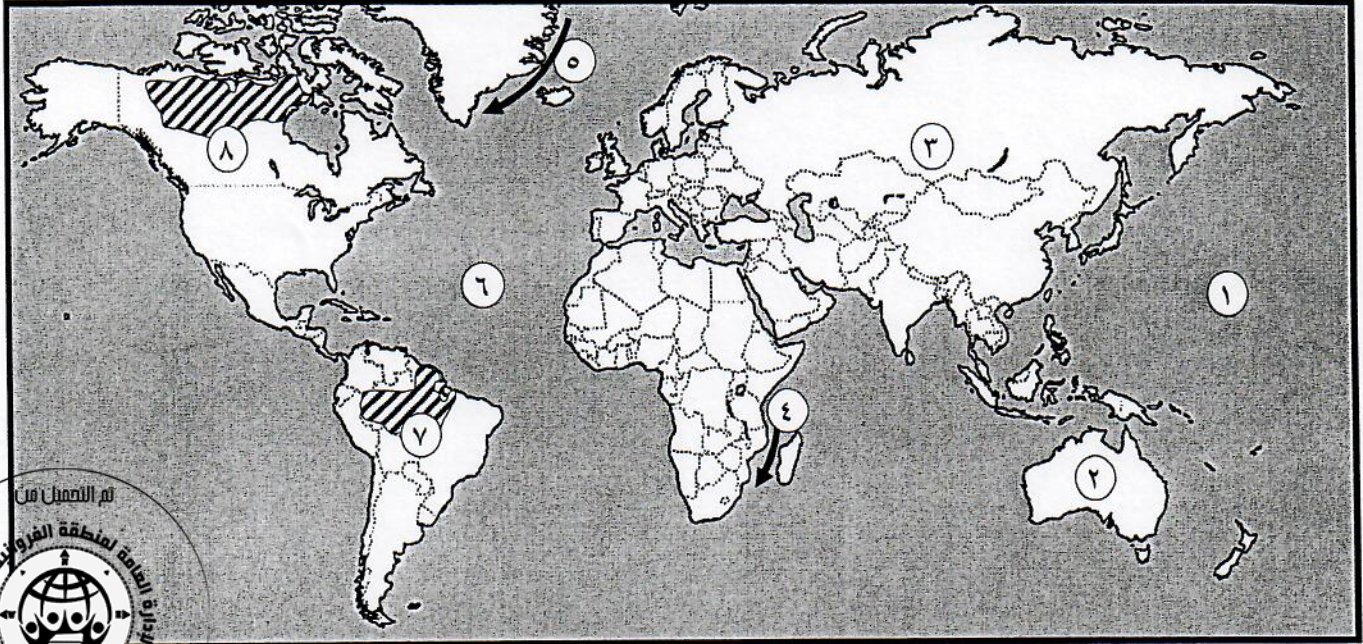
للفصل الحادي عشر / القسم الأدبي

التوجيه الفني العام للاجتماعيات

اجب عن (اربعة) أسئلة فقط على أن يكون السؤال الأول منها (إجباريا) :

السؤال الأول : الموضوعي (إجباري) ويتكون من (أ - ب - ج) : (لكل سؤال درجة = ١٧ درجة)

(أ) أمامك خريطة العالم الصماء اكتب الرقم الدال على العبارات التالية :



• قارة استراليا يمثلها الرقم (٢) . ص ١١٦

• إقليم الغابات الحارة الاستوائية يمثلها على الخريطة الجزء المظلل الذي يحمل الرقم (٧) . ص ١٤٧

• تيار جرينلاند البارد يمثل على الخريطة الرقم (٥) . ص ١١٦

• المحيط الأطلنطي يمثل على الخريطة الرقم (٦) . ص ١١٦

• تيار موزمبيق الدافئ يمثل على الخريطة الرقم (٤) . ص ١١٦

(ب) أكمل العبارات التالية بما يناسبها فيما درست :

١- مرض قديم شديد العدوى تم اكتشافه في إيطاليا منذ أكثر من ١٠٠ عام ينتقل من الدجاج إلى الإنسان يسمى انفلونزا الطيور . ص ١٧٣

٢- أعمق نقطة في المحيط الهندي خندق يسمى سوندا . ص ١١١

٣- أقدم التجارب في دعم المشروعات الصغيرة منذ أوائل الخمسينات من القرن العشرين تسمى التجربة الأمريكية . ص ٢٩٠

٤- عملية تحول بخار الماء من الحالة الغازية إلى الصلبة مباشرة تسمى التسامي . ص ١٣٦

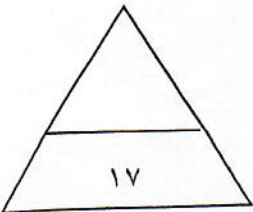
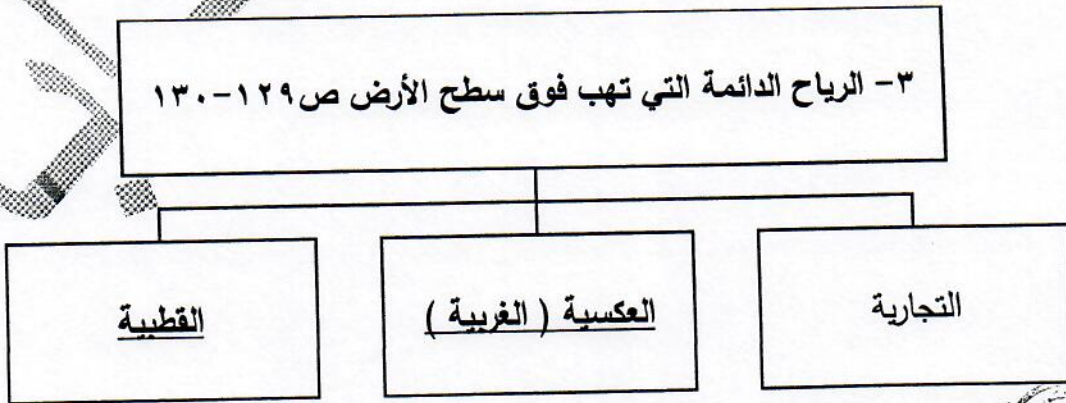
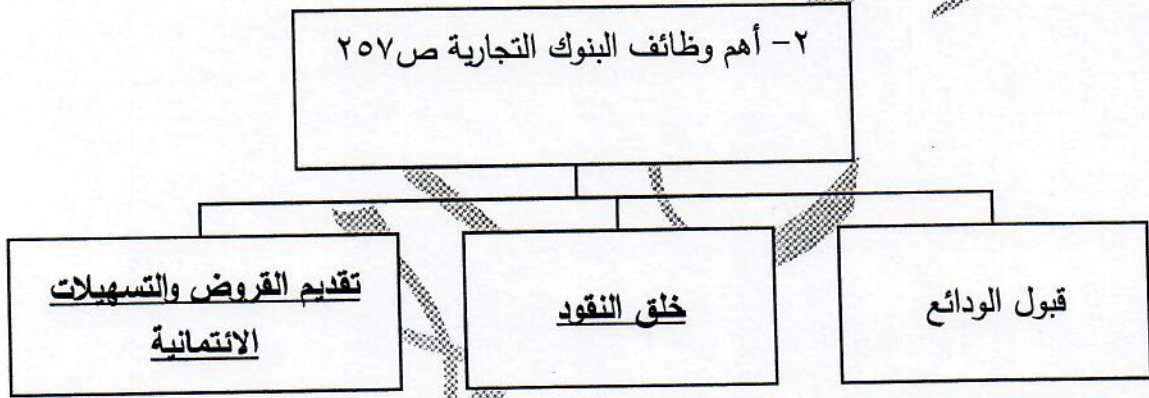
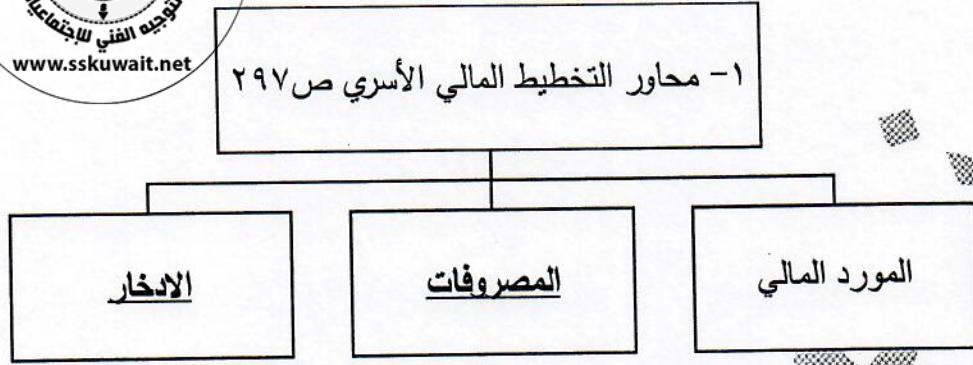
٥- طبقة من طبقات الغلاف الجوي التي تمتاز بخفة وزنها وبغازاتها الخفيفة جداً تسمى الثيرموسفير . ص ١٢٢

٦- ورقة مالية تمثل كأداة ملكية لحصة في رأس مال الشركات المساهمة تسمى الأسهم . ص ٢٥٤





(ج) أكمل المخططات السهمية التالية :



السؤال الثاني (اختياري) ويتكون من (أ - ب - ج) :

(أ) اقرأ العبارة التالية ثم أجب عما يليها من أسئلة :

" دولة الناتج المحلي الإجمالي لها يساوي ثلاث ملايين دينار كويتي وعدد سكانها يقدر بثلاثة ملايين نسمة "

١- أكتب قانون متوسط دخل الفرد . (درجة) ص ٢٤١

* متوسط دخل الفرد = حاصل قسمة الناتج المحلي الإجمالي على عدد السكان في الدولة .

٢- أوجد (احسب) متوسط دخل الفرد . (درجتان)

* متوسط دخل الفرد = $\frac{3000000 \text{ دينار كويتي}}{3000000 \text{ نسمة}} = 1 \text{ دينار}$



(ب) عرف المفاهيم أو المصطلحات التالية :

- ١- الندى : وهو عبارة عن قطرات مائية أو طبقة رقيقة من الماء تتجمع على الأسطح المعرضة للجو مباشرة مثل أوراق النباتات وغيرها من الأجسام الصلبة . (درجة) ص ١٣٧
- ٢- الكون : يقصد به مجموع الموجودات الكائنة من مختلف صور المادة والطاقة والزمان والمكان ، وما تتشكل عليه من كافة الجمادات والأحياء . (درجة) ص ٥٣
- ٣- الاحتباس الحراري : عملية تراكم الغازات في طبقة التروبوسفير بدرجة تعجز الأنظمة البيئية الطبيعية عن التعامل معها. (درجة) ص ١٧٥
- ٤- البنوك المتخصصة : المؤسسات المالية التي لا تزاول نشاط البنوك التجارية وتهتم فقط في إنعاش قطاعات محددة في الاقتصاد . (درجة) ص ٢٥٨

(ج) اقرأ الفقرة التالية ثم أجب عما يليها من أسئلة :

" تتوقف مقدرة الرياح في النقل على سرعتها وقوتها وعلى حجم حبيباتها ، وهناك ثلاثة طرق للنقل بفعل الرياح كالتعلق والقفز والزحف السطحي ، مما ينتج عن ذلك مظاهر نحت وإرساب مختلفة للرياح "

١- ضع عنواناً مناسباً للفقرة السابقة . (درجة)


* الرياح - أو ما يراه المصحح مناسباً .

٢- ماهي طرق النقل بفعل الرياح ؟ ص ٩٧ (درجتين - يكتفى بإجابتين)

* التعلق * القفز * الزحف السطحي .

٣- عدد ظاهرات السطح المرتبطة بالرياح . ص ٩٦ (ثلاث درجات - يكتفى بثلاثة إجابات)

* الجلاميد المصقولة * اليردائج * الأشكال الصخرية * المنخفضات الصحراوية .

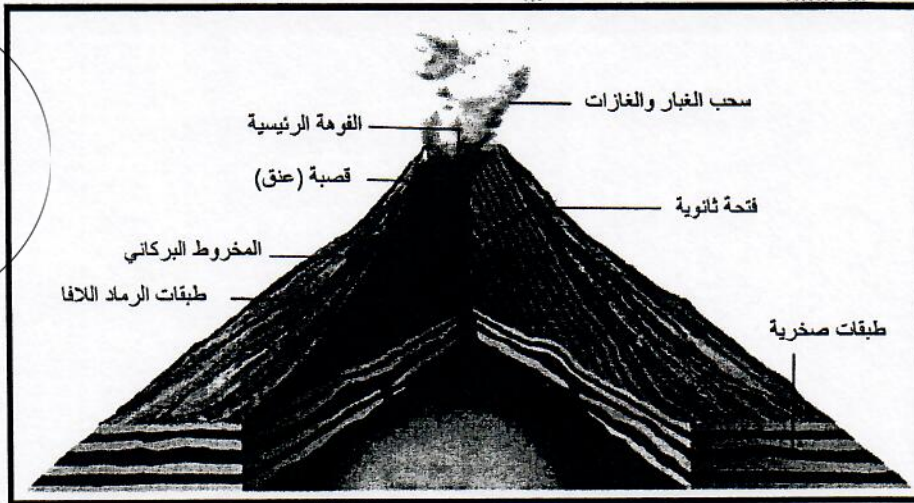


السؤال الثالث (اختياري) ويتكون من (أ - ب - ج) :

(أ) قارن بين كل من :

| سوق الاحتكار ص ٢٢٣ | سوق المنافسة الكاملة ص ٢٢٢ | أوجه المقارنة |
|--|---|-------------------------|
| وجود بائع وحيد في السوق . (درجة) | وجود عدد كبير من البائعين والمشتريين للسلعة . (درجة) | عدد البائعين والمشتريين |
| السلعة في هذا السوق وحيدة وليس لها بدائل قريبة . (درجة) | تجانس السلعة في هذا السوق . (درجة) | السلع |

(ب) ارسم أجزاء مخروط البركان ثم حدد ٣ أجزاء عليه : ص ٨٩ (أربع درجات درجة للرسم وثلاث للأجزاء)



(ج) علل لما يأتي :

١- أهمية علم الجغرافيا . (درجتان - ويكتفي بإجابتين) ص ٢٩

* عمليات التخطيط الإقليمي . * التوجيهات الجغرافية . * عمليات التخطيط البيئي

٢- تسمية شجرة المسافر في مدغشقر بهذا الاسم . (درجة واحدة) ص ١٦٤

* كانت تمد المسافرين الضمأى بماء صالح للشرب فهي تخزن نصف لتر من الماء في قاعدة كل من الأعناق الطويلة لأوراقها .

٣- نشأة التيارات البحرية . (درجتان - ويكتفي بإجابتين) ص ١١٥

* ارتفاع كثافة مياه البحر . * الرياح الدائمة . * السواحل .

* القوة الناتجة من دوران الأرض حول محورها من الغرب إلى الشرق (قانون فيرل) .

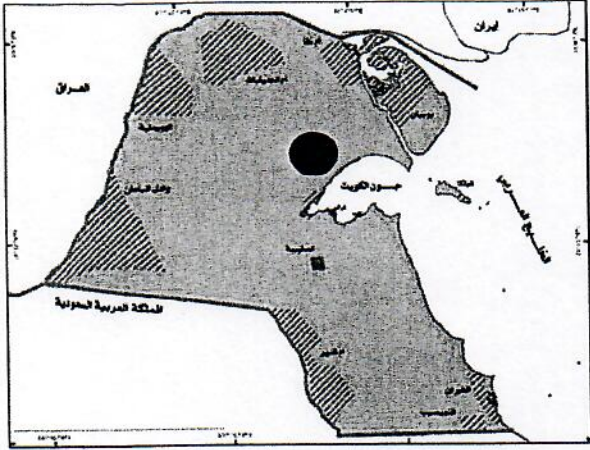
التربية



www.sskuwait.net



السؤال الرابع (اختياري) ويتكون من (أ - ب - ج) :



(أ) لاحظ الخريطة التي أمامك ثم أجب عن الأسئلة التالية :

- ١- اكتب عنوان مناسب للخريطة . (درجة)
* خريطة دولة الكويت . (أو ما يراه المصحح مناسباً)
- ٢- حدّد - محمية الشيخ صباح الأحمد الطبيعية باستخدام الرمز (●) .
(درجة) ص ١٧٩

- ٣- اكتب - عناصر الخريطة الأساسية الناقصة .
* مقياس الرسم . * الرموز والعلامات الاصطلاحية .
* توجيه الخريطة . * المسقط . * الخريطة الركنية .
* عنوان الخريطة . * الكتابة . * إطار الخريطة .

ص ٣٨ (٣ درجات - يكتفي بثلاثة إجابات)

(ب) ما مقترحاتك لكل من :

(تكون الإجابات وفق ما يراه المصحح مناسباً)

- ١- حماية وصيانة المحيط الحيوي في العالم . ص ١٧٦ (ثلاث درجات - يكتفي بثلاث إجابات)
* اهتمام العلماء بدراسة وصيانة الغلاف الحيوي ، حيث أصبح شعار التخطيط الناجح هو كيفية تطوير استخدام الموارد البيئية الحيوية وتنميتها دون حدوث خلل في النظام البيئي .
* اتجاه الحكومات إلى صيانة ما تبقى من نباتات وحيوانات برية في أراضيها من خلال ما يسمى بالحدائق الوطنية وإنشاء المحميات الطبيعية والعناية باستزراع الغابات وإنشاء بنوك المعلومات البيئية .
* الاهتمام بنشر الوعي البيئي وإدراج حماية وصيانة البيئة كأحد المكونات الأساسية لثقافة الشعوب .
* إصدار التشريعات التي تضمن حماية البيئة البحرية من التلوث سواء النفطي أو التلوث بمياه الصرف الصحي .
* التوسع في استخدام الوقود الخالي من الرصاص .
* العمل على أن تتناسب أعداد السكان والنمو السكاني والزيادة السنوية للسكان مع معطيات البيئة الطبيعية والحيوية .
- ٢- تحقيق مؤشرات الاتجاهات الاستهلاكية الرشيدة للأسرة . (درجتين - يكتفي بإجابتين) ص ٢٩٦
* ترشيد استهلاك الماء والكهرباء والاستخدام الأمثل لأفضل الطرق للمحافظة عليها .
* ترشيد استهلاك الملابس والكماليات والابتعاد عن المحاكاة والتقليد الذي يستنزف كثيراً من دخل الأسرة .
* إتباع قول الله تعالى "وَكُلُوا وَاشْرَبُوا وَلَا تُسْرِفُوا إِنَّهُ لَا يُحِبُّ الْمُسْرِفِينَ " فيجب عدم الإسراف في الإنفاق على الحاجات المتعددة للأسرة والتركيز على الإنفاق بحسب الحاجة والضرورة .

(ج) ماذا يحدث لو :

- ١- قل حجم الصادرات عن حجم الواردات للتبادل التجاري .
* تراجع في مستوى الإنفاق الكلي والنتاج المحلي الإجمالي .
* انكماش اقتصادي في جميع قطاعات الاقتصاد .
- ٢- وَقَعَ القمر في منطقة ظل أو شبه ظل الأرض . ص ٧٤ (درجة)
* عند وقوع القمر في منطقة ظل الأرض يحدث الخسوف الكلي للقمر وعند وقوع القمر في منطقة شبه ظل الأرض يحدث الخسوف الجزئي للقمر .

السؤال الخامس : (اختياري) ويتكون من (أ- ب - ج) :

(أ) أجب عن الأسئلة التالية :

١- ما العوامل المؤثرة في الضغط الجوي ؟
* درجة الحرارة . * الرطوبة . * الارتفاع . * توزيع اليابس والماء . (درجتان - يكتفي بإجابتين)

٢- علل - حدوث الأمواج البحرية . ص ١٠١ (درجة - يكتفي بإجابة واحدة)
* هبوب الرياح ؛ * حركة المد والجزر . * الحركات الزلزالية .



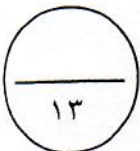
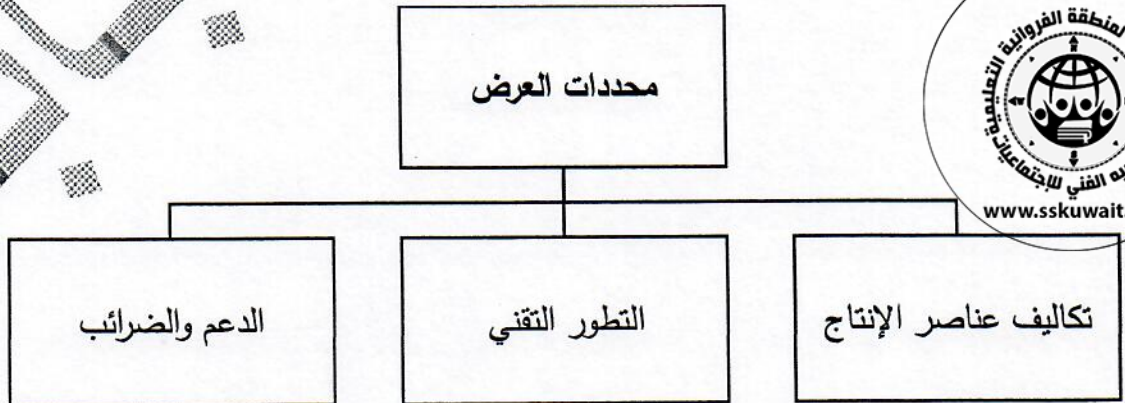
٣- عدد - أقسام الأشعة الشمسية حسب طول موجاتها . ص ١٢٣ (درجتان - يكتفي بإجابتين)
* الأشعة الحرارية (أشعة تحت الحمراء) * الأشعة الضوئية * الأشعة البنفسجية وفوق البنفسجية (الأشعة الحيوية) .

(ب) ما النتائج المترتبة على كل من :

| دورة الأرض السنوية حول الشمس ص ٧٣ | دورة الأرض المحورية (حول نفسها) ص ٦٨ |
|--|---|
| * تأرجح الدائرة الضوئية على دوائر العرض . * تتابع الفصول (الاعتدال الربيعي - الانقلاب الصيفي - الاعتدال الخريفي - الانقلاب الشتوي) . (درجتان) | * تعاقب الليل والنهار . * الحركة الظاهرية للشمس . * تغير مسار الأجسام الغازية السائلة . * الانتفاخ الاستوائي . (درجتان - يكتفي بإجابتين) |

(ج) صم مخططاً سهماً لمحددات العرض الثلاثة :

ص ٢٣٠ (٤ درجات = التصميم درجة + ثلاث درجات للمحددات)



انتهت الأسئلة

