



وزارة التربية

مكتب الوكيل المساعد للتعليم العام

امتحان الفترة الدراسية الأولى

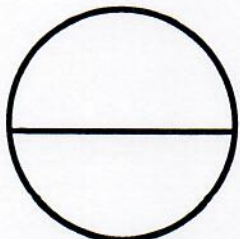
الصف الحادي عشر

العام الدراسي 2018/2017

مبادئ علم الجغرافيا وعلم الاقتصاد

تم تجميع
الامتحانات ونماذج الإجابة
وأرشفتها إلكترونياً
من قبل الموجه الفني
أ. حمد إبراهيم البحوه

رقم السؤال	الدرجة	توقيع المصحح
1		
2		
3		
4		
5		
6		
7		
8		
9		
10		
المجموع		



الدرجة بالحروف :



وزارة التربية

التوجيه الفني العام للاجتماعيات

للعام الدراسي ٢٠١٧-٢٠١٨م

الزمن : ساعتان

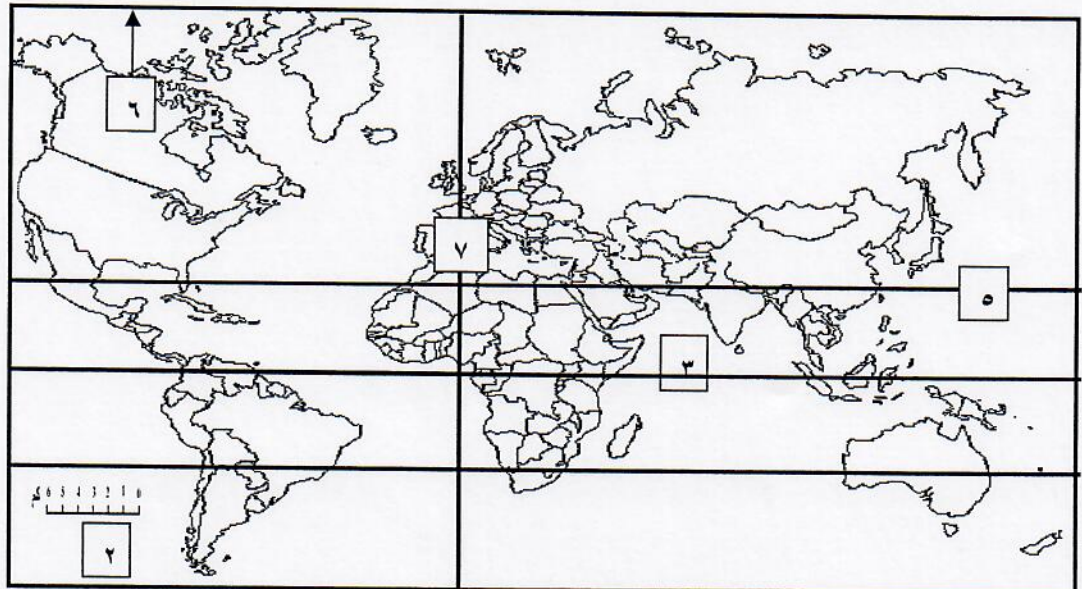
عدد الأوراق : (٦)

امتحان نهاية الفترة الدراسية الأولى للصف الحادي عشر الأدبي
مبادئ علم الجغرافيا وعلم الاقتصاد

أجب عن أربعة اسئلة من الاسئلة التالية على أن يكون السؤال الأول إجباريا

السؤال الأول إجباري: ويتكون من [أ ، ب ، ج ، د ، هـ]

(أ) لاحظ خريطة العالم ثم أكتب الرقم الدال على العبارات التالية :



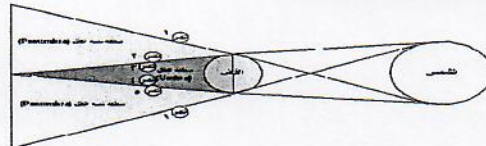
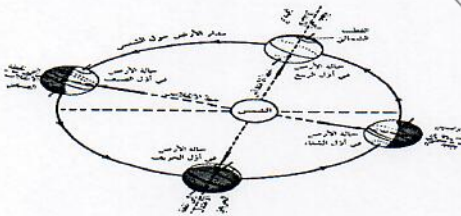
- الشمال المغناطيسي على الخريطة يمثل الرقم

- مقياس رسم الخريطة يمثل الرقم

- خط غرينتش يمثل الرقم

- خط الاستواء يمثل الرقم

(ب) اكتب مدلولات الأشكال الجغرافية التالية :



(.....)

(.....)

(.....)

تابع : السؤال الأول الإجمالي:



(ج) ضع خطأ تحت الخيار الصحيح من بين الخيارات التي تلي كل عبارة :

١ - سحب كونية تتكون من غازات متأينة ما بين النجوم والغبار :

(- الشهب - النيازك - المجرات - السدم)

٢ - رغبات الفرد في سبيل الحصول على السلعة أو الخدمة :

(- الحاجات - السلعة الاستهلاكية - النشاط الاقتصادي - الخدمات العامة)

٣ - الفصل الذي يسود في نصف الكرة الشمالي عند تعامد الشمس على مدار الجدي بتاريخ

٢١ - ٢٢ ديسمبر:

(- الربيع - الشتاء - الصيف - الخريف)

٤ - يطلق على عملية انتاج وتبادل السلع والخدمات بين البائع والمشتري :

(- الموارد الاقتصادية - مرحلة الانتاج - النشاط الاقتصادي - مرحلة السلع والخدمات)

(د) أكمل العبارات التالية بما يناسبها فيما درست :

١ - القناة المائية التي تمثل أعماق أجزاء الوادي النهري وتسلكه المياه في جريانها من المنبع الى المصب

تسمى

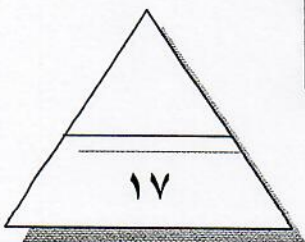
٢ - مجموع السياسات التي تتخذها الحكومة والتي تؤدي إلى زيادة النمو الاقتصادي بدافع ذاتي تسمى

.....

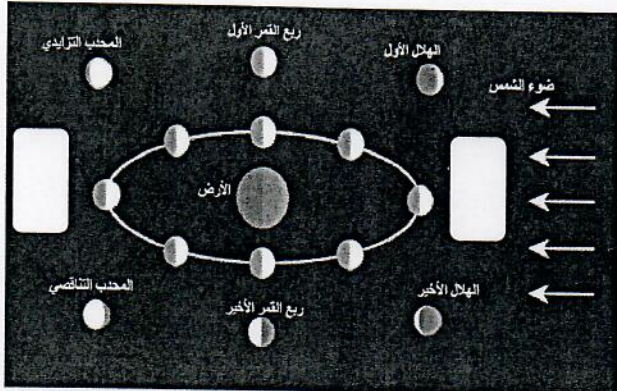
٣ - أشعة الشمس غير المرئية التي تتألف من الأشعة الحمراء تسمى.....

٤ - السلع التي يستخدمها الفرد بشكل مباشر لإشباع حاجاته تسمى

(هـ) أكمل المخطط السهمي التالي :



درجة السؤال الأول



السؤال الثاني : ويتكون من (أ - ب - ج - د) :

(أ) لاحظ الشكل المقابل ، ثم أجب الأسئلة التالية :

١ - ضع عنوان مناسب للشكل المقابل ؟

(.....)

٢ - أكمل الناقص من أوجه القمر على الشكل المقابل ؟

٣ - عدد النتائج المترتبة على دوران القمر حول الأرض .

.....

.....

(ب) فرق بين كل مما يلي :

الجغرافيا البشرية	الجغرافيا الطبيعية
.....

(ج) صمم مخططاً يوضح طرق الإنفاق في القطاعات المختلفة في الدولة .

(د) عرف المفاهيم التالية :

١ - المجرات :

.....

.....

٢ - التعداد : (الحصر السكاني)

.....

.....

درجة السؤال الثاني

السؤال الثالث : ويتكون من (أ - ب - ج) :

(أ) فرق بين كل مما يلي :

الانكسارات	الالتواءات
*	*
.....
التجوية الكيميائية	التجوية الميكانيكية
*	*
.....

(ب) قارن بين الموارد الاقتصادية حسب المطلوب في الجدول التالي :

المنظم	رأس المال	العمل	الأرض	أوجه المقارنة
.....	المورد الاقتصادي
.....
.....	مثال
.....
.....

(ج) لاحظ الشكل المقابل جيدا ثم أجب عن الأسئلة التالية :

١- ضع عنوان مناسب للشكل المقابل .

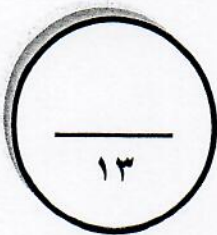
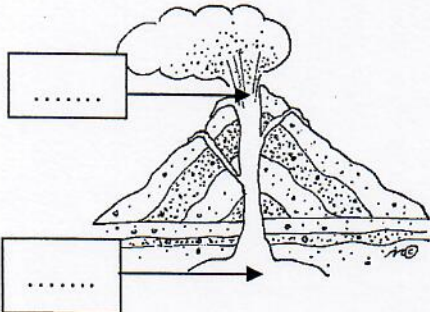
.....

٢- أكمل الناقص بالشكل المقابل .

٣- عدد آثار البراكين في النشاط البشري ؟

.....

.....



درجة السؤال الثالث

١٣

السؤال الرابع : ويتكون من (أ - ب - ج) :

(أ) احسب الزمن بعد قراءة الفقرة التالية مع كتابة الخطوات الواجب إتباعها :

إذا كانت الساعة في مدينة القاهرة ١٠ صباحا والواقعة على خط الطول ٣٠ شرقا ، فكم تكون الساعة في مدينة الكويت الواقعة على خط الطول ٤٥ شرقا .

١ - الفرق بين خطوط الطول =

٢ - الفارق الزمني بين الدولتين =

٣ - الفارق الزمني بالساعات =

٤ - الوقت في مدينة الكويت =

(ب) قارن بين كل مما يلي حسب الجدول أدناه:

أوجه المقارنة	اقتصاديات السوق	اقتصاديات التخطيط المركزي
دور الحكومة
تحديد الأسعار

(ب) علل لما يلي :

١ - تجريد كوكب بلوتو من صفة الكوكب .

.....

٢ - حدوث الفصول الأربعة .

.....

٣ - حدوث المد والجزر .

.....

٤ - حدوث الزلازل .

.....

٥ - تشكل الكهوف البحرية .

.....

درجة السؤال الرابع

السؤال الخامس : ويتكون من (أ - ب - ج)

(أ) قارن بين كل مما يلي حسب الجدول التالي :

أوجه المقارنة	الصخور النارية	الصخور الرسوبية
أنواعها	* * *	* * *
المميزات	* *	* *

(ب) عرف المفاهيم التالية ما يلي :

السلع البديلة
التضخم
الخدمة
السلع الاستهلاكية المعمرة

(ج) عدد أشكال الإرساب بفعل الرياح .

-*
-*
-*



درجة السؤال الخامس

١٣

انتهت الأسئلة مع ثنينا لكم بالتوفيق والنجاح



وزارة
مكتب الوكيل المساعد للتعليم العام



صورة

الفترة الدراسية الأولى

إجابية

العام الدراسي : 2017 / 2018 م



للعام الدراسي: ٢٠١٧-٢٠١٨م

وزارة التربية

الزمن: ساعتان

(نموذج الإجابة)

التوجيه الفني العام للاجتماعيات

عدد الأوراق: (٦)

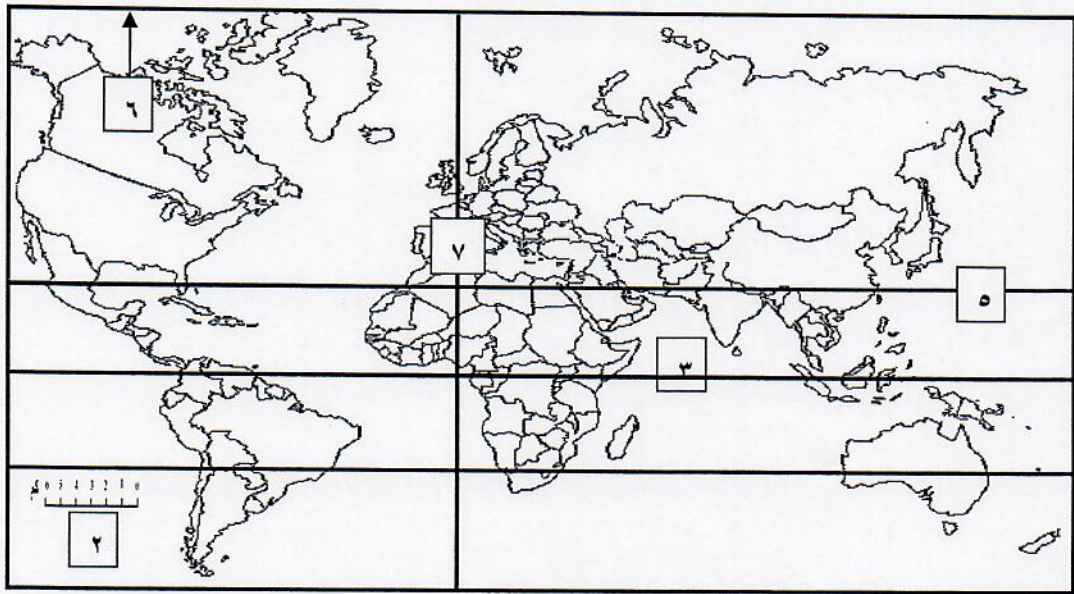
امتحان نهاية الفترة الدراسية الأولى للصف الحادي عشر الأدبي

مبادئ علم الجغرافيا وعلم الاقتصاد

أجب عن أربعة أسئلة من الأسئلة التالية على أن يكون السؤال الأول إجبارياً

السؤال الأول إجباري: ويتكون من [أ ، ب ، ج ، د ، هـ]

(أ) لاحظ خريطة العالم ثم أكتب الرقم الدال على العبارات التالية (درجة لكل نقطة):



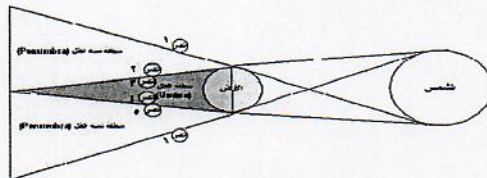
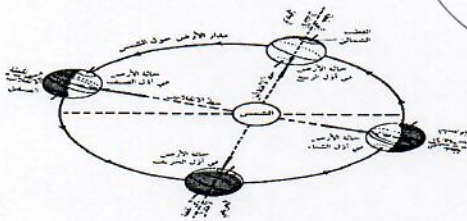
- الشمال المغناطيسي على الخريطة يمثل الرقم ٦ . ص ٣٩

- مقياس رسم الخريطة يمثل الرقم ٢ . ص ٣٨

- خط غرينتش يمثل الرقم ٧ . ص ٧٠

- خط الاستواء يمثل الرقم ٣ . ص ٧٠

(ب) اكتب مدلولات الأشكال الجغرافية التالية :



(تتابع الفصول الأربعة) ص ٧٢

(خسوف القمر) ص ٧٤

(الانكسار المعكوس) ص ٩٣

تابع السؤال الأول الإجمالي :

(ج) ضع خطأً تحت الخيار الصحيح من بين الخيارات التي تلي كل عبارة :

١ - سحب كونية تتكون من غازات متأينة ما بين النجوم والغبار : ص ٥٤
(- الشهب - النيازك - المجرات - السدوم)

٢ - رغبات الفرد في سبيل الحصول على السلعة أو الخدمة : ص ١٩٨
(- الحاجات - السلعة الاستهلاكية - النشاط الاقتصادي - الخدمات العامة)

٣ - الفصل الذي يسود في نصف الكرة الشمالي عند تعامد الشمس على مدار الجدي بتاريخ ٢١ - ٢٢ ديسمبر ص ٧٢
(- الربيع - الشتاء - الصيف - الخريف)

٤ - يطلق على عملية انتاج وتبادل السلع والخدمات بين البائع والمشتري : ص ٢٠٠
(- الموارد الاقتصادية - مرحلة الانتاج - النشاط الاقتصادي - مرحلة السلع والخدمات)

(د) أكمل العبارات التالية بما يناسبها فيما درست :

١ - القناة المائية التي تمثل أعماق أجزاء الوادي النهري وتسلكه المياه في جريانها من المنبع إلى المصب تسمى .. مجرى النهر ... ص ٩٩

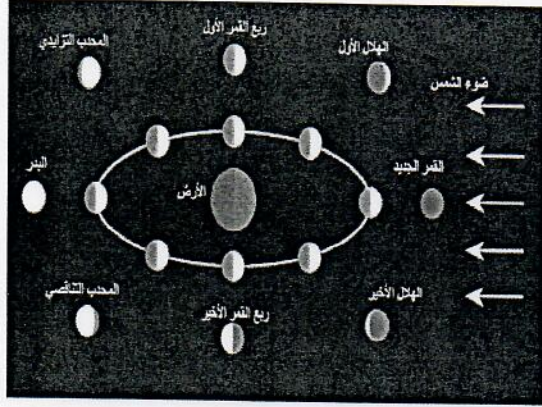
٢ - مجموع السياسات التي تتخذها الحكومة والتي تؤدي إلى زيادة النمو الاقتصادي بدافع ذاتي تسمى ... التنمية ... ص ٢٤٦

٣ - أشعة الشمس غير المرئية التي تتألف من الأشعة الحمراء تسمى ... الحرارية ... ص ٦٠

٤ - السلع التي يستخدمها الفرد بشكل مباشر لإشباع حاجاته تسمى ... السلع الاستهلاكية .. ص ٢٠٣

(هـ) أكمل المخطط السهمي التالي : ص ٢٢١





السؤال الثاني : ويتكون من (أ - ب - ج - د) :

(أ) لاحظ الشكل المقابل ، ثم أجب عن الأسئلة التالية :

(٥ درجات)

١- ضع عنوان مناسب للشكل المقابل ؟ (درجة واحدة) ص ٧٤

(دورة القمر حول الأرض أو اختلاف أوجه القمر أو ما يراه المصطح .)

٢- أكمل الناقص من أوجه القمر على الشكل المقابل ؟ (درجتان)

القمر الجديد - البدر ص ٧٤

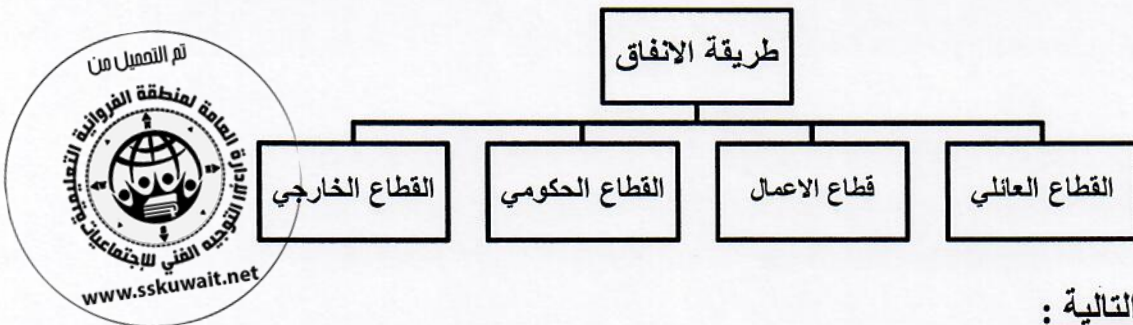
٣ - عدد النتائج المترتبة على دوران القمر حول الأرض . (درجتان يكتفى بنقطتين) ص ٧٤-٧٥

- اختلاف أوجه القمر - خسوف القمر - كسوف الشمس - الكسوف الحلقي للشمس - المد والجزر

(ب) فرق بين كل مما يلي : (درجتان)

الجغرافيا البشرية ص ٣٠	الجغرافيا الطبيعية ص ٣٠
مجموعة من العلوم الجغرافية الإنسانية تختص بدراسة النشاط البشري وتوزيع الإنسان على سطح الأرض مثل جغرافية السكان وجغرافية الحضر .	مجموعة العلوم الجغرافية التي تختص بدراسة عناصر البيئة الطبيعية والتي تمثل المسرح الطبيعي الذي يعيش فيه الإنسان وليس له دخل في نشأته مثل جغرافيا المناخ.

(ج) صمم مخططاً يوضح طرق الإنفاق في القطاعات المختلفة في الدولة (٤ درجات) ص ٢٤٠-٢٤١



(د) عرف المفاهيم التالية :

١ - المجرات : ص ٥٣ (درجتان)

الوحدة الأساسية للكون وهي نظام نجمي يتكون من بلايين النجوم والغبار الكوني وتوجد في تجمعات وأشكال مختلفة.

٢ - التعداد : (الحصر السكاني) ص ٤٥

العملية الكلية لجمع وتصنيف وتبويب المعلومات الديموغرافية والاقتصادية والاجتماعية لنشرها لكل أفراد المجتمع داخل الدول أو في منطقة جغرافية معينة في فترة زمنية محددة .


السؤال الثالث : ويتكون من (أ - ب - ج) :

(أ) فرق بين كل مما يلي: (٤ درجات)

الانكسارات ص ٩٣	الالتواءات ص ٩١
كسر في الطبقات الصخرية يصحبه تحرك بعض أجزاء هذه الطبقات رأسيا أو أفقيا	انثناء الطبقات الصخرية لأعلى أو لأسفل
التجوية الكيميائية	التجوية الميكانيكية
تفاعل أو تأثر مكونات الصخور المعدنية بالماء وبخاره أو أحد العناصر الجوية فتتحول مكونات الصخر أو بعضها إلى تراكيب تختلف عن حالتها الأصلية .	تفكك الصخر وتفتته من دون أن يتغير تركيبه المعدني ، وتمارس التجوية الميكانيكية عملها في تحطيم الصخور بعدة طرق .

(ب) قارن بين الموارد الاقتصادية حسب المطلوب في الجدول التالي : (٤ درجات) ص ٢٠١
(١/٢ درجة للمورد - ١/٢ للمثال)

أوجه المقارنة	الأرض	العمل	رأس المال	التنظيم
المورد الاقتصادي	تشمل الموارد الطبيعية وكل ما على سطح الأرض وما في باطنها وليس للإنسان دور في وجودها.	الجهد الذي يبذله الإنسان سواء بدنيا أو ذهنيا لإنتاج السلع.	الآلات والمعدات والمباني وغيرها من المواد اللازمة للإنتاج السلع والخدمات.	الشخص (طبيعيا أو معنويا) الذي يقوم بتأليف ما تحتاجه عملية الإنتاج من الموارد الطبيعية والعمال ورأس المال.
المثال	الماء ، الشجر ، المعادن ، النفط ، ثروات البحر ، وغيرها .	العامل	الآلات والمعدات والمباني والأدوات المستخدمة في الإنتاج والمخزون من المواد الأولية والسلع الوسيطة.	اختيار موقع العمل واحتياجاته من الموارد الاقتصادية الأخرى ، الإشراف والرقابة على سير العمل وغيرها .



(ج) لاحظ الشكل المقابل ثم أجب عن الأسئلة التالية :

١- ضع عنوان مناسب للشكل المقابل ؟ (درجة واحدة) ص ٨٩

المخروط البركاني أو ما يراه المصحح

٢- أكمل الناقص بالشكل المقابل ؟ (درجتان) ص ٨٩

٣- عدد آثار البراكين في النشاط البشري ؟ (درجتان يكتفى بنقطتين) ص ٩١

- خصوبة التربة - تخرج من المصهورات البركانية كثير من المعادن المهمة

- تستخدم مياه الينابيع والعيون الحارة في عمليات التدفئة والاستشفاء ومصدر للطاقة الرخيصة النظيفة .

- تستغل البراكين النشطة في السياحة كما هو الحال في براكين هاواي وأيسلندا .

السؤال الرابع : ويتكون من (أ - ب - ج) :

(أ) احسب الزمن بعد قراءة الفقرة التالية مع كتابة الخطوات الواجب إتباعها : ص ٧٠ (٤ درجات)
إذا كانت الساعة في مدينة القاهرة ١٠ صباحا والواقعة على خط الطول ٣٠ شرقا ، فكم تكون الساعة في مدينة الكويت الواقعة على خط الطول ٤٥ شرقا



١- مجموع خطوط الطول ٤٥ خط - ٣٠ خط = ١٥ خط
٢- بما أن الفرق بين كل خطي طول أربع دقائق $15 \times 4 = 60$ دقيقة
٣- تحويل الدقائق إلى ساعات $60 / 60 = 1$ ساعة
٤- بما أن الكويت تسبق القاهرة : ١٠ صباحا + ١ = ١١ صباحا في مدينة الكويت .

(ب) قارن بين كل مما يلي حسب الجدول التالي : (٤ درجات) ص ٢١٦

اقتصاديات السوق	اقتصاديات التخطيط المركزي	أوجه المقارنة
اشرافي لسن القوانين الاقتصادية	مركزي لاتخاذ القرار	دور الحكومة
السوق عن طريق العرض والطلب	الحكومة	تحديد الأسعار

(ب) علل لما يلي : (٥ درجات) (يكتفى بنقطة واحدة) .

١- تجريد كوكب بلوتو من صفة الكوكب . ص ٦٣

* صغر حجمه وعدم انتظام مداره .

٢- حدوث الفصول الأربعة . ص ٧٢

* دوران الأرض حول الشمس * ميل محور الأرض بزاوية قدرها ٢٣.٥ درجة .

٣- حدوث المد والجزر . ص ٧٥

* لاختلاف قوة الجاذبية بين الشمس والقمر وموقعهما بالنسبة للأرض .

٤- حدوث الزلازل . ص ٨٧

* الاضطرابات التي تتعرض لها قشرة الأرض مثل الصدعات * تحرك المواد الصخرية المنصهرة .

٥- تشكل الكهوف البحرية . ص ١٠٢

* نتيجة اصطدام الأمواج بنقاط الضعف السابقة فتنهش الصخور القابلة للنحت مكونة فجوات وفتحات في هذه الصخور ، ويمرور الزمن تتسع هذه الفتحات وتكون كهوف بحرية .

السؤال الخامس : ويتكون من (أ - ب - ج) :

(أ) قارن بين كل مما يلي حسب الجدول التالي : (٦ درجات) (يكتفى بنقطتين للأنواع ونقطة للمميزات) ص ٨٤ - ٨٥

أوجه المقارنة	الصخور النارية	الصخور الرسوبية
أنواعها	<ul style="list-style-type: none"> - الصخور النارية الجوفية أو العميقة . - الصخور النارية المتداخلة أو الوسيطة . - الصخور النارية الطفحية أو البركانية . 	<ul style="list-style-type: none"> - الصخور الرسوبية الميكانيكية . - الصخور الرسوبية الكيميائية . - الصخور الرسوبية العضوية .
المميزات	<ul style="list-style-type: none"> - عبارة عن بلورات من معادن مختلفة - شديدة الصلابة . - كتلية وليست طباقية - عديمة المسامية - تخلو من الأحافير 	<ul style="list-style-type: none"> - طباقية - تحتوي على الأحافير - مسامية



(ب) عرف المفاهيم التالية : (٤ درجات)

السلع البديلة	هي السلعة التي تحقق عند شرائها إلى حد ما نفس درجة الإشباع التي تحصل عليها من شراء السلعة الأخرى . ص ٢٢٦
التضخم	الارتفاع المستمر في المستوى العام للأسعار للسلع والخدمات في فترة زمنية محددة ص ٢٤٣
الخدمة	كل شيء معنوي غير ملموس يحصل عليه الفرد وينتفع منه بعد شرائه . ص ١٩٩
السلع الاستهلاكية المعمرة	السلع التي يستطيع الفرد استخدامها لفترة طويلة من الزمن . ص ٢٠٤

(ج) عدد أشكال الإرساب بفعل الرياح . (٣ درجات) (يكتفى بثلاث نقاط) ص ٩٨

* الكثبان الرملية . * التموجات الرملية

* الكثبان النجمية . * النباك

* الكثبان الطولية . * الكثبان الهابطة .

