



وزارة التربية

مكتب الوكيل المساعد للتعليم العام

امتحان الفترة الدراسية الثانية 2017 / 2018

الصف الحادي عشر - المنهج الكامل

مبادئ علم الجغرافيا وعلم الاقتصاد

الصف:

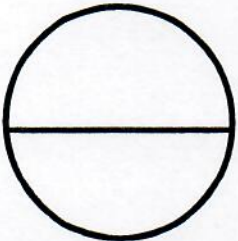
اسم الطالب /
الصف:

تم تجميع
الامتحانات ونماذج الإجابة
وارشفتها إلكترونياً
من قبل الموجه الفني
أ. محمد إبراهيم البجوه

رقم السؤال	الدرجة	توقيع المصحح
1		
2		
3		
4		
5		
6		
7		
8		
9		
10		
المجموع		



الدرجة بالحروف :





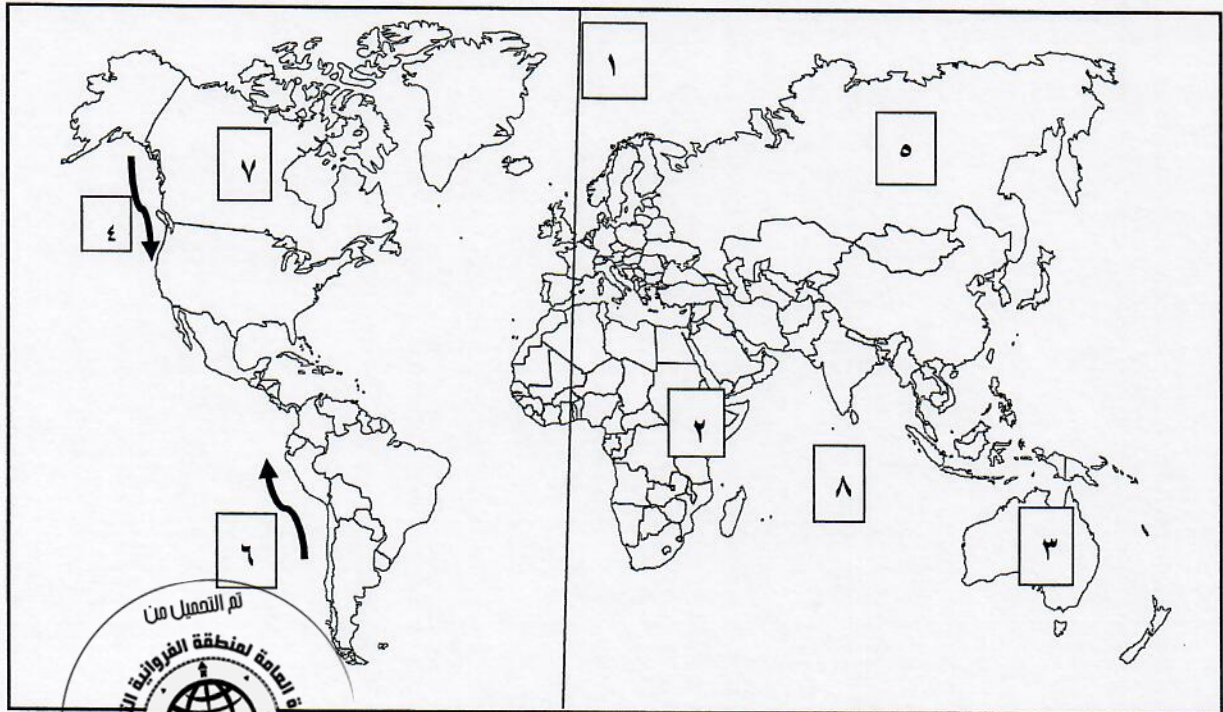
للعام الدراسي ٢٠١٧ / ٢٠١٨ م
الزمن : ساعتان
عدد الأوراق : (٦)

وزارة التربية
التوجيه الفني العام للاجتماعيات

امتحان المنهج الكامل للصف الحادي عشر الأدبي
مبادئ علم الجغرافيا وعلم الاقتصاد

أجب عن أربعة من الأسئلة التالية على أن يكون السؤال الاول إجبارياً

السؤال الأول اجباري: ويتكون من [أ ، ب ، ج ، د]
(أ) أمامك خريطة العالم الصماء ، اكتب الرقم الدال على العبارات التالية :



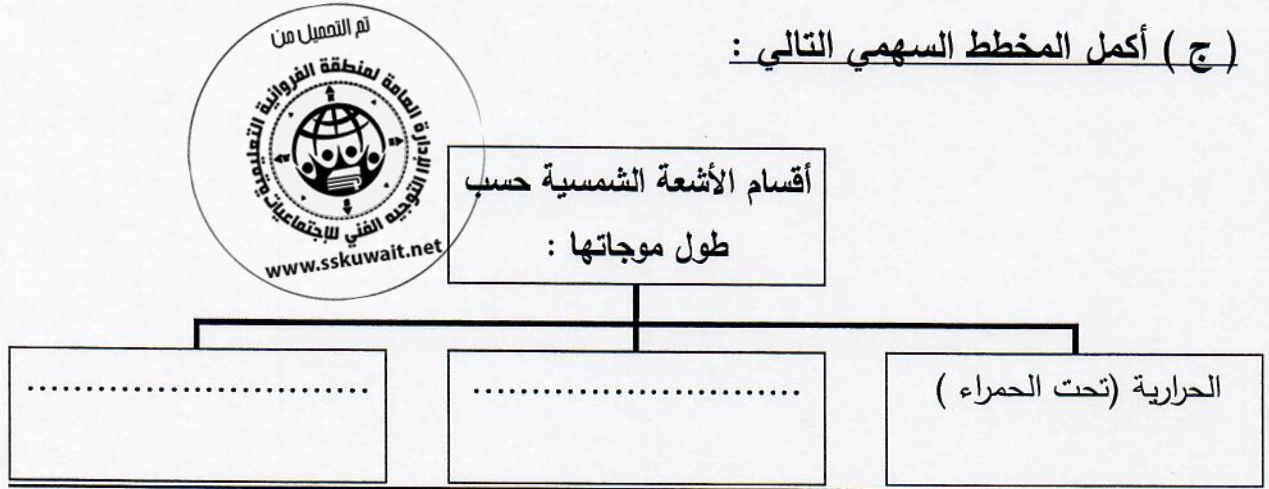
- * خط جرينتش يمثل على الخريطة الرقم (.....).
- * تيار كاليفورنيا البارد يمثل على الخريطة الرقم (.....).
- * نطاق الأخدود الأفريقي العظيم يمثل على الخريطة الرقم (.....).
- * قارة استراليا يمثل على الخريطة الرقم (.....).
- * المحيط الهندي يمثل على الخريطة الرقم (.....).

تابع السؤال الأول :

(ب) صوب ما تحته خط في العبارات التالية :

م	العبارة	التصويب
١.	أقل أنواع الزلازل حدوثاً وتنتشأ على أعماق سحيقة من باطن الأرض تسمى <u>الصناعية</u>	(.....)
٢.	تسجيل كل ما كتب عن موضوع معين على المستوى العالمي لها نوع محلي تسجل بها كل ما نشر عن دولة ما تسمى <u>الاستشعار عن بعد</u> .	(.....)
٣.	أعمق نقطة في المحيط الهادي تسمى خانق <u>بورتوريكو</u>	(.....)
٤.	الدولة التي تم اكتشاف مرض أنفلونزا الطيور فيها منذ أكثر من ١٠٠ عام تسمى <u>اليونان</u>	(.....)
٥.	الجهد الذي يبذله الإنسان سواءً بدينياً أو ذهنياً لإنتاج السلع والخدمات يسمى <u>الإنتاج</u>	(.....)

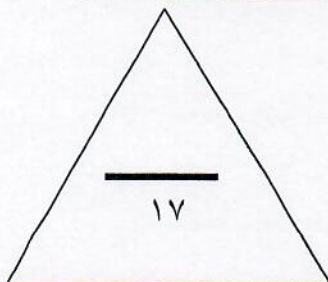
(ج) أكمل المخطط السهمي التالي :



(د) صنف محددات النمو والتنمية الاقتصادية في الجدول التالي :

رفع مستوى التعليم - زيادة الصادرات - المحافظة على البيئة - العدالة في توزيع الدخل - زيادة الدخل

تنمية اقتصادية	نمو اقتصادي
.....
.....
.....



السؤال الثاني (اختياري) : ويتكون من (أ - ب - ج) :

(أ) أقرأ الفقرة التالية ثم أجب عما يليها من أسئلة :

" على الرغم من أن البراكين تسبب خسائر كبيرة في مناطق العمران ، إلا أن لها تأثيرات مهمة في تضاريس سطح الأرض وفي النشاط البشري كخصوبة التربة البركانية تؤدي لان يقطن بالقرب من البراكين وتخرج المصهورات البركانية كثير من المعادن المهمة "

١- عرف ما تحته خط :

.....

٢- عدد أثر البراكين في النشاط البشري .

..... *

..... *

(ب) قارن بين كل من :

أوجه المقارنة	إقليم الحشائش الحارة الطويلة ((السافانا))	إقليم الحشائش المعتدلة القصيرة ((الاستبس))
درجة الحرارة**
الأمطار**
أنواع الحشائش**



(ج) عدد اثنين فيما يلي :

١. العوامل المؤثرة في سلوك الأسرة عند تنفيذ التخطيط المالي .

..... *

..... *

٢. أنواع القيود غير الجمركية على الصادرات والواردات .

..... *

..... *

السؤال الثالث (اختياري) : ويتكون من (أ - ب - ج) :

(أ) احسب الزمن بعد قراءة الفقرة التالية :

" إذا كانت مباراة كرة القدم تذايع في دولة الكويت في الساعة الخامسة مساءً عبر الأقمار الصناعية من جزر الكناري في نفس الوقت ، فإذا علمنا بأن الكويت تقع على خط طول ٤٥ شرقاً وجزر الكناري تقع على خط طول ١٥ غرباً، فكم تكون الساعة التي ستقام بها المباراة في جزر الكناري"

- *الفرق بين خطوط الطول
- *الفرق في الزمن
- *الفرق في عدد الساعات
- *.....

(ب) علل لما يلي :

١. تعتبر الرياح عاملاً مهماً من عوامل التعرية في الأقاليم الصحراوية وشبه الصحراوية .

- *.....
- *.....
- *.....
- ٢. تعد الدراسة الميدانية من أهم خطوات البحث العلمي .
- *.....
- *.....

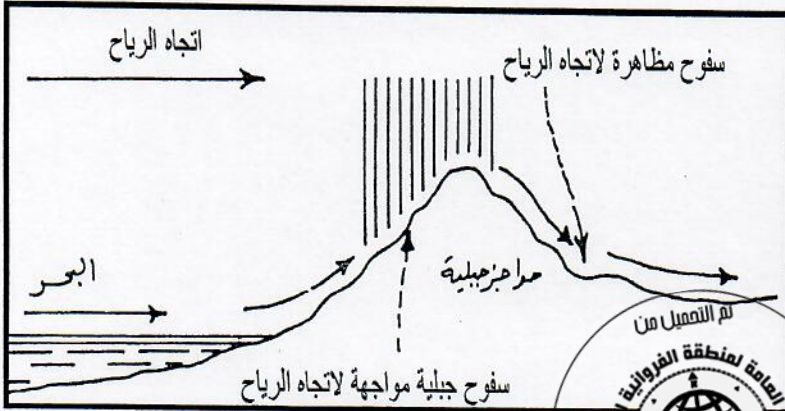
(ج) فرق بين كل من :

سمات سوق المنافسة الكاملة	سمات سوق الاحتكار
*.....	*.....
*.....	*.....
*.....	*.....
*.....	*.....



السؤال الرابع (اختياري) : ويتكون من (أ - ب - ج)

(أ) لاحظ الشكل التالي ، ثم نفذ ما هو مطلوب منك :



١- اكتب مدلول الشكل المقابل .

٢- كيف تحدث هذه الظاهرة ؟

(ب) أكتب فيما يلي :

١. الإحصائيات الرسمية التي تصدر من الجهات الحكومية .

٢. سبب زيادة طول القطر الاستوائي للكرة الأرضية عن القطر القطبي .

٣- أهم الظواهر الناتجة عن النحت بفعل الأمواج .

(ج) صمم مخططاً سهمياً لثلاثة من محددات الطلب :

السؤال الخامس : (اختياري) ويتكون من (أ - ب - ج)
(أ) عرف المفاهيم التالية :

١. النجوم :
٢. الغلاف الجوي :
٣. الضباب :
٤. النظام المالي :

(ب) عدد لما يأتي :

١. النتائج المترتبة على التغيرات المناخية.

٢. أسباب نشأة التيارات البحرية .

(ج) قارن بين كل من :

أوجه المقارنة	اقتصاديات السوق	النظام المختلط
ملكية الموارد**
دور الحكومة**

انتهت الأسئلة .. نرجو للجميع التوفيق والنجاح...



وزارة التربية
مكتب الوكيل المساعد للتعليم العام

نموذج الإجابة

الفترة الدراسية الثانية
(المنهج الكامل)



العام الدراسي : 2017 / 2018 م



وزارة التربية

التوجيه الفني العام للاجتماعيات

(نموذج الإجابة)

للعام الدراسي ٢٠١٢ / ٢٠١٨ م

الزمن : ساعتان

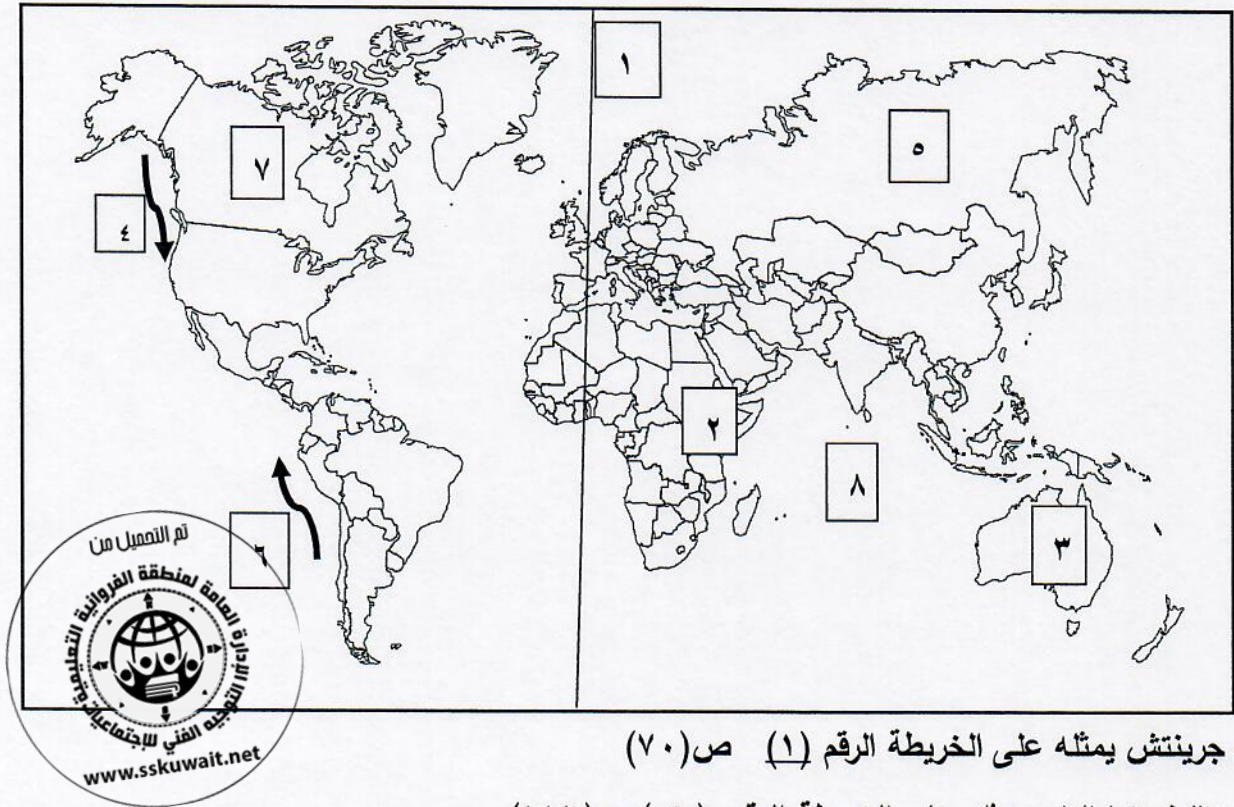
عدد الأوراق : (٦)

امتحان المنهج الكامل للصف الحادي عشر الأدبي

مبادئ علم الجغرافيا وعلم الاقتصاد

أجب عن أربعة من الأسئلة التالية على أن يكون السؤال الأول إجبارياً

السؤال الأول اجباري: ويتكون من [أ ، ب ، ج ، د] (درجة لكل نقطة)
(أ) أمامك خريطة العالم الصماء ، اكتب الرقم الدال على العبارات التالية : (خمس درجات لكل نقطة درجة)



* خط جرينتش يمثل على الخريطة الرقم (١) ص (٧٠)

* تيار كاليفورنيا البارد يمثل على الخريطة الرقم (٤) ص (١١٦)

* نطاق الأخدود الأفريقي العظيم يمثل على الخريطة الرقم (٢) ص (٨٨)

* قارة استراليا يمثل على الخريطة الرقم (٣) ص (١١٦)

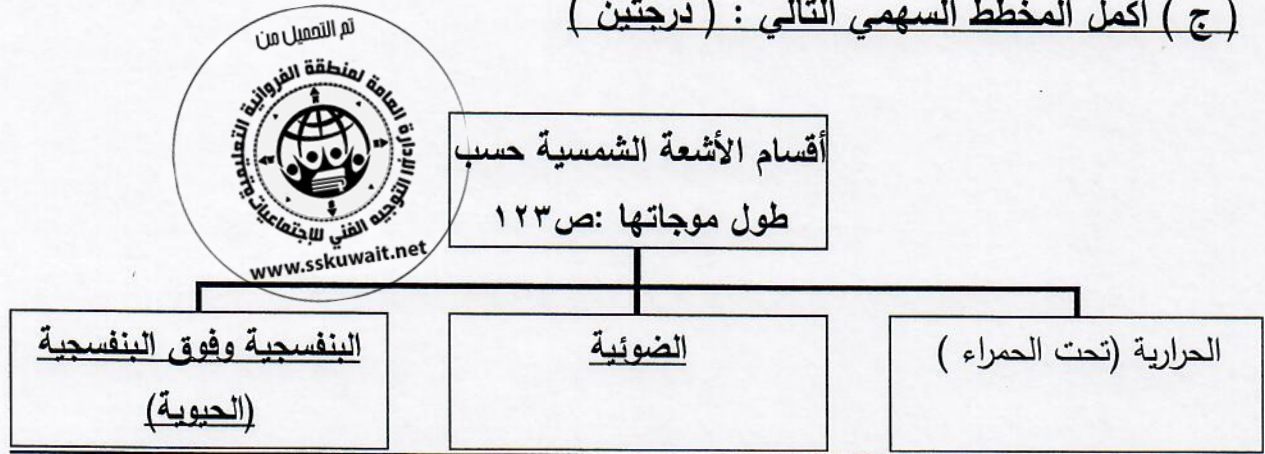
* المحيط الهندي يمثل على الخريطة الرقم (٨) ص (١٥٥)

تابع السؤال الأول :

(ب) صوب ما تحته خط في العبارات التالية : ((خمس درجات))

م	العبرة	التصويب
١.	أقل أنواع الزلازل حدوثاً وتنتشأ على أعماق سحيقة من باطن الأرض تسمى <u>الصناعية</u>	الجوفية البلوتونية ص ٨٧
٢.	تسجيل كل ما كتب عن موضوع معين على المستوى العالمي لها نوع محلي تسجل بها كل ما نشر عن دولة ما تسمى <u>الاستشعار عن بعد</u> .	الببلوجرافيات ص ٤٧
٣.	أعمق نقطة في المحيط الهادي تسمى خانق بورتوريكو	ماريانا ص ١١١
٤.	الدولة التي تم اكتشاف مرض أنفلونزا الطيور فيها منذ أكثر من ١٠٠ عام تسمى <u>اليونان</u>	إيطاليا ص ١٧٣
٥.	الجهد الذي يبذله الإنسان سواءً بدينياً أو ذهنياً لإنتاج السلع والخدمات يسمى <u>الإنتاج</u>	العمل ص ٢٠١

(ج) أكمل المخطط السهمي التالي : (درجتين)



(د) صنف محددات النمو والتنمية الاقتصادية في الجدول التالي: ص ٢٤٦ - ص ٢٤٧

رفع مستوى التعليم - زيادة الصادرات - المحافظة على البيئة - العدالة في توزيع الدخل - زيادة الدخل

تنمية اقتصادية	نمو اقتصادي
<ul style="list-style-type: none"> • رفع مستوى التعليم • المحافظة على البيئة • العدالة في توزيع الدخل 	<ul style="list-style-type: none"> • زيادة الصادرات • زيادة الدخل

السؤال الثاني (اختياري) : ويتكون من (أ - ب - ج) :

(أ) أقرأ الفقرة التالية ثم أجب عما يليها من أسئلة : ((ثلاث درجات)) ص (٨٩ - ٩٠ - ٩١)

" على الرغم من أن البراكين تسبب خسائر كبيرة في مناطق العمران ، إلا أن لها تأثيرات مهمة في تضاريس سطح الأرض وفي النشاط البشري كخصوبة التربة البركانية تؤدي لان يقطن بالقرب من البراكين وتخرج المصهورات البركانية كثير من المعادن المهمة "

١- عرف ما تحته خط : (درجة) عبارة عن خروج المواد المنصهرة (الماجما) والغازات والأبخرة المحبوسة في جوف الأرض عبر مناطق ضعف جيولوجي في قشرة الأرض .

٢- عدد أثر البراكين في النشاط البشري . (درجتين يكتفي بنقطتين)

* نتيجة لخصوبة التربة البركانية فإننا نجد أن الإنسان يقطن بالقرب من البراكين أو على منحدراتها مثل بركان فيزوف في ايطاليا * تخرج من المصهورات البركانية كثير من المعادن المهمة * تستخدم مياه الينابيع والعيون الحارة في عمليات التدفئة والاستشفاء بل وتعتبر مصدراً للطاقة الرخيصة النظيفة * تستغل البراكين النشطة في السياحة كما الحال في براكين هاواي وأيسلند .

(ب) قارن بين كل من : (ست درجات) ص (١٥٨ - ١٥٩ - ١٦١ - ١٦٢)

أوجه المقارنة	إقليم الحشائش الحارة الطويلة ((السافانا))	إقليم الحشائش المعتدلة القصيرة ((الاستبس))
درجة الحرارة	* مرتفعة طوال العام . * تزداد درجة الحرارة صيفاً إلى ٣٢ م . * لا يقل المتوسط الشهري للحرارة عن ٢٠ م .	* ترتفع درجة الحرارة في فصل الصيف وتتراوح بين ١٩ - ٢١ م * تنخفض درجة الحرارة في الشتاء إلى ما دون الصفر المئوي .
الأمطار	* تسقط صيفاً ويطول فصل الجفاف الشتوي لمدة تصل إلى ٥ شهور . * تتراوح كمية الأمطار من ٢٠ - ٤٠ بوصة .	* تتراوح كمية المطر السنوي من ١٥ - ٣٠ بوصة .
أنواع الحشائش	* السافانا الرطبة * السافانا المغلقة * السافانا القصيرة أو المكشوفة .	* الاستبس الحقيقي * الاستبس الغابي * الاستبس الجاف

(ج) عدد اثنين فيما يلي : (أربع درجات)

١. العوامل المؤثرة في سلوك الأسرة عند تنفيذ التخطيط المالي . (درجتين ويكتفي بنقطتين) ص (٢٩٧)
* عدم وجود الثقة والدراية الكافية بأساسيات التخطيط لشؤون الأسرة المالية . * عدم مراعاة تحديد الأولويات للأسرة * عدم وجود ضوابط لبنود المصاريف بحيث تتناسب مع الميزانية المعمول فيها . * عدم تعاون أفراد الأسرة فيما بينهم بخصوص الصرف والإنفاق على السلع والخدمات بحيث لا يتم مراعاة تنفيذ التخطيط للأسرة بشكل جماعي .

٢. أنواع القيود غير الجمركية على الصادرات والواردات . (درجتين ويكتفي بنقطتين) ص (٢٦٥ - ٢٦٦)
* نظام الحصص * قيود التصدير الطوعية * القيود الإدارية والفنية والتنظيمية .

السؤال الثالث (اختياري) : ويتكون من (أ - ب - ج) :

(أ) احسب الزمن بعد قراءة الفقرة التالية : (أربع درجات لكل خطوة درجة)

" إذا كانت مباراة كرة القدم تذاغ في دولة الكويت في الساعة الخامسة مساءً عبر الأقمار الصناعية من جزر الكناري في نفس الوقت ، فإذا علمنا بأن الكويت تقع على خط طول ٤٥ شرقاً وجزر الكناري تقع على خط طول ١٥ غرباً، فكم تكون الساعة التي ستقام بها المباراة في جزر الكناري" ص (٧٠)

* الفرق بين خطوط الطول = $٤٥ + ٣٠ = ٦٠$ خط

* الفرق في الزمن = $٤ \times ٦٠ = ٢٤٠$ دقيقة

* الفرق في عدد الساعات = $٦٠ \div ٢٤٠ = ٤$ ساعة

* بما أن دولة الكويت تسبق جزر الكناري بمقدار ٤ ساعات فإن التوقيت في جزر الكناري ٥-٤ = ١ ساعة إذن سوف تقام مباراة كرة القدم في جزر الكناري في الساعة الواحدة ظهراً .

(ب) علل لما يلي : (خمس درجات لكل نقطة درجة)

١. تعتبر الرياح عاملاً مهماً من عوامل التعرية في الأقاليم الصحراوية وشبه الصحراوية . ص (٩٦)

(يكتفي بثلاث نقاط)

* ندر الغطاء النباتي * كثرة المواد التي فتتها عمليات التجوية * يسهل على الرياح النقاطها وحملها واكتساحها .

٢. تعد الدراسة الميدانية من أهم خطوات البحث العلمي . ص (٤٤) (يكتفي بنقطتين)

* التعرف على كثير من الجوانب التي لم تكن ظاهرة أو واضحة في معظم الكتب والمراجع أو الإحصائيات أو الخرائط. *

تضع الباحث الجغرافي أمام الظواهر الحقيقية المراد تحليلها .

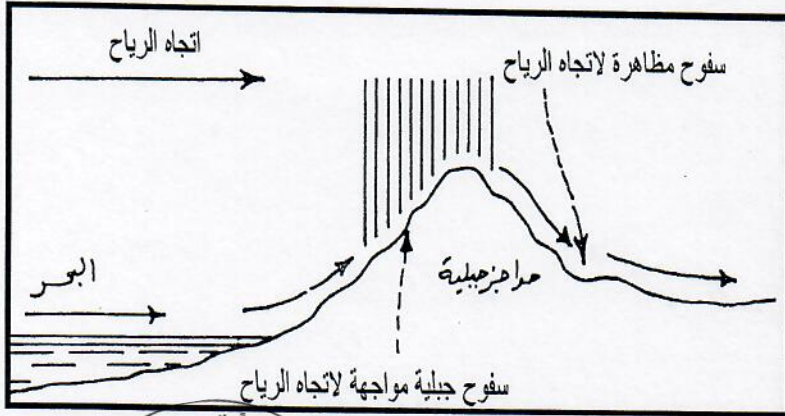
* التعرف على المشاكل الحقيقية التي تتطلب الحل والتعليل والتفسير .

(ج) فرق بين كل من : (أربع درجات يكتفي بنقطتين لكل بند) ص (٢٢٢-٢٢٣)

سمات سوق المنافسة الكاملة	سمات سوق الاحتكار
* وجود عدد كبير من البائعين والمشتريين للسلعة .	* وجود بائع وحيد في السوق .
* تجانس السلعة في هذا السوق .	* السلعة في هذا السوق وحيدة وليس لها بدائل قريبة .
* توافر المعلومات لدى المشتريين والبائعين .	* وجود عوائق كثيرة تمنع المنافسين من دخول السوق .
* حرية الدخول إلى السوق والخروج منه .	* البائع (المحتكر) في هذا السوق هو من يتحكم بالسعر .

السؤال الرابع (اختياري) : ويتكون من (أ - ب - ج)

(أ) لاحظ الشكل التالي ، ثم نفذ ما هو مطلوب منك : (درجتين)



١- اكتب مدلول الشكل المقابل .

* المطر التضاريسي .

٢- كيف تحدث هذه الظاهرة ؟

وهو ينشأ من تصادم الهواء الدافئ المحمل ببخار الماء بسفوح الجبال العالية وتصاعده إلى أعلى ثم يتكثف ما به من بخار الماء وتسقط الأمطار على هذه السفوح لمواجهة الرياح بكميات أكبر من

تلك السفوح الجبلية المضادة للرياح والواقعة في ظل المطر .

(ب) أكتب فيما يلي : (سبع درجات)

١. الإحصائيات الرسمية التي تصدر من الجهات الحكومية . (يكتفى بثلاث نقاط) ص (٤٥ - ٤٦)

*التعداد * الإحصائيات الحيوية * المجموعة الإحصائية السنوية .

* دليل الهيئة العامة للمعلومات المدنية . * النشرات الإحصائية .

٢. سبب زيادة طول القطر الاستوائي للكرة الأرضية عن القطر القطبي ص (٦٧)

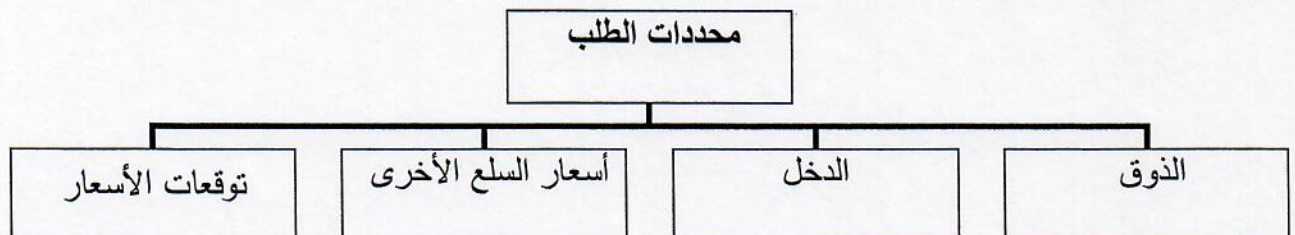
*تأثير عمليات دوران الأرض حول نفسها خلال مراحل نمو بدايتها .

٣- أهم الظواهر الناتجة عن النحت بفعل الأمواج ؟. (يكتفى بثلاث نقاط) ص (١٠٢ - ١٠٣)

*الجروف البحرية * الكهوف البحرية * الأقواس البحرية * المسلات البحرية

(ج) صمم مخططاً سهمياً لثلاثة من محددات الطلب : (أربع درجات درجة لكل نقطة درجة)

ص (٢٢٦-٢٢٧)



السؤال الخامس : (اختياري) ويتكون من (أ - ب - ج)

(أ) عرف المفاهيم التالية : (أربع درجات)

١. النجوم : أجرام سماوية مضيئة تتكون من الغازات والهيدروجين والهيليوم ودرجة حرارتها مرتفعة جداً وأقربها لنا (الشمس) ص.(٥٥)

٢. الغلاف الجوي : عبارة عن غطاء سميك من الغازات يحيط بالكرة الأرضية من جميع الجهات ويتأثر بقوة جاذبية الأرض . ص.(١٢١)

٣. الضباب : وهو عبارة عن ذرات مائية خفيفة الوزن تتطاير في الهواء ويزداد ثقلها بالقرب من سطح الأرض ص.(١٣٧)

٤. النظام المالي : مجموعة القواعد والإجراءات التي تنظم أسواق ومؤسسات معينة يتم بها بيع وشراء الخدمات المالية والتأمين . ص.(٢٥١)

(ب) عدد فيما يلي : (خمس درجات)

١. النتائج المترتبة على التغيرات المناخية . ص(١٧٤)(يكتفى بثلاث نقاط)

*يتغير مناخ الأرض نتيجة للتلوث الذي أطلقناه في الجو والذي أدى إلى ارتفاع حرارة الجو ، وأقل تغير في المناخ يؤثر على الحياة البرية . * مع ارتفاع حرارة كوكب الأرض ترتفع حرارة المحيطات أيضاً ونتيجة لذلك انخفض عدد سمك السلمون في شمال المحيط الهادي . * وارتفاع حرارة مياه البحار أدى إلى تدمير الشعب المرجانية في العالم فعندما تسخن المياه التي تعيش فيها تتلخص الشعب وتنفذ النباتات الدقيقة التي تؤمن لها الغذاء . * يقول خبراء الأحوال الجوية أن المناطق القطبية ترتفع درجة حرارتها بمعدل أكبر من المناطق الأخرى وأظهرت دراسة علمية الى وجود صلة بين التآكل في طبقة الجليد وبين انبعاث الغازات الناتجة عن استخدام الإنسان مثل عوادم السيارات والمصانع .

٢. أسباب نشأة التيارات البحرية . ص (١١٥)(يكتفى بنقطتين)

*ارتفاع كثافة مياه البحر * الرياح الدائمة.

* القوة الناتجة من دوران الأرض حول محورها من الغرب إلى الشرق (قانون فرل) . * السواحل

(ج) قارن بين كل من : (أربع درجات) ص (٢١٦)

أوجه المقارنة	اقتصاديات السوق	النظام المختلط
ملكية الموارد	خاصة	مختلطة
دور الحكومة	إشرافي لسن القوانين الاقتصادية	مختلط

انتهت الأسئلة .. نرجو للجميع التوفيق والنجاح...