

الدرجات

السؤال	الدرجة	المصحح	المراجع
الأول			
الثاني			
الثالث			
الرابع			
الخامس			
المجموع			

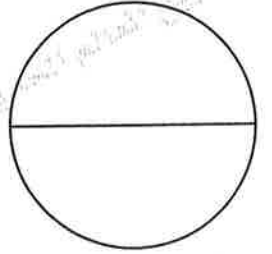


وزارة التربية

امتحان الصف الثاني عشر
القسم الأدبي
تاريخ العالم الحديث والمعاصر

تم تجميع
الامتحانات ولماذج الإجابة
وأرشفتها إلكترونياً
من قبل الموجه الفني
أ. حمد إبراهيم البحوه

مجموع الدرجات (مكتوباً بالحروف)



السؤال	الأول	الثاني	الثالث	الرابع	الخامس	المجموع
الدرجة						
الدرجة						

رقم المراقبة



المجال الدراسي

رقم المراقبة

امتحان

الفترة

سنة م

وزارة التربية



التربية الخاصة

الاسم كاملاً :

المدرسة :

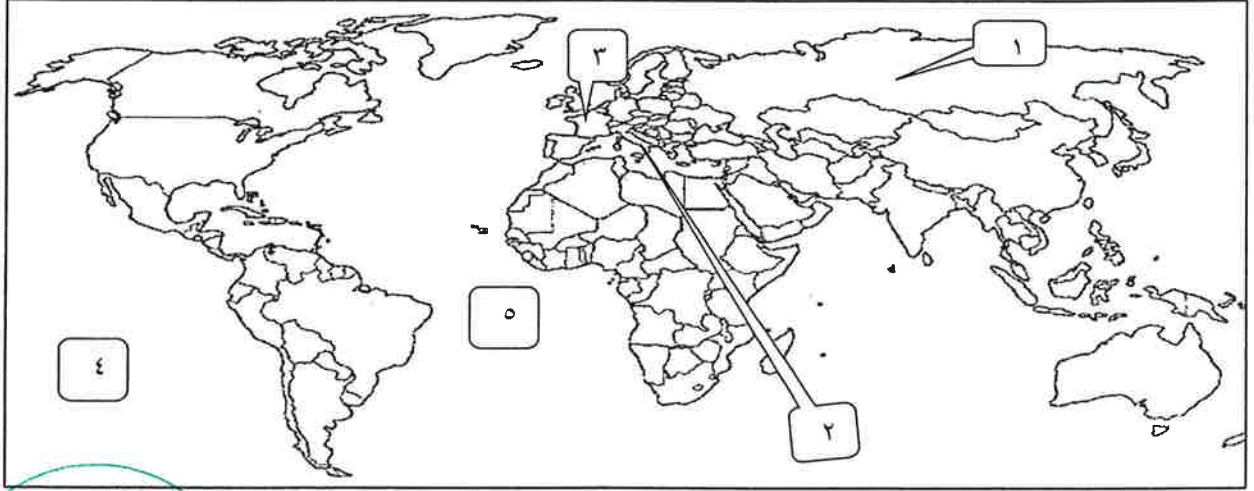
رقم الجلوس بالأرقام العربية : رقم الجلوس بالأرقام بالإنجليزية :

التاريخ :

أجب عن جميع الأسئلة التالية

السؤال الأول : ويتكون من (أ - ب - ج) :

(أ) أمامك خريطة العالم الصماء دون الأرقام التي عليها في العبارات التي تليها :



- المحيط الهادي يمثل على الخريطة الرقم () .
- دولة صاحبة النموذج الشامل للثورة يمثلها على الخريطة الرقم () .
- دولة خرجت من الحرب العالمية الأولى عام ١٩١٧م يمثلها على الخريطة الرقم () .
- دولة تم احتلالها من قبل الحلفاء عام ١٩٤٣م يمثلها على الخريطة الرقم () .

(ب) اكتب المصطلحات الدالة على العبارات التالية بالاستعانة فيما بين الأقواس بوضع الرقم المناسب:

(١) الولايات المتحدة الأمريكية. (٢) سراييفو (٣) الخمسمائة (٤) قانون نابليون (٥) فالمي.

() تشريعا يحافظ على القيم والتقاليد القديمة في مجال الأسرة و الملكية الخاصة .

() معركة تعد من أهم معارك الثورة الفرنسية عام ١٧٩٢م .

() مدينة وقعت بها حادثة اغتيال ولي عهد النمسا ١٩١٤م .

() مجلس يجدد لثلث أعضائه كل سنة وله الحق في اصدار القوانين .

() الدولة التي لم تشارك في عضوية عصبة الأمم على الرغم من انها صاحبة الفكرة.



(ج) أنسب التواريخ التالية إلى أحداث الحرب العالمية الأولى في العبارات التي تليها بوضع الرقم في مكانه المناسب بين القوسين :

(١) ١٩١٧ م (٢) ١٩١٨ م (٣) ١٩١٤ م (٤) ١٩١٦ م (٥) ١٩١٩ م

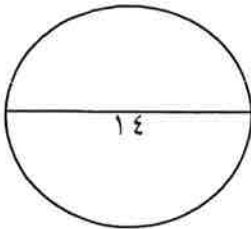
- معركة المارن الأولى ()

- دخول الولايات المتحدة الامريكية الحرب ()

- معركة فردان ()

- نهاية الحرب العالمية الاولى ()

- معاهدة صلح فرساي ()



السؤال الثانى : ويتكون من (أ - ب - ج) :

(أ) صحح ما تحته خط في العبارات التالية مستعينا بالكلمات بين الأقواس بوضع الرقم المناسب:

(١) السوفييت (٢) زوكوف (٣) كفاحي (٤) الباستيل (٥) اسبانيا

التصحيح	العبرة
	المجالس الشيوعية التي اسسها الحزب الشيوعي تسمى <u>اللوردات</u> .
	دعمت كل من النازية والفاشية النظام الدكتاتوري في <u>البرتغال</u> .
	قائد القوات الروسية الذي قام باحتلال برلين اسمه <u>رومل</u> .
	ألف هتلر كتابا يصف فيه الحركة النازية يسمى <u>روح القوانين</u> .
	حصن احيط بهالة من الاساطير واصبح رمزا من رموز الطغيان والظلم يسمى <u>التوليري</u> .

(ب) أكمل العبارات التالية بالاستعانة فيما بين الأقواس بوضع الرقم المناسب :

(١) فيشي (٢) فيلادلفيا (٣) هيروشيما (٤) روسو (٥) روزفلت

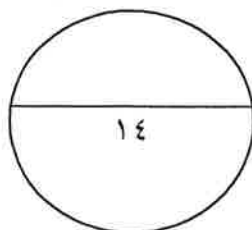
- ألقت الولايات المتحدة الأمريكية قنبلة نووية على مدينة . ()
- الرئيس الأمريكي الذي تبنى سياسة اقتصادية جديدة لإصلاح الاقتصاد الأمريكي . ()
- مفكر فرنسي ومؤلف كتاب العقد الاجتماعي . ()
- مدينة اقام بها هتلر حكومة موالية له عام ١٩٤٠م . ()
- عقد اجتماع الكونجرس الأول لقادة المستعمرات في مدينة . ()

(ج) أنسب التواريخ التالية إلى أحداث الحرب العالمية الثانية على الخط الزمني الذي تليها بوضع الرقم

في مكانه المناسب بين القوسين :

(١) ١٩٤٢م (٢) ١٩٤٥م (٣) ١٩٣٩م (٤) ١٩٣٨م

اجتياح بولندا ()
مؤتمر ميونيخ ()
معركة ستالينجراد ()
نهاية الحرب العالمية الثانية ()



السؤال الثالث : يتكون من (أ - ب - ج) :

(أ) ظلل المربع (أ) إذا كانت العبارة صحيحة وظلل المربع (ب) إذا كانت العبارة غير صحيحة:

م	العبارة	أ	ب
١	دخلت الدولة العثمانية الحرب العالمية الأولى إلى جانب المانيا.		
٢	أصبح للملك الفرنسي حق اختيار وزرائه حسب دستور ١٧٩٥ م .		
٣	يعرف عام ١٩٤٢م في الحرب العالمية الثانية بالسنة الانقلابية .		
٤	الفاشية هي حركة يمينية متطرفة شجعها الأغنياء والطبقة الوسطى ورجال الدين.		

(ب) اختر لكل عبارة من المجموعة (أ) ما يناسبها من المجموعة (ب) بوضع الرقم في المكان المناسب في الجدول:

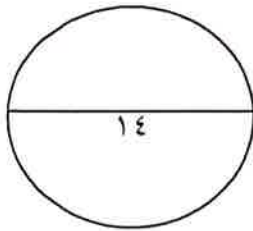
م	أ	الرقم	ب
١	مجلس طبقات الأمة		الاتصالات بين الدول وبين المنظمات الدولية في جميع المجالات.
٢	الطبقة الممتازة		احتفال الامريكيون بيوم ٤ يوليو من كل عام .
٣	سياسة الامتيازات		طبقة تشكل اقلية لا تزيد عن ١% من مجموع الشعب الفرنسي .
٤	العلاقات الدولية		إعفاء الطبقة الممتازة في فرنسا من جميع أنواع الضرائب
٥	إعلان وثيقة الاستقلال		مؤسسة برلمانية صورية لم تستطع أن تحد من سلطات الملك.

(ج) أكمل العبارات التالية بالاستعانة فيما بين الأقواس بوضع الرقم المناسب :

(١) بيرل هاربر (٢) اليعاقبة (٣) الوفاق الودي (٤) جنيف (٥) روسو



- توجد الجمعية العامة لعصبة الأمم في مدينة ()
- هاجمت اليابان عام ١٩٤١م ميناء تابعا للولايات المتحدة الامريكية ()
- حزب يمتاز بانه اقلية شديدة التنظيم ذات اتصال قوي بالشعب وجمهور باريس ()
- مفكر فرنسي ومؤلف كتاب العقد الاجتماعي ()
- حلف يضم فرنسا وبريطانيا وروسيا ()



السؤال الرابع : ويتكون من (أ - ب - ج) :

(أ) أوجد علاقات الارتباط بين ما يلي مستعينا فيما بين الأقواس بوضع الرقم المناسب :

- (١) الدستور الأمريكي (٢) مبادئ النازية (٣) ازمة وول ستريت
(٤) وثيقة حقوق الانسان المواطن الفرنسي (٥) الأنظمة الدكتاتورية



- إفلاس البنوك - انخفاض الاسعار - انتشار البطالة. ()
- حرية الصحافة - قابلية التخيير و التعديل - حماية حقوق الناس ()
- لا عقوبة بدون قانون - الأمة صاحبة السيادة - المتهم برئ حتى تثبت ادانته ()
- إلغاء معاهدة فرساي - استعادة المستعمرات - امتلاك الدولة للشركات ()
- فرانكو - مصطفى كمال أتاتورك - موسوليني ()

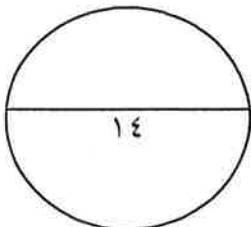
(ب) ظلل المربع (أ) إذا كانت العبارة صحيحة وظلل المربع (ب) إذا كانت العبارة غير صحيحة:

م	العبارة	أ	ب
١	انتهت الحرب العالمية الأولى بهزيمة المانيا وحلفاؤها.		
٢	عرفت الثورة الانجليزية عام ١٦٨٩م بالثورة الكبرى .		
٣	منظمة دولية تأسست بعد الحرب العالمية الأولى لتنظيم العلاقات الدولية وإحلال السلام تسمى عصبة الأمم .		
٤	انتهت الدكتاتوريات في إيطاليا وألمانيا واليابان بعد الحرب العالمية الثانية .		
٥	يتكون مجلس الشيوخ من ٤٠٠ عضوا .		

(ج) صحح ما تحته خط في العبارات التالية مستعينا بالكلمات بين الأقواس بوضع الرقم المناسب :

- (١) الثورة (٢) ايطاليا (٣) ساراتوجا (٤) ميرابو

العبارة	التصحيح
١- إننا هنا بإرادة الشعب ولن نبرح أماكننا إلا على أسنة الرماح القائل <u>دانتون</u>	
٢- وقعت المانيا الحلف الفولاذي عام ١٩٣٩م مع <u>فرنسا</u> .	
٣- محكمة كانت تأخذ الناس بالشبهات ووجهت اليهم تهمة الخيانة العظمى تسمى <u>باريس</u> .	
٤- المعركة الفاصلة في حرب الاستقلال الأمريكية عام ١٧٧٧م تسمى <u>كونكورد</u> .	

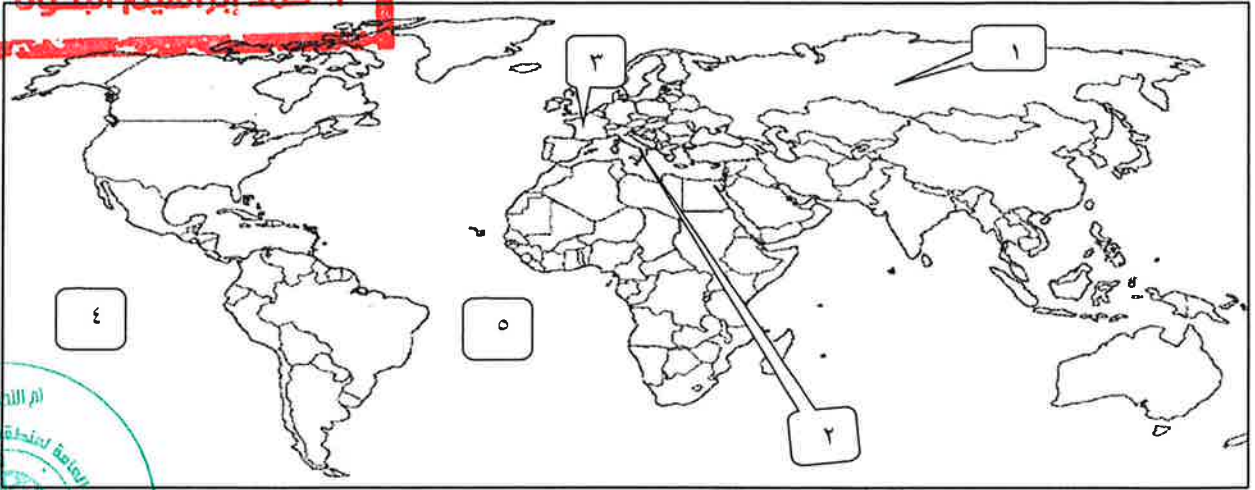


■ انتهت الأسئلة ■

تم تجميع
الامتحانات ونماذج الإجابة
وأرشفتها إلكترونياً
من قبل الموجه الفني
أحمد إبراهيم البحوه

السؤال الأول : ويتكون من (أ - ب - ج) :

(أ) أمامك خريطة العالم الصماء دون الأرقام التي عليها في العبارات التي تليها : (١×٥)



- المحيط الهادي يمثل على الخريطة الرقم (٤) . ص ١١١
 - دولة صاحبة النموذج الشامل للثورة يمثلها على الخريطة الرقم (٣) . ص ٨٣
 - دولة خرجت من الحرب العالمية الأولى عام ١٩١٧م يمثلها على الخريطة الرقم (١) . ص ١٠٣
 - دولة تم احتلالها من قبل الحلفاء عام ١٩٤٣م يمثلها على الخريطة الرقم (٢) . ص ١١٢
- (ب) اكتب المصطلحات الدالة على العبارات التالية بالاستعانة فيما بين الاقواس بوضع الرقم المناسب: (١×٥)

(١) الولايات المتحدة الأمريكية (٢) سراييفو (٣) الخمسمائة (٤) قانون نابليون (٥) فالمي.

(٤) تشريعاً يحافظ على القيم والتقاليد القديمة في مجال الأسرة و الملكية الخاصة . ص ٩٣

(٥) معركة تعد من أهم معارك الثورة الفرنسية عام ١٧٩٢م . ص ٩٠

(٢) مدينة وقعت بها حادثة اغتيال ولي عهد النمسا ١٩١٤م . ص ١٠٠

(٣) مجلس يجدد ثلث أعضائه كل سنة وله الحق في اصدار القوانين . ص ٩٢

(١) الدولة التي لم تشارك في عضوية عصبة الأمم على الرغم من انها صاحبة الفكرة . ص ١٠٤

(ج) أنسب التواريخ التالية إلى أحداث الحرب العالمية الأولى فى العبارات التى تليها بوضع الرقم فى مكانه المناسب بين القوسين : (١×٥)

(١) ١٩١٧ م (٢) ١٩١٨ م (٣) ١٩١٤ م (٤) ١٩١٦ م (٥) ١٩١٩ م

- معركة المارن الأولى (٣) ص ١٠١

- دخول الولايات المتحدة الامريكية الحرب (١) ص ١٠١

- معركة فردان (٤) ص ١٠١

- نهاية الحرب العالمية الأولى (٢) ص ١٠٢

- معاهدة صلح فرساي (٥) ص ١٠٣



وزارة
التربية
التوجيه الفني العام للإجتماعيات

السؤال الثاني : ويتكون من (أ - ب - ج) :

(أ) صحح ما تحته خط في العبارات التالية مستعينا بالكلمات بين الأقواس بوضع الرقم المناسب: (٥ × ١)

(١) السوفييت (٢) زوكوف (٣) كفاحي (٤) الباستيل (٥) اسبانيا

التصحيح	العبارة
١	المجالس الشيوعية التي اسسها الحزب الشيوعي تسمى <u>اللوردات</u> . ص ١٠٦
٥	دعمت كل من النازية والفاشية النظام الدكتاتوري في <u>البرتغال</u> . ص ١٠٨
٢	قائد القوات الروسية الذي قام باحتلال برلين اسمه <u>رومل</u> . ص ١١٢
٣	ألف هتلر كتابا يصف فيه الحركة النازية يسمى <u>روح القوانين</u> . ص ١٠٧
٤	حصن احيط بهالة من الأساطير واصبح رمزا من رموز الطغيان والظلم يسمى <u>التوليري</u> . ص ٨٨

(ب) أكمل العبارات التالية بالاستعانة فيما بين الأقواس بوضع الرقم المناسب: (٥ × ١)

(١) فيشي (٢) فيلادلفيا (٣) هيروشيما (٤) روسو (٥) روزفلت

■ ألقت الولايات المتحدة الأمريكية قنبلة ذرية على مدينة . (٣) ص ١١٢

■ الرئيس الأمريكي الذي تبنى سياسة اقتصادية جديدة لإصلاح الاقتصاد الأمريكي . (٥) ص ١٠٥

■ مفكر فرنسي ومؤلف كتاب العقد الاجتماعي . (٤) ص ٨٥


■ مدينة اقام بها هتلر حكومة موالية له عام ١٩٤٠ م . (١) ص ١١١

■ عقد اجتماع الكونجرس الأول لقادة المستعمرات في مدينة . (٢) ص ٨٨

(ج) أنسب التواريخ التالية إلى أحداث الحرب العالمية الثانية على الخط الزمني الذي تليها بوضع الرقم

في مكانه المناسب بين القوسين :: (٤ × ١)

(١) ١٩٤٢ م (٢) ١٩٤٥ م (٣) ١٩٣٩ م (٤) ١٩٣٨ م



السؤال الثالث : يتكون من (أ - ب - ج) :

(أ) ظلل المربع (أ) إذا كانت العبارة صحيحة وظلل المربع (ب) إذا كانت العبارة غير صحيحة: (١×٤)

م	العبارة	أ	ب
١	دخلت الدولة العثمانية الحرب العالمية الأولى إلى جانب المانيا.ص ١٠٠.		
٢	أصبح للملك الفرنسي حق اختيار وزرائه حسب دستور ١٧٩٥م. ص ٨٩		
٣	يعرف عام ١٩٤٢م في الحرب العالمية الثانية بالسنة الانقلابية. ص ١١٣		
٤	الفاشية هي حركة يمينية متطرفة شجعها الأغنياء والطبقة الوسطى ورجال الدين. ص ١٠٨		

(ب) اختر لكل عبارة من المجموعة (أ) ما يناسبها من المجموعة (ب) بوضع الرقم في المكان المناسب في الجدول: (١×٥)

م	أ	الرقم	ب
١	مجلس طبقات الأمة	٤	الاتصالات بين الدول وبين المنظمات الدولية في جميع المجالات ص ٩٧.
٢	الطبقة الممتازة	٥	احتفال الامريكيون بيوم ٤ يوليو من كل عام. ص ٨١
٣	سياسة الامتيازات	٢	طبقة تشكل اقلية لا تزيد عن ١% من مجموع الشعب الفرنسي. ص ٨٥
٤	العلاقات الدولية	٣	إعفاء الطبقة الممتازة في فرنسا من جميع أنواع الضرائب ص ٨٦
٥	إعلان وثيقة الاستقلال	١	مؤسسة برلمانية صورية لم تستطع أن تحد من سلطات الملك. ص ٨٤

(ج) أكمل العبارات التالية بالاستعانة فيما بين الأقواس بوضع الرقم المناسب (١×٥)

(١) بيرل هاربر (٢) اليعاقبة (٣) الوفاق الودي (٤) جنيف (٥) روسو

- توجد الجمعية العامة لعصبة الأمم في مدينة (٤) ص ١٠٤
- هاجمت اليابان عام ١٩٤١م ميناء تابعا للولايات المتحدة الامريكية (١) ص ١١١
- حزب يمتاز بانه اقلية شديدة التنظيم ذات اتصال قوي بالشعب وجمهور باريس (٢) ص ٩١
- مفكر فرنسي ومؤلف كتاب العقد الاجتماعي . (٥) ص ٨٥
- حلف يضم فرنسا وبريطانيا وروسيا (٣) ص ٩٨



وزارة التربية
التوجيه الفني العام للإجتماعيات

السؤال الرابع : ويتكون من (أ - ب - ج) :

(أ) أوجد علاقات الارتباط بين ما يلى مستعينا فيما بين الأقواس بوضع الرقم المناسب : (١×٥)



- (١) الدستور الامريكى (٢) مبادئ النازية (٣) ازمة وول ستريت
- (٤) وثيقة حقوق الانسان المواطن الفرنسى (٥) الأنظمة الدكتاتورية
- إفلاس البنوك - انخفاض الاسعار - انتشار البطالة. (٣) ص ١٠٥
- حرية الصحافة - قابلية التغيير و التعديل - حماية حقوق الناس (١) ص ٨٢
- لا عقوبة بدون قانون - الأمة صاحبة السيادة - المتهم برئ حتى تثبت ادانته (٤) ص ٨٨
- إلغاء معاهدة فرساي - استعادة المستعمرات - امتلاك الدولة للشركات (٢) ص ١٠٧
- فرانكو - مصطفى كمال أتاتورك - موبسوليني (٥) ص ١٠٨

(ب) ظلل المربع (أ) إذا كانت العبارة صحيحة وظلل المربع (ب) إذا كانت العبارة غير صحيحة: (١×٥)

م	العبارة	أ	ب
١	انتهت الحرب العالمية الاولى بهزيمة المانيا وحلفاؤها . ص ١٠٢		
٢	عرفت الثورة الانجليزية عام ١٦٨٩م بالثورة الكبرى. ص ٧٣		
٣	منظمة دولية تأسست بعد الحرب العالمية الاولى لتنظيم العلاقات الدولية وإحلال السلام تسمى عصبة الأمم . ص ١٠٤		
٤	انتهت الدكتاتوريات في إيطاليا و ألمانيا واليابان بعد الحرب العالمية الثانية . ص ١١٤		
٥	يتكون مجلس الشيوخ من ١٠٠ عضوا . ص ٩٢		

(ج) صحح ما تحته خط في العبارات التالية مستعينا بالكلمات بين الأقواس بوضع الرقم المناسب : (١×٤)

- (١) الثورة (٢) ايطاليا (٣) ساراتوجا (٤) ميرابو

التصحيح	العبارة
(٤)	١. إننا هنا بإرادة الشعب ولن نبرح أماكننا إلا على أسنة الرماح القائل <u>دانتون</u> ص ٨٧
(٢)	٢. وقعت المانيا الحلف الفولاذي عام ١٩٣٩م مع <u>فرنسا</u> . ص ١٠٩
(١)	٣. محكمة كانت تأخذ الناس بالشبهات ووجهت اليهم تهمة الخيانة العظمى تسمى <u>باريس</u> . ص ٩١
(٣)	٤. المعركة الفاصلة في حرب الاستقلال الأمريكية تسمى <u>كونكورد</u> . ص ٨٢

■ انتهت الأسئلة