

الدرجات



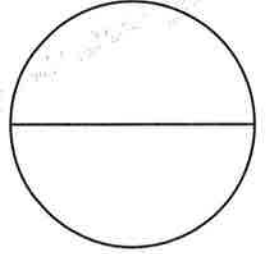
وزارة التربية

السؤال	الدرجة	المصحح	المراجع
الأول			
الثاني			
الثالث			
الرابع			
الخامس			
المجموع			

امتحان الصف الثاني عشر
القسم الأدبي
تاريخ العالم الحديث والمعاصر

تم تجميع
الامتحانات ونماذج الإجابة
وأرشفتها إلكترونياً
من قبل الموجه الفني
أ. حمد إبراهيم البحوه

مجموع الدرجات (مكتوباً بالحروف)



السؤال	الأول	الثاني	الثالث	الرابع	الخامس	المجموع
الدرجة						
الدرجة						

رقم المراقبة



المجال الدراسي

رقم المراقبة

امتحان سنة م

الفترة

الاسم كاملاً :

المدرسة :

رقم الجلوس بالأرقام العربية : رقم الجلوس بالأرقام بالإنجليزية :

التاريخ :



وزارة التربية

امتحان الدور الثاني الاستثنائي (الحالات الخاصة) الفترة الدراسية الثانية

العام الدراسي : ٢٠٢٠م / ٢٠٢١م

الزمن : ساعتان وربع

عدد الأوراق : ٥

التوجيه الفني العام للاجتماعيات
مقرر تاريخ العالم الحديث والمعاصر
للسف الثاني عشر / القسم الأدبي



أجب عن جميع الأسئلة

السؤال الأول ويتكون من (أ - ب) :

(أ) ضع خطاً تحت الخيار الصحيح من بين الخيارات التي تلي كل عبارة :

١- الدولة التي يحكمها وليم أورانج قبل تتويجه ملكاً على إنجلترا :

فرنسا	إيطاليا	هولندا	روسيا
-------	---------	--------	-------

٢- الزعيم الأمريكي الذي عُرف بالشجاعة والالتزان والكفاية الإدارية :

صاموئيل أدامز	ولسن	روزفلت	جورج واشنطن
---------------	------	--------	-------------

٣- بلغ عدد الدول المشاركة في الحرب العالمية الأولى :

٣٣ دولة	٣٤ دولة	٣٥ دولة	٣٦ دولة
---------	---------	---------	---------

٤- زعيم الحركة الفاشية في إيطاليا :

لينين	ستالين	فرانكو	موسوليني
-------	--------	--------	----------

٥- العام الذي أعلن فيه استقلال المستعمرات الأمريكية عن إنجلترا :

١٧٧٥م	١٧٧٦م	١٧٧٧م	١٧٧٨م
-------	-------	-------	-------

٦- الحلف الذي ضم كل من ألمانيا والنمسا وروسيا :

الوفاق الودي	الاتفاق الودي	الحلف الثلاثي	عصبة الأباطرة
--------------	---------------	---------------	---------------

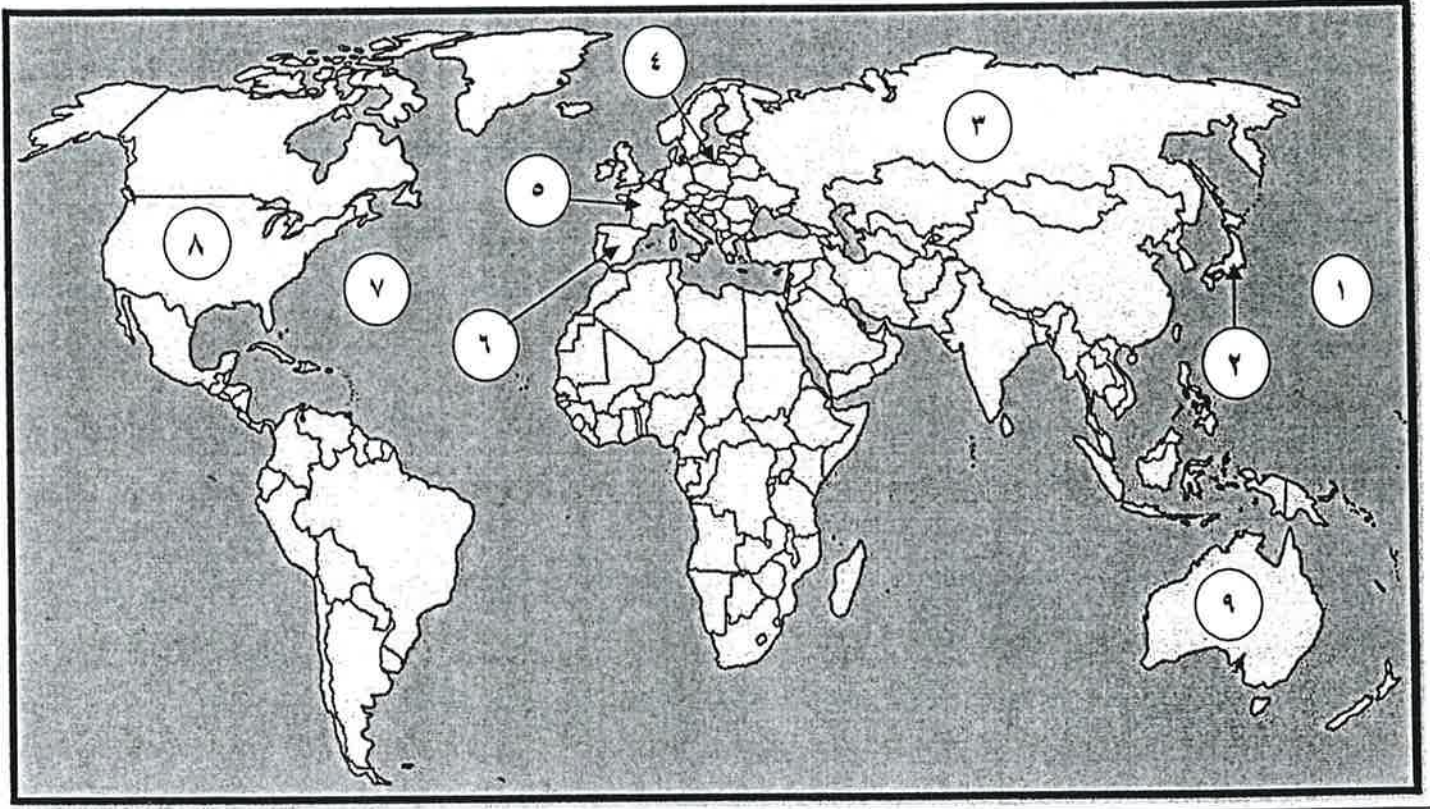
٧- المفكر الفرنسي صاحب كتاب العقد الاجتماعي :

روسو	فولتير	مونتيسكيو	جون لوك
------	--------	-----------	---------

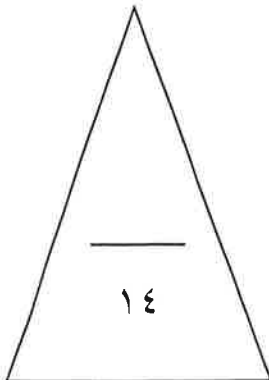


تابع السؤال الأول :

ب (أمامك خريطة العالم العالم الصماء اكتب الرقم الدال على العبارات التي تليها :



- الدولة التي يقع فيها نهر المارن الشهير يمثلها على الخريطة رقم () .
- الدولة التي هاجمت ميناء بيرل هاربر ودمرت الأسطول الأمريكي () .
- الدولة التي يقع فيها المقر الرسمي للأمم المتحدة يمثلها على الخريطة الرقم () .
- النظام الديكتاتوري بزعامة فرانكو ظهر في دوله يمثلها على الخريطة الرقم () .
- المسطح المائي الذي شهد النزاع بين الولايات المتحدة واليابان يمثل على الخريطة الرقم () .
- الممر المائي الذي كان سبباً مباشراً في قيام الحرب العالمية الثانية يمثل على الخريطة الرقم () .
- الدولة التي انسحبت من الحرب العالمية الأولى بسبب قيام الثورة الشيوعية يمثلها على الخريطة الرقم () .



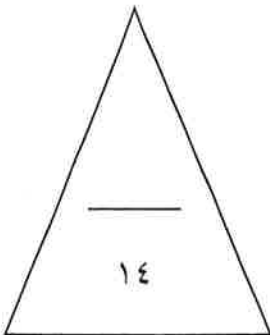
السؤال الثاني يتكون من (أ - ب) :

(أ) صوب ما تحته خط في العبارات التالية :

م	العبارة	التصويب
١	أول مستعمرة انجليزية تأسست على الساحل الشرقي لأمريكا الشمالية اسمها <u>بوسطن</u>
٢	الكنيسة التي كانت لها السيادة الروحية على فرنسا رسمياً بعد توقيع اتفاق ١٨٠١م هي الكنيسة <u>الإنجيلكانية</u>
٣	المدينة التي استولت عليها الولايات المتحدة الأمريكية بعد حربها مع بريطانيا عام ١٧٨١م هي <u>فرجينيا</u>
٤	حركة يمينية متطرفة تؤمن بتفوق العنصر الروماني هي <u>النازية</u>
٥	منظمة الأمم المتحدة للأغذية والزراعة تساعد على تحسين إنتاج المزارع والغابات ومناطق صيد الأسماك تسمى <u>اليونسكو</u>
٦	الجمعية العامة لعصبة الأمم توجد في مدينة <u>نيويورك</u>
٧	العام الذي قامت فيه الثورة الانجليزية ١٧٨٦م.

(ب) اكتب المدلول التاريخي المناسب للعبارة التالية :

م	المدلول التاريخي	العبارة
١	معاهدة أعطت فرنسا مكاسب كبيرة وحقت للفرنسيين الفخر والعزة للانتصار على عدوهم اللدود النمسا .
٢	مقترح بين الإمبراطور النمساوي ليوبولد والإمبراطور فريدريك وليم الرابع ملك بروسيا لإعلان الحرب على فرنسا لإنقاذ الملكية الفرنسية .
٣	سياسة اقتصادية جديدة تبناها الرئيس الأمريكي فرانكلين روزفلت .
٤	اتفاقيات لوقف التسليح واستخدام الأسلحة الفتاكة .
٥	رسوماً مالية فرضت على كل المستندات التجارية وعقود البيع والرهن .
٦	الفترة التي قتل فيها الكثيرون من الفرنسيين دون محاكمة عادلة بل كانت تأخذ الناس بالشبهات ووجهت لهم تهمة الخيانة العظمى .
٧	منظمات عالمية تحكمها أنظمتها الخاصة ولها صلة بالأمم المتحدة وتهتم بمشاكل عالمية كالزراعة والمواصلات وظروف المعيشة والعمل والصحة.



السؤال الثالث : ويتكون من (أ - ب - ج) :
(أ) دال على صحة العبارات التالية :

١- كان لحرب السنين السبع نتائج مهمة لسكان المستعمرات الانجليزية في أمريكا الشمالية .

.....

.....

٢- اختلفت الحرب العالمية الثانية عن جميع الحروب التي سبقتها بما فيها الحرب العالمية الأولى .

.....

.....

(ب) قارن بين كل من :

أوجه المقارنة	الطبقة الممتازة قبيل الثورة الفرنسية	الطبقة العامة قبيل الثورة الفرنسية
الطبقات التي تشملها
مميزاتها

(ج) علل لما يلي :

١- انقسم العالم سياسياً في أواخر القرن التاسع عشر وبداية القرن العشرين الميلادي .



٢- تعتبر معاهدة فرساي معاهدة إذلال لألمانيا .

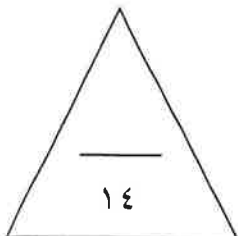
.....

.....

٣- قيام منظمة عصبة الأمم المتحدة في عام ١٩١٩ م .

.....

.....



السؤال الرابع ويتكون من (أ - ب - ج) :

أ) نفذ المطلوب منك ما بين الأقواس :

١- سقوط حصن الباستيل . (النتائج)

٢- الحرب العالمية الأولى . (الأسباب)

٣- الحركة النازية في ألمانيا . (المبادئ)

ب) فرق بين كل مما يلي :

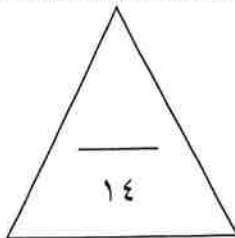
القوانين الجائرة	القوانين سينة السمعة
.....
.....
الاتفاقات الدولية	العلاقات الدولية
.....
.....

ج) فند العبارات التالية :

١- اقتصر إصلاحات الجمعية الوطنية على إصدار وثيقة الحقوق الفرنسية ودستور ١٧٩١م .

٢- معركة فالمي من المعارك الغير مهمة في تاريخ الثورة الفرنسية .

(انتهت الأسئلة)





وزارة التربية

امتحان نهاية الفترة الدراسية الثانية
مقرر تاريخ العالم الحديث والمعاصر
للمصف الثاني عشر / القسم الأدبيالعام الدراسي : ٢٠٢٠م / ٢٠٢١م
الزمن : ساعتان وربع
عدد الأوراق : ٥

نموذج إجابة

تم تجميع
الامتحانات ولماذج الإجابة
وأرشفتها إلكترونياً
من قبل الموجه الفني
أ. حمد إبراهيم البحوه

السؤال الأول ويتكون من (أ - ب) :

(أ) ضع خطاً تحت الخيار الصحيح من بين الخيارات التي تلي كل عبارة : (٧ درجات لكل نقطة درجة)

١- الدولة التي يحكمها وليم أورانج قبل تتويجه ملكاً على إنجلترا : ص ٧٤

فرنسا	إيطاليا	هولندا	روسيا
-------	---------	--------	-------

٢- الزعيم الأمريكي الذي عُرف بالشجاعة والاتزان والكفاية الإدارية : ص ٨٠

صامويل آدمز	ولسن	روزفلت	جورج واشنطن
-------------	------	--------	-------------

٣- بلغ عدد الدول المشاركة في الحرب العالمية الأولى : ص ١٠٠

٣٣ دولة	٣٤ دولة	٣٥ دولة	٣٦ دولة
---------	---------	---------	---------

٤- زعيم الحركة الفاشية في إيطاليا : ص ١٠٨

لينين	ستالين	فرانكو	موسوليني
-------	--------	--------	----------

٥- العام الذي أعلن فيه استقلال المستعمرات الأمريكية عن إنجلترا : ص ٨١

١٧٧٥م	١٧٧٦م	١٧٧٧م	١٧٧٨م
-------	-------	-------	-------

٦- الحلف الذي ضم كل من ألمانيا والنمسا وروسيا : ص ٩٧

الوفاق الودي	الاتفاق الودي	الحلف الثلاثي	عصبة الأباطرة
--------------	---------------	---------------	---------------

٧- المفكر الفرنسي صاحب كتاب العقد الاجتماعي : ص ٨٥

روسو	فولتير	مونتسكيو	جون لوك
------	--------	----------	---------



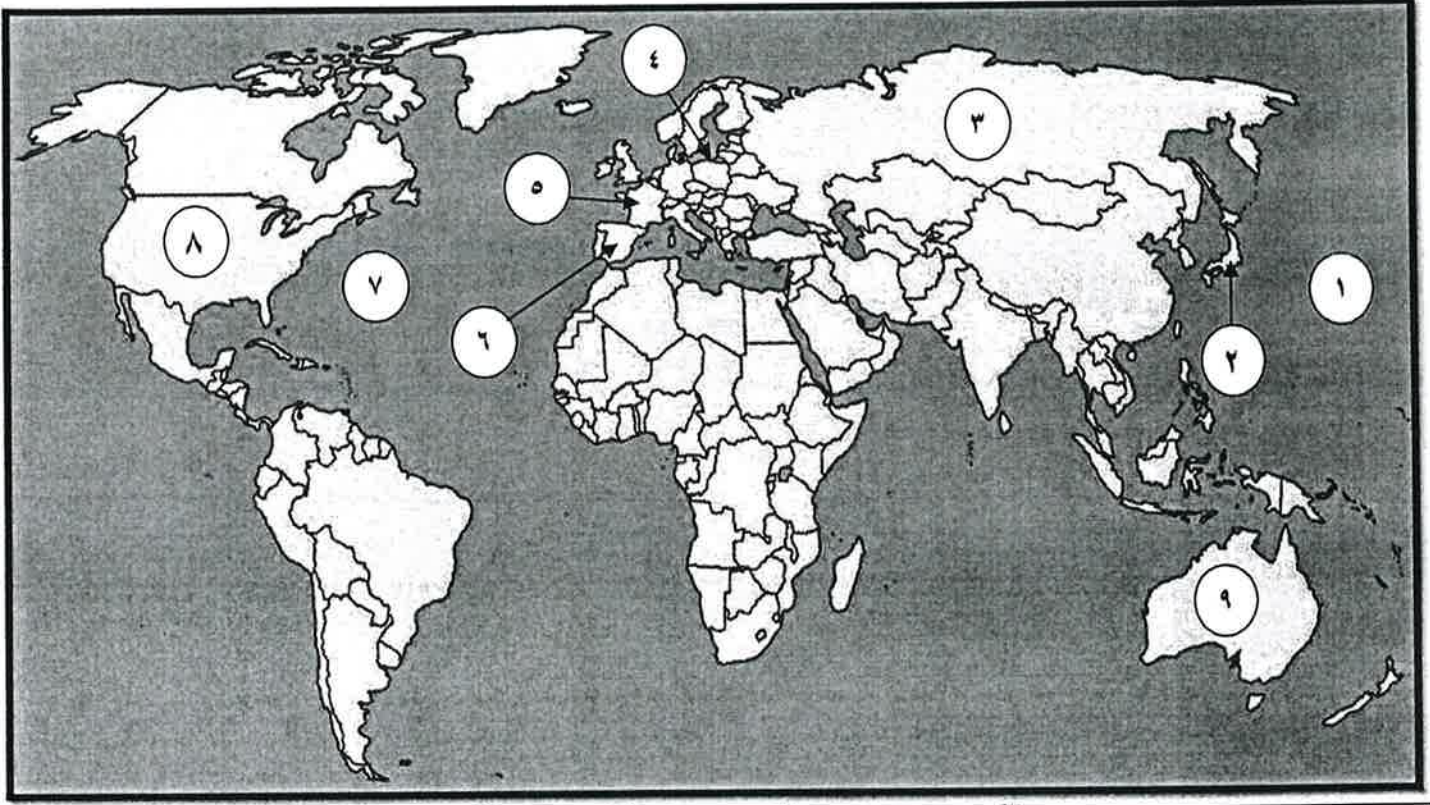
وزارة التربية



التوجيه الفني العام للاجتماعيات

تابع السؤال الأول :

ب) أمامك خريطة العالم العالم الصماء ، اكتب الرقم الدال على العبارات التي تليها :



- الدولة التي يقع فيها نهر المارن الشهير يمثلها على الخريطة رقم (٥) . ص ١٠١
- الدولة التي هاجمت ميناء بيرل هاربر ودمرت الأسطول الأمريكي (٢) . ص ١١١
- الدولة التي يقع فيها المقر الرسمي للأمم المتحدة يمثلها على الخريطة الرقم (٨) . ص ١١٦
- النظام الديكتاتوري بزعماء فرانكو ظهر في دوله يمثلها على الخريطة الرقم (٦) . ص ١٠٨
- المسطح المائي الذي شهد النزاع بين الولايات المتحدة واليابان يمثلها على الخريطة الرقم (١) . ص ١١١
- الممر المائي الذي كان سبباً مباشراً في قيام الحرب العالمية الثانية يمثلها على الخريطة الرقم (٤) . ص ١١٠
- الدولة التي انسحبت من الحرب العالمية الأولى بسبب قيام الثورة الشيوعية يمثلها على الخريطة الرقم (٣) . ص ١٠١



السؤال الثاني يتكون من (أ - ب) :

أ) صوب ما تحته خط في العبارات التالية :

م	العبارة	التصويب
١	أول مستعمرة انجليزية تأسست على الساحل الشرقي لأمريكا الشمالية اسمها <u>بوسطن</u> .	جيمس تون / ص ٧٦
٢	الكنيسة التي كانت لها السيادة الروحية على فرنسا رسمياً بعد توقيع اتفاق ١٨٠١م هي الكنيسة <u>الإنجيلكانية</u> .	الكاثوليكية / ص ٩٣
٣	المدينة التي استولت عليها الولايات المتحدة الأمريكية بعد حربها مع بريطانيا عام ١٧٨١م هي <u>فرجينيا</u> .	يورك تاون / ص ٨٢
٤	حركة يمينية متطرفة تؤمن بتفوق العنصر الروماني هي <u>النازية</u> .	الفاشية / ص ١٠٨
٥	منظمة الأمم المتحدة للأغذية والزراعة تساعد على تحسين إنتاج المزارع والغابات ومناطق صيد الأسماك تسمى <u>اليونسكو</u> .	الفاو / ص ١١٨
٦	الجمعية العامة لعصبة الأمم توجد في مدينة <u>نيويورك</u> .	جنيف / ص ١٠٤
٧	العام الذي قامت فيه الثورة الانجليزية ١٧٨٦م.	١٦٨٩م / ص ٧٣

ب) اكتب المدلول التاريخي المناسب للعبارة التالية :

م	المدلول التاريخي	العبارة
١	كامبو فروميو	معاهدة أعطت فرنسا مكاسب كبيرة وحقت للفرنسيين الفخر والعزة للانتصار على عدوهم اللدود النمسا . ص ٩٢
٢	إعلان بلنتر	مقترح بين الإمبراطور النمساوي ليوبولد والإمبراطور فريدريك ولين الرابع ملك بروسيا لإعلان الحرب على فرنسا لإنقاذ الملكية الفرنسية . ص ٩٠
٣	النظام الجديد	سياسة اقتصادية جديدة تبناها الرئيس الأمريكي فرانكلين روزفلت . ص ١٠٥
٤	سالت	اتفاقيات لوقف التسليح واستخدام الأسلحة الفتاكة . ص ١١٥
٥	قانون التمتع	رسوماً مالية فرضت على كل المستندات التجارية وعقود البيع والرهن . ص ٧٨
٦	عصر الإرهاب	الفترة التي قتل فيها الكثيرون من الفرنسيين دون محاكمة عادلة بل كانت تأخذ الناس بالشبهات ووجهت لهم تهمة الخيانة العظمى . ص ٩١
٧	الوكالات المتخصصة	منظمات عالمية تحكمها أنظمتها الخاصة ولها صلة بالأمم المتحدة وتهتم بمشاكل عالمية كالزراعة والمواصلات وظروف المعيشة والعمل والصحة . ص ١١٨

السؤال الثالث : ويتكون من (أ - ب - ج) :

(أ) دلل على صحة العبارات التالية :

(٤ درجات لكل نقطة درجة)

- ١- كان لحرب السنين السبع نتائج مهمة لسكان المستعمرات الانجليزية في أمريكا الشمالية . ص ٧٨ (يكتفى بنقطتين)
- شعور سكان المستعمرات بقوتهم الحقيقية حيث أدركوا أثناء اشتراكهم في القتال ماهية قواهم خاصة أن كثيرين من أبنائهم برزوا في تلك الحروب أمثال جورج واشنطن .
- اشتراكهم في الحرب جعلهم يعتادون التعاون فيما بينهم ويشعرون بأنهم كيان واحد .
- الانتصار أزال التهديد الخارجي من الفرنسيين نحو المستعمرات الأمريكية وفتح الباب أمام الأمريكيين للتوسع نحو الغرب دون حدود أو قيود .
- ٢- اختلفت الحرب العالمية الثانية عن جميع الحروب التي سبقتها بما فيها الحرب العالمية الأولى .

ص ١١٣ (يكتفى بنقطتين)

- حرب عالمية شاملة : شملت معظم دول العالم بالاشتراك المباشر أو بالتحالف مع الدول .
 - تسخير الطاقات البشرية : حيث سخرت دول المحور أسرى الحروب للعمل في المصانع والحقول ودفع الحلفاء بالإناث للعمل في هذا المجال بدل الرجال وفتحت الولايات المتحدة باب الهجرة للعمل .
 - مواجهة بين أيديولوجيات وصرع بين نظريات دكتاتورية عنصرية تبنتها دول المحول بينما تبني الحلفاء الديمقراطية التي تنادي بالمساواة وحقوق الإنسان . / - تنافس صناعي : سخرت جميع الدول المشتركة في الحرب مقدراتها ومقدرات الشعوب التي احتلتها بهدف تطوير الإنتاج الصناعي الحربي وتطور الاقتصاد . / - سباق تسلح تكنولوجي : تطور أساليب القتال والأسلحة فاستخدمت التكنولوجيا في الأرض والجو والبحر فكان الدمار أكبر وشمل جميع المجالات
- (ب) قارن بين كل من :
- (٤ درجات لكل نقطة درجة)

أوجه المقارنة	الطبقة الممتازة قبيل الثورة الفرنسية / ص ٨٥	الطبقة العامة قبيل الثورة الفرنسية / ص ٨٥
الطبقات التي تشملها	الطبقة الأرستقراطية الغنية ورجال الدين (درجة واحدة)	عامة الشعب من الزراع والصناع وأصحاب الحرف وصغار التجار . (درجة واحدة)
مميزاتها	- تمتعوا بجميع المزايا الاجتماعية من ارتفاع مكانتهم في المجتمع . - تولي المناصب العليا في الدولة والجيش . - ليس عليهم أي حقوق تجاه الدولة . - التصاقها الشديد بالملك . (يكتفى بنقطة واحدة)	- عانت من جميع صنوف الظلم والاستعباد . - فرضت عليهم جميع أنواع الضرائب . - استبعدوا من جميع الوظائف العليا في الدولة . - عاشت هذه الطبقة في بؤس وشقاء شديدين . (يكتفى بنقطة واحدة)

(ج) علل لما يلي :

(٦ درجات لكل نقطة درجة)

- ١- انقسم العالم سياسياً في أواخر القرن التاسع عشر وبداية القرن العشرين الميلادي . ص ٩٧ (يكتفى بنقطتين)
- بروز النزعة القومية . / - تصادم الايديولوجيا . / - تضارب المصالح الاقتصادية وسياسة .
- التوسع للسيطرة على مناطق مختلفة من العالم وما صاحبة من السباق إلي التسلح .
- ٢- تعتبر معاهدة فرساي معاهدة إذلال لألمانيا . ص ١٠٣ (يكتفى بنقطتين)
- تفكك إمبراطوريات عريقة مثل الإمبراطورية الألمانية .
- أن تتحمل ألمانيا مسؤولية الحرب حيث فرضت عليها دفع تعويضات مالية كبيرة للحلفاء .
- تخفيض عدد الجيش الألماني ومنع ألمانيا من تصنيع أو اقتناء الأسلحة العسكرية .
- اقتطاع أجزاء من ألمانيا وضمها لدول أخرى . / - وضع إقليم السار تحت الإدارة الدولية
- ٣- قيام منظمة عصبة الأمم المتحدة في عام ١٩١٩ م . ص ١٠٤ (يكتفى بنقطتين)
- إحلال السلام بين الدول . - تنظيم العلاقات الدولية .



التربية



وزارة

التوجيه الفني العام للإجتماعيات

السؤال الرابع ويتكون من (أ - ب - ج) :

(أ) نفذ المطلوب منك ما بين الأقواس :

(٦ درجات لكل نقطة درجة)

١- سقوط حصن الباستيل . ص ٨٨ (يكتفى بنقطتين)

(النتائج)

- توقف الفلاحون عن دفع الضرائب . / - انفض الفلاحون على قصور النبلاء واحرقوها وقتلوا من فيها .
- أحرقوا الوثائق التي تعطيهم حقوقاً إقطاعية . / - عمت الفوضى في كل مكان .
- هجرة النبلاء إلى خارج فرنسا وأصبحوا أكبر خطر على الثورة الفرنسية .

٢- الحرب العالمية الأولى . ص ١٠٠ (يكتفى بنقطتين)

(الأسباب)

- زيادة التنافس بين الدول الأوروبية من أجل السيطرة على المواد الخام والأسواق لتصريف منتجاتها .
- الصراع بين دول أوروبا حول المستعمرات في آسيا وإفريقيا والمحيط الهادي بسبب التنافس الاقتصادي .
- الخلاف حول ممتلكات الدولة العثمانية (المسألة الشرقية) في أوروبا والنزاع العسكري حولها بسبب الحروب في منطقة البلقان .

٣- الحركة النازية في ألمانيا . ص ١٠٧ (يكتفى بنقطتين)

(المبادئ)

- تفوق العنصر البشري الجرمانى (الألماني) على جميع العناصر البشرية . / - امتلاك الدول للشركات الاحتكارية .
- إلغاء معاهدة فرساي . / - استعادة المستعمرات الألمانية . / - قيام ألمانيا الكبرى التي تضم كل الألمان .

(٤ درجات لكل نقطة درجة)

(ب) فرق بين كل مما يلي :

القوانين الجائرة / ص ٧٩	القوانين سيئة السمعة / ص ٧٨
القوانين الانجليزية التي اتخذها البرلمان الانجليزي لمعاقبة ميناء بوسطن . (درجة واحدة)	القوانين التي فرضها مجلس العموم البريطاني على الأمريكيين مثل قانون السكر والعسل والنبيد والحريز والبن وقانون التمتع . (درجة واحدة)
الاتفاقات الدولية / ص ٩٧	العلاقات الدولية / ص ٩٧
تشريعات يتفق عليها دولياً وهي (مقننة) تلتزم الدول المشتركة بها . (درجة واحدة)	الاتصالات بين الدول وبين المنظمات الدولية في جميع المجالات . (درجة واحدة)

(٤ درجات لكل نقطة درجة)

(ج) فند العبارات التالية :

١- اقتصررت إصلاحات الجمعية الوطنية على إصدار وثيقة الحقوق الفرنسية ودستور ١٧٩١م . ص ٨٩ (يكتفى بنقطتين)

- إصلاح النظام الإداري حيث قسمت فرنسا إلى محافظات جغرافية وليس على أساس طبقي .
- ألغت النظام القضائي القديم وأصبح منصب القاضي انتخابياً .
- إصلاح النظام الضريبي والمالي حيث وزعت الضرائب على أساس التساوي بين جميع الأفراد وطبقاً لدخل كل فرد .

- وجهت إصلاحاتها نحو الكنيسة الفرنسية فصدر قرار لمصادرة أملاكها .

ص ٩٠ (يكتفى بنقطتين)

٢- معركة فالمي من المعارك الغير مهمة في تاريخ الثورة الفرنسية .

- أنقذت أفكار الثورة الفرنسية من الضياع .

- حالت دون وقوع باريس .

- رفعت الروح المعنوية للفرنسيين .

- تحول جيش الثورة بعدها من الدفاع إلى الهجوم وأصبح مصدر رعب للدول الأوروبية فيما بعد .



التربية



وزارة

التوجيه الفني العام للإجتماعيات