

الدرجات

السؤال	الدرجة	المصحح	المراجع
الأول			
الثاني			
الثالث			
الرابع			
الخامس			
المجموع			



وزارة التربية

امتحان الصف الثاني عشر
القسم الأدبي
قضايا البيئة والتنمية المعاصرة

تم تجميع
الامتحانات ولماذج الإجابة
وأرسلتها إلكترونياً
من قبل الموجه الفني
أ. د. محمد إبراهيم البحوه

مجموع الدرجات (مكتوباً بالحروف)



السؤال	الأول	الثاني	الثالث	الرابع	الخامس	المجموع
الدرجة						
الدرجة						

رقم المراقبة



رقم المراقبة

المجال الدراسي

امتحان

الفترة

سنة م

وزارة التربية



التربية الخاصة

رقم الجلوس بالأرقام بالإنجليزية

الاسم كاملاً :

المدرسة :

رقم الجلوس بالأرقام العربية :

التاريخ :



دولة الكويت
وزارة التربية
التوجيه الفني العام للاجتماعيات

امتحان الدور الثاني الاستثنائي (الحالات الخاصة) الفترة الدراسية الثانية

للفيف الثاني عشر / الأدبي
للعام الدراسي : ٢٠٢٠ - ٢٠٢١ م

مادة : قضايا البيئة والتنمية المعاصرة
(الشلل الدماغي والصمم وضعاف السمع وزراعة القوقعة)



تعليمات الامتحان :



١. استعن بالله عز وجل فهو خير معين .
٢. تأكد أن الامتحان من (٤) أوراق مختلفة .
٣. زمن الاجابة ساعتان وربع .
٤. يتكون الامتحان من أربعة أسئلة فقط .
٥. أجب عن جميع الأسئلة كاملة .
٦. يمنع استخدام المزيل الأبيض (الكوريكتور) .

مع تمنياتنا لكم بالتوفيق ،،،



أجب عن جميع الأسئلة

السؤال الأول :- يتكون من (أ - ب) :

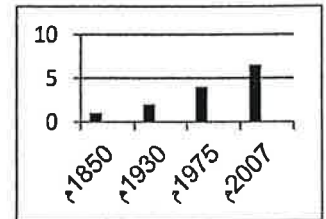
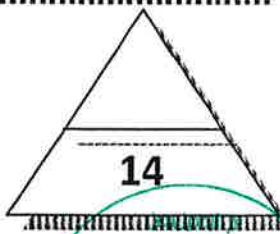
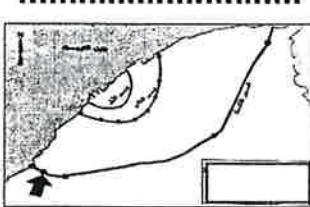
أ- ظلل الحرف (ص) للعبارة الصحيحة والحرف (خ) للعبارة الخاطئة فيما يلي :

م	العبارة	ص	خ
1	يسكن نحو 50% من سكان العالم بين دائرتي عرض 20 - 40 شمالاً وجنوباً.		
2	التركيب السكاني الذي يقسم السكان إلى عدة فئات حسب آخر مؤهل دراسي حصل عليه الفرد هو التركيب الاقتصادي .		
3	من المدن التي تجمع الوظائف كلها في آن واحد هي القاهرة في مصر .		
4	الحدود المتفق عليها في المعاهدات الدولية والتي قد تتبع خطوطاً فلكية في رسمها مثل دوائر العرض وخطوط الطول هي الحدود الطبيعية .		
5	نظم المعلومات المتقدمة تعرقل الاستثمار وتؤخر السياحة .		
6	أكثر أنواع التلوث البيئي انتشاراً هو التلوث الهوائي .		
7	العام الذي وضع فيه المخطط الهيكلي الأول لدولة الكويت هو 1952 م .		

ب- ضع عنواناً مناسباً للصور التالية مستعيناً بما بين القوسين بوضع الرقم المناسب :

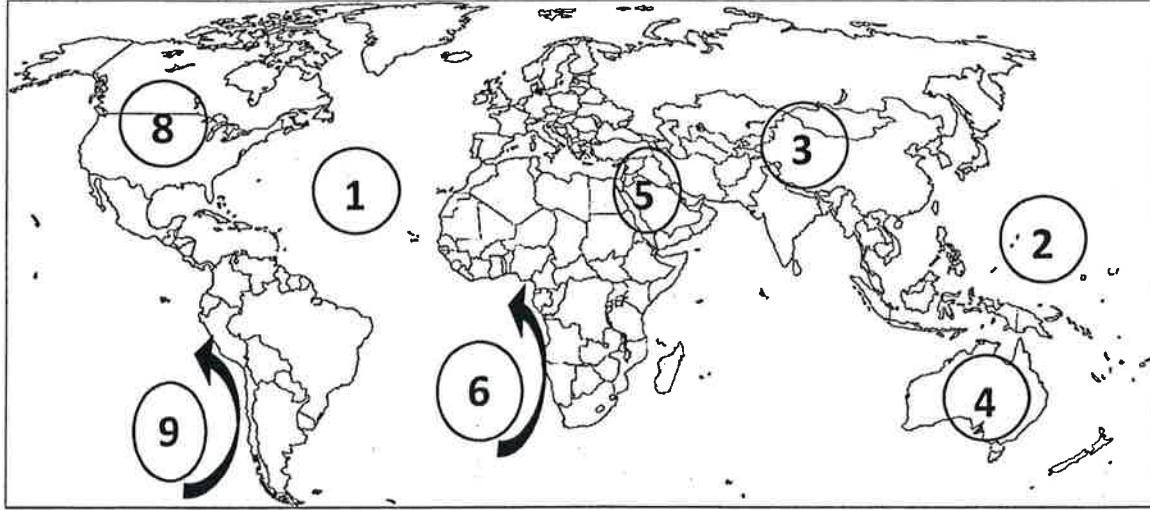
(1- بيوت الكويت قديماً - 2- أسوار مدينة الكويت القديمة - 3- لجنة الأسكوا - 4- احتراق آبار البترول

- 5- حركة السلام الأخضر - 6- الإدارة البحرية و الجوية الأمريكية - 7- النمو السكاني)



السؤال الثاني : يتكون من (أ - ب) :

أ- لاحظ خريطة العالم التي أمامك ثم أكتب الأرقام الدالة على العبارات التالية :



- تيار بنجويلا البارد يمثل على الخريطة الرقم

- قارة آسيا يمثلها على الخريطة الرقم

- نطاق الجزء الأكتف من دخان حرائق آبار النفط يمثل الرقم

- المحيط الهادي يمثل على الخريطة الرقم

- تيار البيرو البارد يمثل على الخريطة الرقم

- قارة استراليا يمثلها على الخريطة الرقم

- المحيط الأطلنطي يمثل على الخريطة الرقم

ب- ضع خطأً تحت الخيار الصحيح من بين الخيارات التي تلي كل عبارة :

1- مدينة قامت وازدهرت على التجارة وإدارة الأعمال :

(الأقصر - الأحمدى - دبي - المحلة الكبرى)

2- العالم الألماني الذي أسس الجغرافيا السياسية :

(- ريتز - كانت - راتزل - درنج)

3- الجهاز الرئيسي الذي يحتوي على قاعدة البيانات والخرائط وبرمجيات نظم المعلومات الجغرافية :

(- الشبكات - أجهزة حاسبات قوية - الطابعات - الخادم)

4- العام الذي تم فيه بناء السور الأول لمدينة الكويت قديماً :

(- 1770م - 1811م - 1874م - 1920م)

5- قدرت تكاليف إعادة أعمار القطاع البترولي الكويتي بعد تدميره من قبل النظام العراقي البائد حوالى :

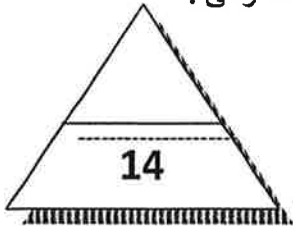
(- 50 - 60 - 70 - 80) مليار دولار

6- الأقاليم أو المناطق الحاجزة أو الفاصلة بين الأمم والقوميات والدول :

(- التخوم - الحدود الطبيعية - الحدود البشرية - الحدود الهندسية)

7- الغاز الذي تبلغ نسبته في الهواء 78% يسمى :

(الأوزون - الأكسجين - الميثان - النيتروجين)



السؤال الثالث :- يتكون من (أ - ب) :-

أ - اكتب المفاهيم أو المصطلحات الدالة على العبارات التالية مستعينا بما بين القوسين:

(1- الكثافة السكانية 2- الانفجار السكاني 3- الهجرة 4- التركيب السكاني

5- نظم المعلومات الجغرافية 6- جغرافية العمران 7- مياه التوازن)

م	المفهوم	العبرة
1		تزايد السكان بشكل سريع جدا عن طريق معدلات نمو سكانية مرتفعة جدا لا تتفق مع معدلات التنمية الاقتصادية .
2		تقسيم السكان إلى فئات أو مجموعات لكل منها خصائص وسمات تختلف عن الأخرى .
3		عدد الأفراد في مساحة محددة من الأرض داخل المدينة أو الوحدة الإدارية .
4		قيام ناقلات النفط بضخ مياه البحر في صهاريجها لكي تقوم هذه المياه بعملية توازن الناقله حتى تأتي إلى مصدر شحن النفط فتقوم بتفريغ هذه المياه الملوثة في البحر .
5		انتقال الأفراد أو الجماعات لهدف معين من منطقة إلى أخرى أو من دولة إلى أخرى أو من قارة إلى أخرى , للإقامة الدائمة أو شبه الدائمة .
6		العلم الذي يهتم بدراسة أنماط استخدام الأرض وطبيعة المباني المختلفة بالإقليم بالإضافة إلى دراسة أقسام الإقليم ووظائفها .
7		إحدى نظم المعلومات التي تتعامل مع المعلومات المكانية من حيث الإدخال والتخزين والإدارة والاستعادة والتحليل .

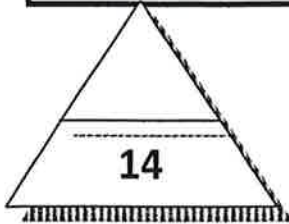


ب - صنف الكلمات التالية في مكانها المناسب في الجدول الذي يليها بوضع الرقم المناسب:

(1- الاقتصادية 2- الداخلية 3- التطبيقات 4- البرامج

5- الخرائط والبيانات 6- العامة 7- الدولية)

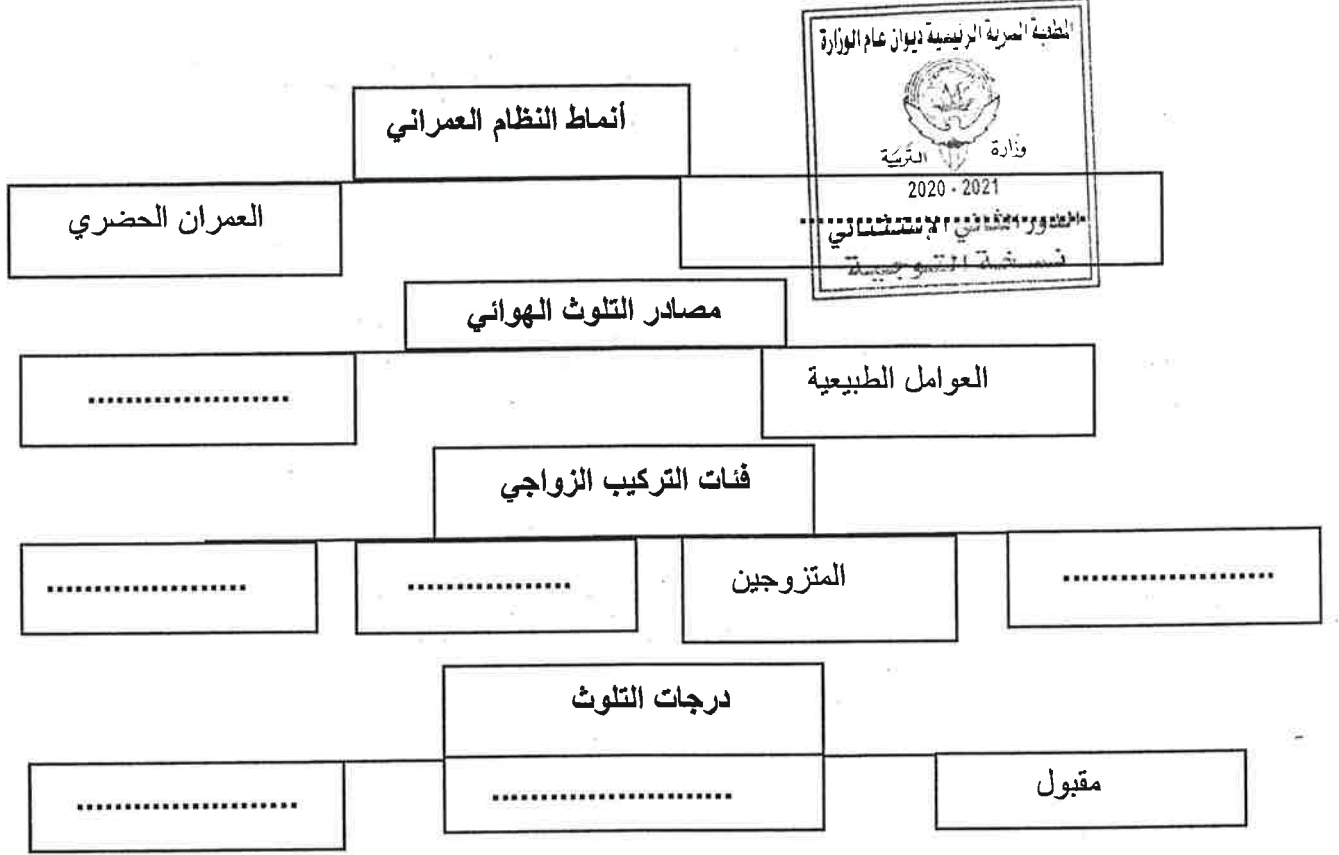
الكثافة السكانية	أنواع الهجرة	مكونات نظم المعلومات الجغرافية



السؤال الرابع :- يتكون من (أ - ب) :-

أ - أكمل المخططات السهمية التالية مستعينا بما بين القوسين :

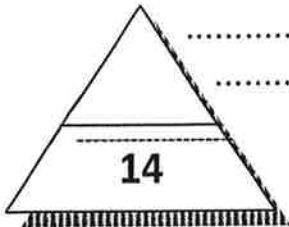
(1- العوامل البشرية 2- العزاب 3- العمران الريفي 4- خطر 5- مدمر 6- المطلقات 7- الأرامل)



ب- اكمل العبارات التالية بما يناسبها مستعينا بما بين القوسين :

(- كولون بوكائن - الجيوبوليتك - براك بن عريع - (737) - النمو الصفري - 1957م - الطباعات)

- 1- زعيم قبيلة بني خالد الذي بنى الحصن الصغير في مدينة الكويت قديماً اسمه
- 2- انخفاض أعداد المواليد عن أعداد الوفيات يسمى
- 3- المنهج الذي يقوم على الدراسة الجغرافية للدولة من حيث سياستها الخارجية يسمى
- 4- العام الذي تم فيه هدم السور الثالث هو
- 5- يبلغ عدد آبار البترول الكويتية التي تم تدميرها وإشعال النيران فيها عام 1991م حوالي
- 6- الراسمات التي تطبع الخرائط بالمقياس المطلوب وطبقاً للاحتياجات تسمى
- 7- الخبير البريطاني الذي وضع المخطط الهيكلي الثاني لدولة الكويت اسمه



انتهت الأسئلة ... تمنياتنا لكم بالتوفيق والنجاح





(نموذج الإجابة)

العام الدراسي : 2020 / 2021 م

امتحان الفترة الدراسية الثانية

الزمن :- ساعتين وربع

لمقرر (قضايا البيئة والتنمية المعاصرة)

وزارة التربية

للفصل الثاني عشر (الأدبي)

التوجيه الفني العام للاجتماعيات (الشلل الدماغي والصمم وضعاف السمع وزراعة القوقعة) عدد الأوراق : ٤ صفحات

أجب عن جميع الأسئلة

السؤال الأول :- يتكون من (أ - ب) :-

أ- ظلل الحرف (ص) للعبارة الصحيحة والحرف (خ) للعبارة الخاطئة فيما يلي :- (7 = 7 × 1)

م	العبارة	ص	خ
١	يسكن نحو ٥٠% من سكان العالم بين دائرتي عرض ٢٠ - ٤٠ شمالاً وجنوباً. ص ١٤١		
٢	التركيب السكاني الذي يقسم السكان إلى عدة فئات حسب أكرمؤهل دراسي حصل عليه الفرد هو التركيب الاقتصادي . ص ١٣٩		
٣	من المدن التي تجمع الوظائف كلها في آن واحد هي القاهرة في مصر . ص ١٤٤		
٤	الحدود المتفق عليها في المعاهدات الدولية والتي قد تتبع خطوطاً فلكية في رسمها مثل دوائر العرض وخطوط الطول هي الحدود الطبيعية . ص ١٥٧		
٥	نظم المعلومات المتقدمة تعرقل الاستثمار وتؤخر السياحة . ص ١٨١		
٦	أكثر أنواع التلوث البيئي انتشاراً هو التلوث الهوائي . ص ١١٤		
٧	العام الذي وضع فيه المخطط الهيكلي الأول لدولة الكويت هو ١٩٥٢م ص ١٥٠		

ب- ضع عنواناً مناسباً للصور التالية مستعيناً بما بين القوسين بوضع الرقم المناسب : (7 = 7 × 1)

١- بيوت الكويت قديماً - ٢- أسوار مدينة الكويت القديمة - ٣- لجنة الأسكوا - ٤- احتراق آبار البترول

- ٥- حركة السلام الأخضر - ٦- الإدارة البحرية و الجوية الأمريكية ص ١٢٤ - ٧- النمو السكاني



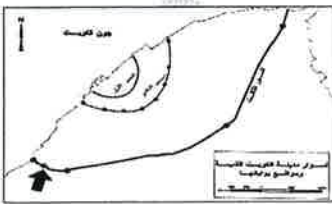
١- بيوت الكويت قديماً ص ١٤٩



٣- لجنة الأسكوا ص ١٣٦



٤- احتراق آبار البترول ص ١٢٧




٢- أسوار مدينة الكويت القديمة

ص ١٤٨

٦- الإدارة البحرية و الجوية الأمريكية ص ١٢٤

٥- حركة السلام الأخضر ص ١٢٥



٧- النمو السكاني ص ١٤٢

وزارة التربية



التوجيه الفني العام للاجتماعيات

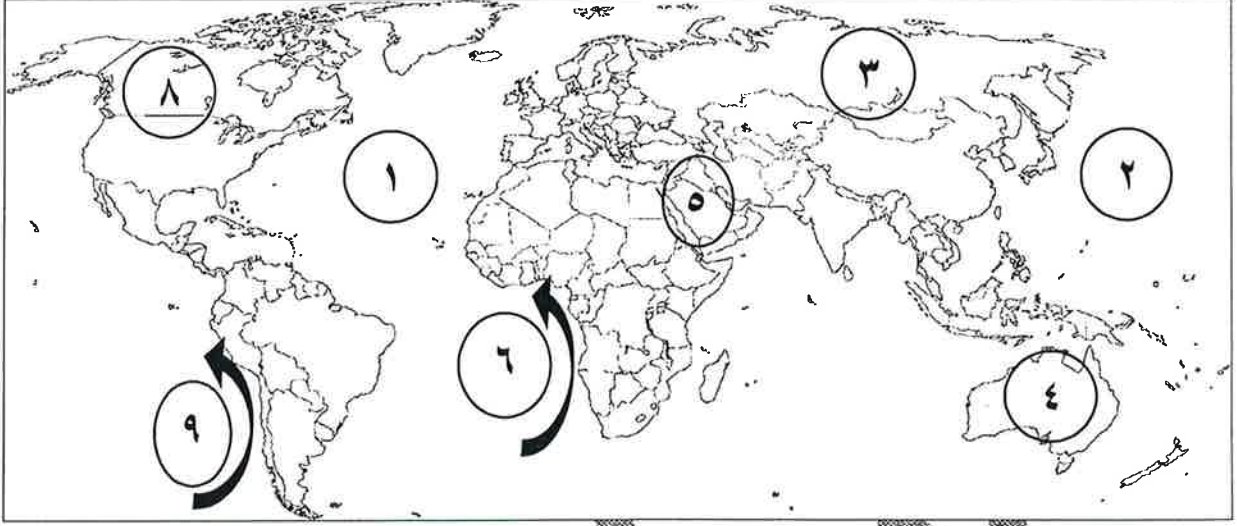
تم العمل من



تم تجميع
الامتحانات ونماذج الإجابة
وأرشفتها إلكترونياً
من قبل الموجه الفني
أ. حمد إبراهيم البحوه

السؤال الثاني : يتكون من (أ - ب) :

أ- لاحظ خريطة العالم التي أمامك ثم أكتب الأرقام الدالة على العبارات التالية : (١ × ٧ = ٧)



- تيار بنجويلا البارد يمثل على الخريطة الرقم ٦ ص ١٢٣

- قارة آسيا يمثلها على الخريطة الرقم ٣ ص ١٢٣

- نطاق الجزء الأكثر كثافة من دخان حرائق آبار النفط يمثل الرقم ٥ ص ١٢٦

- المحيط الهادي يمثل على الخريطة الرقم ٢ ص ١٢٣

- تيار البيرو البارد يمثل على الخريطة الرقم ٩ ص ١٢٣

- قارة استراليا يمثلها على الخريطة الرقم ٤ ص ١٢٣

- المحيط الأطلنطي يمثل على الخريطة ١ ص ١٢٣

ب- ضع خطأ تحت الخيار الصحيح من بين الخيارات التي تلي كل عبارة : (١ × ٧ = ٧)

١- مدينة قامت وازدهرت على التجارة وإدارة الأعمال : ص ١٤٥

(الأقصر - الأحمدى - دبي - المحلة الكبرى)

٢- العالم الألماني الذي أسس الجغرافيا السياسية : ص ١٥٥

(- ريتز - كانت - راتزل - درنج)

٣- الجهاز الرئيسي الذي يحتوي على قاعدة البيانات والخرائط وبرمجيات نظم المعلومات الجغرافية : ص ١٦٣

(- الشبكات - أجهزة حاسبات قوية - الطابعات - الخادم)

٤- العام الذي تم فيه بناء السور الأول لمدينة الكويت قديماً : ص ١٤٨

(- ١٧٧٠م - ١٨١١م - ١٨٧٤م - ١٩٢٠م)

٥- قدرت تكاليف إعادة أعمار القطاع البترولي الكويتي بعد تدميره من قبل النظام العراقي البائد حوالى : ص ١٣٠

(- ٥٠ - ٦٠ - ٧٠ - ٨٠) مليار دولار

٦- الأقاليم أو المناطق الحاجزة أو الفاصلة بين الأمم والقوميات والدول : ص ١٥٦

(- التخوم - الحدود الطبيعية - الحدود البشرية - الحدود الهندسية)

٧- الغاز الذي تبلغ نسبته في الهواء ٧٨% يسمى : ص ١١٤

(الأوزون - الأكسجين - الميثان - النيتروجين)



السؤال الثالث :- يتكون من (أ - ب) :-

أ - اكتب المفاهيم أو المصطلحات الدالة على العبارات التالية مستعينا بما بين القوسين:

$$(١ \times ٧ = ٧)$$

(١ - الكثافة السكانية ٢ - الانفجار السكاني ٣ - الهجرة ٤ - التركيب السكاني

٥ - نظم المعلومات الجغرافية ٦ - جغرافية العمران ٧ - مياه التوازن)

م	المفهوم	العبرة
١	٢ - الانفجار السكاني	تزايد السكان بشكل سريع جدا عن طريق معدلات نمو سكانية مرتفعة جدا (تتلاق مع معدلات التنمية الاقتصادية . ص ١٤١
٢	٤ - التركيب السكاني	تقسيم السكان إلى فئات أو مجموعات لكل منها خصائص وسمات تختلف عن الأخرى . ص ١٣٨
٣	١ - الكثافة السكانية	عدد الأفراد في مساحة محددة من الأرض داخل المدينة أو الوحدة الإدارية . ص ١٤٠
٤	٧ - مياه التوازن	قيام ناقلات النفط بضخ مياه البحر في صهاريجها لكي تقوم هذه المياه بعملية توازن الناقله حتى تأتي إلى مصدر شحن النفط فتقوم بتفريغ هذه المياه الملوثة في البحر . ص ١١٨
٥	٣ - الهجرة	انتقال الأفراد أو الجماعات لهدف معين من منطقة إلى أخرى أو من دولة إلى أخرى أو من قارة إلى أخرى ، للإقامة الدائمة أو شبه الدائمة . ص ١٣٧
٦	٦ - جغرافية العمران	العلم الذي يهتم بدراسة أنماط استخدام الأرض وطبيعة المباني المختلفة بالإقليم ، بالإضافة إلى دراسة أقسام الإقليم ووظائفها . ص ١٤٤
٧	٥ - نظم المعلومات الجغرافية	إحدى نظم المعلومات التي تتعامل مع المعلومات المكانية من حيث الإدخال والتخزين والإدارة والاستعادة والتحليل . ص ١٦٠

ب - صنف الكلمات التالية في مكانها المناسب في الجدول الذي يليها بوضع الرقم المناسب:

(١ - الاقتصادية ٢ - الداخلية ٣ - التطبيقات ٤ - البرامج

٥ - الخرائط والبيانات ٦ - العامة ٧ - الدولية)

الكثافة السكانية ص ١٤٠	أنواع الهجرة ص ١٣٧ + ١٣٨	مكونات نظم المعلومات الجغرافية ص ١٦٣ + ١٦٤ + ١٦٥
<ul style="list-style-type: none"> الاقتصادية (١) العامة (٦) 	<ul style="list-style-type: none"> الداخلية (٢) الدولية (٧) 	<ul style="list-style-type: none"> البرامج (٤) الخرائط والبيانات (٥) التطبيقات (٣)



وزارة التربية والتعليم
التوجيه الفني العام للإجتماعيات

السؤال الرابع :- يتكون من (أ - ب) :-

أ - أكمل المخططات السهمية التالية مستعينا بما بين القوسين : (١ × ٧ = ٧)

(١- العوامل البشرية ٢- العزاب ٣- العمران الريفي ٤- خطر ٥- مدمر ٦- المطلقات ٧- الأرامل)

التربية

التوجيه الفني العام للإجتماعيات

ص ١٤٤

أنماط النظام العمراني

العمران الحضري

٣- العمران الريفي

ص ١١٥

مصادر التلوث الهوائي

١- العوامل البشرية

العوامل الطبيعية

ص ١٣٩

فئات التركيب الزواجي

٧- الأرامل

٦- المطلقات

المتزوجين

٢- العزاب

ص ١١٣ - ١١٤

درجات التلوث

٥- مدمر

٤- خطر

مقبول

(١ × ٧ = ٧)

ب- اكمل العبارات التالية بما يناسبها مستعينا بما بين القوسين :

(- كولون بوكائن - الجيوبوليتك - براك بن عريعر - (٧٣٧) - النمو الصفري - ١٩٥٧ م - الطابعات)

- ١- زعيم قبيلة بني خالد الذي بنى الحصن الصغير في مدينة الكويت قديماً اسمه براك بن عريعر . ص ١٤٦
- ٢- انخفاض أعداد المواليد عن أعداد الوفيات يسمى النمو الصفري ص ١٣٥
- ٣- المنهج الذي يقوم على الدراسة الجغرافية للدولة من حيث سياستها الخارجية يسمى الجيوبوليتك . ص ١٥٦
- ٤- العام الذي تم فيه هدم السور الثالث هو (١٩٥٧ م) ص ١٤٨
- ٥- يبلغ عدد آبار البترول الكويتية التي تم تدميرها وإشعال النيران فيها عام ١٩٩١ م حوالي (٧٣٧) ص ١٢٤
- ٦- الراسمات التي تطبع الخرائط بالمقياس المطلوب وطبقاً للاحتياجات تسمى الطابعات ص ١٦٣
- ٧- الخبير البريطاني الذي وضع المخطط الهيكلي الثاني لدولة الكويت اسمه كولون بوكائن ص ١٥٠

انتهت الأسئلة ... تمنياتنا لكم بالتوفيق والنجاح

