



وزارة التربية
مكتب الوكيل المساعد للتعليم العام
امتحان الفترة الدراسية الثانية
الصف الحادي عشر
الشلل الدماغي وزراعة القوقعة
العام الدراسي 2021 / 2022
مبادئ علم الجغرافيا و علم الاقتصاد

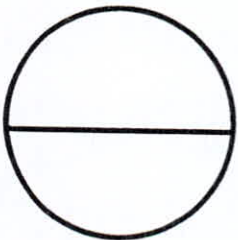
اسم الطالب /
الصف:
الشعبة:

رقم السؤال	الدرجة	توقيع المصحح
1		
2		
3		
4		
5		
6		
7		
8		
9		
10		
المجموع		



تم تجميع
الامتحانات وماذج الإجابة
وأرشفتها إلكترونياً
من قبل الموجه الفني
أ. حمد إبراهيم البحوه

الدرجة بالحروف :





دولة الكويت
وزارة التربية
التوجيه الفني العام للاجتماعيات

امتحان نهاية الفترة الدراسية الثانية
للمصف الحادي عشر / الأدبي
للعام الدراسي : ٢٠٢١ - ٢٠٢٢ م

مادة : مبادئ علم الجغرافيا و علم الاقتصاد
(الشئل الدماغي و الصم و ضعاف السمع و زراعة القوقعة)



تعليمات الاختبار :

- ١- استعن بالله عز وجل فهو خير معين .
- ٢- تأكد أن الامتحان من (٦) أوراق مختلفة .
- ٣- يتكون الامتحان من أربعة أسئلة فقط أجب عليها جميعاً .
- ٤- زمن الإجابة ساعتان وربع .
- ٥- استخدم القلم الأزرق الجاف .
- ٦- يمنع استخدام المزيل الأبيض (الكوركتور)

مع تمنياتنا لكم بالتوفيق ،،،،



دولة الكويت

وزارة التربية

التوجيه الفني العام للاجتماعيات

العام الدراسي: ٢٠٢١ - ٢٠٢٢ م

الزمن : ساعتان وربع

عدد الأوراق: (٦)

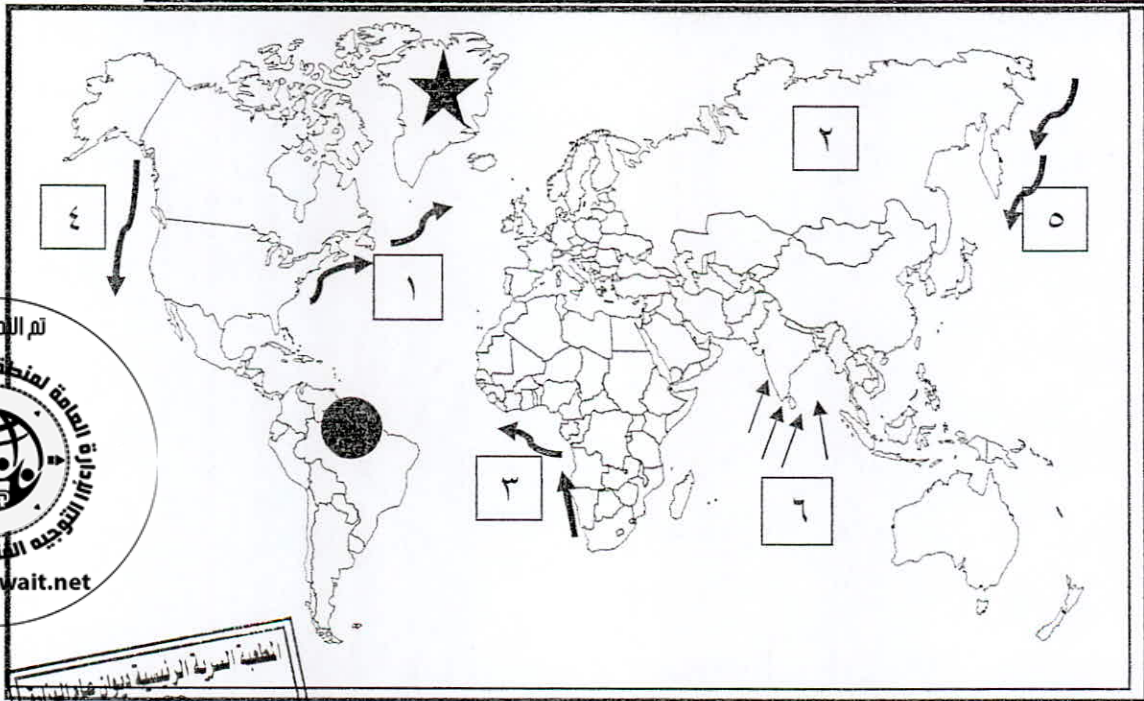
امتحان الفترة الدراسية الثانية

لمادة مبادئ علم الجغرافيا وعلم الاقتصاد للصف الحادي عشر (الأدبي)
(الشلل الدماغي والصم وزراعة القوقعة)

أجب عن جميع الأسئلة

السؤال الأول : ويتكون من [أ ، ب]

(أ) أمامك خريطة العالم الصماء ، أكتب الأرقام والأشكال الدالة على كل مما يلي :



- * تيار بنجويلا البارد على الخريطة يمثل الرقم (.....) .
- * تيار الخليج الدافئ على الخريطة يمثل الرقم (.....) .
- * الرياح الموسمية الصيفية يمثلها على الخريطة الرقم (.....) .
- * إقليم الغابات الحارة الاستوائية يمثلها الرمز (.....) .
- * إقليم الصحاري الباردة القطبية الصحاري البيضاء يمثلها على الخريطة الرمز (.....) .

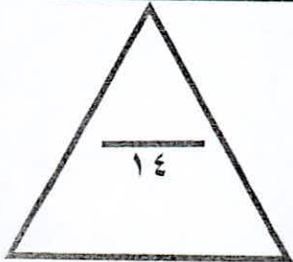

تم تجميع
الامتحانات ونماذج الإجابة
وأرشفتها إلكترونياً
من قبل الموجه الفني
أ. حمد إبراهيم البحوه

تابع : السؤال الأول :

(ب) أكتب المفهوم أو المصطلح الدال على العبارات التالية مستعيناً بما يلي بوضع الرقم :

٩	٨	٧	٦	٥	٤	٣	٢	١
الغلاف الجوي	الأوراق التجارية	الغابات النفضية	النظام المالي	الودائع المصرفية	السيكرومتر	وزارة المالية	الضغط الجوي	التندرا

الرقم	العبرة
.....	- غطاء سميك من الغازات يحيط بالكرة الأرضية من جميع الجهات.
.....	- وزن عامود الهواء الذي يعلو فوق أي مكان على سطح الأرض حتى نهاية الغلاف الغازي.
.....	- جهاز لقياس الرطوبة عبارة عن ترمومترين أحدهما جاف والآخر مبلل بقطعة من القماش .
.....	- تتساقط أوراق أشجارها السائدة في بعض المواسم وخاصة موسم الشتاء لتنمو أوراق جديدة .
.....	- منطقة باردة خالية من الأشجار تحيط بالمحيط القطبي الشمالي والأرض متجمدة معظم العام .
.....	- المبالغ النقدية المستحقة لعملاء البنك من أقل الدول ومؤسسات مقابل الحصول على عائد نقدي سواء بالعملة المحلية أو بالعملات الأجنبية.
.....	- مجموعة من القواعد والإجراءات التي تنظم أسواق الأوراق المالية معينة يتم بها بيع وشراء الخدمات المالية والتأمين.
.....	- أوراق غير الأوراق النقدية قابلة للتداول بين الأفراد والشركات والمؤسسات بالطرق التجارية لها شروط محددة تخصم لدي البنك التجاري ومن أشكالها الكمبيالة والشيك .
.....	- جهة حكومية معينة بشؤون المالية العامة في الدولة والمسؤول عن إعداد الميزانية العامة للدولة وبالتنسيق مع الجهات الحكومية الأخرى.



السؤال الثاني : ويتكون من [أ ، ب] :

(أ) ضع عنواناً مناسباً للأشكال والصور التالية مستعيناً بما يلي وذلك بوضع الرقم في مكانه المناسب :
(٩ = ٩ × ١)

- | | | |
|-----------------------------------|------------------|----------------|
| ١- أليغور (النمر الأمريكي المرقط) | ٢- نسيم البحر | ٣- رياح القبلي |
| ٤- شجرة التبلدي | ٥- نسيم البر | ٦- الشمبانزي |
| ٧- رياح السيروكو | ٨- شجرة السكوييا | ٩- التسي تسي |




.....



.....




.....




.....



.....




.....



.....



.....



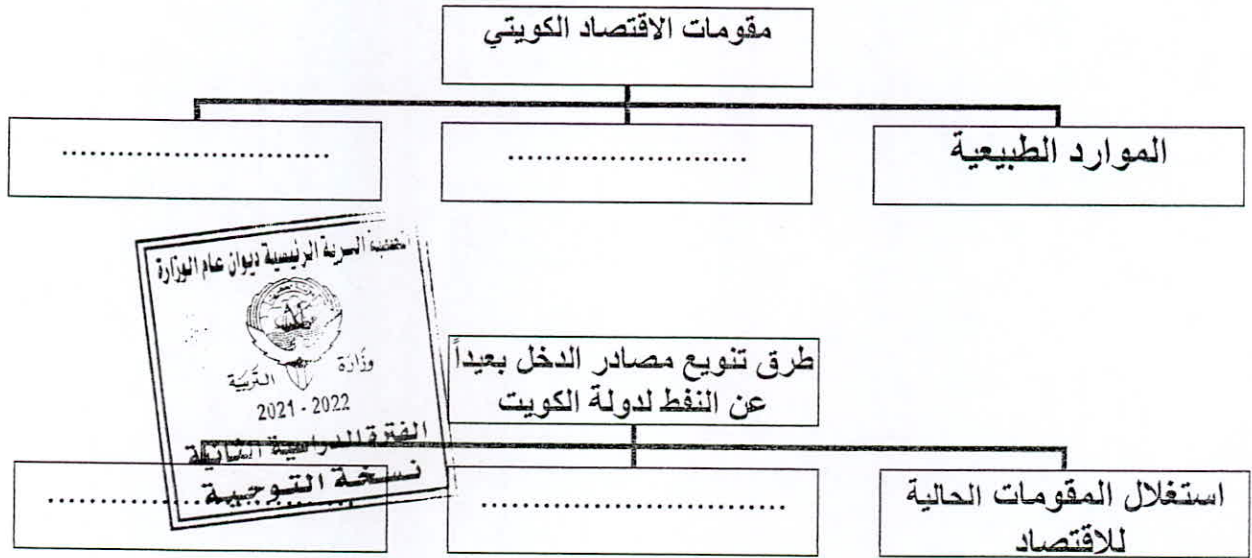
.....



تابع : السؤال الثاني :

(ب) أكمل المخططات السهمية التالية بما يناسبها مستعيناً بما بين القوسين بوضع الرقم المناسب:

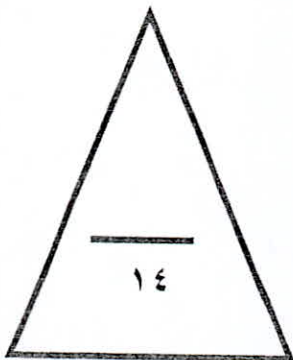
- ١- إيجاد المصادر البديلة ٢- رأس المال البشري
٣- التنمية البشرية ٤- الموقع الجغرافي
٥- سوق رأس المال



المؤسسات المالية

سوق النقد

تم تجميع
الامتحانات ونماذج الإجابة
من قبل الموجه الفني
أ. حمد إبراهيم البصوه



السؤال الثالث : ويتكون من [أ ، ب] :

(أ) أكمل العبارات بما يناسبها من الكلمات التالية بوضع الرقم في مكانه المناسب :

١- المسترال	٢- اللاب	٣- الصحراء الكبرى	٤- ٦٦%
٥- ٧١%	٦- الترمومتر	٧- قانون فرل	٨- الثلوج



- جهاز لقياس درجة الحرارة الهواء يسمى . []
- تبلغ الأشعة الشمسية المكتسبة لسطح الأرض نسبة . []
- تغطي البحار والمحيطات من المساحة الكلية لسطح الكرة الأرضية نحو . []
- رياح محلية باردة تنساب من الجوانب الجبلية العالية التي تحيط بوادي الرون في فرنسا . []
- بلورات رقيقة تتكون نتيجة لانخفاض درجة الحرارة إلى ما دون الصفر المئوي . []
- أكبر صحاري العالم تمتد في شمال القارة الأفريقية تسمى . []
- قبائل مرتحلة تمارس صيد الأسماك وتربية حيوان الرنة تعيش في شمال النرويج والسويد تسمى . []
- القوة الناتجة من دوران الأرض حول محورها من الغرب إلى الشرق تسمى . []

(ب) ظلل الخيار الصحيح من بين الخيارات التي تلي كل عبارة :

١- جهاز يقيس سرعة الرياح :

البارومتر	الترموجراف	الأنيمومتر	الباروجراف
-----------	------------	------------	------------

٢- طبقة من طبقات الغلاف الجوي تنشأ فيها السحب والعواصف والتيارات الصاعدة والهابطة والأمطار والتساقط :

الثيرموسفير	التروبوسفير	الاستراتوسفير	الميزوسفير
-------------	-------------	---------------	------------

٣- نجحت أكبر الشركات الأمريكية في صناعة السيارات عام ١٨٩٦م على يد :

هنري فورد	جورج بالدوين	نيكولاس جوزيف	كارل بنز
-----------	--------------	---------------	----------

٤- شهادات تصدر عن البنك التجاري تثبت إيداع مبلغ معين بعوائد وبفترة محددة :

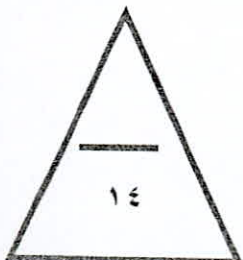
الكمبيالة	الأوراق التجارية	الشيك	شهادات الإيداع
-----------	------------------	-------	----------------

٥- هيئة حكومية مستقلة مسؤولة عن مراقبة دخول البضائع (الاستيراد) وخروجها (التصدير) وتحصيل الرسوم الجمركية:

وزارة التجارة والصناعة	الإدارة العامة للجمارك	هيئة سوق المال	الهيئة العامة للاستثمار
------------------------	------------------------	----------------	-------------------------

٦- البنك المسؤول عن الجهاز المصرفي وتنظيم إصدار النقد ويشرف ويراقب على العمليات المصرفية:

الائتمان	تجاري	المركزي	المتخصص
----------	-------	---------	---------



السؤال الرابع ويتكون من [أ ، ب] :

(أ) فرق بين كل من مستعينا بما يلي وذلك بوضع الرقم في مكانه المناسب:

- ١- الأسهم ٢- الغلاف الحيوي ٣- الطقس ٤- المناخ
٥- الضباب ٦- السندات ٧- الإقليم الحيوي ٨- الندى

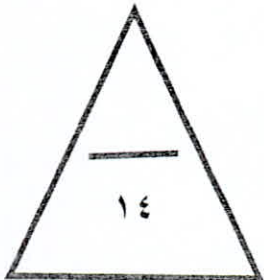
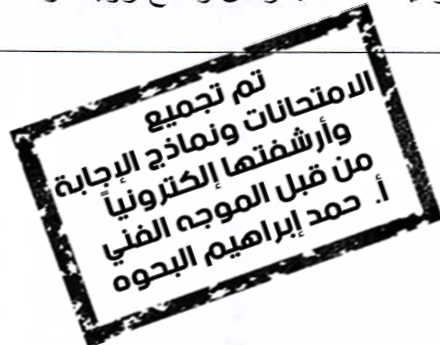
.....
ذرات مائية خفيفة الوزن تتطاير في الهواء ويزداد ثقلها بالقرب من سطح الأرض.	قطرات مائية أو طبقة رقيقة من الماء تتجمع على الأسطح المعرضة للجو مباشرة مثل أوراق النباتات وغيرها من الأجسام الصلبة .
.....
الحيز المكاني الذي توجد فيه الحياة والذي يسمح للكائنات الحية بأشكالها المختلفة أن تعيش فيه .	حيز مكاني من سطح الأرض فيه أشكال وأنواع معينة من الكائنات الحية بحيث تميزه عن غيره من الأقاليم الأخرى في العالم .
.....
متوسط التتابع المنتظم لأحوال الطقس اليومي فوق مكان معين وخلال مدة زمنية طويلة تصل حوالي ٣٥ سنة .	الحالة الجوية اليومية فوق مكان معين خلال مدة زمنية قصيرة تتراوح بين عدة ساعات وأيام .
.....
ورقة مالية تمثل كأداة ملكية لحصة في رأس مال الشركة في وزارة المالية الكويتية .	ورقة مالية تمثل كأداة دين على مصدر السند وتدر دخلاً المساهمة .



(ب) اختر للمجموعة (أ) ما يناسبها من المجموعة (ب) بوضع الرقم المناسب في الجدول التالي:

م	المجموعة (أ)	الرقم المناسب	المجموعة (ب)
١	ينشأ من تصادم الهواء الدافئ المحمل ببخار الماء بسفوح الجبال العالية وتصادمه لأعلى ثم يتكثف ما به من بخار ماء	الكستناء
٢	أشجار مثمرة وصمغية تنمو في الغابات الحارة الاستوائية	الأناكوندا
٣	نوع من الأشجار النفضية توجد في الغابات المعتدلة الباردة.	الأمانة العامة للمجلس الأعلى للتخطيط والتنمية
٤	أضخم ثعابين العالم وأخطرها حيث يقوم بعصر فريسته حتى الموت.	جوز الهند
٥	مؤسسة مالية تهتم في انعاش قطاعات محددة في الاقتصاد.	البنوك المتخصصة
٦	هيئة حكومية أنشئت بغرض وضع رؤية دولة الكويت التنموية.	المطر التضاريسي

انتهت الأسئلة





نموذج الإجابة

دولة الكويت

وزارة التربية

التوجيه الفني العام للاجتماعيات

العام الدراسي: ٢٠٢١ - ٢٠٢٢م

الزمن : ساعتان وربع

عدد الأوراق: (٦)

امتحان الفترة الدراسية الثانية

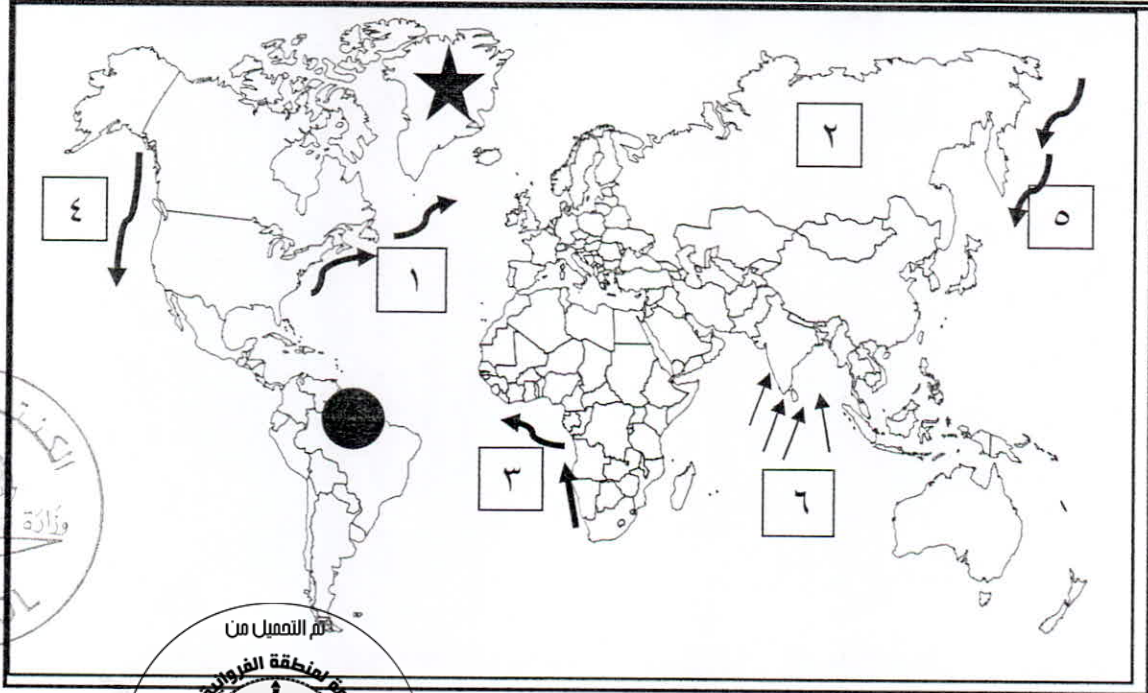
لمادة مبادئ علم الجغرافيا و علم الاقتصاد للصف الحادي عشر (الأدبي)

(الشلل الدماغي والصم وزراعة القوقعة)

أجب عن جميع الأسئلة

السؤال الأول : ويتكون من [أ ، ب]

(أ) أمامك خريطة العالم الصماء ، أكتب الأرقام والأشكال الدالة على كل مما يلي : (١×٥=٥)



ص ١١٦

ص ١١٦

ص ١٣٠

ص ١٤٤

ص ١٦٨

* تيار بنجويلا البارد على الخريطة يمثلته الرقم (٣) .

* تيار الخليج الدافئ على الخريطة يمثلته الرقم (١) .

* الرياح الموسمية الصيفية يمثلها على الخريطة الرقم (٦) .

* إقليم الغابات الحارة الاستوائية يمثلها الرمز (●) .

* إقليم الصحاري الباردة القطبية الصحاري البيضاء يمثلته على الخريطة الرمز (★) .

وزارة التربية



التوجيه الفني العام للاجتماعيات

تابع : السؤال الأول :

(ب) أكتب المفهوم أو المصطلح الدال على العبارات التالية مستعيناً بما يلي بوضع الرقم : (٩=٩×١)

٩	٨	٧	٦	٥	٤	٣	٢	١
الغلاف الجوي	الأوراق التجارية	الغابات النفطية	النظام المالي	الودائع المصرفية	السيكرومتر	وزارة المالية	الضغط الجوي	التندرا

الرقم	العبرة
٩	- غطاء سميك من الغازات يحيط بالكرة الأرضية من جميع الجهات. ص ١٢١
٢	- وزن عامود الهواء الذي يعطو فوق أي مكان على سطح الأرض حتى نهاية الغلاف الغازي. ص ١٢٧
٤	- جهاز لقياس الرطوبة عبارة عن ترمومترين أحدهما جاف والآخر مبلل بقطعة من القماش. ص ١٣٦
٧	- تتساقط أوراق أشجارها السائدة في بعض المواسم وخاصة موسم الشتاء لتنمو أوراق جديدة. ص ١٥٧
١	- منطقة باردة خالية من الأشجار تحيط بالمحيط القطبي الشمالي والأرض متجمدة معظم العام. ص ١٦٨
٥	- المبالغ النقدية المستحقة لعملاء البنك من أفراد ومؤسسات مقابل الحصول على عائد نقدي سواء بالعملة المحلية أو بالعملات الأجنبية. ص ٢٥٧
٦	- مجموعة من القواعد والإجراءات التي تنظم أسواق ومؤسسات معينة يتم بها بيع وشراء الخدمات المالية والتأمين. ص ٢٥١
٨	- أوراق غير الأوراق النقدية قابلة للتداول بين الأفراد والشركات والمؤسسات بالطرق التجارية لها شروط محددة تخصم لدى البنك التجاري ومن أشكالها الكمبيالة والشيك. ص ٢٥٣
٣	- جهة حكومية معينة بشؤون المالية العامة في الدولة والمسؤول عن إعداد الميزانية العامة للدولة وبالتنسيق مع الجهات الحكومية الأخرى. ص ٢٧٤



تم تجميع
الامتحانات ونماذج الإجابة
وأرشفتها إلكترونياً
من قبل الموجه الفني
أ. حمد إبراهيم البحوه

وزارة التربية
التوجيه الفني العام للإجتماعيات

السؤال الثاني : ويتكون من [أ ، ب] :

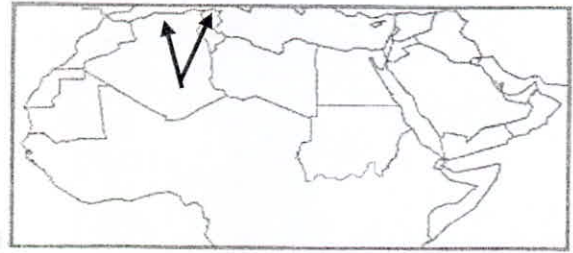
(أ) ضع عنواناً مناسباً للأشكال والصور التالية مستعيناً بما يلي وذلك بوضع الرقم في مكانه المناسب :
(٩ = ٩ × ١)

- | | | |
|-----------------------------------|-----------------|----------------|
| ١- أليغور (النمر الأمريكي المرقط) | ٢- نسيم البحر | ٣- رياح القبلي |
| ٤- شجرة التبدي | ٥- نسيم البر | ٦- الشمانزي |
| ٧- رياح السيروكو | ٨- شجرة السكوبا | ٩- التسي تسي |



ص ١٣١

٣



٧

ص ١٣١



ص ١٤٥

٦




ص ١٤٩

٩




ص ١٤٤

١



ص ١٣٢

٥



٢



ص ١٦٠

٤



ص ١٥٣

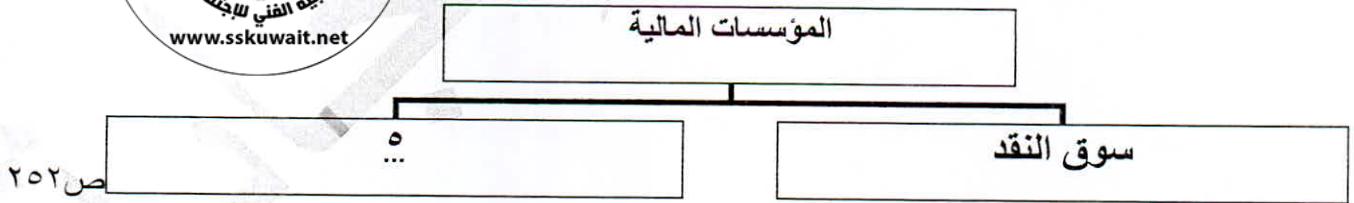
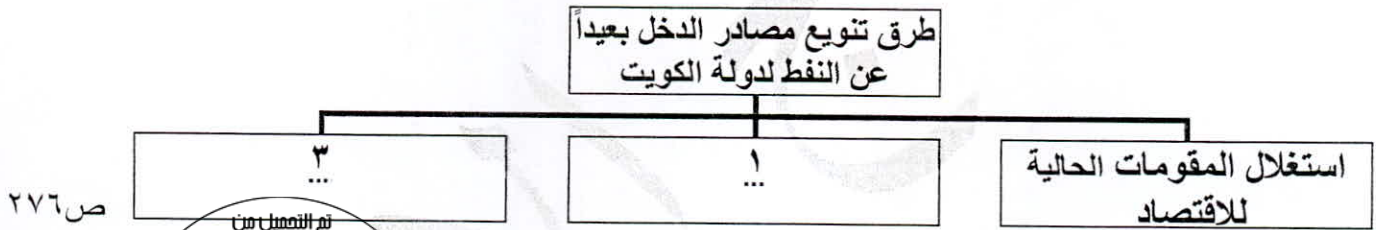
٨

رئة
جيه الفني العام للإجتماعيات

تابع : السؤال الثاني :

(ب) أكمل المخططات السهمية التالية بما يناسبها مستعيناً بما بين القوسين بوضع الرقم المناسب:
(٥=٥×١)

- ١- إيجاد المصادر البديلة ٢- رأس المال البشري
٣- التنمية البشرية ٤- الموقع الجغرافي
٥- سوق رأس المال



تم تجميع
الامتحانات ونماذج الإجابة
وأرشفتها إلكترونياً
من قبل الموجه الفني
أ. حمد إبراهيم البحوه



وزارة التربية
التوجيه الفني العام للإجتماعيات

السؤال الثالث : ويتكون من [أ ، ب] :

(أ) أكمل العبارات بما يناسبها من الكلمات التالية بوضع الرقم في مكانه المناسب : (٨=٨×١)

١- المسترال ٢- اللاب ٣- الصحراء الكبرى ٤- ٦٦٪

٥- ٧١٪ ٦- الترمومتر ٧- قانون فرل ٨- الثلوج

ص ١٢٥

- جهاز لقياس درجة الحرارة الهواء يسمى . [٦]

ص ١٢٣

- تبلغ الأشعة الشمسية المكتسبة لسطح الأرض نسبة . [٤]

ص ١٠٩

- تغطي البحار والمحيطات من المساحة الكلية لسطح الكرة الأرضية نحو . [٥]

ص ١٣٣ [١]

- رياح محلية باردة تنساب من الجوانب الجبلية العالية التي تحيط بوادي الرون في فرنسا.

ص ١٣٨

- بلورات رقيقة تتكون نتيجة لانخفاض درجة الحرارة إلى ما دون الصفر المئوي . [٨]

ص ١٦٧

- أكبر صحاري العالم تمتد في شمال القارة الإفريقية تسمى . [٣]

ص ١٧٠ [٢]

- قبائل مرتحلة تمارس صيد الأسماك وتربية حيوان الرنة تعيش في شمال النرويج والسويد تسمى . [٢]

ص ١١٥

- القوة الناتجة من دوران الأرض حول محورها من الغرب إلى الشرق تسمى . [٧]

(ب) ظلل الخيار الصحيح من بين الخيارات التي تلي كل عبارة : (٦=٦×١)

ص ١٢٩

١- جهاز يقيس سرعة الرياح :

البارومتر	الثرموجراف	<u>الأنيمومتر</u>	الباروجراف
-----------	------------	-------------------	------------

٢- طبقة من طبقات الغلاف الجوي تنشأ فيها السحب والعواصف والتيارات الصاعدة والهابطة والأمطار والتساقط :

ص ١٢١

الثيرموسفير	<u>التروبوسفير</u>	الأستراتوسفير	الميزوسفير
-------------	--------------------	---------------	------------

ص ٢٨٨

٣- نجحت أكبر الشركات الأمريكية في صناعة السيارات عام ١٨٩٦م على يد :

<u>هنري فورد</u>	جورج بالدوين	نيكولاس جوزيف	كارل بنز
------------------	--------------	---------------	----------

ص ٢٥٣

٤- شهادات تصدر عن البنك التجاري تثبت إيداع مبلغ معين بعوائد وبفترة محددة :

الكبيالة	الأوراق التجارية	الشيك	<u>شهادات الإيداع</u>
----------	------------------	-------	-----------------------

٥- هيئة حكومية مستقلة مسؤولة عن مراقبة دخول البضائع (الاستيراد) وخروجها (التصدير) وتحصيل الرسوم

ص ٢٧٥

الجمركية:

وزارة التجارة والصناعة	<u>الإدارة العامة للجمارك</u>	هيئة سوق المال	الهيئة العامة للاستثمار
------------------------	-------------------------------	----------------	-------------------------

٦- البنك المسؤول عن الجهاز المصرفي وتنظيم إصدار النقد ويشرف ويراقب على العمليات المصرفية: ص ٢٥٦

الائتمان	تجاري	<u>المركزي</u>	المتخصص
----------	-------	----------------	---------

التربية



وزارة

التوجيه الفني العام للإجتماعيات

السؤال الرابع ويتكون من [أ ، ب] :

(أ) فرق بين كل من مستعينا بما يلي وذلك بوضع الرقم في مكانه المناسب: (٨ = ٨ × ١)

- ١- الأسهم ٢- الغلاف الحيوي ٣- الطقس ٤- المناخ
٥- الضباب ٦- السندات ٧- الإقليم الحيوي ٨- الندى

٨	٥
قطرات مائية أو طبقة رقيقة من الماء تتجمع على الأسطح المعرضة للجو مباشرة مثل أوراق النباتات وغيرها من الأجسام الصلبة . ص ١٣٧	ذرات مائية خفيفة الوزن تتطاير في الهواء ويزداد ثقلها بالقرب من سطح الأرض. ص ١٣٧
٧	٢
حيز مكاني من سطح الأرض فيه أشكال وأنواع معينة من الكائنات الحية بحيث تميزه عن غيره من الأقاليم الأخرى في العالم . ص ١٤٣	الحيز المكاني الذي توجد فيه الحياة والذي يسمح للكائنات الحية بأشكالها المختلفة أن تعيش فيه . ص ١٤٣
٣	٤
الحالة الجوية اليومية فوق مكان معين خلال مدة زمنية قصيرة تتراوح بين عدة ساعات وأيام . ص ١٢٢	متوسط التتابع المنتظم لأحوال الطقس اليومي فوق مكان معين وخلال مدة زمنية طويلة تصل حوالي ٣٥ سنة . ص ١٢٢
٦	١
ورقة مالية تمثل كأداة دين على مصدر السند وتدر دخلاً ثابتاً على حامله. ص ٢٥٤	ورقة مالية تمثل كأداة ملكية لحصة في رأس مال الشركات المساهمة . ص ٢٥٤

(ب) اختر للمجموعة (أ) ما يناسبها من المجموعة (ب) بوضع الرقم المناسب في الجدول التالي:

(٦ = ٦ × ١)

م	المجموعة (أ)	الرقم المناسب	المجموعة (ب)
١	ينشأ من تصادم الهواء الدافئ المحمل ببخار الماء بسفوح الجبال العالية وتصادعه لأعلى ثم يتكثف ما به من بخار ماء . ص ١٣٩	٣	الكستناء
٢	أشجار مثمرة وصمغية تنمو في الغابات الحارة الاستوائية . ص ١٤٦	٤	الأناكوندا
٣	نوع من الأشجار النفضية توجد في الغابات المعتدلة الباردة. ص ١٥٦	٦	الأمانة العامة للمجلس الأعلى للتخطيط والتنمية
٤	أضخم ثعابين العالم وأخطرها حيث يقوم بعصر فريسته حتى الموت. ص ١٤٧	٢	جوز الهند
٥	مؤسسة مالية تهتم في انعاش قطاعات محددة في الاقتصاد . ص ٢٥٨	٥	البنوك المتخصصة
٦	هيئة حكومية أنشئت بغرض وضع رؤية دولة الكويت التنموية. ص ٢٧٣	١	المطر التضاريسي

انتهت الأسئلة

التربية

وزارة

التوجيه الفني العام للإجتماعيات

