



وزارة التربية

مكتب الوكيل المساعد للتعليم العام

امتحان الفترة الدراسية الثانية (المنهج الكامل)

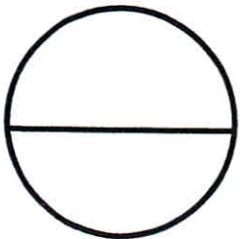
العام الدراسي 2021 / 2022

الصف الحادي عشر - الشلل الدماغي (زراعة القوقعة)

مبادئ علم الجغرافيا وعلم الاقتصاد

اسم الطالب /
الصف:
الشعبة:

رقم السؤال	الدرجة	توقيع المصحح
1		
2		
3		
4		
5		
6		
7		
8		
9		
10		
المجموع		



الدرجة بالحروف :



دولة الكويت
وزارة التربية
التوجيه الفني العام للاجتماعيات

امتحان المنهج الكامل
للفص الحادي عشر / الأدبي
للعام الدراسي : ٢٠٢١ - ٢٠٢٢ م

مادة : مبادئ علم الجغرافيا وعلم الاقتصاد
(الشلل الدماغي والصم وضعاف السمع وزراعة القوقعة)



تعليمات الاختبار :

- ١- استعن بالله عز وجل فهو خير معين .
- ٢- تأكد أن الامتحان من (٦) أوراق مختلفة .
- ٣- يتكون الامتحان من أربعة أسئلة فقط أجب عليها جميعاً .
- ٤- زمن الإجابة ساعتان وربع .
- ٥- استخدم القلم الأزرق الجاف .
- ٦- يمنع استخدام المزيل الأبيض (الكوريكتور)

تم تجميع
الامتحانات ونماذج الإجابة
وأرشفتها إلكترونياً
من قبل الموجه الفني
أ. حمد إبراهيم البحوه

مع تمنياتنا لكم بالتوفيق ،،،





دولة الكويت

وزارة التربية

التوجيه الفني العام للاجتماعيات

العام الدراسي: ٢٠٢١ - ٢٠٢٢ م

الزمن : ساعتان وربع

عدد الأوراق: (٦)

امتحان المنهج الكامل

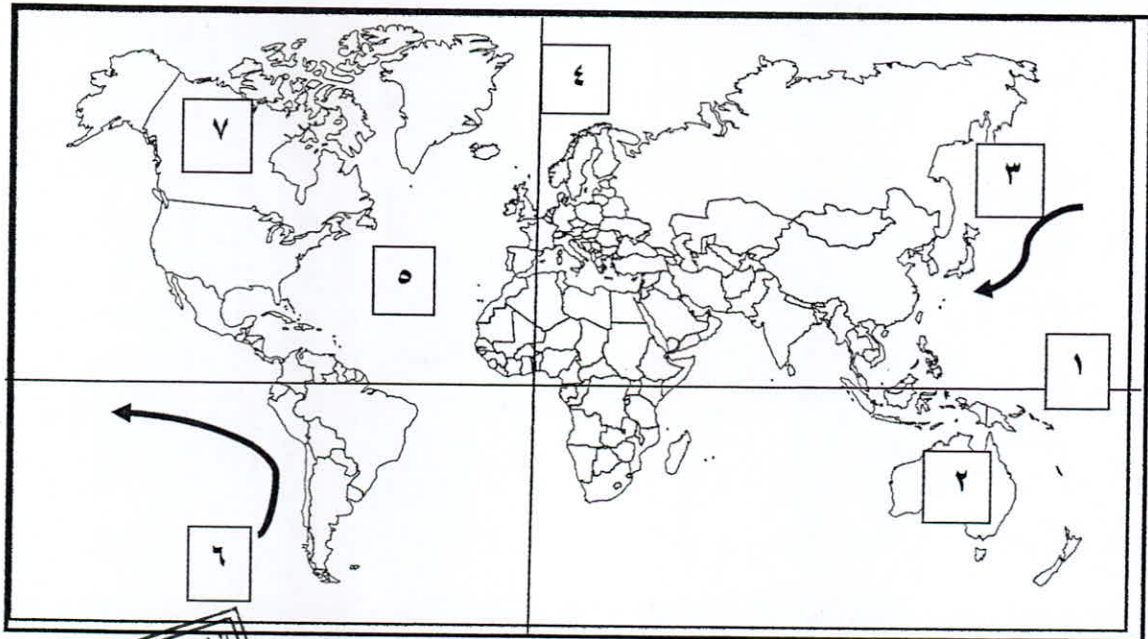
لمادة مبادئ علم الجغرافيا وعلم الاقتصاد للصف الحادي عشر (الأدبي)

(الشلل الدماغي والصم وزراعة القوقعة)

أجب عن جميع الأسئلة

السؤال الأول : يتكون من (أ - ب - ج) :

(أ) لاحظ خريطة العالم الصماء ، ثم أكتب الرقم الدال على كل مما يلي :



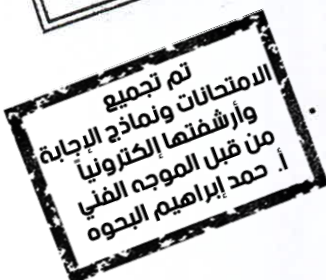
* خط جرينتش يمثل على الخريطة الرقم (.....) .

* تيار اليابان (كيروسيفو) الدافئ يمثل على الخريطة الرقم (.....) .

* قارة استراليا يمثلها على الخريطة الرقم (.....) .

* المحيط الأطلسي يمثل على الخريطة الرقم (.....) .

* تيار همبولت (بيرو) البارد يمثل على الخريطة الرقم (.....) .



تابع : السؤال الأول :

(ب) صنف الكلمات التالية بمكانها المناسب بوضع الرقم بالجدول التالى :

(٣) الجمل

(٢) الوشق

(١) ذبابة النسي تسي

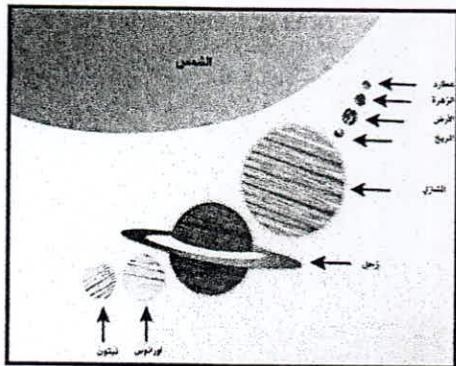
(٥) النعام

(٤) الدب القطبي

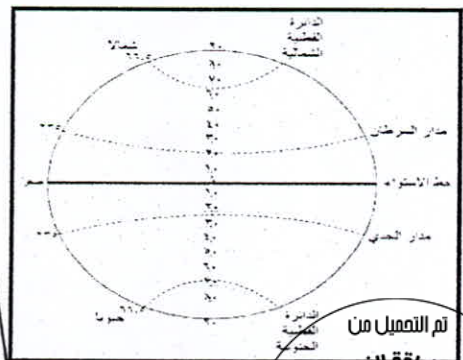
الغابات الحارة الموسمية	الصحاري الجافة الحارة	الغابات المعتدلة الباردة	الحشائش الحارة الطويلة السافانا	الصحاري الباردة التندرا
.....

(ج) أكتب الرقم المناسب للأشكال الجغرافية التالية :

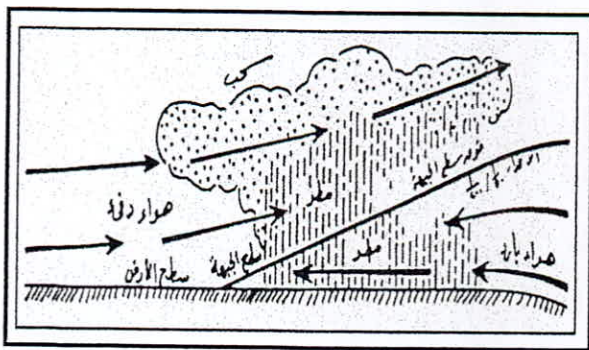
(١) - تتابع الفصول الأربعة ٢ - دوائر العرض ٣ - المطر الاعصاري ٤ - المجموعة الشمسية)



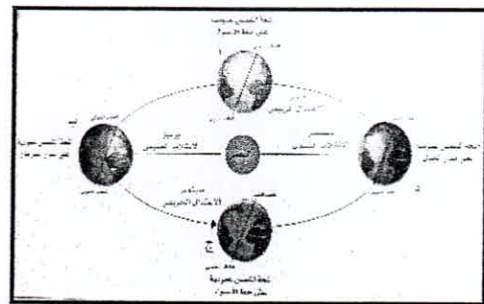
.....



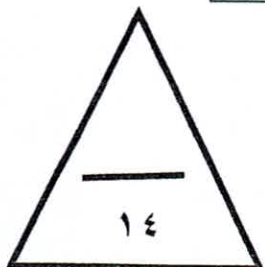
.....



.....



.....



السؤال الثاني : يتكون من (أ - ب - ج) :

(أ) استنتج الرابط المشترك بين العناصر التالية مستعينا بما في الجدول بوضع الرقم المناسب:

١- الموارد الاقتصادية	٢- عناصر السوق	٣- المشكلة الاقتصادية
٤- الجهاز المصرفي	٥- مقومات الاقتصاد الكويتي	

العناصر	الرابط المشترك
الاختيار - التضحية - الندرة
العرض - الطلب - السلعة او الخدمة
الأرض - العمل - رأس المال - المنظم
الموارد الطبيعية - الموقع الجغرافي - رأس المال البشري
البنك المركزي - البنوك التجارية - البنوك المتخصصة



(ب) أكتب الرقم المناسب للمفاهيم و المصطلحات الدالة على العبارات التالية :

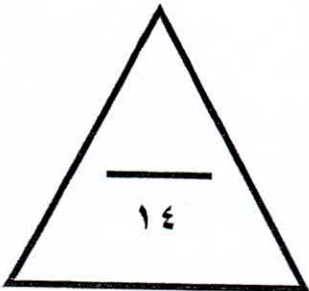
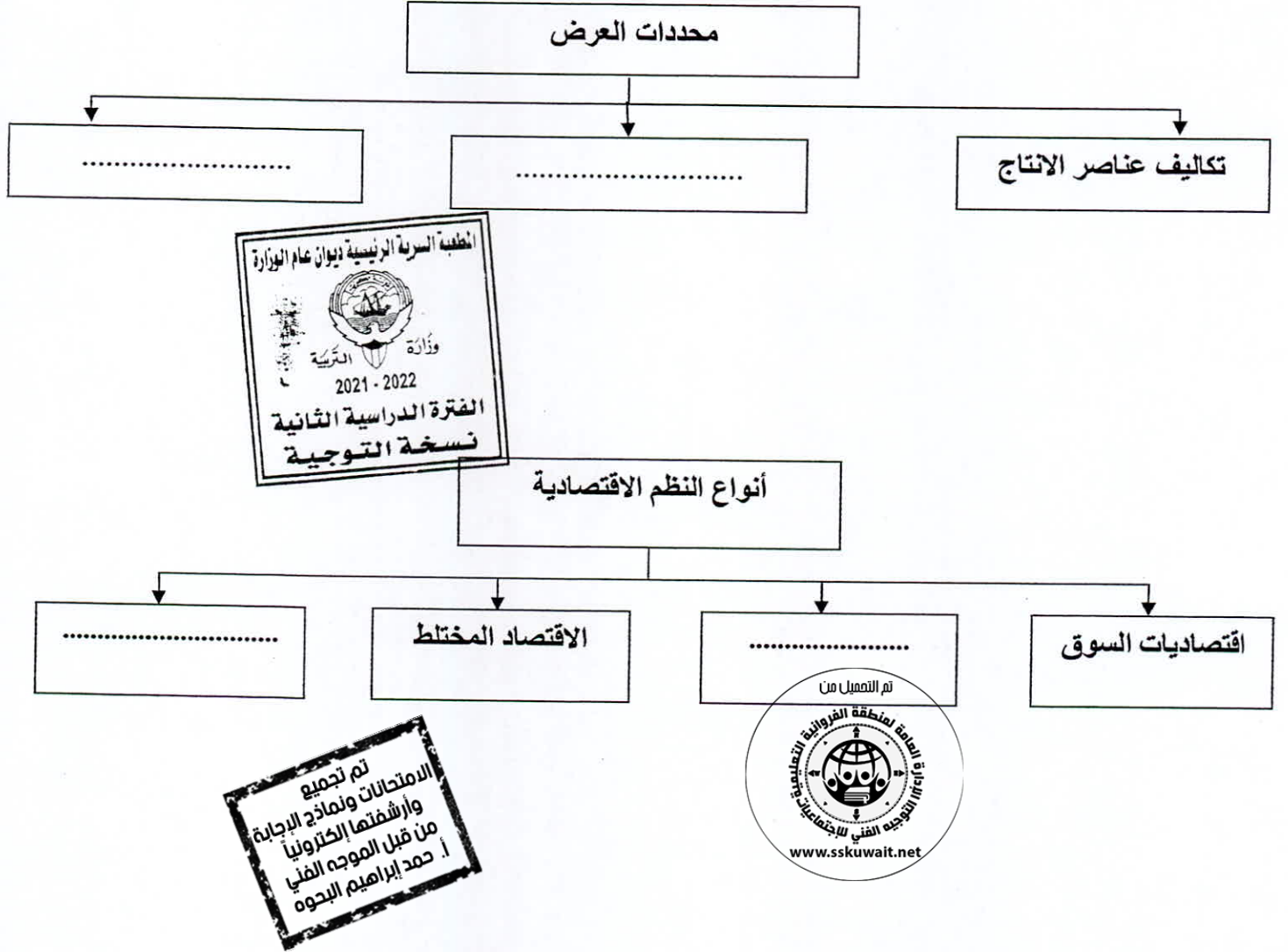
١ - الضغط الجوي ٢ - شهادات الايداع ٣ - الإقليم الحيوي ٤ - الصندوق الوطني ٥ - الغلاف الجوي

الرقم	العبارة
.....	- عبارة عن غطاء سميك من الغازات يحيط بالكرة الأرضية من جميع الجهات
.....	- حيز مكاني من سطح الأرض فيه أشكال وأنواع معينة من الكائنات الحية بحيث تميزه عن غيره من الأقاليم.
.....	- وزن عامود الهواء الذي يعلو فوق أي مكان على سطح الأرض حتى نهاية الغلاف الغازي .
.....	- تصدر عن البنك التجاري تثبت إيداع مبلغ معين بعوائد وبفترة محددة .
.....	- الجهة التي تهدف إلى دعم ورعاية وتنمية المشروعات الصغيرة والمتوسطة في دولة الكويت



تابع : السؤال الثانى :

(ج) أكمل المخططات السهمية التالية بوضع الرقم المناسب :
(١- الدعم و الضرائب ٢- الاقتصاد الإسلامى ٣- التطور التكني ٤- التخطيط المركزى)



السؤال الثالث : يتكون من (أ - ب) :

(أ) أكمل العبارات بما يناسبها من الكلمات التالية بوضع الرقم المناسب :

- ١ - التروبوسفير ٢ - بلوتو ٣ - البيئة
٤ - الذوق ٥ - الزلازل ٦ - أشعة حرارية ٧ - الانكسار الزاحف



- الظاهرة الجغرافية في الشكل المقابل تمثل (.....) .
- احد عوامل محددات الطلب وهو تفضيل المستهلكين لسلمة ما يسمى (.....) .
- كوكبا قزما وسوف يجرى من تصنيفه كوكبا (.....) .
- هزات فجائية سريعة تصيب قشرة الأرض في شكل موجات تسمى (.....) .
- الأشعة الشمسية غير المرئية والتي تتألف من الأشعة تحت الحمراء تسمى (.....) .
- فسر فان ريبير علم الجغرافيا بأنها لا شيء سوى الإنسان وعامل آخر اسمه (.....) .
- الطبقة التي تنشأ فيها السحب والعواصف والتيارات الصاعدة والهابطة والأمطار والتساقط تسمى (.....) .

(ب) ضع خطأ تحت الخيار الصحيح من بين الخيارات التي تلي كل عبارة :

١- كوكب جاف وحرارته عالية جداً ويعرف بتوأم الأرض :

المشتري	المريخ	عطارد	الزهرة
---------	--------	-------	--------

٢- احد الغازات التي تخرج من البراكين أثناء نشاطها :

الهيليوم	الهيدروجين	الميثان	الأكسجين
----------	------------	---------	----------

٣- تبلغ نسبة مساحة البحار والمحيطات من المساحة الكلية لسطح الكرة الأرضية :

٦١%	٧١%	٨١%	٩١%
-----	-----	-----	-----

٤- الجهاز الذي يقيس الرطوبة :

الباروجراف	الأنيمومتر	الترموجراف	السيكرومتر
------------	------------	------------	------------

٥- قطرات مائية او طبقة رقيقة من الماء تتجمع على الاسطح :

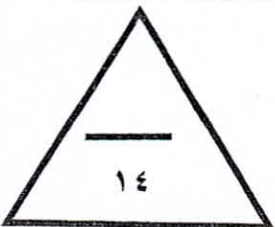
الندى	السحب	التلوج	البرد
-------	-------	--------	-------

٦- السلع التي يستخدمها الفرد مباشرة لإشباع حاجاته .. :

البديلة	الاستهلاكية	المكاملة	الإنتاجية
---------	-------------	----------	-----------

٧- الدولة التي تعتبر المشاريع الصغيرة عصب نشاطها الاقتصادي :

الهند	اليابان	ألمانيا	فرنسا
-------	---------	---------	-------



السؤال الرابع: يتكون من (أ - ب) :

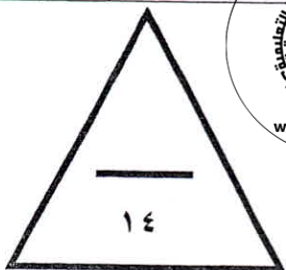
(أ) صوب ما تحته خط في العبارات التالية مستعينا فيما بين القوسين بوضع الرقم المناسب:
(١ - القبلي ٢ - التسامي ٣ - الحقيقي (الجغرافي) ٤ - القمر ٥ - الخدمة ٦ - السكوى ٧ - الرسوبية)

.....	- الاتجاه الذي يشير إلى نقطة القطب الشمالي الجغرافي هو الشمال <u>المغناطيسي</u>
.....	- التابع الوحيد للأرض ويدور في مدار حول الأرض هو <u>النجم</u> .
.....	- عملية تحول بخار الماء الموجود في الجو من الحالة الغازية إلى الصلبة مباشرة تسمى <u>التكاثف</u> .
.....	- رياح محليه تهب من الصحراء الكبرى ويتركز تأثيرها على السواحل الشمالية من ليبيا تسمى رياح <u>السموم</u> .
.....	- أضخم وأقدم شجرة على وجه الأرض عمرها يفوق ٣٥٠٠ سنة هي شجرة <u>التبلدي</u> .
.....	- يطلق على كل شيء معنوي غير ملموس يحصل عليه الفرد وينتفع منه بعد شرائه <u>السلعة</u> .
.....	- أنسب الصخور استجابة لحركات التني والطي هي الصخور <u>النارية</u> .

(ب) ظلل المربع (ص) إذا كانت العبارة صحيحة والمربع (خ) إذا كانت العبارة خاطئة :

ص	خ	العبارة
ص	خ	١- تدور الكواكب حول الشمس في مدار مستقيم .
ص	خ	٢- لا يؤثر هبوب الرياح الدائمة في نشأة التيارات البحرية .
ص	خ	٣- تعتبر الصحراء الكبرى أكبر صحاري العالم.
ص	خ	٤- النفط هو المورد الطبيعي والعصب الأساسي للاقتصاد الكويتي .
ص	خ	٥- أحد ظاهرات النحت بفعل الرياح الiardانج.
ص	خ	٦- الخرائط العامة تتعامل مع موضوع محدد وتهتم بإظهار توزيعه الجغرافي على سطح الأرض .
ص	خ	٧- طبقة السيلال تتكون من صخور بازلتية وتتألف من عنصري السيليكا والماغنيسيوم.

انتهت الأسئلة



العام الدراسي: ٢٠٢١ - ٢٠٢٢ م
الزمن : ساعتان وربع
عدد الأوراق: (٦)

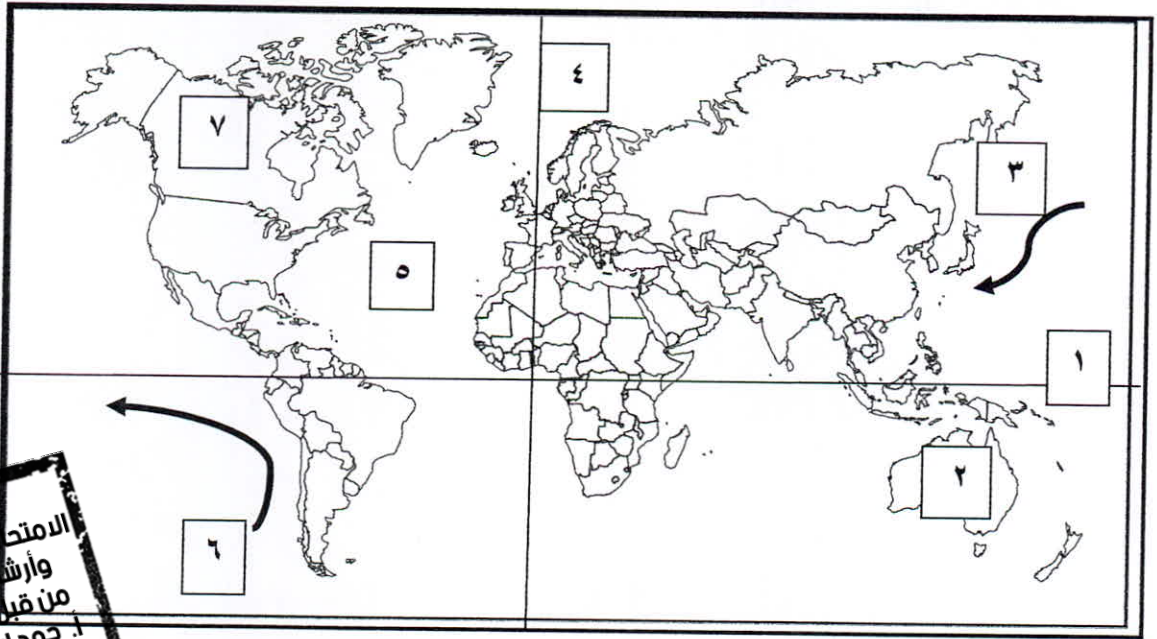
دولة الكويت
وزارة التربية
التوجيه الفني العام للاجتماعيات

امتحان المنهج الكامل

لمادة مبادئ علم الجغرافيا وعلم الاقتصاد للصف الحادي عشر (الأدبي)
(الشلل الدماغي والصم وزراعة القوقعة)

أجب عن جميع الأسئلة

السؤال الأول : يتكون من (أ - ب - ج) :
(أ) لاحظ خريطة العالم الصماء ، ثم أكتب الرقم الدال على كل مما يلي : (١ × ٥ = ٥)



تم تجميع
الامتحانات ونماذج الإجابة
وأرشفتها إلكترونياً
من قبل الموجه الفني
أ. حمد إبراهيم البحوه

* خط جرينتش يمثله على الخريطة الرقم (٤) ص ٧٠

* تيار اليابان (كيروسيفو) الدافئ يمثله على الخريطة الرقم (٣) ص ١١٦

* قارة استراليا يمثله على الخريطة الرقم (٢) ص ١١٦

* المحيط الأطلنطي يمثله على الخريطة الرقم (٥) ص ٨٨

* تيار همبولت (بيرو) البارد يمثله على الخريطة الرقم (٦) ص ١١٦



تابع : السؤال الأول :

(ب) صنف الكلمات التالية بمكانها المناسب بوضع الرقم بالجدول التالي : (٥ = ٥ × ١)

(١) ذبابة التسي تسي ص ١٤٩ (٢) الوشق ص ١٥٦ (٣) الجمل ص ١٦٦

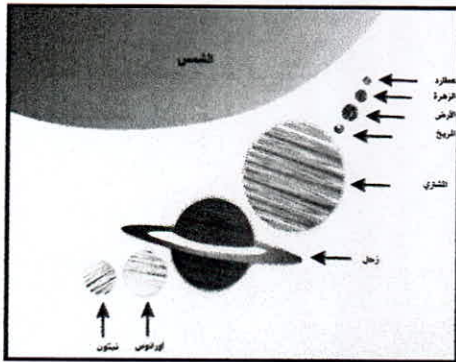
(٥) النعام ص ١٥٩

(٤) الدب القطبي ص ١٦٩

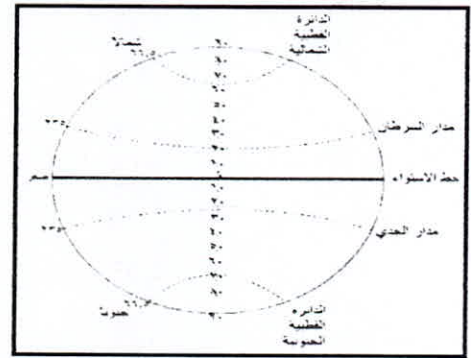
الغابات الحارة الموسمية	١	الغابات المعتدلة الباردة	٢	الصحاري الجافة الحارة	٣	الحشائش الحارة الطويلة السافانا	٥	الصحاري الباردة التندرا	٤
-------------------------	---	--------------------------	---	-----------------------	---	---------------------------------	---	-------------------------	---

(ج) أكتب الرقم المناسب للأشكال الجغرافية التالية : (٤ = ٤ × ١)

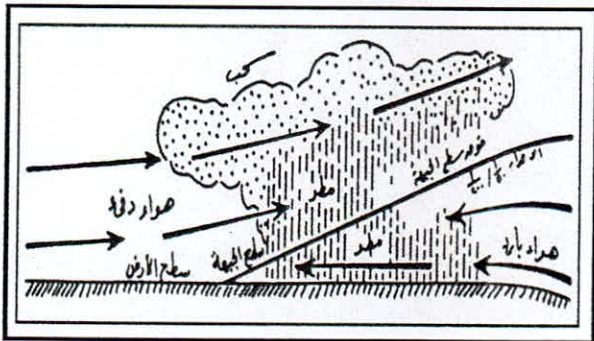
(١) - تتابع الفصول الأربعة ٢ - دوائر العرض ٣ - المطر الاعصاري ٤ - المجموعة الشمسية)



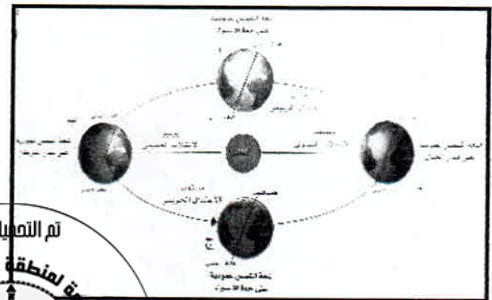
٤ ص ٥٩



٢ ص ٦٩



٣ ص ١٣٨



١ ص ٧٢

تم التاميل من

الهيئة العامة لمنطقة الغرمانية التعليمية
إدارة التوجيه الفني للاجتماعيات
www.sskuwait.net

تم تجميع الامتحانات ونماذج الإجابة وأرشفتها إلكترونياً من قبل الموجه الفني أ. محمد إبراهيم البحوه



وزارة التربية والتعليم
التوجيه الفني العام للاجتماعيات

سؤال الثاني : يتكون من (أ - ب - ج) :

(استنتج الرابط المشترك بين العناصر التالية مستعينا بما في الجدول بوضع الرقم المناسب: (٥ = ٥ × ١)

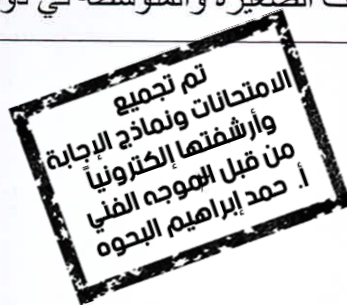
- ١- الموارد الاقتصادية ص ٢٠١ ٢- عناصر السوق ص ٢٢١ ٣- المشكلة الاقتصادية ص ٢١٣
٤- الجهاز المصرفي ص ٢٥٦ ٥- مقومات الاقتصاد الكويتي ص ٢٧١

الرابط المشترك	العناصر
٣	الاختيار - التضحية - الندرة
٢	العرض - الطلب - السلعة او الخدمة
١	الأرض - العمل - رأس المال - المنظم
٥	الموارد الطبيعية - الموقع الجغرافي - راس المال البشري
٤	البنك المركزي - البنوك التجارية - البنوك المتخصصة

ب) أكتب الرقم المناسب للمفاهيم و المصطلحات الدالة على العبارات التالية : (٥ = ٥ × ١)

- ١ - الضغط الجوي ٢ - شهادات الايداع ٣ - الإقليم الحيوي ٤ - الصندوق الوطني ٥ - الغلاف الجوي

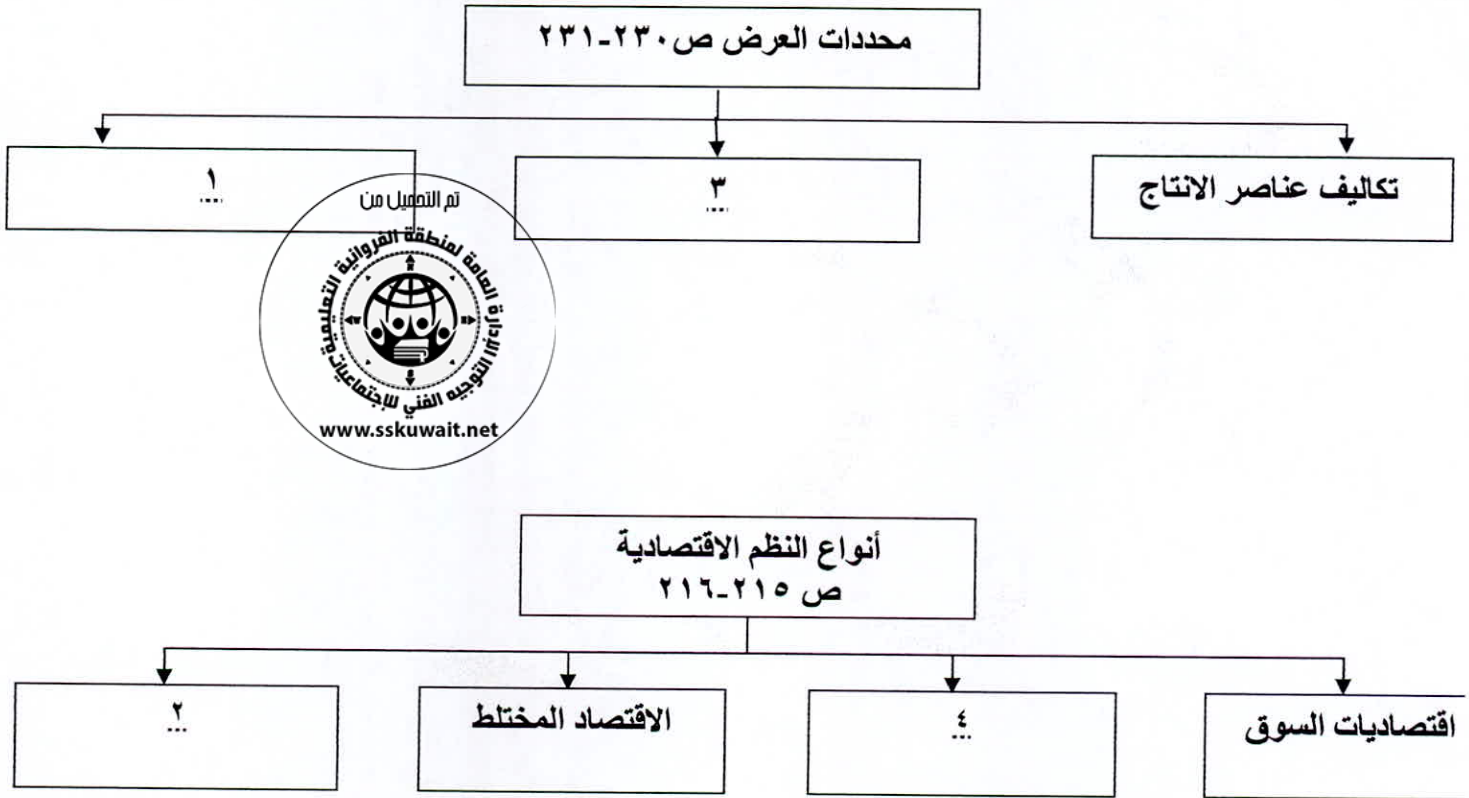
الرقم	العبرة
٥	عبارة عن غطاء سميك من الغازات يحيط بالكرة الأرضية من جميع الجهات ص ١٢١
٣	حيز مكاني من سطح الأرض فيه أشكال وأنواع معينة من الكائنات الحية بحيث تميزه عن غيره من الأقاليم. ص ١٤٣
١	وزن عامود الهواء الذي يعلو فوق أي مكان على سطح الأرض حتى نهاية الغلاف الغازي . ص ١٢٧
٢	تصدر عن البنك التجاري تثبت إيداع مبلغ معين بعوائد وبفترة محددة. ص ٢٥٣
٤	الجهة التي تهدف إلى دعم ورعاية وتنمية المشروعات الصغيرة والمتوسطة في دولة الكويت ص ٢٨٨



تابع : السؤال الثاني :

(ج) أكمل المخططات السهمية التالية بوضع الرقم المناسب : (١ × ٤ = ٤)

(١- الدعم و الضرائب ٢- الاقتصاد الاسلامي ٣- التطور التقني ٤- التخطيط المركزي)



وزارة التربية
التوجيه الفني العام للإجتماعيات

السؤال الثالث : يتكون من (أ - ب) :

(أ) أكمل العبارات بما يناسبها من الكلمات التالية بوضع الرقم المناسب: (٧ = ٧ × ١)

- ١ - التروبوسفير ٢ - بلوتو ٣ - البيئة
٤ - الذوق ٥ - الزلازل ٦ - أشعة حرارية ٧ - الانكسار الزاحف



الظاهرة الجغرافية في الشكل المقابل تمثل (٧) ص ٩٣

- احد عوامل محددات الطلب وهو تفضيل المستهلكين لسلعة ما يسمى (٤) ص ٢٢٦

- كوكبا قزما وسوف يجرى من تصنيفه كوكبا (٢) ص ٦٣

- هزات فجائية سريعة تصيب قشرة الأرض في شكل موجات تسمى (٥) ص ٨٦

- الأشعة الشمسية غير المرئية والتي تتألف من الأشعة تحت الحمراء تسمى (٦) ص ٦٠

- فسر فان ريبير علم الجغرافيا بأنها لا شيء سوى الإنسان وعامل آخر اسمه (٣) ص ٢٩

- الطبقة التي تنشأ فيها السحب والعواصف والتيارات الصاعدة والهابطة والأمطار والتساقط تسمى (١) ص ١٢١

(ب) ضع خطأ تحت الخيار الصحيح من بين الخيارات التي تلى كل عبارة: (٧ = ٧ × ١)

١- كوكب جاف وحرارته عالية جداً ويعرف بتوأم الأرض : ص ٦٠

المشتري	المريخ	عطارد	الزهرة
---------	--------	-------	--------

٢- احد الغازات التي تخرج من البراكين أثناء نشاطها : ص ٩٠

الهيليوم	الهيدروجين	الميثان	الاكسجين
----------	------------	---------	----------

٣- تبلغ نسبة مساحة البحار والمحيطات من المساحة الكلية لسطح الكرة الأرضية : ص ١٠٩

%٩١	%٨١	%٧١	%٦١
-----	-----	-----	-----

٤- الجهاز الذي يقيس الرطوبة : ص ١٣٦

الباروجراف	الأنيمومتر	الترموجراف	السيكرومتر
------------	------------	------------	------------

٥- قطرات مائية او طبقة رقيقة من الماء تتجمع على الاسطح : ص ١٣٧

الندى	السحب	الثلوج	البرد
-------	-------	--------	-------

٦- السلع التي يستخدمها الفرد مباشرة لإشباع حاجاته : ص ٢٠٣

البديلة	الاستهلاكية	المكملة	الإنتاجية
---------	-------------	---------	-----------

٧- الدولة التي تعتبر المشاريع الصغيرة عصب نشاطها الاقتصادي : ص ٢٨٩

الهند	اليابان	ألمانيا	فرنسا
-------	---------	---------	-------

السؤال الرابع: يتكون من (أ - ب) :

(صوب ما تحته خط في العبارات التالية مستعينا فيما بين القوسين بوضع الرقم المناسب: (٧=٧×١)
 (١ - القبلي ٢ - التسامي ٣ - الحقيقي (الجغرافي) ٤ - القمر ٥ - الخدمة ٦ - السكوايا ٧ - الرسوبية)

٣ - ص ٣٩	الاتجاه الذي يشير إلى نقطة القطب الشمالي الجغرافي هو الشمال <u>المغناطيسي</u>
٤ - ص ٧٤	التابع الوحيد للأرض ويدور في مدار حول الأرض هو <u>النجم</u> .
٢ - ص ١٣٦	عملية تحول بخار الماء الموجود في الجو من الحالة الغازية إلى الصلبة مباشرة تسمى <u>التكاثف</u> .
١ - ص ١٣١	رياح محليه تهب من الصحراء الكبرى ويتركز تأثيرها على السواحل الشمالية من ليبيا تسمى رياح <u>السموم</u> .
٦ - ص ١٥٣	أضخم وأقدم شجرة على وجه الأرض عمرها يفوق ٣٥٠٠ سنة هي شجرة <u>التبليدي</u> .
٥ - ص ١٩٩	يطلق على كل شيء معنوي غير ملموس يحصل عليه الفرد وينتفع منه بعد شرائه <u>السلعة</u> .
٧ - ص ٩١	أنسب الصخور استجابة لحركات التثني والطي هي الصخور <u>النارية</u> .

(ب) ظلل المربع (ص) إذا كانت العبارة صحيحة والمربع (خ) إذا كانت العبارة خاطئة : (٧=٧×١)

ص	خ	العبارة
ص	خ	١- تدور الكواكب حول الشمس في مدار مستقيم . ص ٥٩
ص	خ	٢- لا يؤثر هبوب الرياح الدائمة في نشأة التيارات البحرية . ص ١١٥
ص	خ	٣- تعتبر الصحراء الكبرى اكبر صحاري العالم. ص ١٦٧
ص	خ	٤- النفط هو المورد الطبيعي والعصب الأساسي للاقتصاد الكويتي . ص ٢٧١
ص	خ	٥- أحد ظاهرات النحت بفعل الرياح الiardانج. ص ٩٦
ص	خ	٦- الخرائط العامة تتعامل مع موضوع محدد وتهتم بإظهار توزيعه الجغرافي على سطح الأرض. ص ٤١
ص	خ	٧- طبقة السيلال تتكون من صخور بازلتية وتتألف من عنصري السيليكا والماغنيسيوم. ص ٨٣



انتهت الأسئلة

وزارة التربية
التوجيه الفني العام للإجتماعيات